



# おうちで、やろう。

Study at home. 小学校受験の家庭学習教材

言語：しりとり⑦

白い星がある太い四角から黒い星のある太い四角まではじめから3番目の音でしりとりをしてつなげていき線をかきます。縦と横には進めますが、斜めには進めません。



※1. このプリントは、しながわ・目黒こどもスクールのウェブサイトでダウンロードができます。無断複写・引用はご遠慮ください。

※2. このプリントを活用したオンライン授業のスケジュールは、しながわ・目黒こどもスクールのウェブサイトでご確認ください。

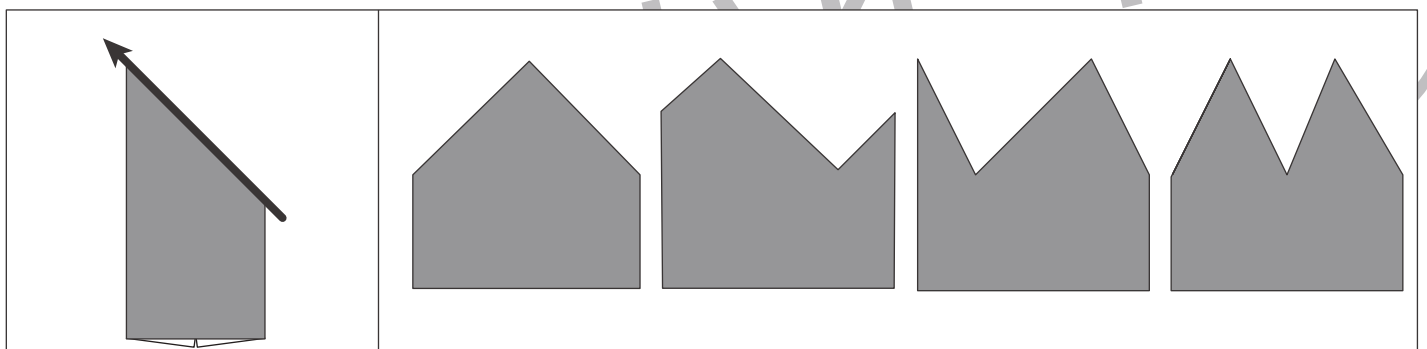
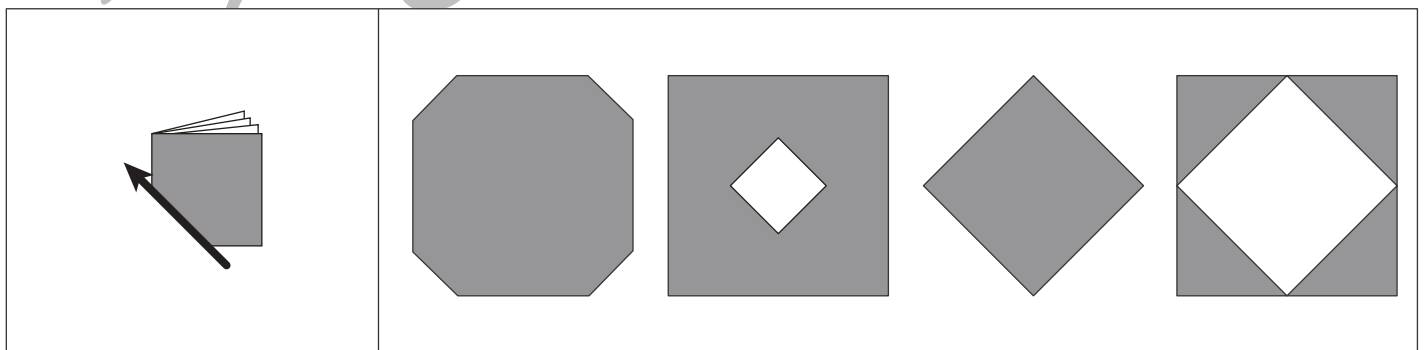
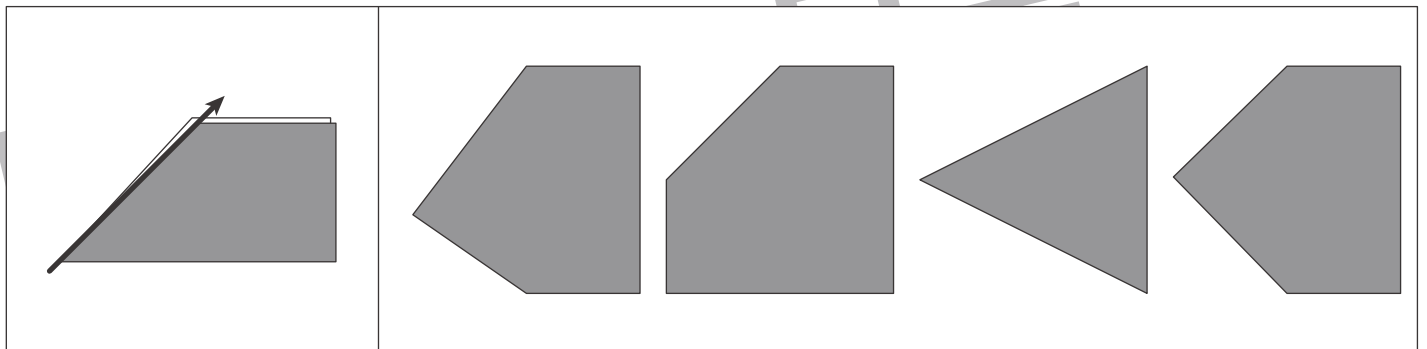
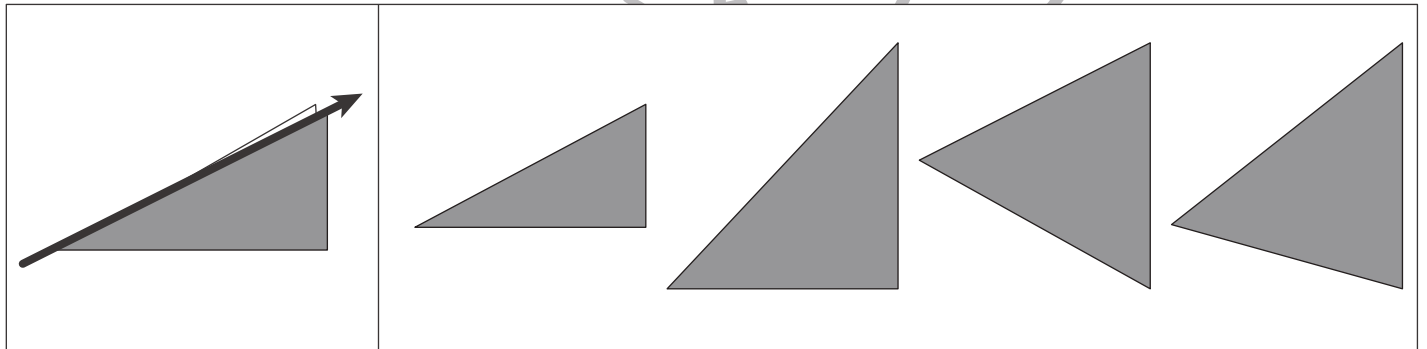



# おうちで、やろう。

Study at home. 小学校受験の家庭学習教材

## 図形：切り抜き⑥

左のお手本のように折り紙を折り、黒い部分を切り抜いて広げたときの見え方を考えて右の4つの中から正しいものを選んで○をつけます。



※1. このプリントは、しながわ・目黒こどもスクールのウェブサイトでダウンロードができます。無断複写・引用はご遠慮ください。  
 ※2. このプリントを活用したオンライン授業のスケジュールは、しながわ・目黒こどもスクールのウェブサイトでご確認ください。

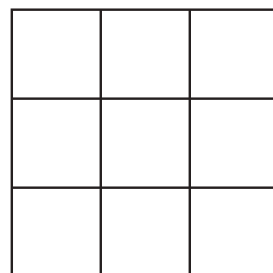

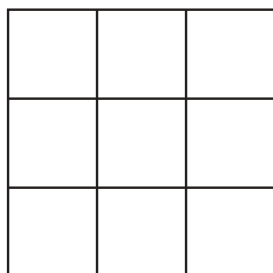
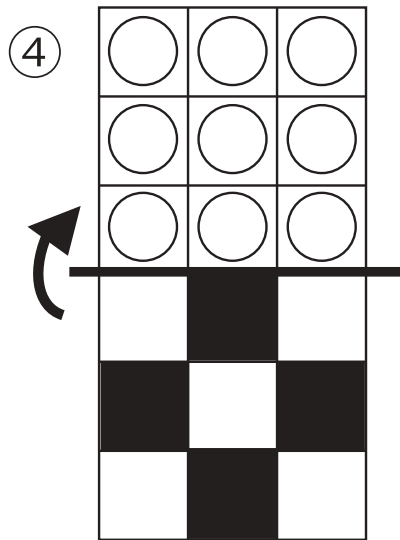
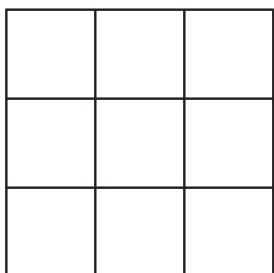
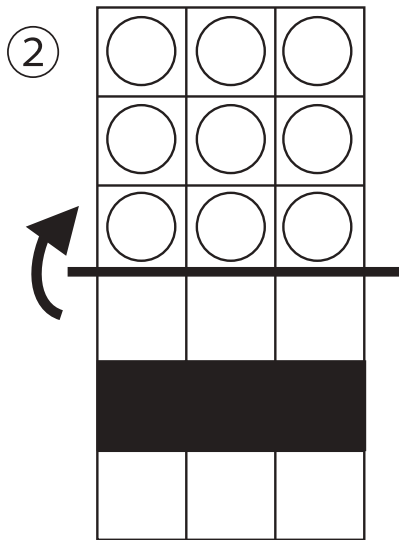
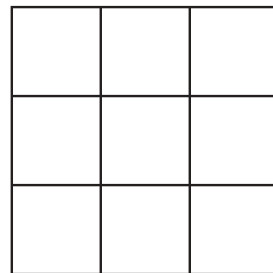

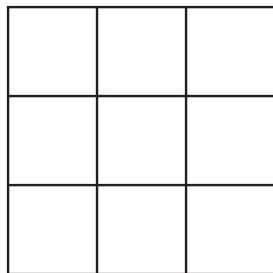
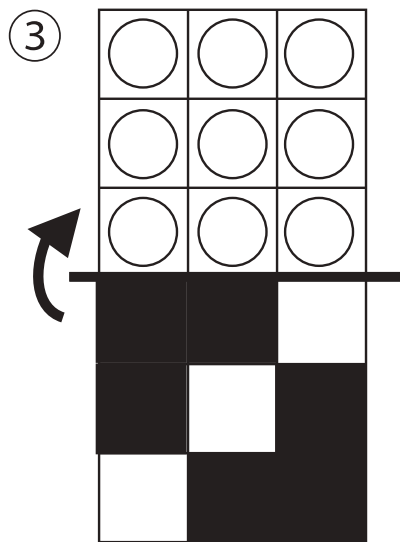
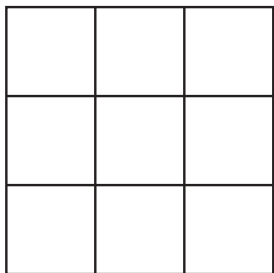
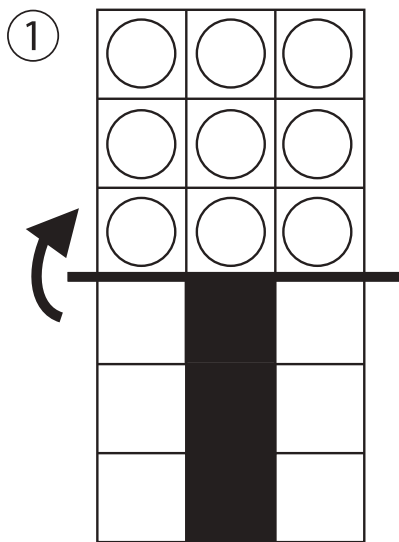


# おうちで、やろう。

Study at home. 小学校受験の家庭学習教材

## 図形：折り重ね⑳

真ん中の太い線で折り重ねたときの見え方を考えます。このとき黒のマスの隠れないで見えている○を見つけて、下の四角に○をかきます。



※1. このプリントは、しながわ・目黒こどもスクールのウェブサイトでダウンロードができます。無断複写・引用はご遠慮ください。

※2. このプリントを活用したオンライン授業のスケジュールは、しながわ・目黒こどもスクールのウェブサイトでご確認ください。



# おうちで、やろう。

Study at home. 小学校受験の家庭学習教材

## 図形：折り重ね②①

真ん中の太い線で折り重ねたときの見え方を考えます。このとき黒のマスの隠れないで見えている○を見つけて、下の四角に○をかきます。

①

○	○	○
○	○	○
○	○	○
—————		

②


③

○	○	○
○	○	○
○	○	○
—————		

④


⑤

○	○	○
○	○	○
○	○	○
—————		

⑥


※1. このプリントは、しながわ・目黒こどもスクールのウェブサイトでダウンロードができます。無断複写・引用はご遠慮ください。  
 ※2. このプリントを活用したオンライン授業のスケジュールは、しながわ・目黒こどもスクールのウェブサイトでご確認ください。









# おうちで、やろう。

Study at home. 小学校受験の家庭学習教材

## 図形：折り重ね②②

真ん中の太い線で折り重ねたときの見え方を考えます。このとき上の四角の○の中で下の四角の○が重ならない○見つけて一番下の四角に○をかきます。



※1. このプリントは、しながわ・目黒こどもスクールのウェブサイトでダウンロードができます。無断複写・引用はご遠慮ください。  
 ※2. このプリントを活用したオンライン授業のスケジュールは、しながわ・目黒こどもスクールのウェブサイトでご確認ください。






# おうちで、やろう。

Study at home. 小学校受験の家庭学習教材

## 図形：折り重ね⑳

真ん中の太い線で折り重ねた時の見え方を考えます。このとき、上の四角の○の中で下の四角の○が重なる○を見つけて一番下の四角に○をかきます。



※1. このプリントは、しながわ・目黒こどもスクールのウェブサイトでダウンロードができます。無断複写・引用はご遠慮ください。

※2. このプリントを活用したオンライン授業のスケジュールは、しながわ・目黒こどもスクールのウェブサイトでご確認ください。





# おうちで、やろう。

Study at home. 小学校受験の家庭学習教材

数量：置き換え⑦

上の太い四角の中がお約束です。下のお約束通りに左端のいちごを食べます。一つも残さず、足りないこともなく食べるのは右のどの動物さんたちですか。正しい組み合わせに○をつけます。



①					
②					
③					
④					
⑤					

※1. このプリントは、しながわ・目黒こどもスクールのウェブサイトでダウンロードができます。無断複写・引用はご遠慮ください。

※2. このプリントを活用したオンライン授業のスケジュールは、しながわ・目黒こどもスクールのウェブサイトでご確認ください。






# おうちで、やろう。

Study at home. 小学校受験の家庭学習教材

数量：置き換え⑧

上の太い四角の中がお約束です。下のお約束通りに左端の果物を食べます。  
一つも残さず、足りないこともなく食べるのは右のどの動物さんたちですか。正しい組み合わせに○をつけましょう。



①

--	--	--	--	--

②

--	--	--	--	--

③

--	--	--	--	--

④

--	--	--	--	--

⑤

--	--	--	--	--

※1. このプリントは、しながわ・目黒こどもスクールのウェブサイトからダウンロードできます。無断複写・引用はご遠慮ください。

※2. このプリントを活用したオンライン授業のスケジュールは、しながわ・目黒こどもスクールのウェブサイトでご確認ください。






# おうちで、やろう。

Study at home. 小学校受験の家庭学習教材






数量：置き換え⑨

上の太い四角の中がお約束です。下のお約束通りに左端の果物を食べます。






一つも残さず、足りないこともなく食べるのは右のどの動物さんたちですか。正しい組み合わせに○をつけましょう。








①

				
---	---	---	---	---






②

				
--	--	--	--	--






③

				
---	---	---	---	---

④

				
---	---	---	---	---

⑤

				
---	---	---	---	---

※1. このプリントは、しながわ・目黒こどもスクールのウェブサイトからダウンロードできます。無断複写・引用はご遠慮ください。

※2. このプリントを活用したオンライン授業のスケジュールは、しながわ・目黒こどもスクールのウェブサイトでご確認ください。

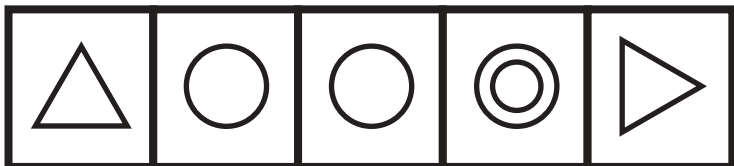


# おうちで、よろう。

Study at home. 小学校受験の家庭学習教材

処理：系列完成②

上の四角の中にマークがお手本です。お手本の順番で一番上の段の左から横に向かってかきます。右端までかけたら次の段の左から右へと順番に進みます。この問題はスピードを意識して取り組みましょう。(制限時間2分～2分30秒)




※1. このプリントは、しながわ・目黒こどもスクールのウェブサイトでダウンロードができます。無断複写・引用はご遠慮ください。

※2. このプリントを活用したオンライン授業のスケジュールは、しながわ・目黒こどもスクールのウェブサイトでご確認ください。