



おうちで、やろう。

Study at home. 小学校受験の家庭学習教材

言語：しりとり⑦

白い星がある太い四角から黒い星のある太い四角まではじめから3番目の音でしりとりをしてつなげていき線をかきます。縦と横には進めますが、斜めには進めません。

★					
					★

	★				
					★

※1. このプリントは、しながわ・目黒こどもスクールのウェブサイトからダウンロードできます。無断複写・引用はご遠慮ください。
※2. このプリントを活用したオンライン授業のスケジュールは、しながわ・目黒こどもスクールのウェブサイトでご確認ください。

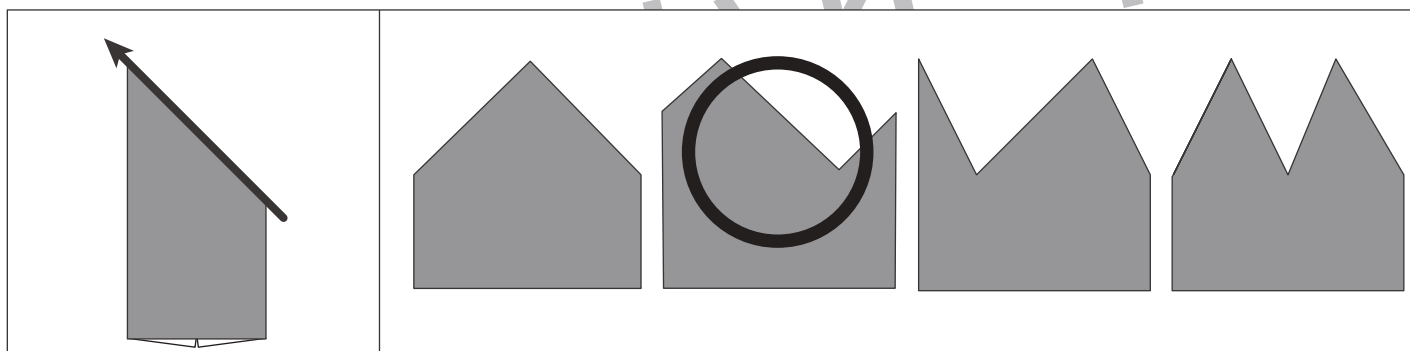
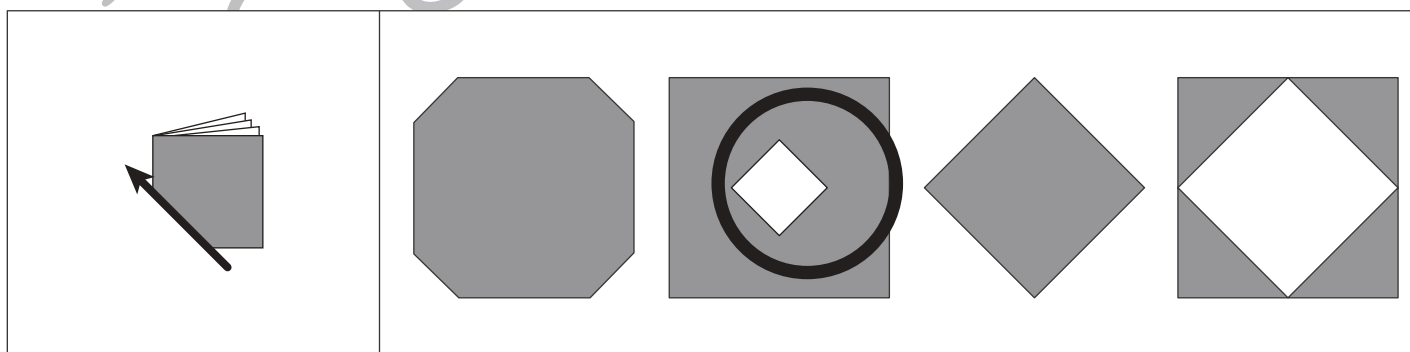
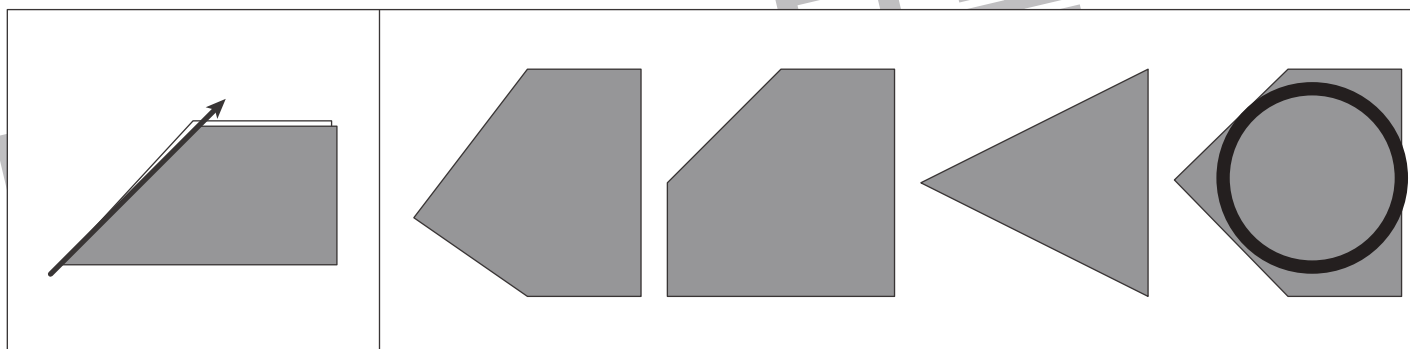
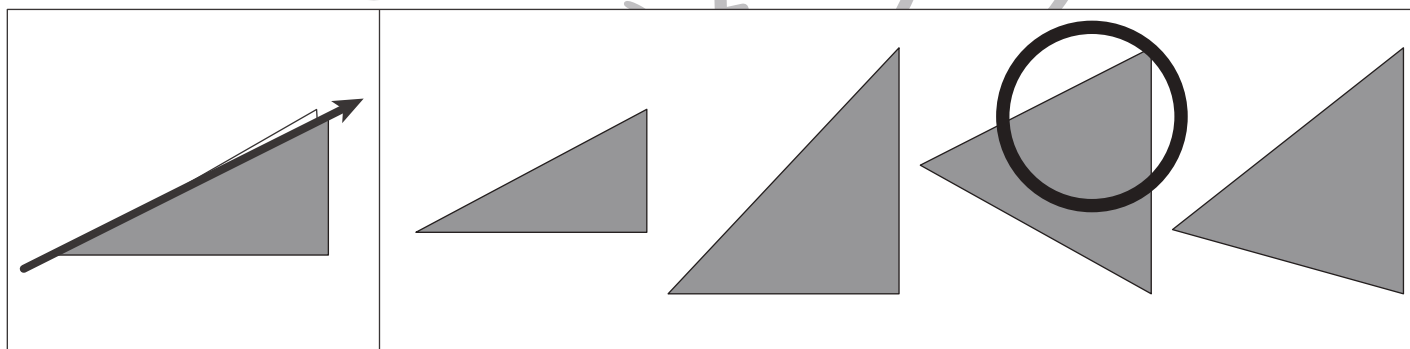
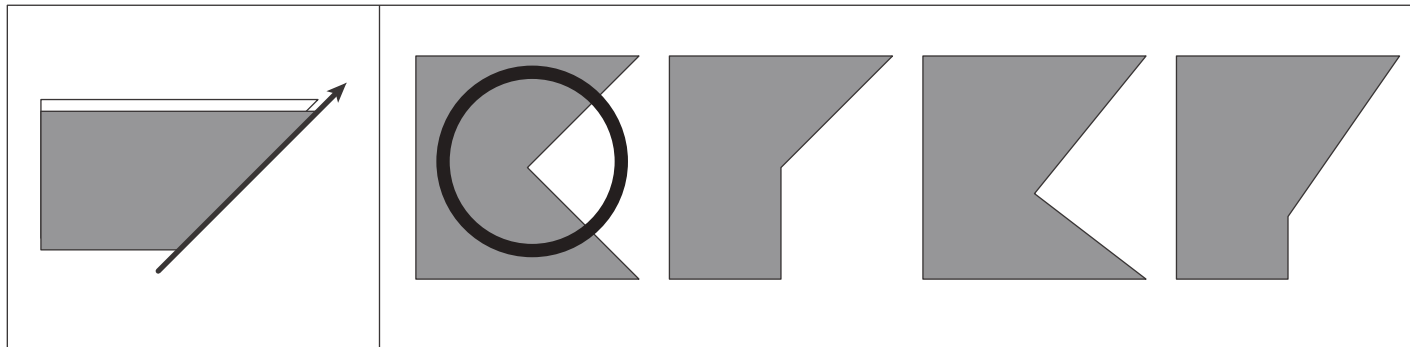


おうちで、やろう。

Study at home. 小学校受験の家庭学習教材

図形：切り抜き⑥

左のお手本のように折り紙を折り、黒い部分を切り抜いて広げたときの見え方を考えて右の4つの中から正しいものを選んで○をつけます。



※1. このプリントは、しながわ・目黒こどもスクールのウェブサイトでダウンロードができます。無断複写・引用はご遠慮ください。

※2. このプリントを活用したオンライン授業のスケジュールは、しながわ・目黒こどもスクールのウェブサイトでご確認ください。

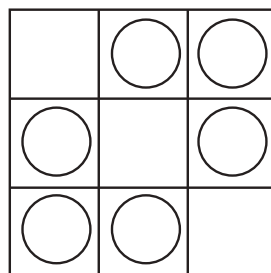

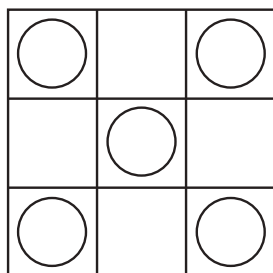
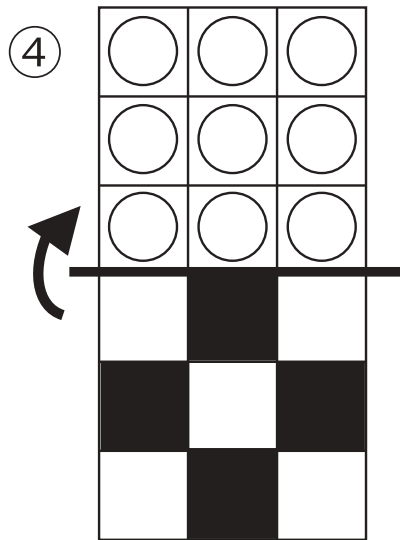
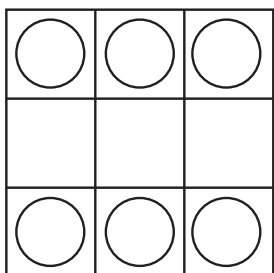
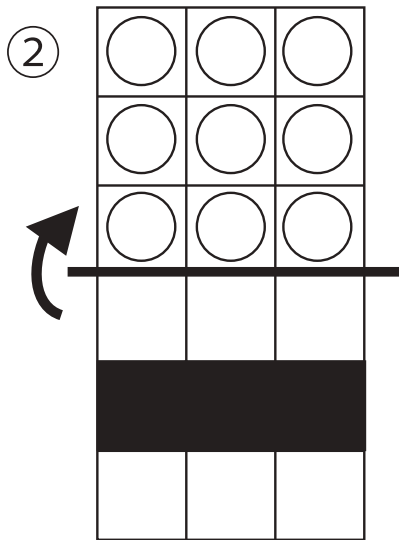
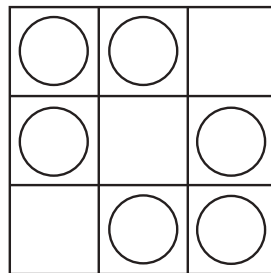

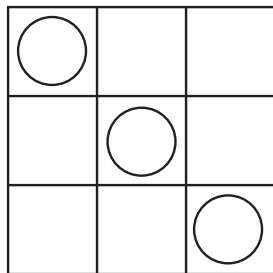
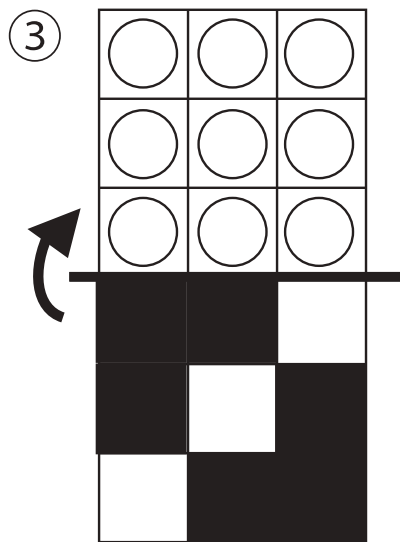
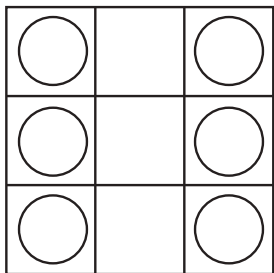
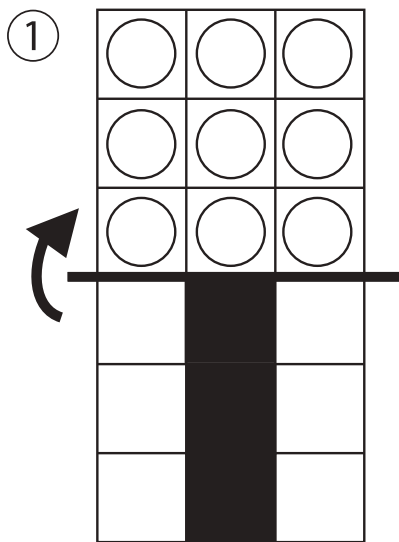


おうちで、やろう。

Study at home. 小学校受験の家庭学習教材

図形：折り重ね⑳

真ん中の太い線で折り重ねたときの見え方を考えます。このとき黒のマスの隠れないで見えている○を見つけて、下の四角に○をかきます。



※1. このプリントは、しながわ・目黒こどもスクールのウェブサイトダウンロードができます。無断複写・引用はご遠慮ください。

※2. このプリントを活用したオンライン授業のスケジュールは、しながわ・目黒こどもスクールのウェブサイトでご確認ください。

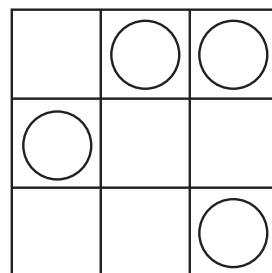
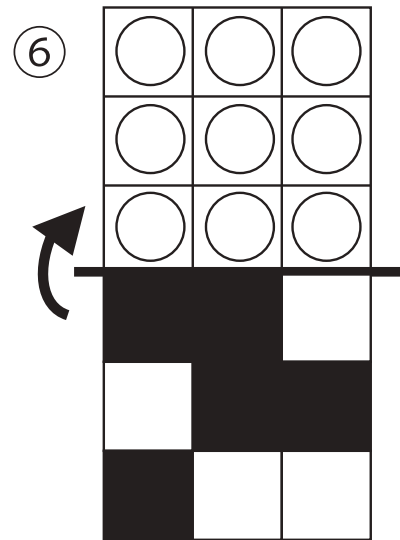
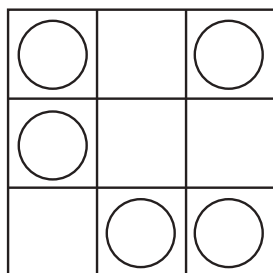

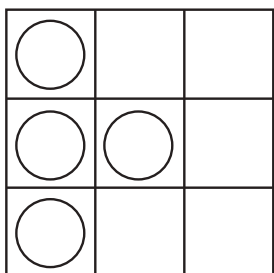

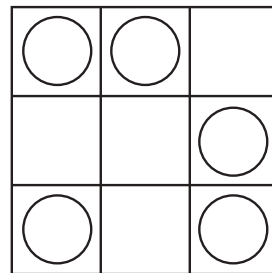
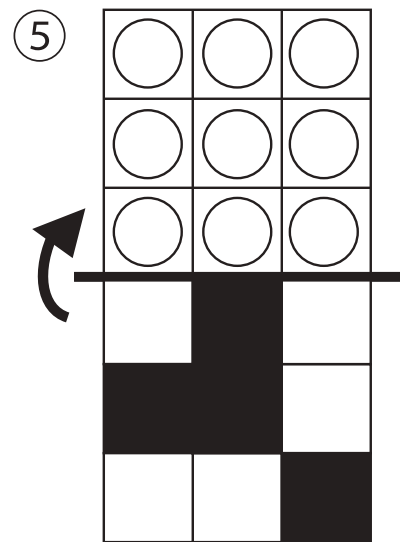
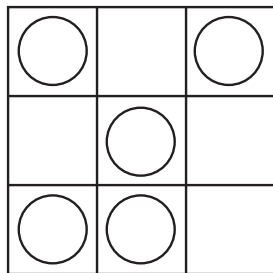

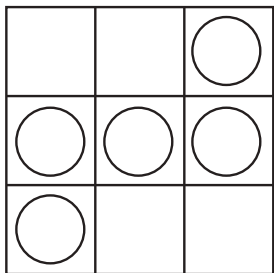
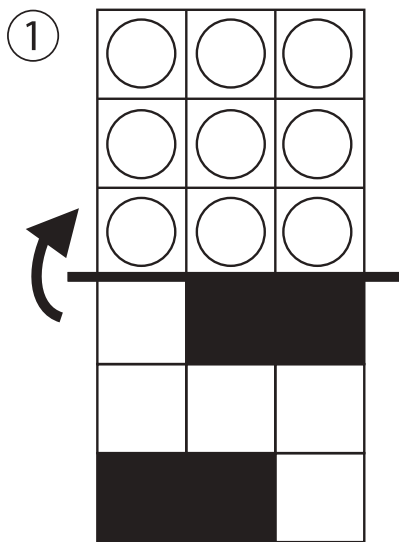


おうちで、やろう。

Study at home. 小学校受験の家庭学習教材

図形：折り重ね②①

真ん中の太い線で折り重ねたときの見え方を考えます。このとき黒のマスの隠れないで見えている○を見つけて、下の四角に○をかきます。



※1. このプリントは、しながわ・目黒こどもスクールのウェブサイトからダウンロードできます。無断複写・引用はご遠慮ください。

※2. このプリントを活用したオンライン授業のスケジュールは、しながわ・目黒こどもスクールのウェブサイトでご確認ください。









おうちで、やろう。

Study at home. 小学校受験の家庭学習教材

図形：折り重ね②②

真ん中の太い線で折り重ねたときの見え方を考えます。このとき上の四角の○の中で下の四角の○が重ならない○見つけて一番下の四角に○をかきます。



※1. このプリントは、しながわ・目黒こどもスクールのウェブサイトでダウンロードができます。無断複写・引用はご遠慮ください。

※2. このプリントを活用したオンライン授業のスケジュールは、しながわ・目黒こどもスクールのウェブサイトでご確認ください。


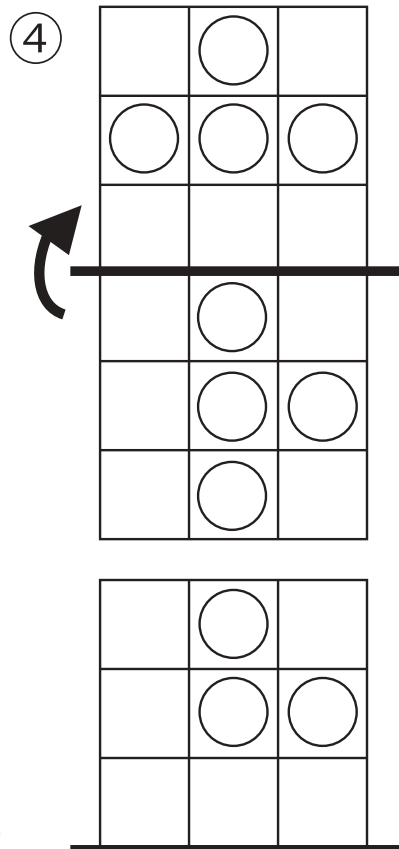






おうちで、やろう。

Study at home. 小学校受験の家庭学習教材

図形：折り重ね⑳

真ん中の太い線で折り重ねた時の見え方を考えます。このとき、上の四角の○の中で下の四角の○が重なる○を見つけて一番下の四角に○をかきます。



※1. このプリントは、しながわ・目黒こどもスクールのウェブサイトダウンロードができます。無断複写・引用はご遠慮ください。

※2. このプリントを活用したオンライン授業のスケジュールは、しながわ・目黒こどもスクールのウェブサイトでご確認ください。





おうちで、やろう。

Study at home. 小学校受験の家庭学習教材

数量：置き換え⑦

上の太い四角の中がお約束です。下のお約束通りに左端のいちごを食べます。

一つも残さず、足りないこともなく食べるのは右のどの動物さんたちですか。正しい組み合わせに○をつけます。



①					
②					
③					
④					
⑤					

※1. このプリントは、しながわ・目黒こどもスクールのウェブサイトでダウンロードができます。無断複写・引用はご遠慮ください。

※2. このプリントを活用したオンライン授業のスケジュールは、しながわ・目黒こどもスクールのウェブサイトでご確認ください。





おうちで、やろう。

Study at home. 小学校受験の家庭学習教材

数量：置き換え⑧

上の太い四角の中がお約束です。下のお約束通りに左端の果物を食べます。
一つも残さず、足りないこともなく食べるのは右のどの動物さんたちですか。正しい組み合わせに○をつけましょう。



①

②

③

④

⑤

※1. このプリントは、しながわ・目黒こどもスクールのウェブサイトからダウンロードできます。無断複写・引用はご遠慮ください。

※2. このプリントを活用したオンライン授業のスケジュールは、しながわ・目黒こどもスクールのウェブサイトでご確認ください。













おうちで、やろう。

Study at home. 小学校受験の家庭学習教材






数量：置き換え⑨

上の太い四角の中がお約束です。下のお約束通りに左端の果物を食べます。






一つも残さず、足りないこともなく食べるのは右のどの動物さんたちですか。正しい組み合わせに○をつけましょう。

 = 	 =  	 = 	 =  
--	---	---	---






①

		 ○		
---	---	---	---	---






②

				 ○
--	--	--	--	--






③

			 ○	
---	---	---	---	---

④

			 ○	
---	---	---	---	---

⑤

	 ○			
---	---	---	---	---

※1. このプリントは、しながわ・目黒こどもスクールのウェブサイトからダウンロードできます。無断複写・引用はご遠慮ください。

※2. このプリントを活用したオンライン授業のスケジュールは、しながわ・目黒こどもスクールのウェブサイトでご確認ください。

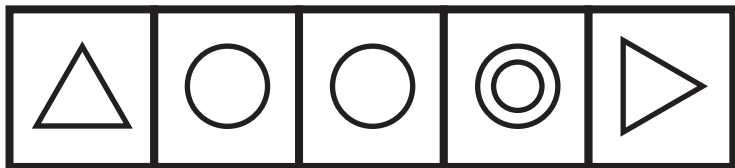


おうちで、よろう。

Study at home. 小学校受験の家庭学習教材

処理：系列完成②

上の四角の中にマークがお手本です。お手本の順番で一番上の段の左から横に向かってかきます。右端までかけたら次の段の左から右へと順番に進みます。この問題はスピードを意識して取り組みましょう。(制限時間2分～2分30秒)



△	○	○	◎	▷	△	○	○	◎	▷
△	○	○	◎	▷	△	○	○	◎	▷
△	○	○	◎	▷	△	○	○	◎	▷
△	○	○	◎	▷	△	○	○	◎	▷
△	○	○	◎	▷	△	○	○	◎	▷
△	○	○	◎	▷	△	○	○	◎	▷
△	○	○	◎	▷	△	○	○	◎	▷
△	○	○	◎	▷	△	○	○	◎	▷
△	○	○	◎	▷	△	○	○	◎	▷
△	○	○	◎	▷	△	○	○	◎	▷

※1. このプリントは、しながわ・目黒こどもスクールのウェブサイトでダウンロードができます。無断複写・引用はご遠慮ください。

※2. このプリントを活用したオンライン授業のスケジュールは、しながわ・目黒こどもスクールのウェブサイトでご確認ください。