



おうちで、やろう。

Study at home. 小学校受験の家庭学習教材

記憶：お話の記憶⑤

※別紙問題プリントは伏せてお話を読みます。手を膝の上に置いて、静かに聞きましょう。

※6月29日(月)のオンライン授業では、実施中にこのお話の録音音声聞いて問題に取り組みます。

朝、目を覚ましたけいくんは二段ベッドの下でシクシク泣いている声が聞こえました。下のベッドで寝ているのは弟のひろくんです。けいくんは慌ててひろくんの様子を見に行き、「ひろくんどうしたの」と聞くとひろくんは「お兄ちゃんどうしよう。おねしょしちゃった。お母さんに叱られちゃうよ。」と泣きながら言いました。けいくんはお母さんに叱られるひろくんのことがかわいそうに思い少し考えて「そうだベッドの上にお水をこぼしたとお母さんに言うのはどうかな。」と言うとひろくんはニコッと笑顔になりました。2人は着替えてから朝ご飯を食べにリビングへ行きました。お母さんに「おはよう。」と挨拶をしました。するとお母さんは「あれ、いつもはもっと大きな声であいさつするのに今日は元気がないわね。どうしたの。」と言うとお兄ちゃんが慌てて「ひろくんが水をこぼしてお布団とパジャマを濡らしてしまったの。」と言いました。するとひろくんが大きな声で泣き出しました。泣いてるひろくんを見てお兄ちゃんも泣き出してしまいました。お母さんは「二人ともどうして泣いてるの」と聞きました。ひろくんが「お母さんごめんなさい。本当は僕がおねしょしちゃったの。」と言いました。続けてけいくんが「ひろくんが叱られると思ってぼくが嘘をついたの。ごめんなさい。」と泣きながら言いました。お母さんはにっこりして「お兄ちゃんひろくんが心配で嘘をついたのね。弟思いのお兄ちゃんとても優しいのね。でもね、嘘はいけないことなのよ。おねしょはたまにになってしまう事もあるのよ。実はお母さんも小さい頃おねしょをした事があるのよ。お気に入りの桃色のお布団だったからとてもショックだったのを覚えているわ。」とクスッと笑いながら言うと二人は驚いて「お母さんもおねしょしたの」とびっくりして笑顔になりました。そしてけいくんとひろくんはお母さんに嘘をつかないことを約束しました。今日の朝ご飯はごはんと焼き魚、納豆、卵焼きと味噌汁です。ひろくんは納豆が嫌いですが今日は残さず全部食べました。ご飯を食べ終わると2人はお布団を干すお手伝いをしました。布団を干し終えてひろくんがふと花壇を見ると、この前花壇に植えたひまわりの芽が出ていました。ひまわりの隣には鉢に植えた朝顔のお花が咲いていました。お手伝いを終えた2人はサッカーボールを持って公園に行き、遊びました。

- ①朝起きて泣いていたのは誰ですか。けいくんだと思ったら○を、ひろくんだと思ったら△を青のクーピーで塗ります。
- ②おねしょをしたことを「ベッドの上にお水をこぼしたことにしよう」と言ったのは誰ですか。けいくんだと思ったら○を、ひろくんだと思ったら△を青のクーピーで塗ります。
- ③お母さんが小さい頃お気に入りだった布団の色で○の中を塗ります。
- ④朝ご飯の時に出てきたものでひろくんの嫌いなものに青のクーピーで○をつけます。
- ⑤けいくんとひろくんの家のお庭にあるお花に青のクーピーで○をつけます。
- ⑤お手伝いを終えてけいくんとひろくんが遊んだものに青のクーピーで○をつけます。
- ⑥このお話の季節の次の季節の絵に青のクーピーで○をつけます。

※1. このプリントは、しながわ・目黒こどもスクールのウェブサイトからダウンロードができます。無断複写・引用はご遠慮ください。

※2. このプリントを活用したオンライン授業のスケジュールは、しながわ・目黒こどもスクールのウェブサイトでご確認ください。



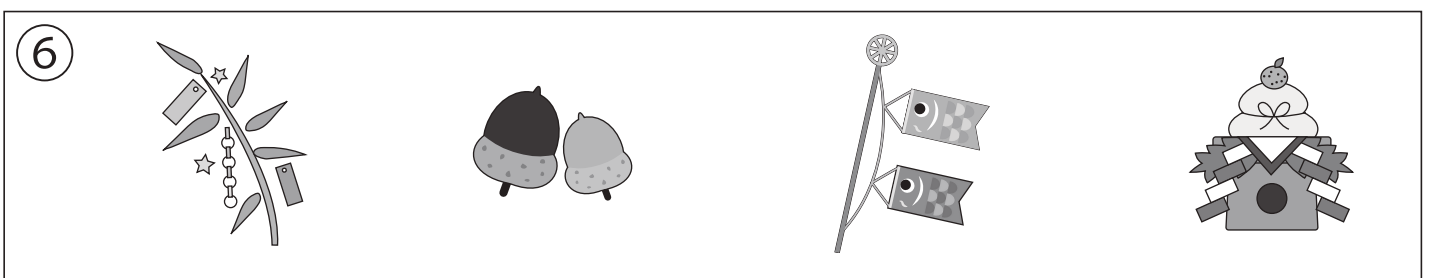

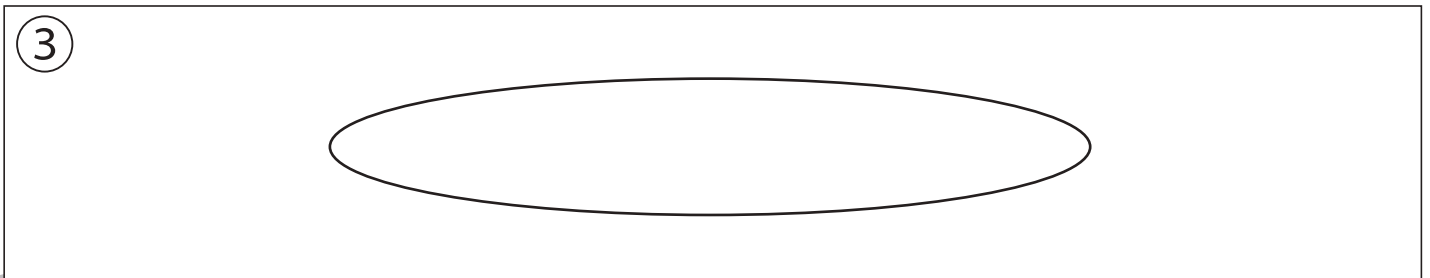

おうちで、やろう。

Study at home. 小学校受験の家庭学習教材

記憶：お話の記憶⑤

別紙【記憶 - お話の記憶⑤(本文)】を使用します。

問題用紙を裏返しにして、お家の方にお話の本文を読んでもらってから、①～⑨までの問題に取り組みましょう。



※1. このプリントは、しながわ・目黒こどもスクールのウェブサイトからダウンロードができます。無断複写・引用はご遠慮ください。

※2. このプリントを活用したオンライン授業のスケジュールは、しながわ・目黒こどもスクールのウェブサイトでご確認ください。




おうちで、やろう。

Study at home. 小学校受験の家庭学習教材

常識：季節⑪

☆から★まで春→夏→秋→冬の順番で進み、進んだ道に線をひきます。縦と横には進めますが、斜めに進むことはできません。



※1. このプリントは、しながわ・目黒こどもスクールのウェブサイトでダウンロードができます。無断複写・引用はご遠慮ください。
 ※2. このプリントを活用したオンライン授業のスケジュールは、しながわ・目黒こどもスクールのウェブサイトでご確認ください。





おうちで、やろう。

Study at home. 小学校受験の家庭学習教材



常識：昔話③

左の絵の昔話に出てくるものを右の中から選んで○をつけます。それぞれの設問に答えましょう。



①あかずきんちゃんに出てくる動物に○をつけます。




②白雪姫が食べた果物に○をつけます。





③おやゆび姫に出てくる鳥に○をつけます。



④ジャックと豆の木で豆の木を切った道具に○をつけます。



⑤シンデレラで王子様がシンデレラを見つけるために使ったものに○をつけます。



※1. このプリントは、しながわ・目黒こどもスクールのウェブサイトからダウンロードできます。無断複写・引用はご遠慮ください。
※2. このプリントを活用したオンライン授業のスケジュールは、しながわ・目黒こどもスクールのウェブサイトでご確認ください。





おうちで、やろう。

Study at home. 小学校受験の家庭学習教材

図形：折り重ね⑳

3枚の四角を太い線のところで矢印の方向に折り重ねたときの見え方を考えて右の四角にかきます。
間違えてしまったときは、一番右の四角にかきなおしましょう。

①

							○
			●				
				●		○	

②

○							○
						●	
	●						

③

○	○	○						
						●	●	●

④

					○		
		○				●	
	○				●		

※1. このプリントは、しながわ・目黒こどもスクールのウェブサイトでダウンロードができます。無断複写・引用はご遠慮ください。
※2. このプリントを活用したオンライン授業のスケジュールは、しながわ・目黒こどもスクールのウェブサイトでご確認ください。



おうちで、やろう。

Study at home. 小学校受験の家庭学習教材

図形：折り重ね⑳

3枚の四角を太い線のところで矢印の方向に折り重ねたときの見え方を考えて右の四角にかきます。
間違えてしまったときは、一番右の四角にかきなおしましょう。

①

○				■		●	
	○						
	○		■			●	

②

	■		○	○	○			●
	■							●
	■		○	○	○			●

③

■					●	○		
■					●	○		
■					●	○		

④

■			○	●				
	●		●		■	○	○	
○				■				

※1. このプリントは、しながわ・目黒こどもスクールのウェブサイトでダウンロードができます。無断複写・引用はご遠慮ください。
※2. このプリントを活用したオンライン授業のスケジュールは、しながわ・目黒こどもスクールのウェブサイトでご確認ください。





おうちで、やろう。

Study at home. 小学校受験の家庭学習教材

推理：シルエット⑦

左上の太い四角の中の絵がお手本です。四角の中にはこのお手本の影がたくさんあります。その中で一つだけ違う影が混ざっています。お手本の影でないものをみつけて○をつけます。



※1. このプリントは、しながわ・目黒こどもスクールのウェブサイトからダウンロードができます。無断複写・引用はご遠慮ください。

※2. このプリントを活用したオンライン授業のスケジュールは、しながわ・目黒こどもスクールのウェブサイトでご確認ください。

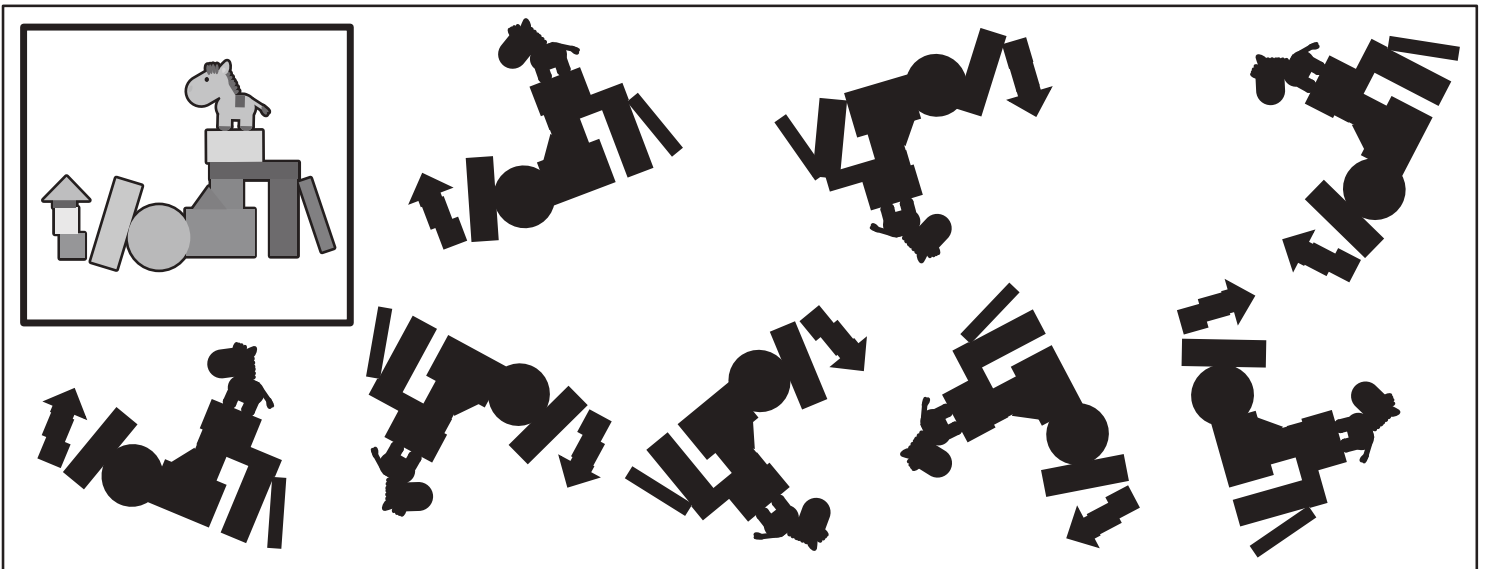



おうちで、やろう。

Study at home. 小学校受験の家庭学習教材

推理：シルエット⑧

左上の太い四角の中の絵がお手本です。四角の中にはこのお手本の影がたくさんあります。その中で一つだけ違う影が混ざっています。お手本の影でないものをみつけて○をつけます。



※1. このプリントは、しながわ・目黒こどもスクールのウェブサイトでダウンロードができます。無断複写・引用はご遠慮ください。
 ※2. このプリントを活用したオンライン授業のスケジュールは、しながわ・目黒こどもスクールのウェブサイトでご確認ください。



おうちで、やろう。

Study at home. 小学校受験の家庭学習教材

数量：数の操作④

リス、ブタの2匹は同じ飴を持っていますが、持っている数が違います。誰かが誰かに飴をあげると2匹とも飴の数が同じになります。同じ数になったとき、1匹の飴の数は何個になりますか。その数だけ下の四角に○をかきます。また、飴を分けたあと飴が余った場合は×を、ぴったり分けられた場合は△を右の太い四角の中にかきます。

※1. このプリントは、しながわ・目黒こどもスクールのウェブサイトでダウンロードができます。無断複写・引用はご遠慮ください。

※2. このプリントを活用したオンライン授業のスケジュールは、しながわ・目黒こどもスクールのウェブサイトでご確認ください。



おうちで、やろう。

Study at home. 小学校受験の家庭学習教材

数量：数の操作⑤

リス、ブタ、ウサギの3匹は同じ飴を持っていますが、持っている数が違います。誰かが誰かに飴をあげると3匹とも飴の数が同じになります。同じ枚数になったとき、1匹の飴の数は何個になりますか。その数だけ下の四角に○をかきます。また、飴を分けたと飴が余った場合はその数だけ×を、ぴったり分けられた場合は△を右の太い四角の中にかきます。

※1. このプリントは、しながわ・目黒こどもスクールのウェブサイトでダウンロードができます。無断複写・引用はご遠慮ください。

※2. このプリントを活用したオンライン授業のスケジュールは、しながわ・目黒こどもスクールのウェブサイトでご確認ください。



おうちで、やろう。

Study at home. 小学校受験の家庭学習教材

数量：数の操作⑥

リス、ブタ、ウサギの3匹は同じクッキーを持っていますが、持っている数が違います。誰かが誰かにクッキーをあげると3匹ともクッキーの枚数が同じになります。同じ枚数になったとき、1匹のクッキーの数は何枚になりますか。その数だけ下の四角に○をかきます。また、クッキーを分けるとき足りないクッキーの枚数だけ△を、ぴったり分けられたときは四角を右の太い四角の中にかきます。

※1. このプリントは、しながわ・目黒こどもスクールのウェブサイトでダウンロードができます。無断複写・引用はご遠慮ください。

※2. このプリントを活用したオンライン授業のスケジュールは、しながわ・目黒こどもスクールのウェブサイトでご確認ください。