



# おうちで、やろう。


Study at home. 小学校受験の家庭学習教材

## 記憶：お話の記憶⑤

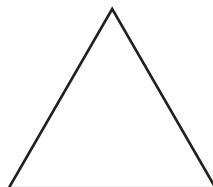
別紙【記憶 - お話の記憶⑤(本文)】を使用します。

問題用紙を裏返しにして、お家の方にお話の本文を読んでもらってから、①～⑨までの問題に取り組みましょう。

①





②



③



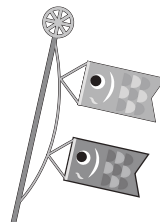

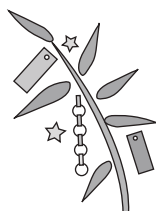
④



⑤



⑥



※1. このプリントは、しながわ・目黒こどもスクールのウェブサイトからダウンロードできます。無断複写・引用はご遠慮ください。

※2. このプリントを活用したオンライン授業のスケジュールは、しながわ・目黒こどもスクールのウェブサイトでご確認ください。






# おうちで、やろう。

Study at home. 小学校受験の家庭学習教材

常識：季節⑪

☆から★まで春→夏→秋→冬の順番で進み、進んだ道に線をひきます。縦と横には進めますが、斜めに進むことはできません。



※1. このプリントは、しながわ・目黒こどもスクールのウェブサイトからダウンロードできます。無断複写・引用はご遠慮ください。

※2. このプリントを活用したオンライン授業のスケジュールは、しながわ・目黒こどもスクールのウェブサイトでご確認ください。





# おうちで、やろう。

Study at home. 小学校受験の家庭学習教材


## 常識：昔話③

左の絵の昔話に出てくるものを右の中から選んで○をつけます。それぞれの設問に答えましょう。



①あかずきんちゃんに出てくる動物に○をつけます。



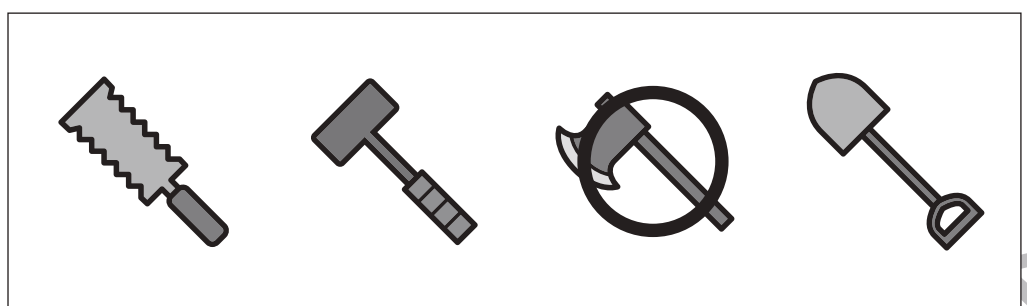
②白雪姫が食べた果物に○をつけます。





③おやゆび姫に出てくる鳥に○をつけます。



④ジャックと豆の木で豆の木を切った道具に○をつけます。



⑤シンデレラで王子様がシンデレラを見つけるために使ったものに○をつけます。



※1. このプリントは、しながわ・目黒こどもスクールのウェブサイトからダウンロードできます。無断複写・引用はご遠慮ください。  
※2. このプリントを活用したオンライン授業のスケジュールは、しながわ・目黒こどもスクールのウェブサイトでご確認ください。





# おうちで、やろう。

Study at home. 小学校受験の家庭学習教材

## 図形：折り重ね⑳

3枚の四角を太い線のところで矢印の方向に折り重ねたときの見え方を考えて右の四角にかきます。  
間違えてしまったときは、一番右の四角にかきなおしましょう。

①

							○
			●				
				●		○	

○		
●		
	●	○


②

○						○	
						●	
	●						

	○	○
		●
	●	


③

○	○	○						
						●	●	●

○	○	○
●	●	●


④

				○			
		○				●	
	○			●			

			○
○			●
	○		●


※1. このプリントは、しながわ・目黒こどもスクールのウェブサイトでダウンロードができます。無断複写・引用はご遠慮ください。  
※2. このプリントを活用したオンライン授業のスケジュールは、しながわ・目黒こどもスクールのウェブサイトでご確認ください。



# おうちで、やろう。

Study at home. 小学校受験の家庭学習教材

## 図形：折り重ね⑳

3枚の四角を太い線のところで矢印の方向に折り重ねたときの見え方を考えて右の四角にかきます。  
間違えてしまったときは、一番右の四角にかきなおしましょう。

①

②

③

④

※1. このプリントは、しながわ・目黒こどもスクールのウェブサイトからダウンロードできます。無断複写・引用はご遠慮ください。  
※2. このプリントを活用したオンライン授業のスケジュールは、しながわ・目黒こどもスクールのウェブサイトでご確認ください。

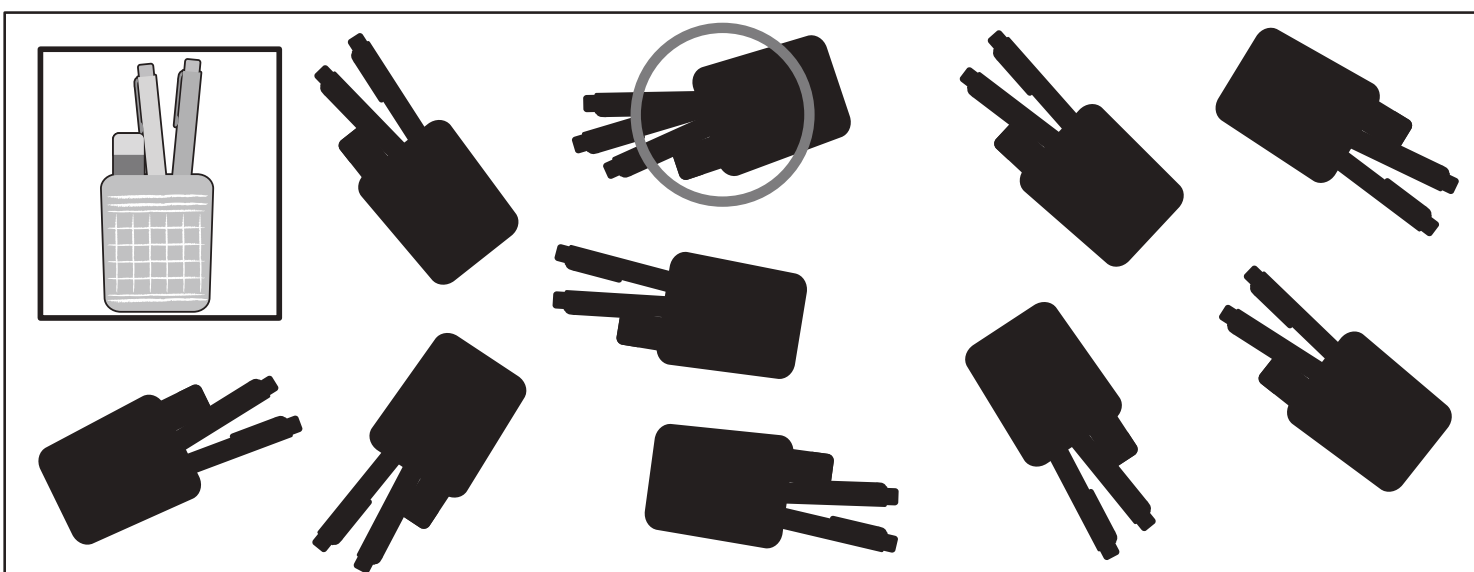


# おうちで、やろう。

Study at home. 小学校受験の家庭学習教材

## 推理：シルエット⑦

左上の太い四角の中の絵がお手本です。四角の中にはこのお手本の影がたくさんあります。その中で一つだけ違う影が混ざっています。お手本の影でないものをみつけて○をつけます。



※1. このプリントは、しながわ・目黒こどもスクールのウェブサイトからダウンロードができます。無断複写・引用はご遠慮ください。

※2. このプリントを活用したオンライン授業のスケジュールは、しながわ・目黒こどもスクールのウェブサイトでご確認ください。

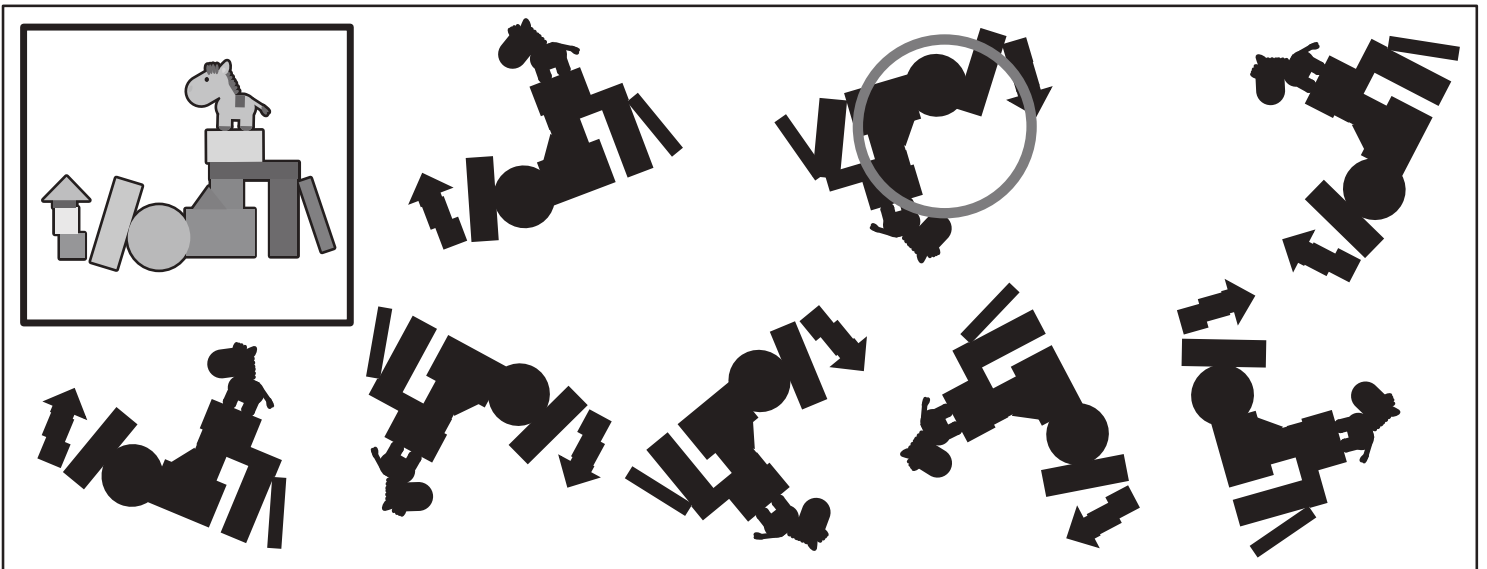



# おうちで、やろう。

Study at home. 小学校受験の家庭学習教材

## 推理：シルエット⑧

左上の太い四角の中の絵がお手本です。四角の中にはこのお手本の影がたくさんあります。その中で一つだけ違う影が混ざっています。お手本の影でないものをみつけて○をつけます。



※1. このプリントは、しながわ・目黒こどもスクールのウェブサイトからダウンロードできます。無断複写・引用はご遠慮ください。  
 ※2. このプリントを活用したオンライン授業のスケジュールは、しながわ・目黒こどもスクールのウェブサイトでご確認ください。



# おうちで、やろう。

Study at home. 小学校受験の家庭学習教材

## 数量：数の操作④

リス、ブタの2匹は同じ飴を持っていますが、持っている数が違います。誰かが誰かに飴をあげると2匹とも飴の数が同じになります。同じ数になったとき、1匹の飴の数は何個になりますか。その数だけ下の四角に○をかきます。また、飴を分けたあと飴が余った場合は×を、ぴったり分けられた場合は△を右の太い四角の中にかきます。

		×
○ × 3		
		×
○ × 5		
		△
○ × 5		
		×
○ × 6		
		△
○ × 7		

※1. このプリントは、しながわ・目黒こどもスクールのウェブサイトでダウンロードができます。無断複写・引用はご遠慮ください。

※2. このプリントを活用したオンライン授業のスケジュールは、しながわ・目黒こどもスクールのウェブサイトでご確認ください。





# おうちで、やろう。

Study at home. 小学校受験の家庭学習教材

## 数量：数の操作⑤

リス、ブタ、ウサギの3匹は同じ飴を持っていますが、持っている数が違います。誰かが誰かに飴をあげると3匹とも飴の数が同じになります。同じ枚数になったとき、1匹の飴の数は何個になりますか。その数だけ下の四角に○をかきます。また、飴を分けたと飴が余った場合はその数だけ×を、ぴったり分けられた場合は△を右の太い四角の中にかきます。

$\bigcirc \times 4$			
$\bigcirc \times 4$			
$\bigcirc \times 4$			
$\bigcirc \times 5$			
$\bigcirc \times 6$			

※1. このプリントは、しながわ・目黒こどもスクールのウェブサイトでダウンロードができます。無断複写・引用はご遠慮ください。

※2. このプリントを活用したオンライン授業のスケジュールは、しながわ・目黒こどもスクールのウェブサイトでご確認ください。



# おうちで、やろう。

Study at home. 小学校受験の家庭学習教材

## 数量：数の操作⑥

リス、ブタ、ウサギの3匹は同じクッキーを持っていますが、持っている数が違います。誰かが誰かにクッキーをあげると3匹ともクッキーの枚数が同じになります。同じ枚数になったとき、1匹のクッキーの数は何枚になりますか。その数だけ下の四角に○をかきます。また、クッキーを分けるとき足りないクッキーの枚数だけ△を、ぴったり分けられたときは四角を右の太い四角の中にかきます。

$\bigcirc \times 3$			
$\bigcirc \times 5$			
$\bigcirc \times 3$			
$\bigcirc \times 6$			
$\bigcirc \times 5$			

※1. このプリントは、しながわ・目黒こどもスクールのウェブサイトでダウンロードができます。無断複写・引用はご遠慮ください。

※2. このプリントを活用したオンライン授業のスケジュールは、しながわ・目黒こどもスクールのウェブサイトでご確認ください。