



# おうちで、やろう。

Study at home. 小学校受験の家庭学習教材

## 図形：折り線①

左の四角は折り紙を折った形です。この折り紙を開いたときの折り線を考えて右の中から選んで○をつけます。


※1. このプリントは、しながわ・目黒こどもスクールのウェブサイトからダウンロードできます。無断複写・引用はご遠慮ください。

※2. このプリントを活用したオンライン授業のスケジュールは、しながわ・目黒こどもスクールのウェブサイトでご確認ください。



# おうちで、やろう。

Study at home. 小学校受験の家庭学習教材

## 図形：折り線②

左の四角は折り紙を折った形です。この折り紙を開いたときの折り線を考えて右の中から選んで○をつけます。


※1. このプリントは、しながわ・目黒こどもスクールのウェブサイトでダウンロードができます。無断複写・引用はご遠慮ください。

※2. このプリントを活用したオンライン授業のスケジュールは、しながわ・目黒こどもスクールのウェブサイトでご確認ください。

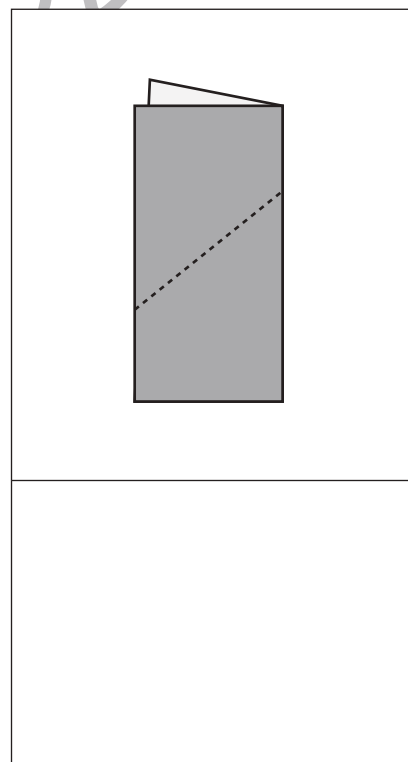
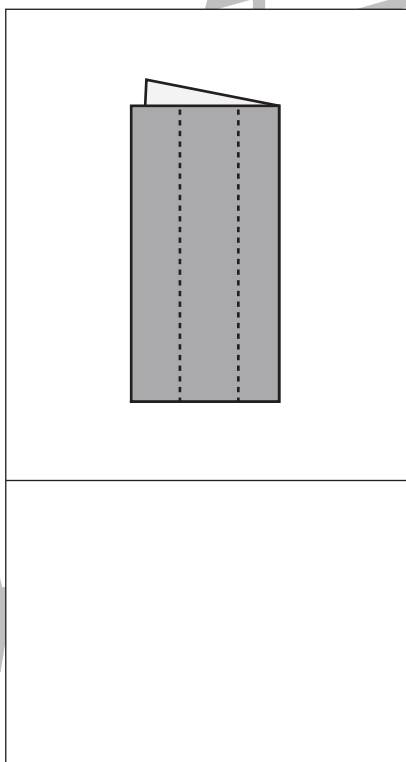
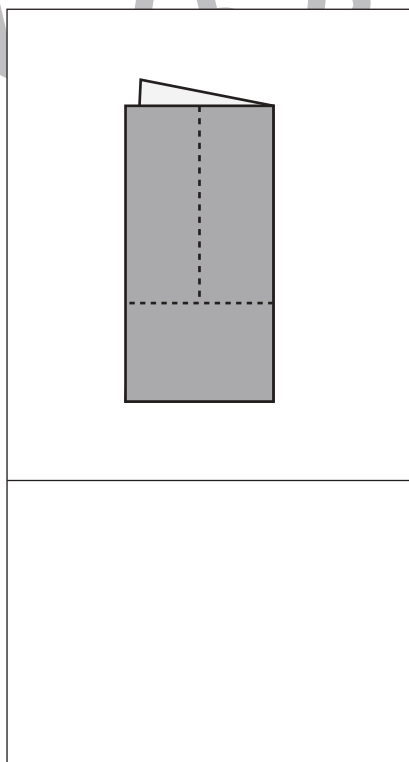
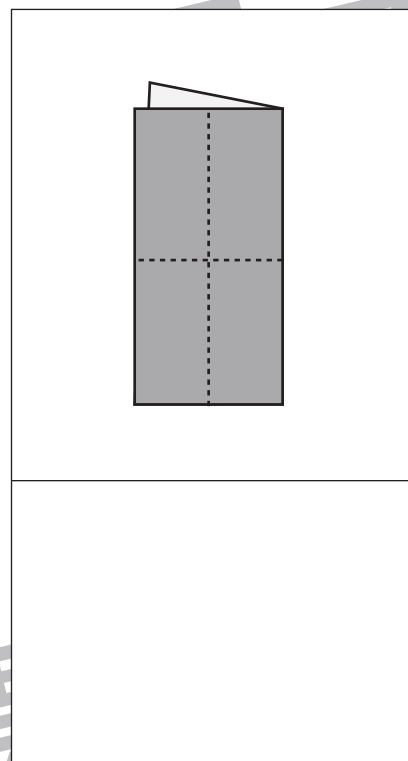
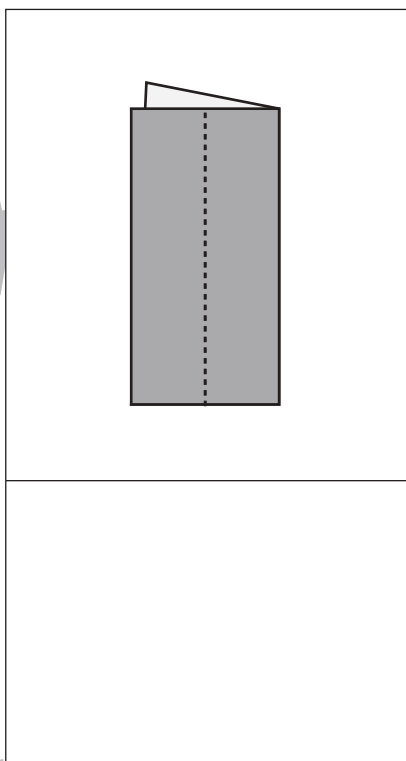
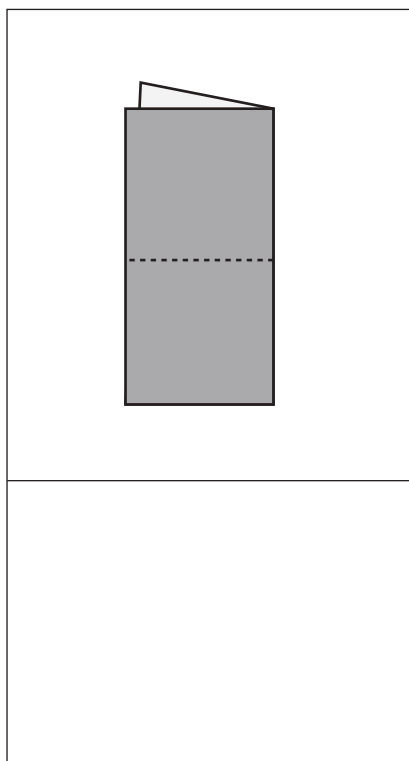


# おうちで、やろう。

Study at home. 小学校受験の家庭学習教材

## 図形：分割①

上の四角の中は折り紙を半分に折ったものです。この点線をはさみで切ったとき、何枚の折り紙になりますか。  
その枚数だけ下の四角の中に○をかきます。



※1. このプリントは、しながわ・目黒こどもスクールのウェブサイトでダウンロードができます。無断複写・引用はご遠慮ください。  
※2. このプリントを活用したオンライン授業のスケジュールは、しながわ・目黒こどもスクールのウェブサイトでご確認ください。

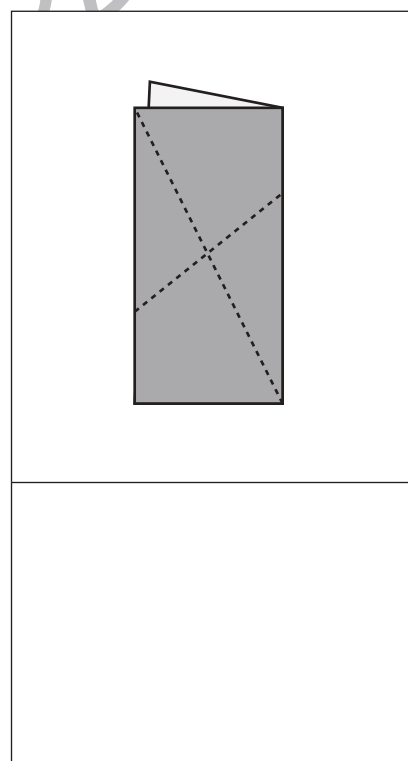
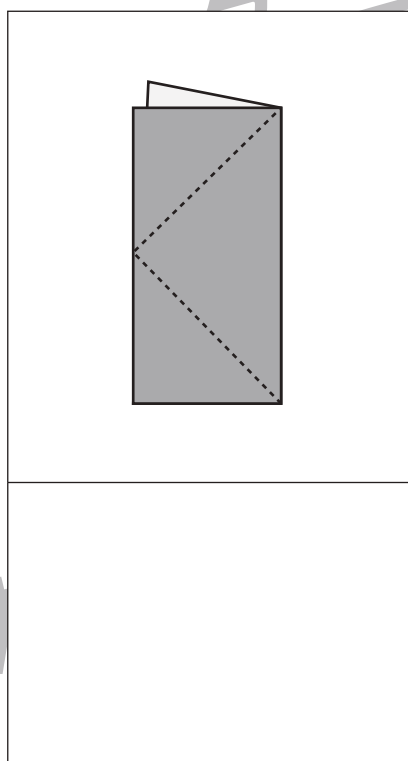
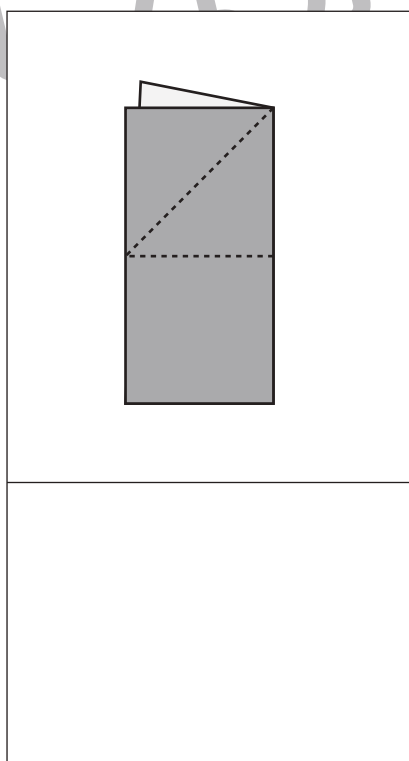
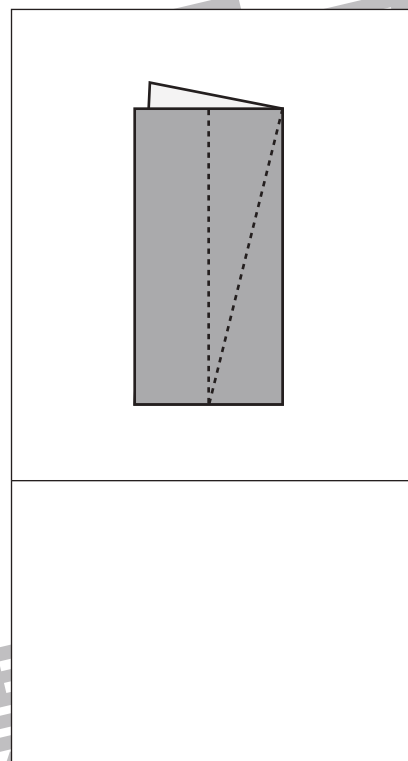
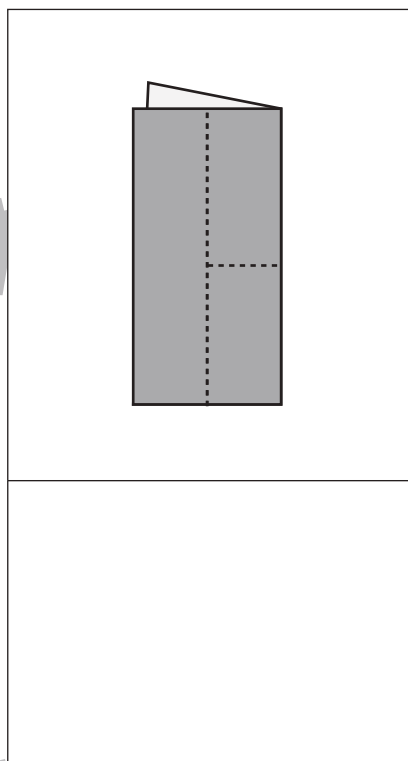
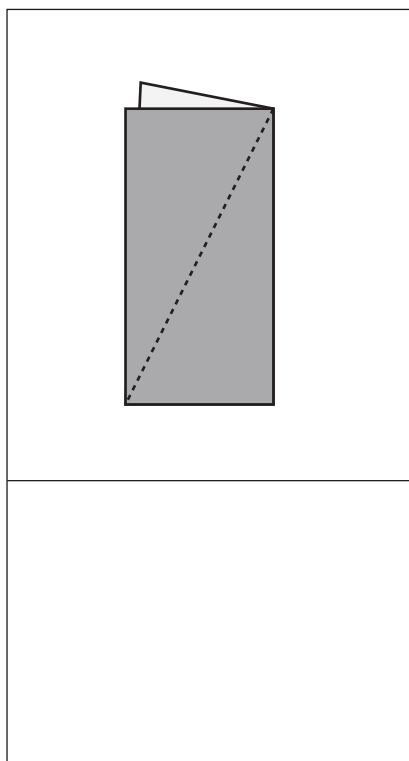


# おうちで、やろう。

Study at home. 小学校受験の家庭学習教材

## 図形：分割②

上の四角の中は折り紙を半分に折ったものです。この点線をはさみで切ったとき、何枚の折り紙になりますか。  
その枚数だけ下の四角の中に○をかきます。



※1. このプリントは、しながわ・目黒こどもスクールのウェブサイトでダウンロードができます。無断複写・引用はご遠慮ください。  
※2. このプリントを活用したオンライン授業のスケジュールは、しながわ・目黒こどもスクールのウェブサイトでご確認ください。








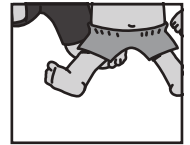



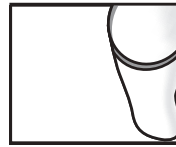



# おうちで、やろう。

Study at home. 小学校受験の家庭学習教材

## 推理：パズル④

記号の付いた部分に当てはまるパズルピースを選んで、その場所に書いてある記号をつきましょう。



※1. このプリントは、しながわ・目黒こどもスクールのウェブサイトからダウンロードできます。無断複写・引用はご遠慮ください。  
 ※2. このプリントを活用したオンライン授業のスケジュールは、しながわ・目黒こどもスクールのウェブサイトでご確認ください。











# おうちで、やろう。

Study at home. 小学校受験の家庭学習教材

## 推理：パズル⑤

記号の付いた部分に当てはまるパズルピースを選んで、その場所に書いてある記号をつきましょう。



※1. このプリントは、しながわ・目黒こどもスクールのウェブサイトでダウンロードができます。無断複写・引用はご遠慮ください。

※2. このプリントを活用したオンライン授業のスケジュールは、しながわ・目黒こどもスクールのウェブサイトでご確認ください。

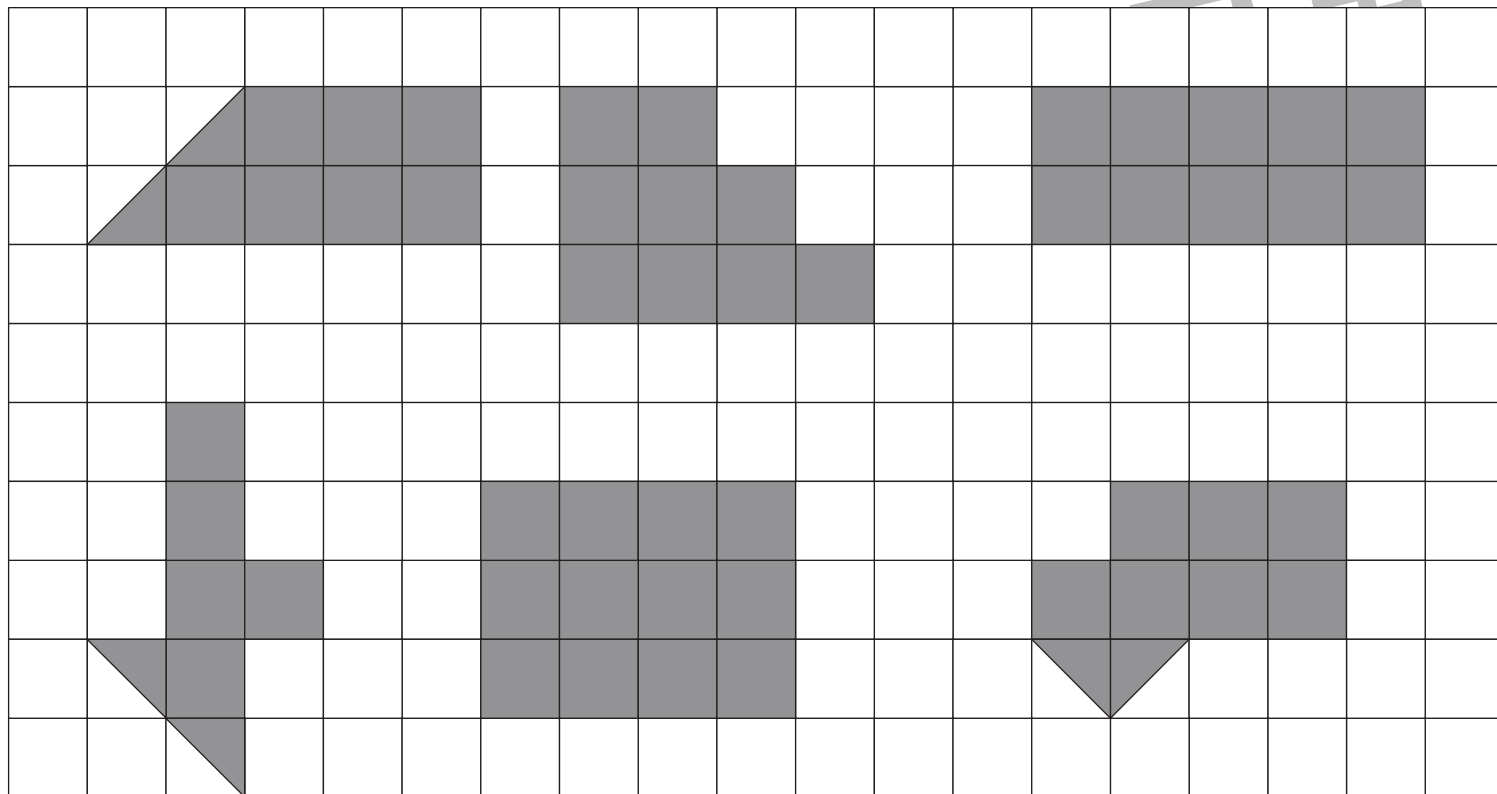


# おうちで、やろう。


Study at home. 小学校受験の家庭学習教材

図形：広さ⑦

同じ広さの形を大きな四角の中からすべて選び○をつけます。



しなかわ  
マクール



※1. このプリントは、しながわ・目黒こどもスクールのウェブサイトからダウンロードができます。無断複写・引用はご遠慮ください。  
※2. このプリントを活用したオンライン授業のスケジュールは、しながわ・目黒こどもスクールのウェブサイトでご確認ください。







# おうちで、やろう。

Study at home. 小学校受験の家庭学習教材

図形：広さ⑧

大きな四角の中で同じ広さの形をすべて見つけて○をつけます。



※1. このプリントは、しながわ・目黒こどもスクールのウェブサイトからダウンロードできます。無断複写・引用はご遠慮ください。  
※2. このプリントを活用したオンライン授業のスケジュールは、しながわ・目黒こどもスクールのウェブサイトでご確認ください。




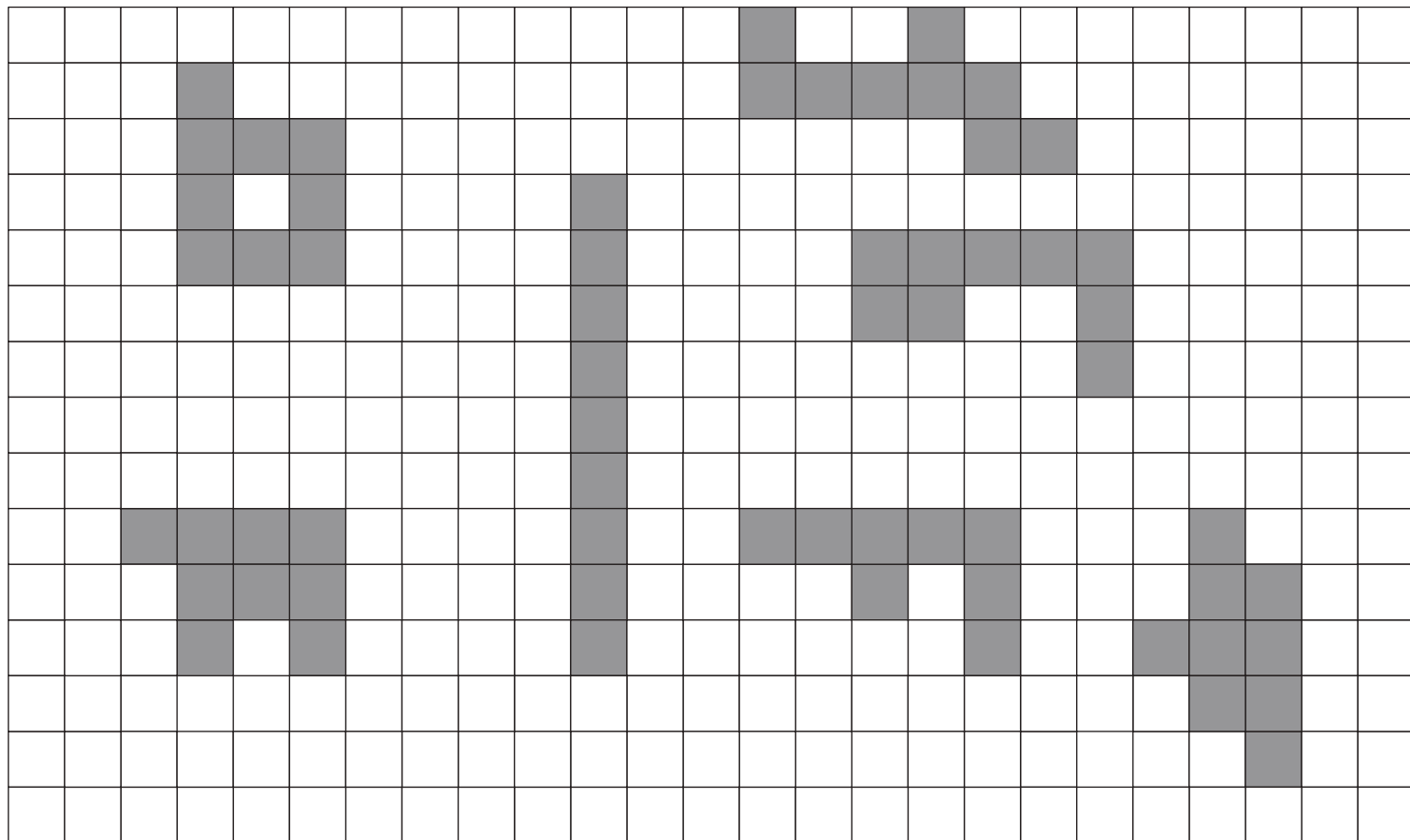


# おうちで、やろう。

Study at home. 小学校受験の家庭学習教材

図形：広さ⑨

大きな四角の中で違う広さの形を1つ見つけて○をつけます。



※1. このプリントは、しながわ・目黒こどもスクールのウェブサイトでダウンロードができます。無断複写・引用はご遠慮ください。  
※2. このプリントを活用したオンライン授業のスケジュールは、しながわ・目黒こどもスクールのウェブサイトでご確認ください。



# おうちで、やろう。

Study at home. 小学校受験の家庭学習教材

処理：同数②

上の太い四角の中の星がお手本の数です。下の四角の中の丸の数がお手本と同じ数のときは○、星より少ないときは×、星より多いときは△をつけます。この問題はスピードを意識して取り組む練習をしてみましょう。(1分30秒～2分)




※1. このプリントは、しながわ・目黒こどもスクールのウェブサイトでダウンロードができます。無断複写・引用はご遠慮ください。

※2. このプリントを活用したオンライン授業のスケジュールは、しながわ・目黒こどもスクールのウェブサイトでご確認ください。