



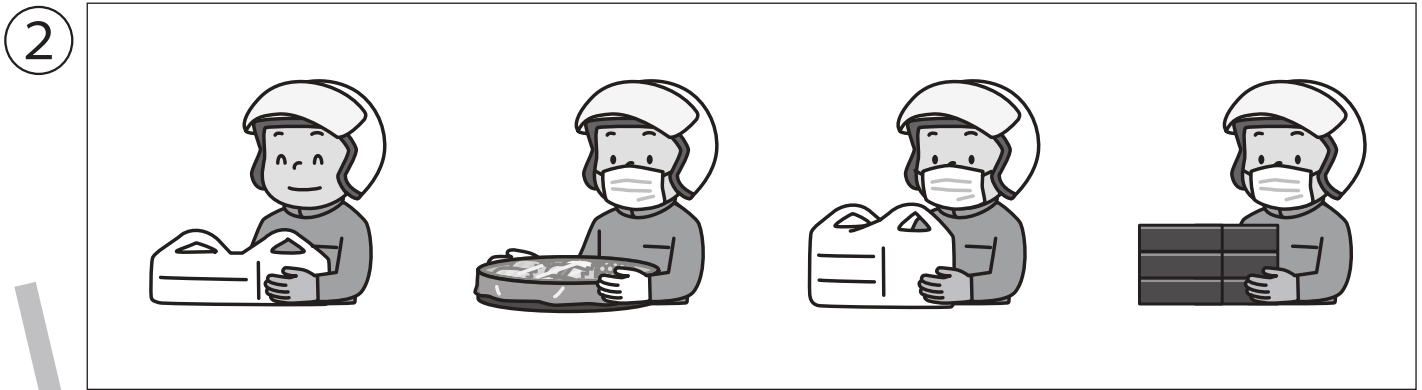



# おうちで、やろう。

Study at home. 小学校受験の家庭学習教材

## 指示の聞き取り⑨

- ①左から2番目の〇の中を鉛筆で濃く塗ります。右から2番目の〇の中を鉛筆で薄く塗ります。真ん中の〇を左の〇より薄く、右の〇より濃く塗ります。
- ②ピンポン、マスクをした配達員の人がやって来ました。注文したお寿司は3人前。雨が降っていたので白いビニール袋に入れて持って来てくれました。正しいと思う配達員の人を選んで〇をつけます。
- ③避難訓練のようです。この中で「おかしも」の「お・押さない」が守れていない子に〇をつけます。
- ④ルールが守れていない子に〇をつけます。(解答後)なぜ、それがいけない事でしょうか。理由を説明しましょう。



※1. このプリントは、しながわ・目黒こどもスクールのウェブサイトでダウンロードができます。無断複写・引用はご遠慮ください。  
 ※2. このプリントを活用したオンライン授業のスケジュールは、しながわ・目黒こどもスクールのウェブサイトでご確認ください。













# おうちで、やろう。



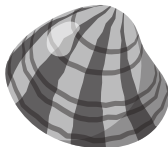

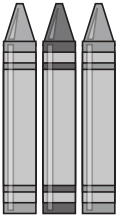
Study at home. 小学校受験の家庭学習教材


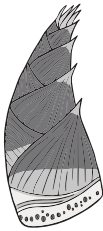



## 言語：音の理解⑳

左の四角の中の絵の名前ははじめの音と終わりの音が両方とも同じものを右の四角の中から見つけて○をつけます。

				
---	---	---	---	---

				
---	---	---	---	---

				
---	---	---	---	---

				
---	---	---	---	---

				
---	---	---	---	---

※1. このプリントは、しながわ・目黒こどもスクールのウェブサイトからダウンロードできます。無断複写・引用はご遠慮ください。

※2. このプリントを活用したオンライン授業のスケジュールは、しながわ・目黒こどもスクールのウェブサイトでご確認ください。

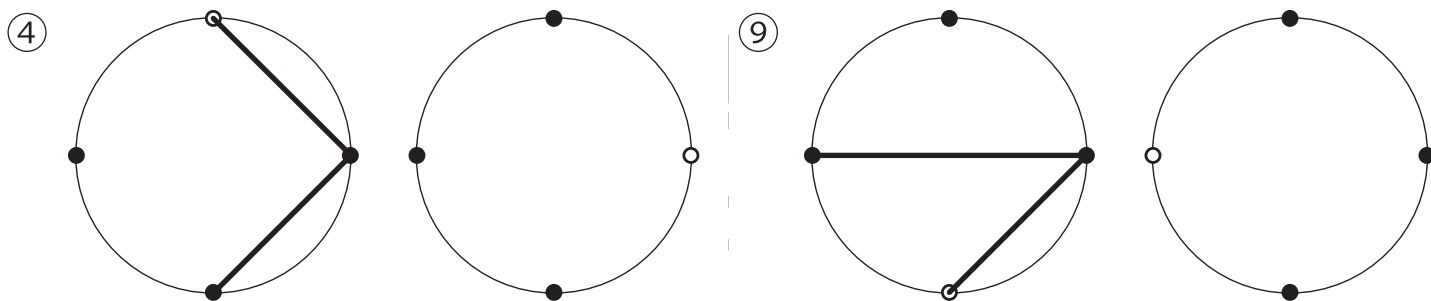
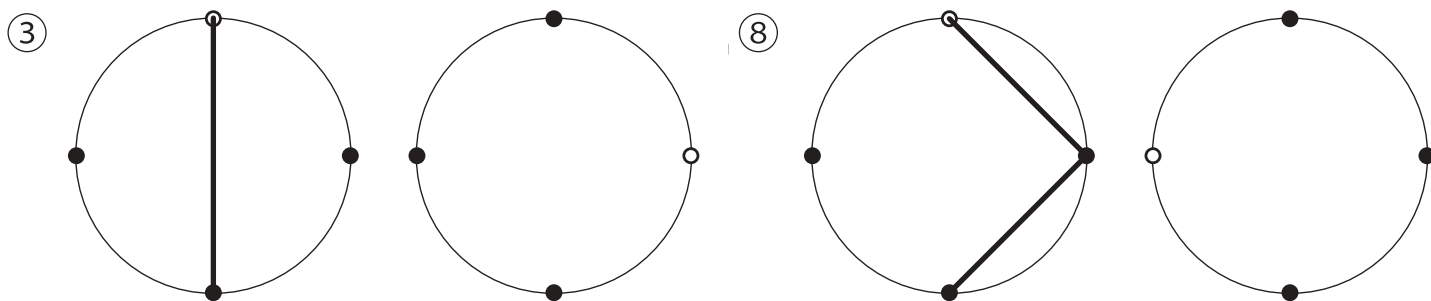
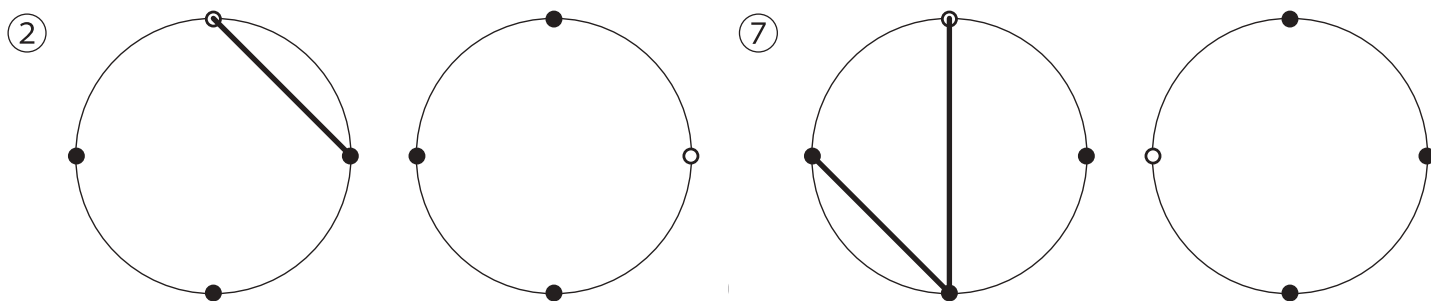
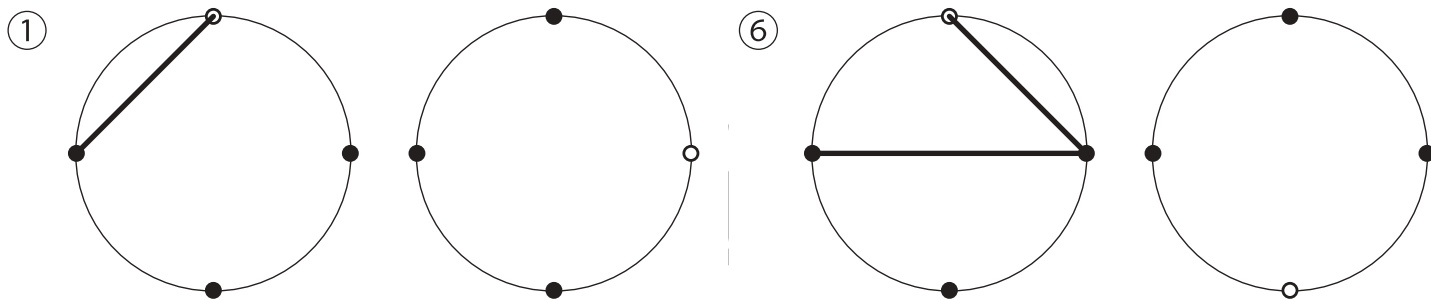


# おうちで、やろう。

Study at home. 小学校受験の家庭学習教材

図形：回転③①

左のお手本を右のように回したときの見え方を考えて点と点を結びます。



※1. このプリントは、しながわ・目黒こどもスクールのウェブサイトでダウンロードができます。無断複写・引用はご遠慮ください。  
 ※2. このプリントを活用したオンライン授業のスケジュールは、しながわ・目黒こどもスクールのウェブサイトでご確認ください。

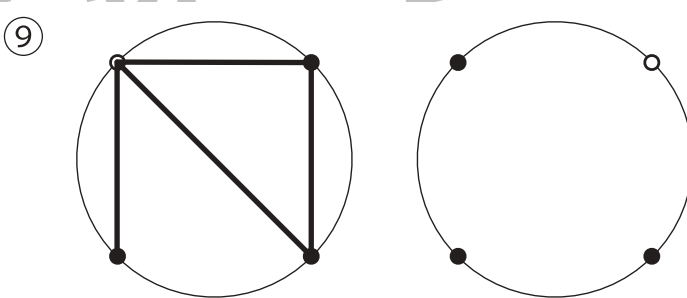
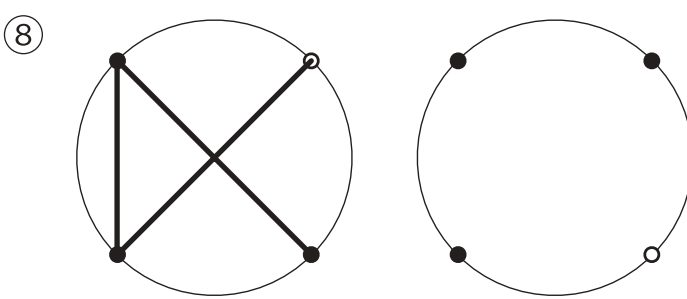
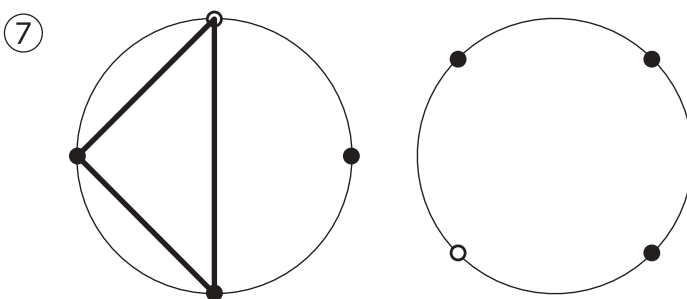
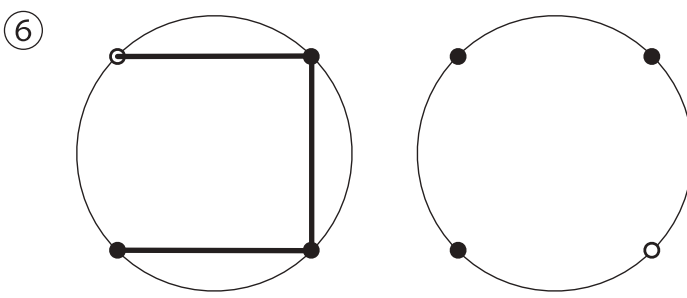
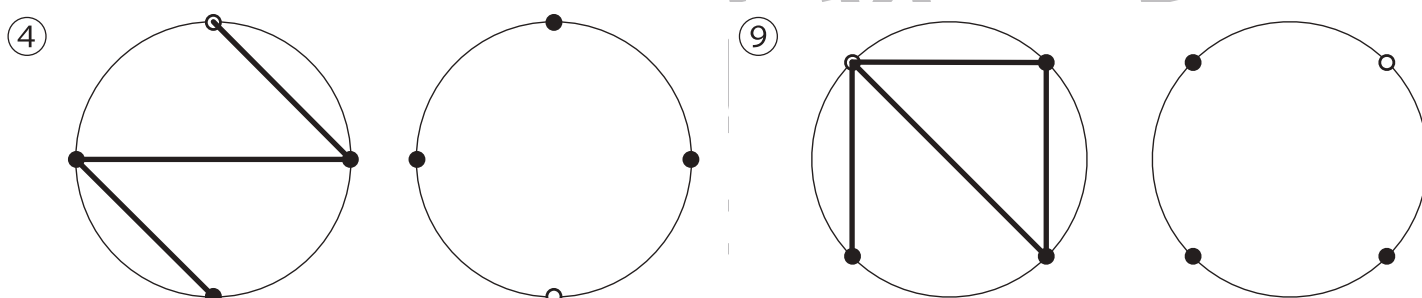
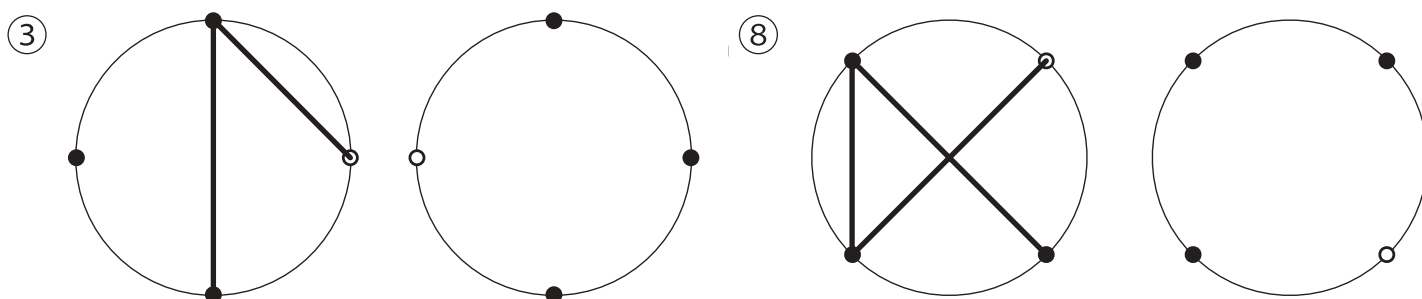
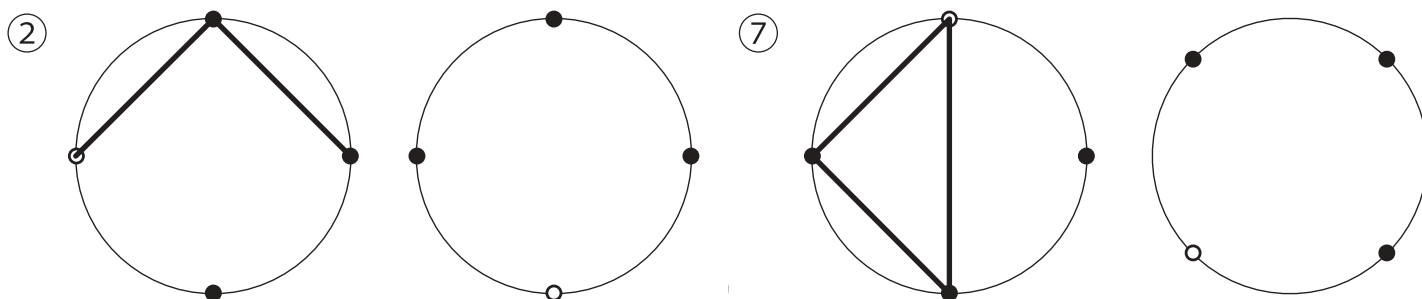
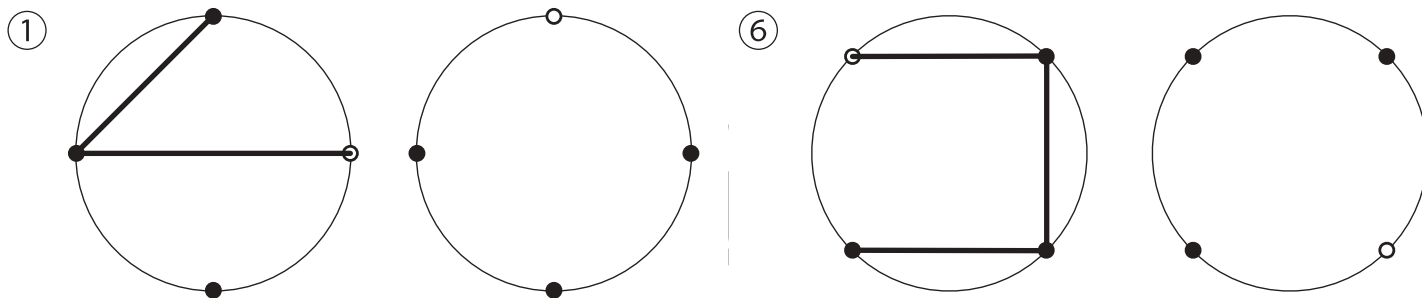


# おうちで、やろう。

Study at home. 小学校受験の家庭学習教材

図形：回転③②

左のお手本を右のように回したときの見え方を考えて点と点を結びます。



※1. このプリントは、しながわ・目黒こどもスクールのウェブサイトでダウンロードができます。無断複写・引用はご遠慮ください。  
 ※2. このプリントを活用したオンライン授業のスケジュールは、しながわ・目黒こどもスクールのウェブサイトでご確認ください。

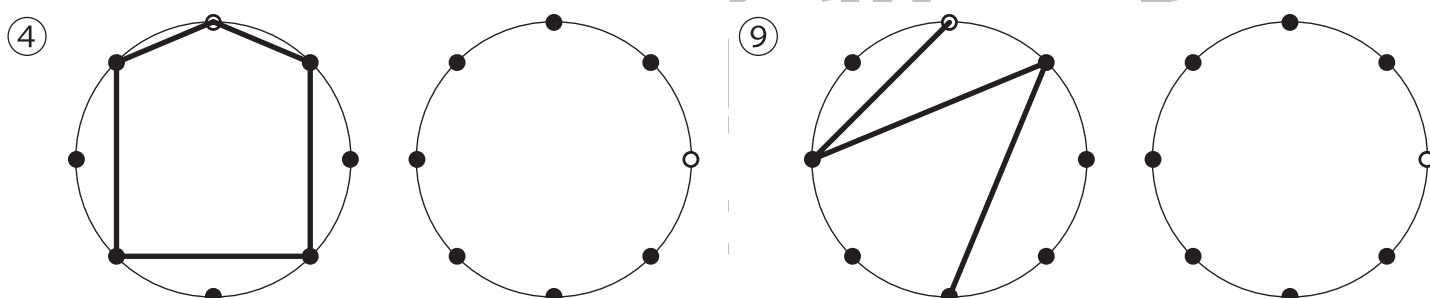
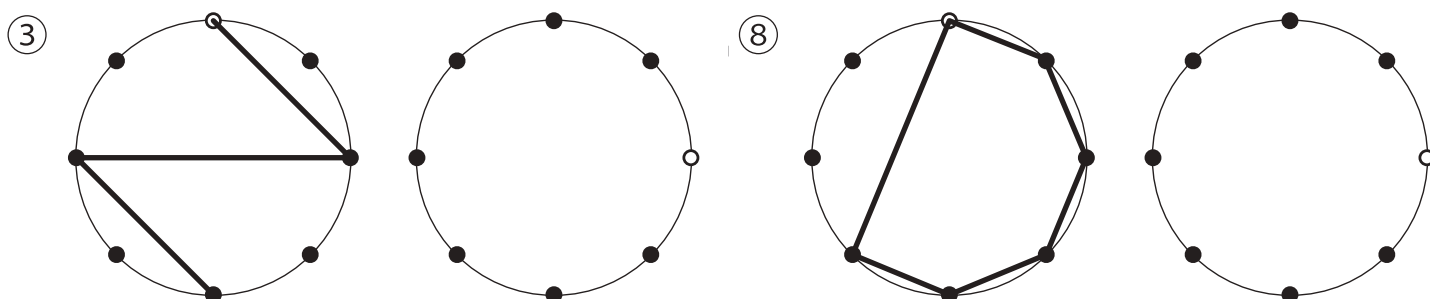
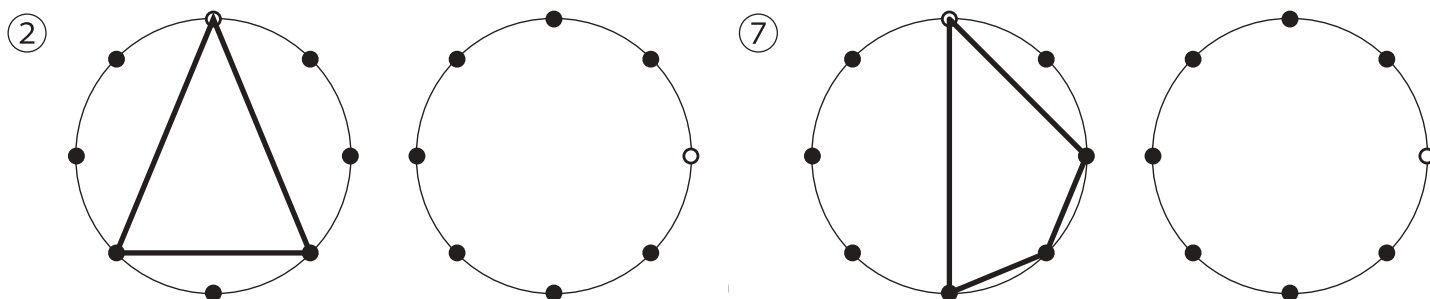
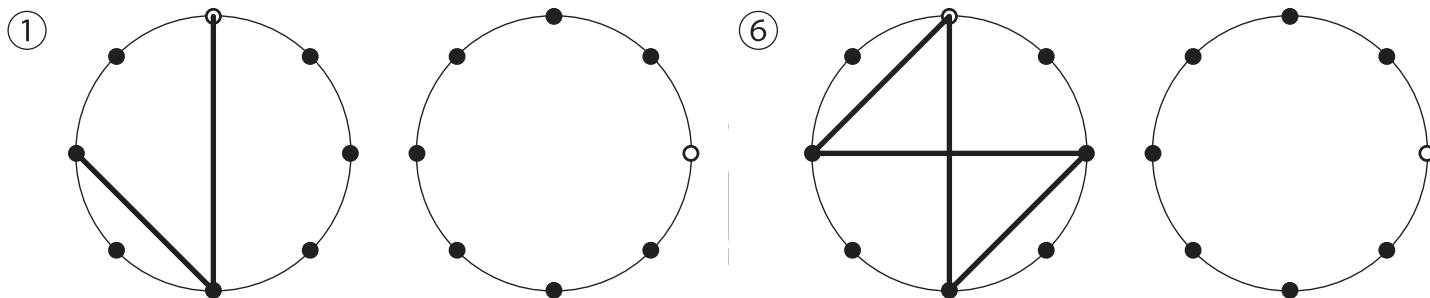


# おうちで、やろう。

Study at home. 小学校受験の家庭学習教材

図形：回転③③

左のお手本を右のように回したときの見え方を考えて点と点を結びます。



※1. このプリントは、しながわ・目黒こどもスクールのウェブサイトでダウンロードができます。無断複写・引用はご遠慮ください。  
 ※2. このプリントを活用したオンライン授業のスケジュールは、しながわ・目黒こどもスクールのウェブサイトでご確認ください。

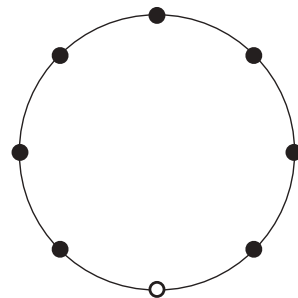
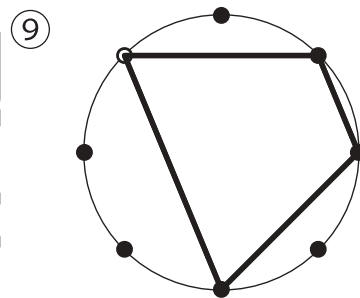
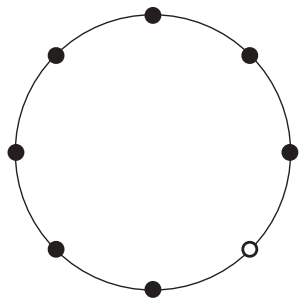
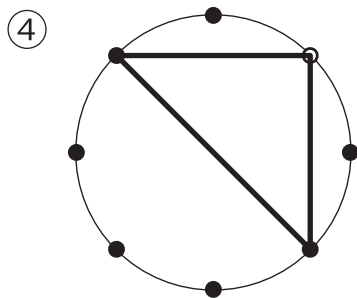
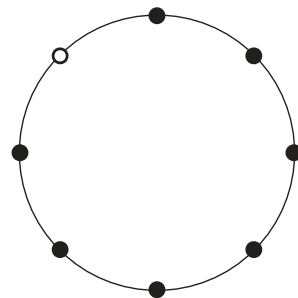
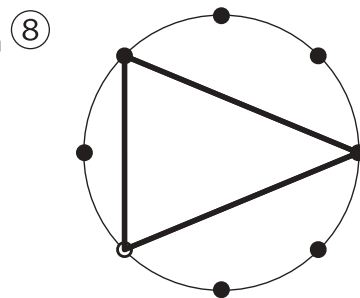
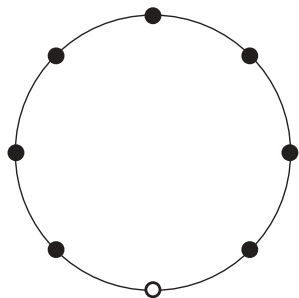
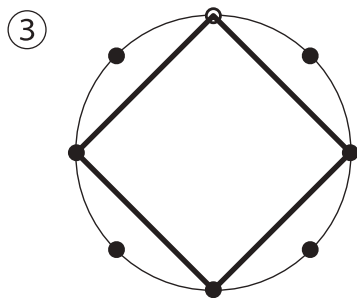
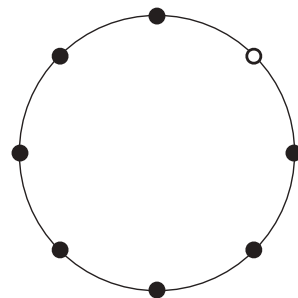
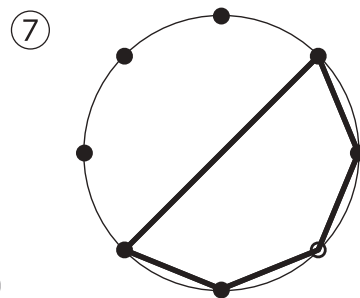
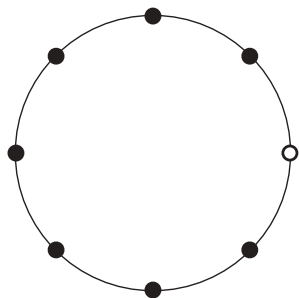
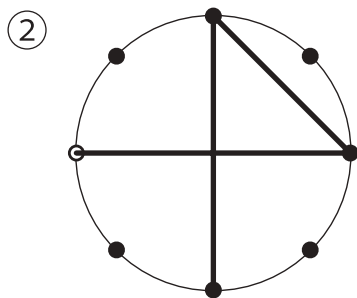
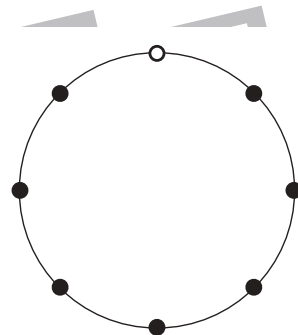
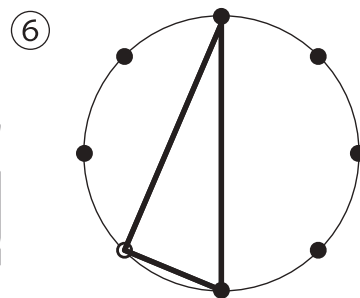
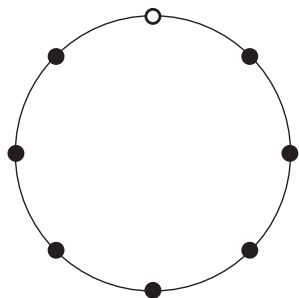
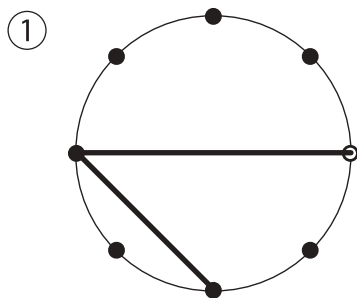


# おうちで、やろう。

Study at home. 小学校受験の家庭学習教材

図形：回転③④

左のお手本を右のように回したときの見え方を考えて点と点を結びます。



※1. このプリントは、しながわ・目黒こどもスクールのウェブサイトでダウンロードができます。無断複写・引用はご遠慮ください。  
 ※2. このプリントを活用したオンライン授業のスケジュールは、しながわ・目黒こどもスクールのウェブサイトでご確認ください。








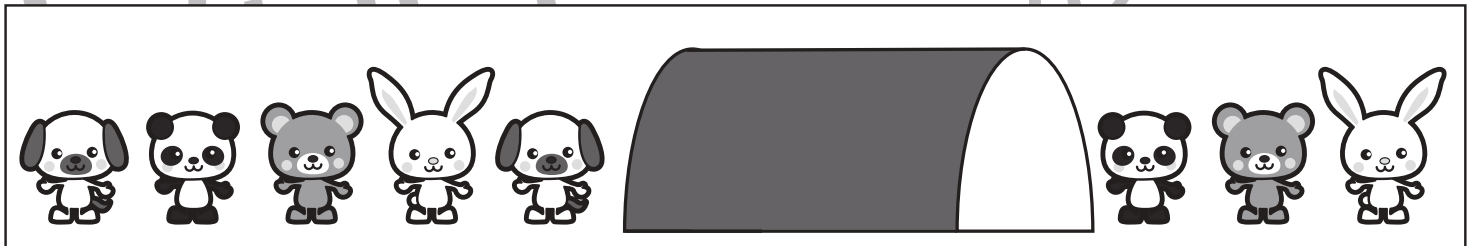









# おうちで、やろう。

Study at home. 小学校受験の家庭学習教材

## 推理：系列完成⑨

動物たちがある順番通りに並んでいます。トンネルの中の並び順を考えて正しいものを下の四角の中から選んで○をつけます。



※1. このプリントは、しながわ・目黒こどもスクールのウェブサイトでダウンロードができます。無断複写・引用はご遠慮ください。  
※2. このプリントを活用したオンライン授業のスケジュールは、しながわ・目黒こどもスクールのウェブサイトでご確認ください。





# おうちで、やろう。

Study at home. 小学校受験の家庭学習教材

## 推理：系列完成⑩

野菜がある順番通りに並んでいます。かご中の並び順を考えて下の四角の中から選んで○をつけます。


※1. このプリントは、しながわ・目黒こどもスクールのウェブサイトでダウンロードができます。無断複写・引用はご遠慮ください。

※2. このプリントを活用したオンライン授業のスケジュールは、しながわ・目黒こどもスクールのウェブサイトでご確認ください。





# おうちで、やろう。

Study at home. 小学校受験の家庭学習教材

## 推理：系列完成⑪

野菜がある順番通りに並んでいます。かご中の並び順を考えて正しいものを下の四角の中から選んで○をつけます。


※1. このプリントは、しながわ・目黒こどもスクールのウェブサイトでダウンロードができます。無断複写・引用はご遠慮ください。

※2. このプリントを活用したオンライン授業のスケジュールは、しながわ・目黒こどもスクールのウェブサイトでご確認ください。





# おうちで、やろう。

Study at home. 小学校受験の家庭学習教材

## 推理：たからさがし②1

あなたは宝島にやってきました。宝箱と宝箱の鍵をたくさん見つけにいけます。下の地図の中からお手本にある「宝箱」「カブトムシ」「クワガタ」、どこかに1つだけある「石板」を見つけて○をつけましょう。「もう空いている宝箱」と「他の虫」はハズレですから何も印はつけません。宝探しの時間はたったの1分です。それまでに、できるだけ多くの「宝箱」「カブトムシ」「クワガタ」「石板」を見つけてみましょう。



※1. このプリントは、しながわ・目黒こどもスクールのウェブサイトからダウンロードができます。無断複写・引用はご遠慮ください。

※2. このプリントを活用したオンライン授業のスケジュールは、しながわ・目黒こどもスクールのウェブサイトでご確認ください。

