




おうちで、やろう。


Study at home. 小学校受験の家庭学習教材

言語：音の数⑧


それぞれの四角の中の絵の名前の音の数だけ下の○を塗ります。
また、音の数が4つのものに○をつけます。




○ ○ ○ ○
○ ○ ○ ○




○ ○ ○ ○
○ ○ ○ ○




○ ○ ○ ○
○ ○ ○ ○




○ ○ ○ ○
○ ○ ○ ○




○ ○ ○ ○
○ ○ ○ ○




○ ○ ○ ○
○ ○ ○ ○




○ ○ ○ ○
○ ○ ○ ○




○ ○ ○ ○
○ ○ ○ ○




○ ○ ○ ○
○ ○ ○ ○



○ ○ ○ ○
○ ○ ○ ○



○ ○ ○ ○
○ ○ ○ ○



○ ○ ○ ○
○ ○ ○ ○

※1. このプリントは、しながわ・目黒こどもスクールのウェブサイトでダウンロードができます。無断複写・引用はご遠慮ください。

※2. このプリントを活用したオンライン授業のスケジュールは、しながわ・目黒こどもスクールのウェブサイトでご確認ください。






おうちで、やろう。


Study at home. 小学校受験の家庭学習教材

言語：音の数⑨


それぞれの四角の中の絵の名前の音の数だけ下の○を塗ります。
また、音の数が3つのものに○をつけます。




○	○	○	○
○	○	○	○




○	○	○	○
○	○	○	○




○	○	○	○
○	○	○	○




○	○	○	○
○	○	○	○




○	○	○	○
○	○	○	○




○	○	○	○
○	○	○	○




○	○	○	○
○	○	○	○



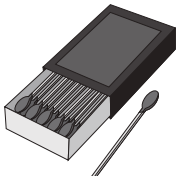
○	○	○	○
○	○	○	○




○	○	○	○
○	○	○	○



○	○	○	○
○	○	○	○



○	○	○	○
○	○	○	○



○	○	○	○
○	○	○	○

※1. このプリントは、しながわ・目黒こどもスクールのウェブサイトでダウンロードができます。無断複写・引用はご遠慮ください。

※2. このプリントを活用したオンライン授業のスケジュールは、しながわ・目黒こどもスクールのウェブサイトでご確認ください。

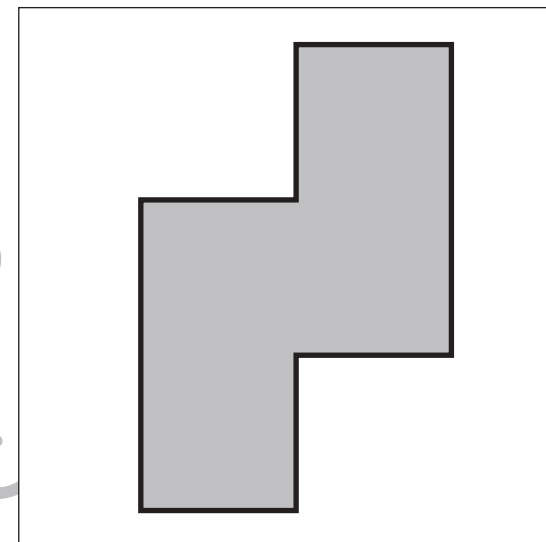
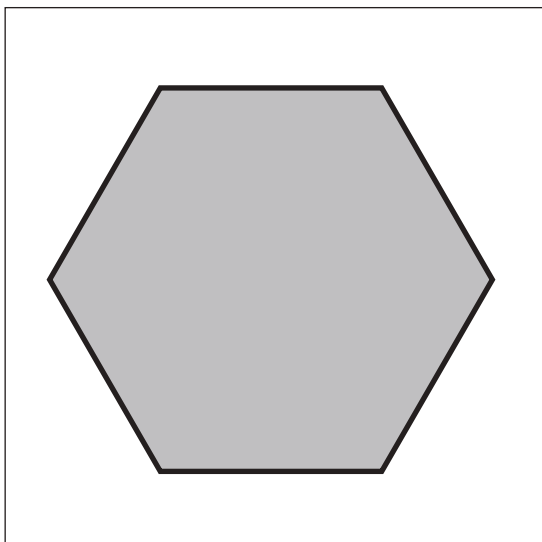
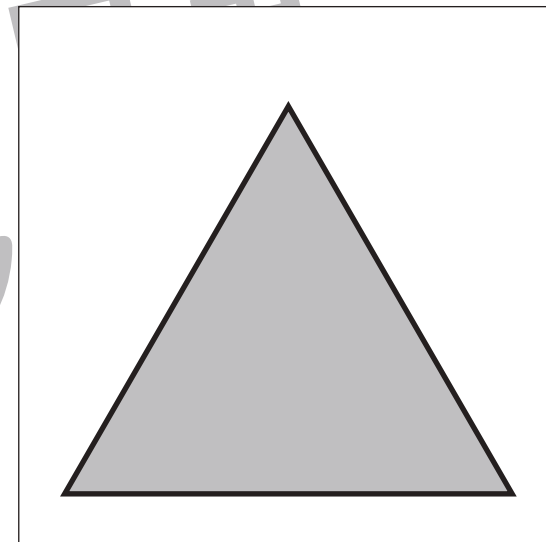
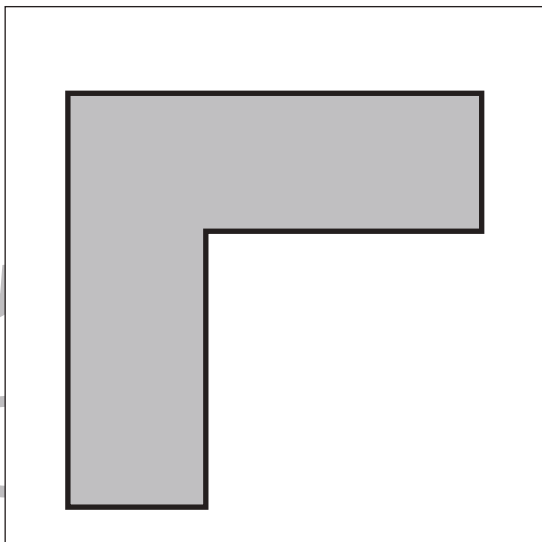
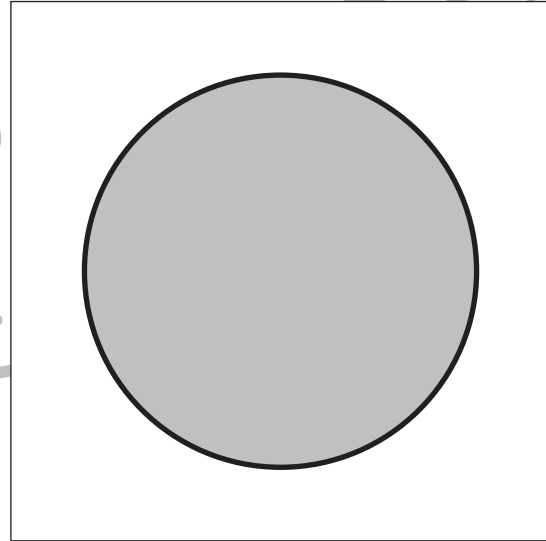



おうちで、やろう。

Study at home. 小学校受験の家庭学習教材

図形：等分⑥

四角の中の形を線を1本引いて半分にします。このとき、分けた形が同じになるようにします。



※1. このプリントは、しながわ・目黒こどもスクールのウェブサイトでダウンロードができます。無断複写・引用はご遠慮ください。
※2. このプリントを活用したオンライン授業のスケジュールは、しながわ・目黒こどもスクールのウェブサイトでご確認ください。

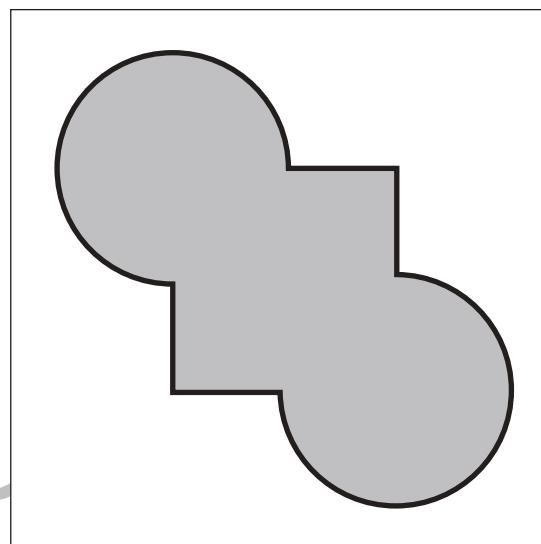
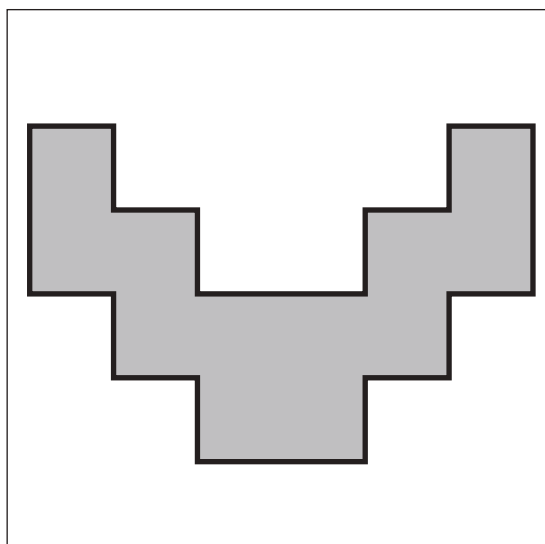
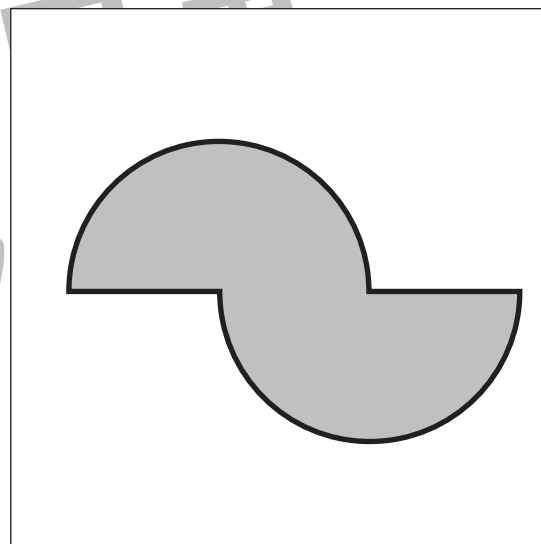

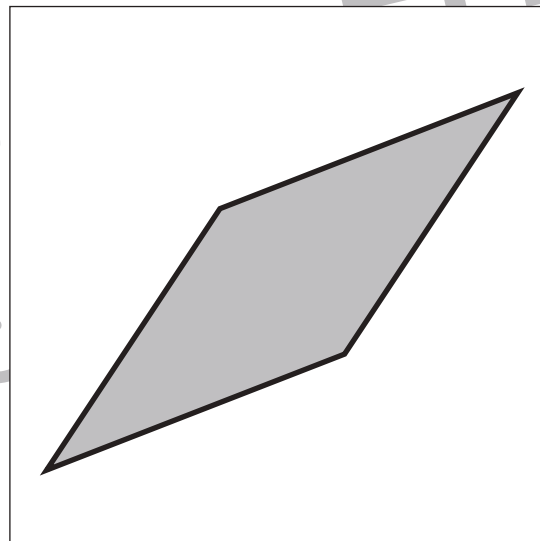
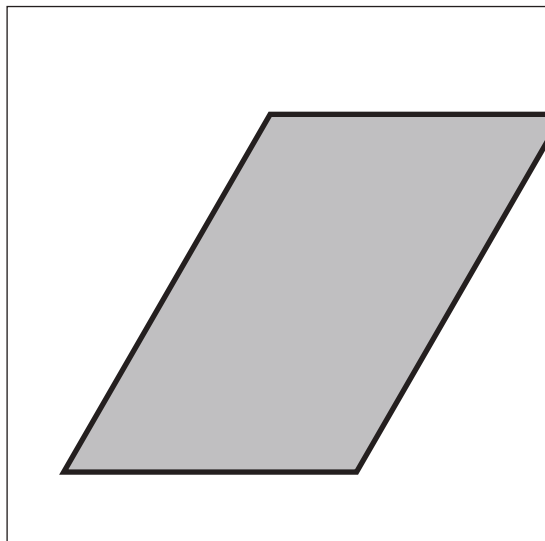


おうちで、やろう。

Study at home. 小学校受験の家庭学習教材

図形：等分⑦

四角の中の形を線を1本引いて半分にします。このとき、分けた形が同じになるようにします。



※1. このプリントは、しながわ・目黒こどもスクールのウェブサイトでダウンロードができます。無断複写・引用はご遠慮ください。
※2. このプリントを活用したオンライン授業のスケジュールは、しながわ・目黒こどもスクールのウェブサイトでご確認ください。

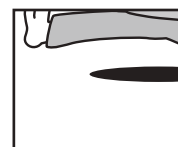
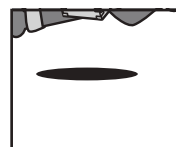

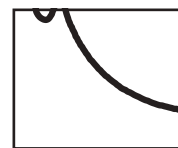









おうちで、やろう。

Study at home. 小学校受験の家庭学習教材

推理：パズル⑥

記号の付いた部分に当てはまるパズルピースを選んで、その場所に書いてある記号をつきましょう。



※1. このプリントは、しながわ・目黒こどもスクールのウェブサイトでダウンロードができます。無断複写・引用はご遠慮ください。
 ※2. このプリントを活用したオンライン授業のスケジュールは、しながわ・目黒こどもスクールのウェブサイトでご確認ください。



おうちで、やろう。

Study at home. 小学校受験の家庭学習教材

推理：条件推理⑩

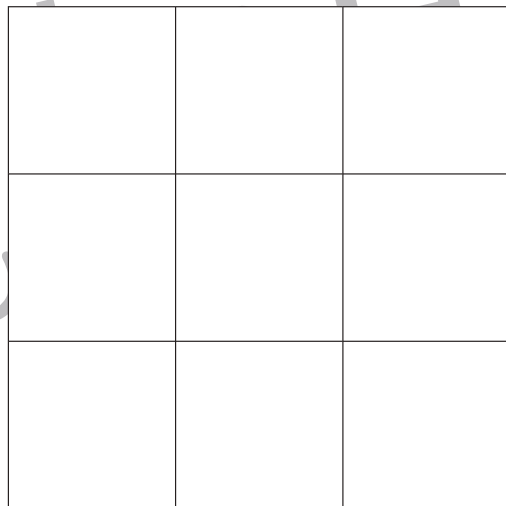
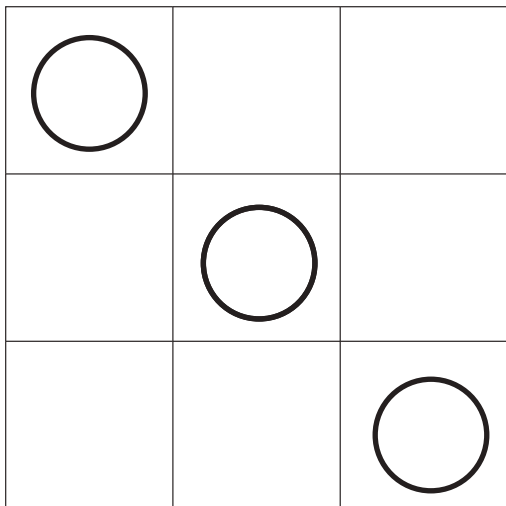
9マスある四角の中を2色使って1マスずつ色を塗ります。ただし、それぞれ上、下、右、左のマスが同じ色にならないように塗ります。この約束で①～③の指示通りになるように塗っていきます。答えはまず、左マスを塗ります。もし間違えてしまった場合は右のマスを塗りましょう。

① 緑と青のクーピーを使います。○のマスは緑で塗ります。残りは約束どおりに塗ります。


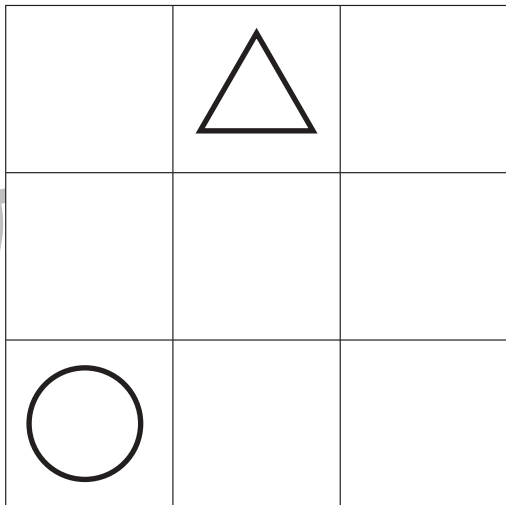
② 赤と黄色のクーピーを使います。○は黄色で塗り、△は赤で塗ります。残りは約束どおりに塗ります。

③ 水色と桃色のクーピーを使います。○は水色で塗ります。残りは約束どおりに塗ります。


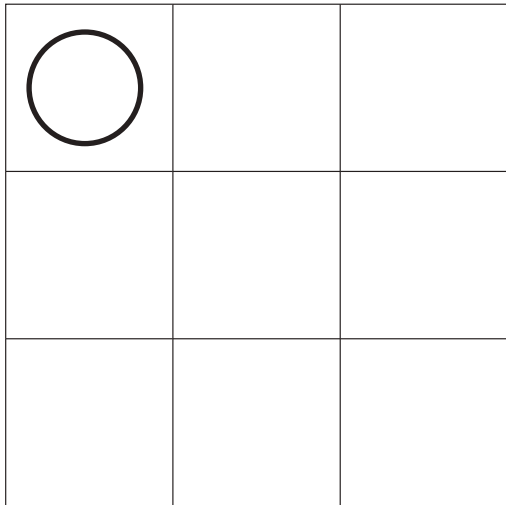
①



②



③



※1. このプリントは、しながわ・目黒こどもスクールのウェブサイトでダウンロードができます。無断複写・引用はご遠慮ください。

※2. このプリントを活用したオンライン授業のスケジュールは、しながわ・目黒こどもスクールのウェブサイトでご確認ください。



おうちで、やろう。

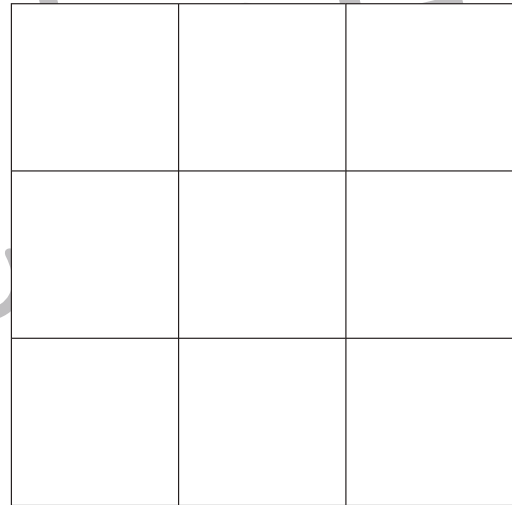
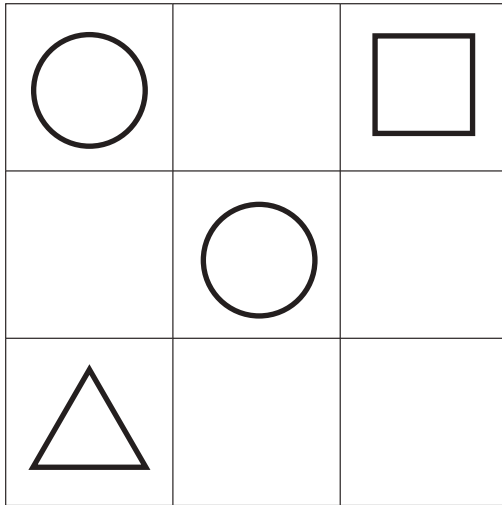
Study at home. 小学校受験の家庭学習教材

推理：条件推理⑰


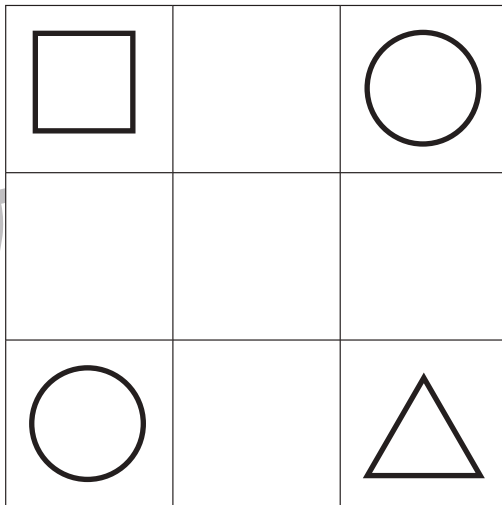
9マスある四角の中を3色使って1マスずつ色を塗ります。ただし、それぞれ上、下、右、左のマスが同じ色にならないように塗ります。このとき、それぞれの色で塗れるマスは3マスずつです。この約束で①～③の指示通りになるように塗っていきます。答えはまず、左マスを塗ります。もし間違えてしまった場合は右のマスを塗りましょう。

- ①青、黄色、赤のクーピーを使います。○のマスは青で塗り、△は黄色で塗り、□は赤で塗ります。残りは約束どおりに塗ります。
- ②緑、橙色、水色のクーピーを使います。○は緑で塗り、△は水色で塗り、□は橙色で塗ります。残りは約束どおりに塗ります。
- ③黄緑色、桃色、黄色のクーピーを使います。○は桃色で塗り、□は黄色で塗ります。残りは約束どおりに塗ります。


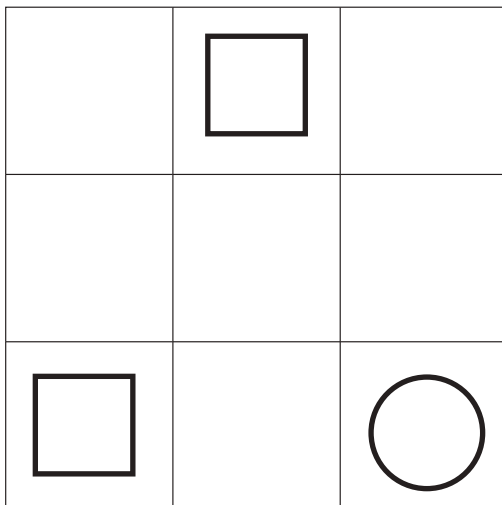
①



②



③



※1. このプリントは、しながわ・目黒こどもスクールのウェブサイトでダウンロードができます。無断複写・引用はご遠慮ください。
 ※2. このプリントを活用したオンライン授業のスケジュールは、しながわ・目黒こどもスクールのウェブサイトでご確認ください。


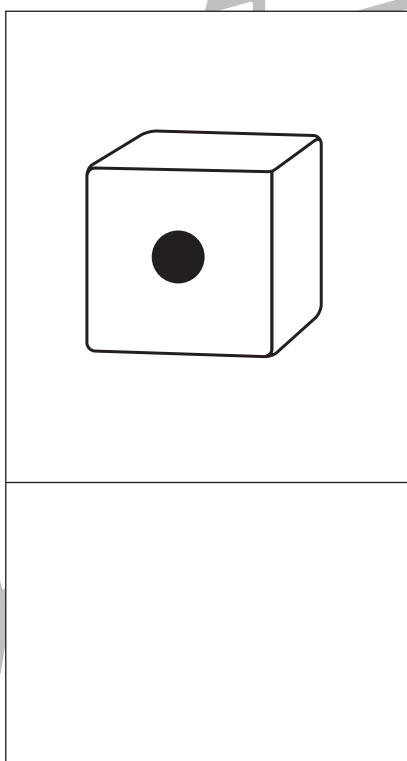

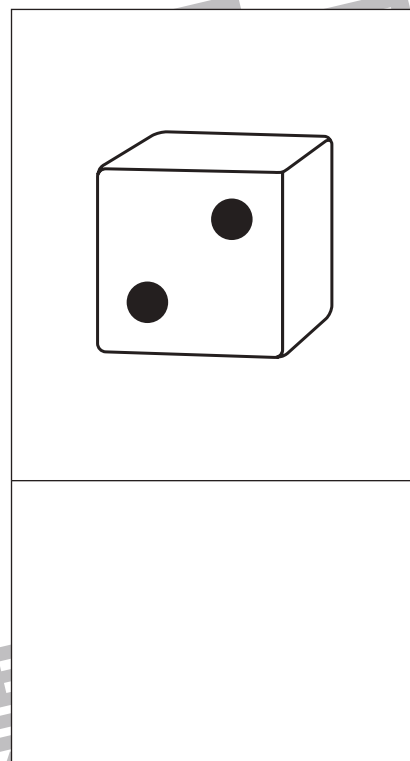




おうちで、やろう。

Study at home. 小学校受験の家庭学習教材

数量：サイコロ⑧

サイコロは表の目と裏の目の数を合わせると7になります。それぞれの四角の中のサイコロの目が表のとき、裏の目を考えてその数だけ下の四角に○をかきます。



※1. このプリントは、しながわ・目黒こどもスクールのウェブサイトでダウンロードができます。無断複写・引用はご遠慮ください。
※2. このプリントを活用したオンライン授業のスケジュールは、しながわ・目黒こどもスクールのウェブサイトでご確認ください。



おうちで、やろう。

Study at home. 小学校受験の家庭学習教材

数量：サイコロ⑨

サイコロは表の目と裏の目の数を合わせると7になります。それぞれの四角の中の2つのサイコロの目が表のとき、裏の目を合わせるといくつになりますか。その数だけ下の四角に○をかきます。

※1. このプリントは、しながわ・目黒こどもスクールのウェブサイトでダウンロードができます。無断複写・引用はご遠慮ください。
 ※2. このプリントを活用したオンライン授業のスケジュールは、しながわ・目黒こどもスクールのウェブサイトでご確認ください。



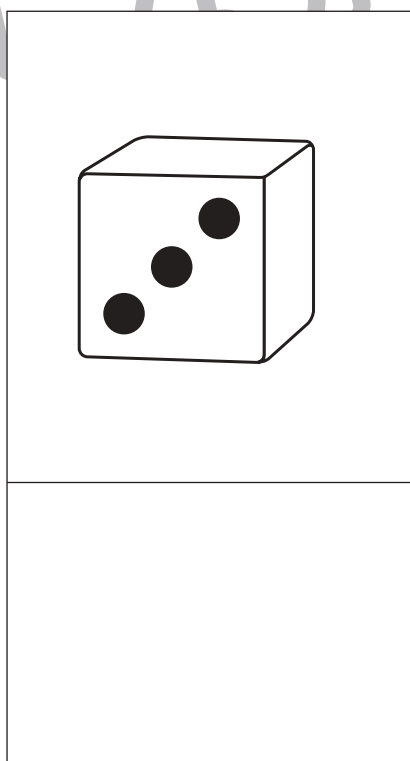

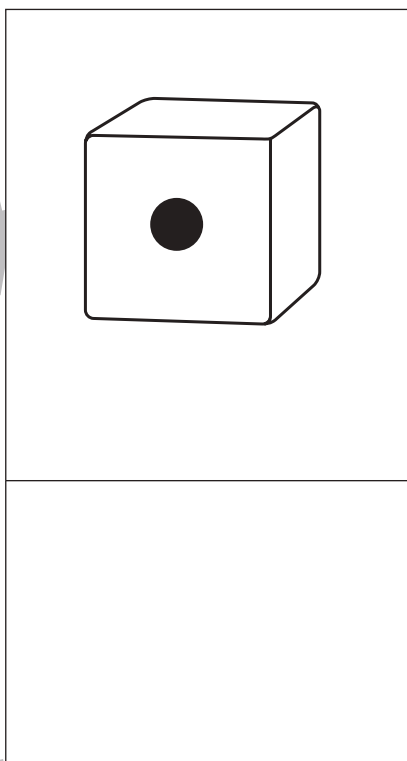



おうちで、やろう。

Study at home. 小学校受験の家庭学習教材

数量：サイコロ⑩

サイコロは表の目と裏の目の数を合わせると7になります。それぞれの四角の中のサイコロの目が表のとき、表と裏の目の数の違いはいくつですか。違う数だけ下の四角に○をかきます。



※1. このプリントは、しながわ・目黒こどもスクールのウェブサイトでダウンロードができます。無断複写・引用はご遠慮ください。
※2. このプリントを活用したオンライン授業のスケジュールは、しながわ・目黒こどもスクールのウェブサイトでご確認ください。

