




# おうちで、やろう。


Study at home. 小学校受験の家庭学習教材

## 言語：音の数⑧


それぞれの四角の中の絵の名前の音の数だけ下の○を塗ります。  
また、音の数が4つのものに○をつけます。




● ● ○ ○  
○ ○ ○ ○




● ● ● ○  
○ ○ ○ ○




● ● ● ●  
○ ○ ○ ○




● ● ● ●  
○ ○ ○ ○




● ● ● ○  
○ ○ ○ ○




● ● ● ●  
● ○ ○ ○




● ● ● ●  
● ● ● ○




● ● ○ ○  
○ ○ ○ ○




● ● ● ●  
○ ○ ○ ○



● ● ● ○  
● ● ● ○



● ● ● ●  
○ ○ ○ ○



● ● ● ●  
○ ○ ○ ○

※1. このプリントは、しながわ・目黒こどもスクールのウェブサイトでダウンロードができます。無断複写・引用はご遠慮ください。

※2. このプリントを活用したオンライン授業のスケジュールは、しながわ・目黒こどもスクールのウェブサイトでご確認ください。




# おうちで、やろう。


Study at home. 小学校受験の家庭学習教材

## 言語：音の数⑨


それぞれの四角の中の絵の名前の音の数だけ下の○を塗ります。  
また、音の数が3つのものに○をつけます。




|   |   |   |   |
|---|---|---|---|
| ● | ● | ● | ● |
| ○ | ○ | ○ | ○ |




|   |   |   |   |
|---|---|---|---|
| ● | ● | ● | ○ |
| ○ | ○ | ○ | ○ |




|   |   |   |   |
|---|---|---|---|
| ● | ● | ● | ● |
| ○ | ○ | ○ | ○ |




|   |   |   |   |
|---|---|---|---|
| ● | ● | ○ | ○ |
| ○ | ○ | ○ | ○ |




|   |   |   |   |
|---|---|---|---|
| ● | ● | ● | ○ |
| ○ | ○ | ○ | ○ |




|   |   |   |   |
|---|---|---|---|
| ● | ● | ● | ● |
| ○ | ○ | ○ | ○ |




|   |   |   |   |
|---|---|---|---|
| ● | ● | ● | ○ |
| ○ | ○ | ○ | ○ |




|   |   |   |   |
|---|---|---|---|
| ● | ● | ● | ● |
| ○ | ○ | ○ | ○ |




|   |   |   |   |
|---|---|---|---|
| ● | ● | ● | ● |
| ● | ○ | ○ | ○ |



|   |   |   |   |
|---|---|---|---|
| ● | ● | ● | ● |
| ● | ○ | ○ | ○ |



|   |   |   |   |
|---|---|---|---|
| ● | ● | ● | ○ |
| ○ | ○ | ○ | ○ |



|   |   |   |   |
|---|---|---|---|
| ● | ● | ● | ● |
| ● | ○ | ○ | ○ |

※1. このプリントは、しながわ・目黒こどもスクールのウェブサイトでダウンロードができます。無断複写・引用はご遠慮ください。  
 ※2. このプリントを活用したオンライン授業のスケジュールは、しながわ・目黒こどもスクールのウェブサイトでご確認ください。





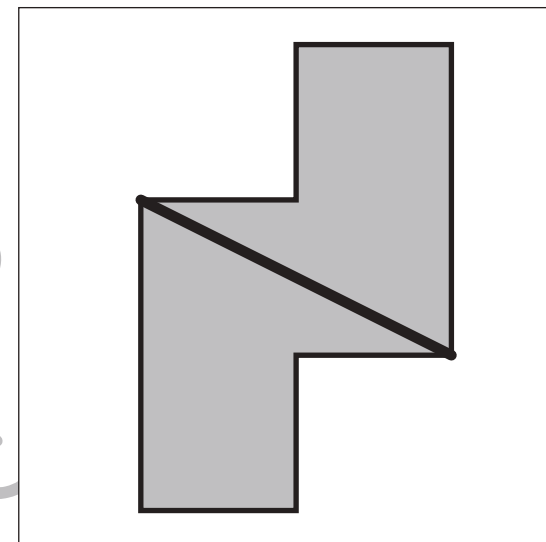
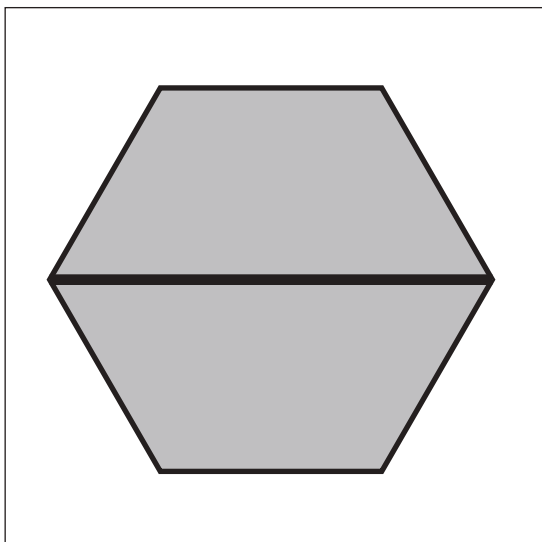
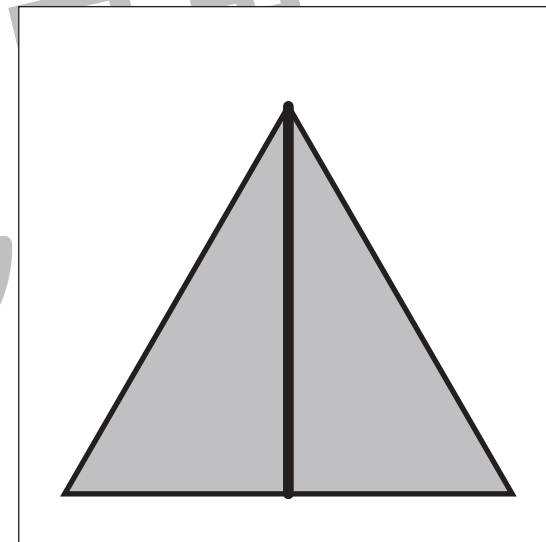
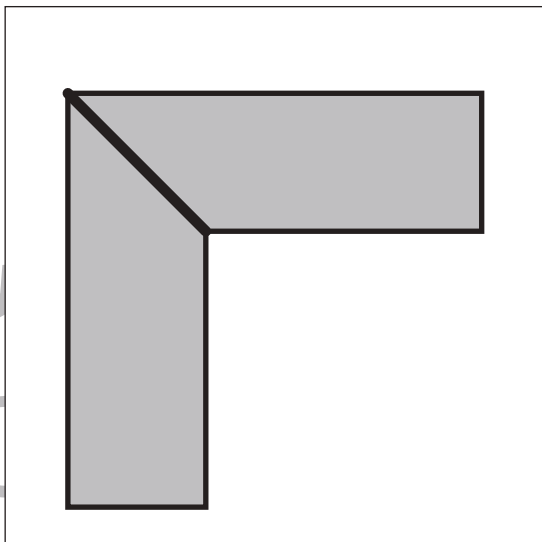
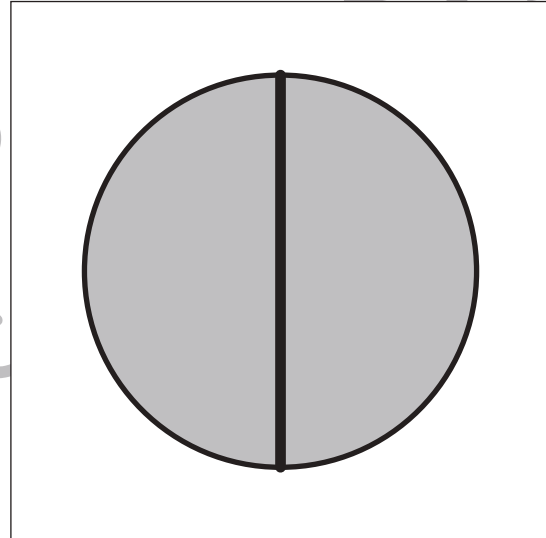
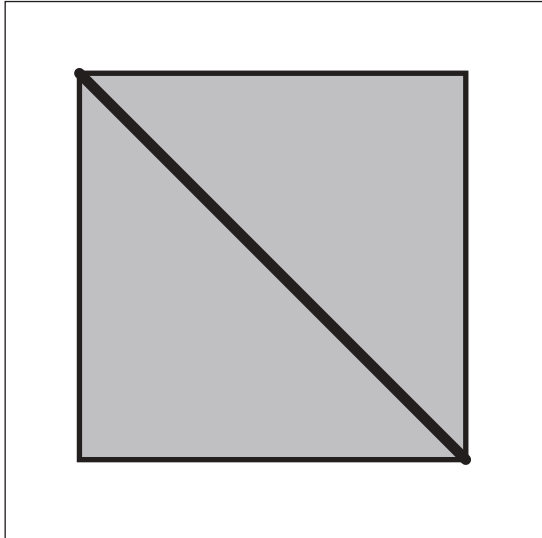
# おうちで、よろう。

Study at home. 小学校受験の家庭学習教材

## 図形：等分⑥

四角の中の形を線を1本引いて半分にします。このとき、分けた形が同じになるようにします。

※解答は一例です。違う線の場合でも正解となる場合があります。





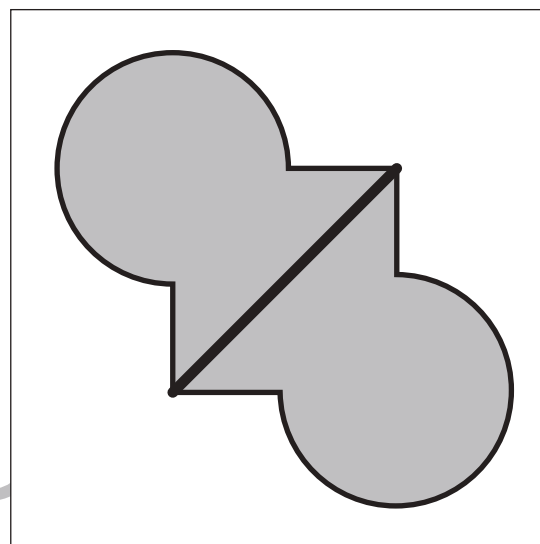
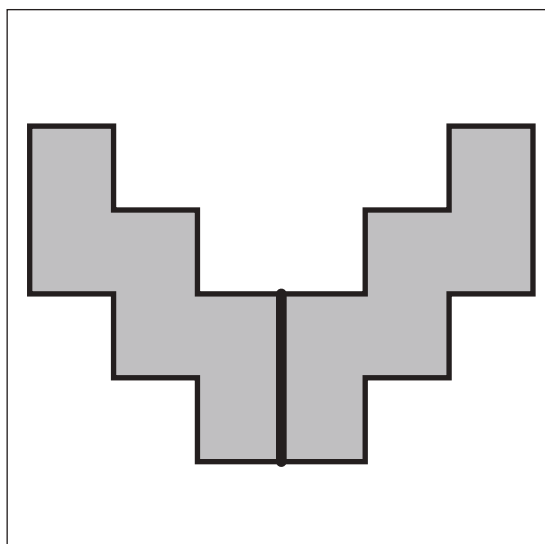
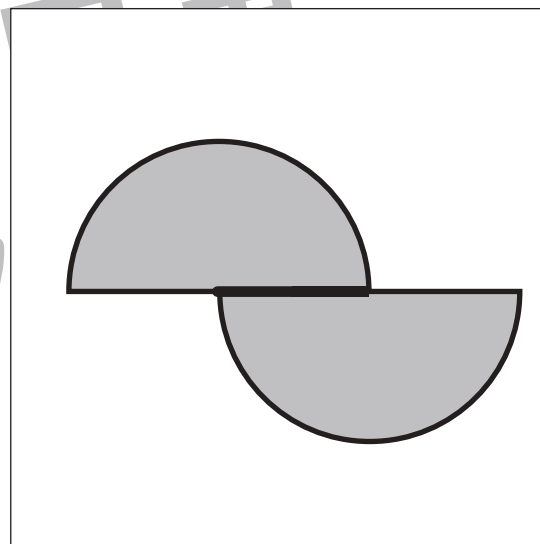
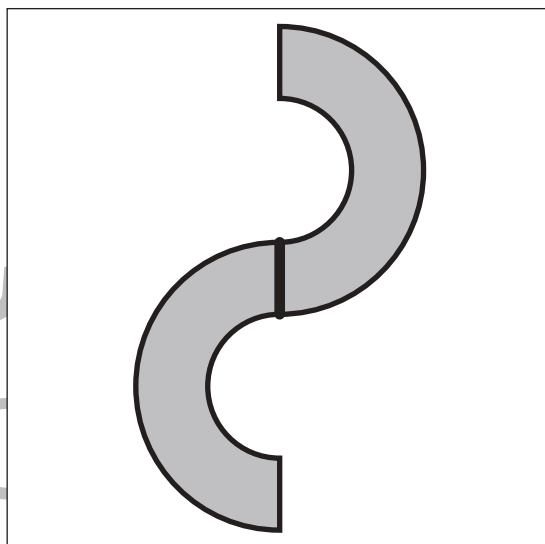
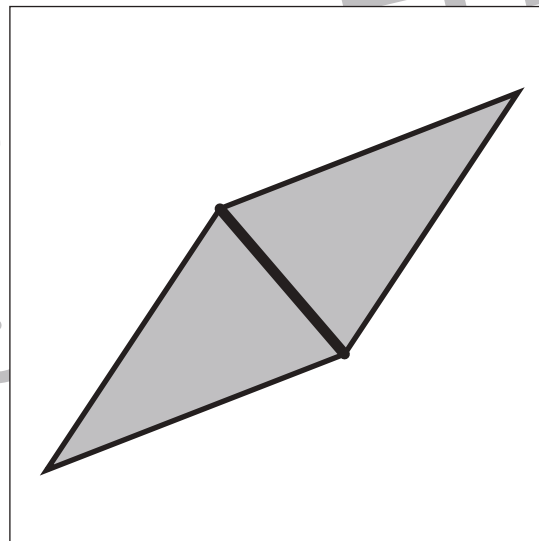
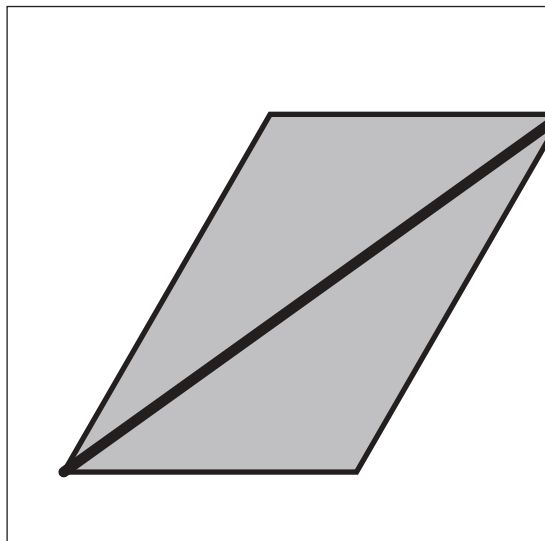
# おうちで、よろう。

Study at home. 小学校受験の家庭学習教材

## 図形：等分⑦

四角の中の形を線を1本引いて半分にします。このとき、分けた形が同じになるようにします。

※解答は一例です。違う線の場合でも正解となる場合があります。



※1. このプリントは、しながわ・目黒こどもスクールのウェブサイトでダウンロードができます。無断複写・引用はご遠慮ください。  
※2. このプリントを活用したオンライン授業のスケジュールは、しながわ・目黒こどもスクールのウェブサイトでご確認ください。



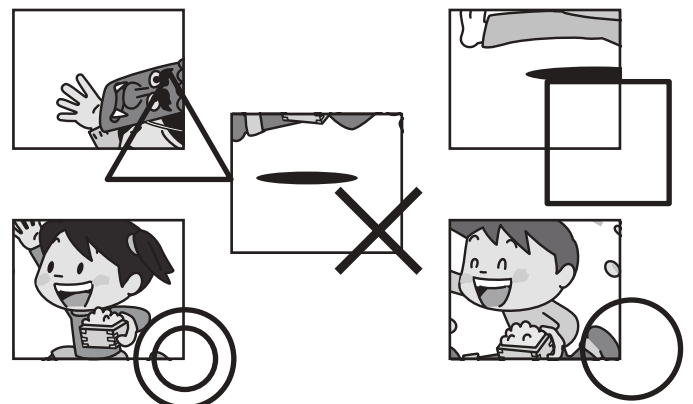

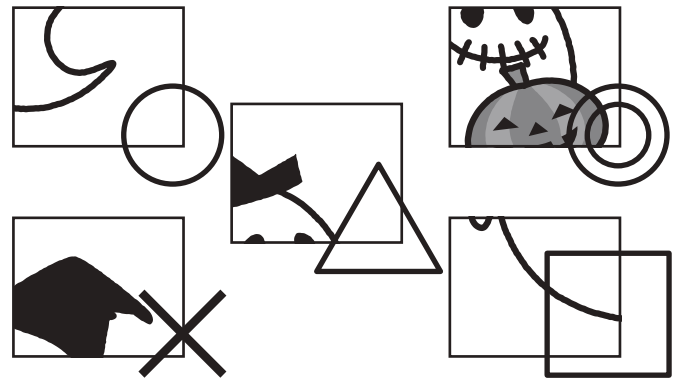

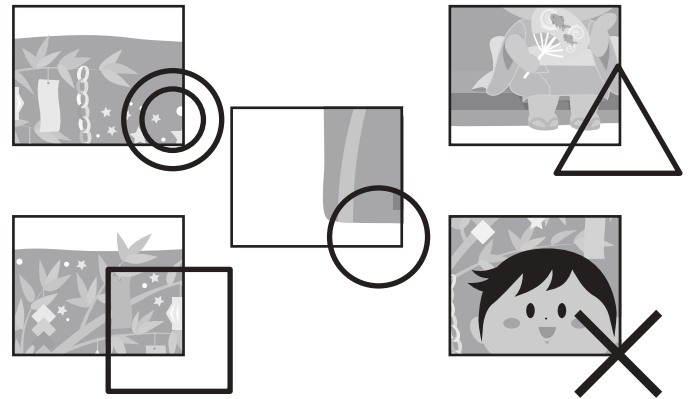

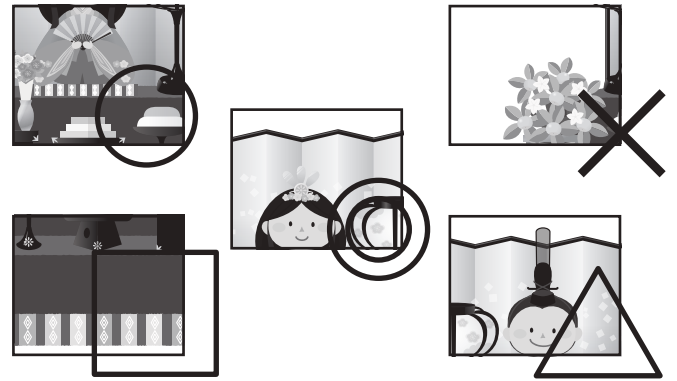



# おうちで、やろう。

Study at home. 小学校受験の家庭学習教材

## 推理：パズル⑥

記号の付いた部分に当てはまるパズルピースを選んで、その場所に書いてある記号をつきましょう。



※1. このプリントは、しながわ・目黒こどもスクールのウェブサイトでダウンロードができます。無断複写・引用はご遠慮ください。  
 ※2. このプリントを活用したオンライン授業のスケジュールは、しながわ・目黒こどもスクールのウェブサイトでご確認ください。



# おうちで、やろう。

Study at home. 小学校受験の家庭学習教材

推理：条件推理⑩

9マスある四角の中を2色使って1マスずつ色を塗ります。ただし、それぞれ上、下、右、左のマスが同じ色にならないように塗ります。この約束で①～③の指示通りになるように塗っていきます。答えはまず、左マスを塗ります。もし間違えてしまった場合は右のマスを塗りましょう。

① 緑と青のクーピーを使います。○のマスは緑で塗ります。残りは約束どおりに塗ります。

② 赤と黄色のクーピーを使います。○は黄色で塗り、△は赤で塗ります。残りは約束どおりに塗ります。

③ 水色と桃色のクーピーを使います。○は水色で塗ります。残りは約束どおりに塗ります。

①

|     |     |     |
|-----|-----|-----|
| ○ 緑 | 青   | 緑   |
| 青   | ○ 緑 | 青   |
| 緑   | 青   | ○ 緑 |

|  |  |  |
|--|--|--|
|  |  |  |
|  |  |  |
|  |  |  |

②

|     |     |   |
|-----|-----|---|
| 黄   | △ 赤 | 黄 |
| 赤   | 黄   | 赤 |
| ○ 黄 | 赤   | 黄 |

|  |  |  |
|--|--|--|
|  |  |  |
|  |  |  |
|  |  |  |

③

|      |    |    |
|------|----|----|
| ○ 水色 | 桃色 | 水色 |
| 桃色   | 水色 | 桃色 |
| 水色   | 桃色 | 水色 |

|  |  |  |
|--|--|--|
|  |  |  |
|  |  |  |
|  |  |  |

※1. このプリントは、しながわ・目黒こどもスクールのウェブサイトでダウンロードができます。無断複写・引用はご遠慮ください。

※2. このプリントを活用したオンライン授業のスケジュールは、しながわ・目黒こどもスクールのウェブサイトでご確認ください。



# おうちで、やろう。

Study at home. 小学校受験の家庭学習教材

## 推理：条件推理⑰

9マスある四角の中を3色使って1マスずつ色を塗ります。ただし、それぞれ上、下、右、左のマスが同じ色にならないように塗ります。このとき、それぞれの色で塗れるマスは3マスずつです。この約束で①～③の指示通りになるように塗っていきます。答えはまず、左マスを塗ります。もし間違えてしまった場合は右のマスを塗りましょう。

- ①青、黄色、赤のクーピーを使います。○のマスは青で塗り、△は黄色で塗り、□は赤で塗ります。残りは約束どおりに塗ります。
- ②緑、橙色、水色のクーピーを使います。○は緑で塗り、△は水色で塗り、□は橙色で塗ります。残りは約束どおりに塗ります。
- ③黄緑色、桃色、黄色のクーピーを使います。○は桃色で塗り、□は黄色で塗ります。残りは約束どおりに塗ります。

①

|     |    |    |
|-----|----|----|
| ○青  | 黄色 | □赤 |
| 赤   | ○青 | 黄色 |
| △黄色 | 赤  | 青  |

|  |  |  |
|--|--|--|
|  |  |  |
|  |  |  |
|  |  |  |

②

|    |    |     |
|----|----|-----|
| □橙 | 水色 | ○緑  |
| 水色 | 緑  | 橙   |
| ○緑 | 橙  | △水色 |

|  |  |  |
|--|--|--|
|  |  |  |
|  |  |  |
|  |  |  |

③

|     |     |     |
|-----|-----|-----|
| 桃色  | □黄色 | 黄緑  |
| 黄緑  | 桃色  | 黄色  |
| □黄色 | 黄緑  | ○桃色 |

|  |  |  |
|--|--|--|
|  |  |  |
|  |  |  |
|  |  |  |

※1. このプリントは、しながわ・目黒こどもスクールのウェブサイトでダウンロードができます。無断複写・引用はご遠慮ください。  
 ※2. このプリントを活用したオンライン授業のスケジュールは、しながわ・目黒こどもスクールのウェブサイトでご確認ください。




# おうちで、やろう。

Study at home. 小学校受験の家庭学習教材


数量：サイコロ⑧

サイコロは表の目と裏の目の数を合わせると7になります。それぞれの四角の中のサイコロの目が表のとき、裏の目を考えてその数だけ下の四角に○をかきます。




---

○×1




---

○×3



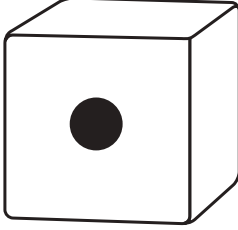
---

○×5




---

○×4



---

○×6



---

○×2






# おうちで、やろう。


Study at home. 小学校受験の家庭学習教材

数量：サイコロ⑨


サイコロは表の目と裏の目の数を合わせると7になります。それぞれの四角の中の2つのサイコロの目が表のとき、裏の目を合わせるといくつになりますか。その数だけ下の四角に○をかきます。




$\bigcirc \times 2$



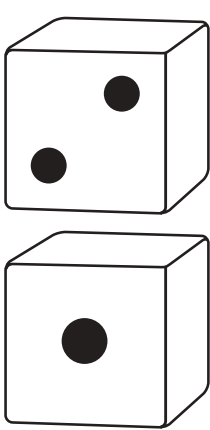
$\bigcirc \times 5$




$\bigcirc \times 7$



$\bigcirc \times 10$



$\bigcirc \times 11$



$\bigcirc \times 7$

※1. このプリントは、しながわ・目黒こどもスクールのウェブサイトでダウンロードができます。無断複写・引用はご遠慮ください。  
 ※2. このプリントを活用したオンライン授業のスケジュールは、しながわ・目黒こどもスクールのウェブサイトでご確認ください。




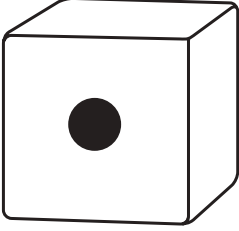
# おうちで、やろう。


Study at home. 小学校受験の家庭学習教材


数量：サイコロ⑩


サイコロは表の目と裏の目の数を合わせると7になります。それぞれの四角の中のサイコロの目が表のとき、表と裏の目の数の違いはいくつですか。違う数だけ下の四角に○をかきます。


|                                                                                   |
|-----------------------------------------------------------------------------------|
|  |
| ○ × 3                                                                             |

|                                                                                   |
|-----------------------------------------------------------------------------------|
|  |
| ○ × 5                                                                             |

|                                                                                     |
|-------------------------------------------------------------------------------------|
|  |
| ○ × 1                                                                               |

|                                                                                     |
|-------------------------------------------------------------------------------------|
|  |
| ○ × 1                                                                               |

|                                                                                     |
|-------------------------------------------------------------------------------------|
|  |
| ○ × 3                                                                               |

|                                                                                       |
|---------------------------------------------------------------------------------------|
|  |
| ○ × 5                                                                                 |

※1. このプリントは、しながわ・目黒こどもスクールのウェブサイトでダウンロードができます。無断複写・引用はご遠慮ください。  
※2. このプリントを活用したオンライン授業のスケジュールは、しながわ・目黒こどもスクールのウェブサイトでご確認ください。