



おうちで、やろう。

Study at home. 小学校受験の家庭学習教材

指示の聞き取り⑧

下記の問題に答え線をきれいに素早くなぞりましょう。

①一番長い線を青で、一番短い線を緑でなぞります。 ②2番目に長い線を黒で、2番目に短い線を赤でなぞります。

③一番長いと一番短い線は鉛筆で、同じ長さの線は青でなぞります。

※このプリントに解答はありません。

①

②

③

※1. このプリントは、しながわ・目黒こどもスクールのウェブサイトでダウンロードができます。無断複写・引用はご遠慮ください。

※2. このプリントを活用したオンライン授業のスケジュールは、しながわ・目黒こどもスクールのウェブサイトでご確認ください。




おうちで、やろう。

Study at home. 小学校受験の家庭学習教材


数量：順番①

矢印の向きを先頭にして盆踊りの列があります。①～④の問題に答えましょう。


①先頭のお母さんから数えて、3番目に並んでいる人に○を、5番目に並んでいる人に△をつけましょう。



②先頭のお母さんから数えて、2番目に並んでいる人に○を、4番目に並んでいる人に△をつけましょう。



③先頭のお母さんから数えて、1番目に並んでいるものに○を、8番目に並んでいるものに△をつけましょう。



④先頭のお母さんから数えて、2番目に並んでいるものに○を、5番目に並んでいるものに△をつけましょう。



※1. このプリントは、しながわ・目黒こどもスクールのウェブサイトからダウンロードできます。無断複写・引用はご遠慮ください。
※2. このプリントを活用したオンライン授業のスケジュールは、しながわ・目黒こどもスクールのウェブサイトでご確認ください。






おうちで、やろう。

Study at home. 小学校受験の家庭学習教材


数量：順番②

矢印の向きを先頭にして盆踊りの列があります。①～④の問題に答えましょう。


①先頭から数えて4番目に並んでいるものに○を、いちばん後ろから数えて4番目に並んでいるものに△をつけましょう。




②先頭から数えて5番目に並んでいるものに○を、いちばん後ろから数えて5番目に並んでいるものに△をつけましょう。



③先頭から数えて2番目に並んでいるものに○を、いちばん後ろから数えて7番目に並んでいるものに△をつけましょう。



④先頭から数えて9番目に並んでいるものに○を、いちばん後ろから数えて9番目に並んでいるものに△をつけましょう。



※1. このプリントは、しながわ・目黒こどもスクールのウェブサイトからダウンロードできます。無断複写・引用はご遠慮ください。

※2. このプリントを活用したオンライン授業のスケジュールは、しながわ・目黒こどもスクールのウェブサイトでご確認ください。






おうちで、やろう。

Study at home. 小学校受験の家庭学習教材


数量：順番③

矢印の向きを先頭にして盆踊りの列があります。①～④の問題に答えましょう。


①先頭から数えて3番目の人、先頭から数えて6番目の人、この2人の間に並んでいるものにすべて〇をつけましょう。




②先頭から数えて5番目の動物、先頭から数えて8番目の人、この2人の間に並んでいるものにすべて〇をつけましょう。



③先頭から数えて6番目の人、いちばん後ろから数えて2番目の動物、この2人の間に並んでいるものにすべて〇をつけましょう。



④先頭から数えて3番目の人、いちばん後ろから数えて4番目の人、この2人の間に並んでいるものにすべて〇をつけましょう。



※1. このプリントは、しながわ・目黒こどもスクールのウェブサイトでダウンロードができます。無断複写・引用はご遠慮ください。

※2. このプリントを活用したオンライン授業のスケジュールは、しながわ・目黒こどもスクールのウェブサイトでご確認ください。



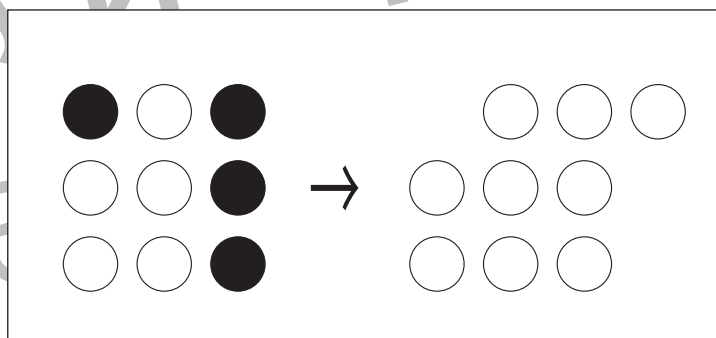
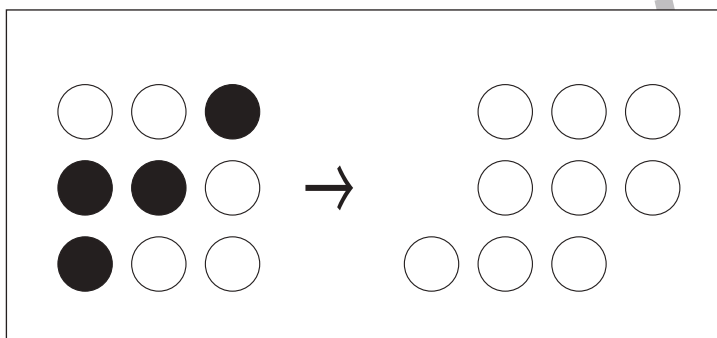
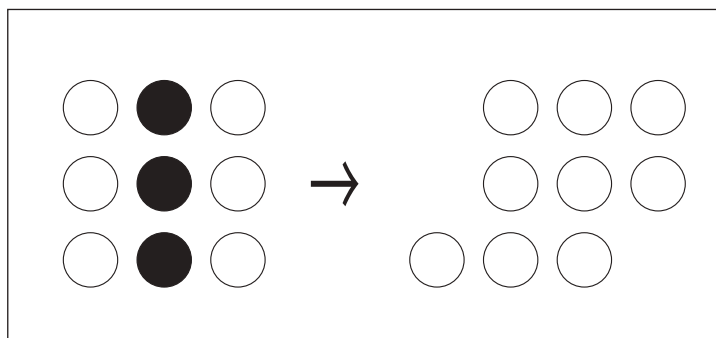
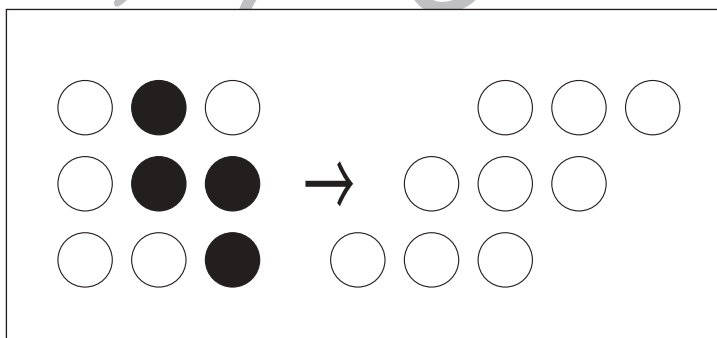
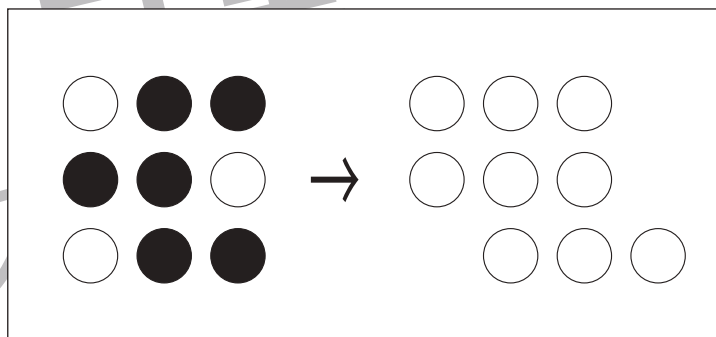
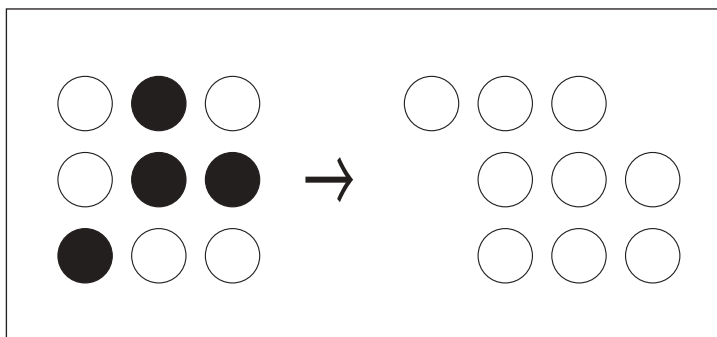
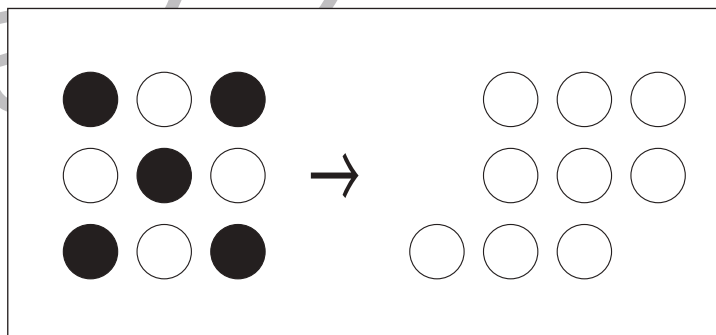
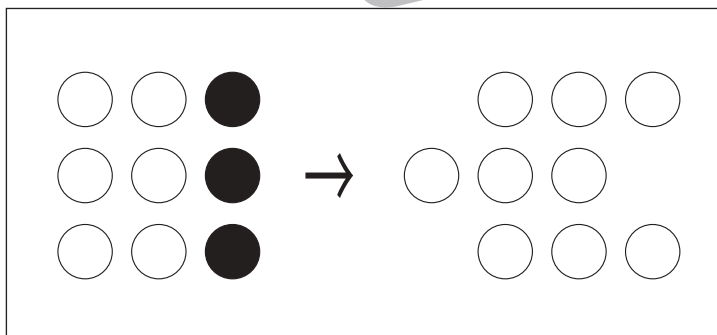
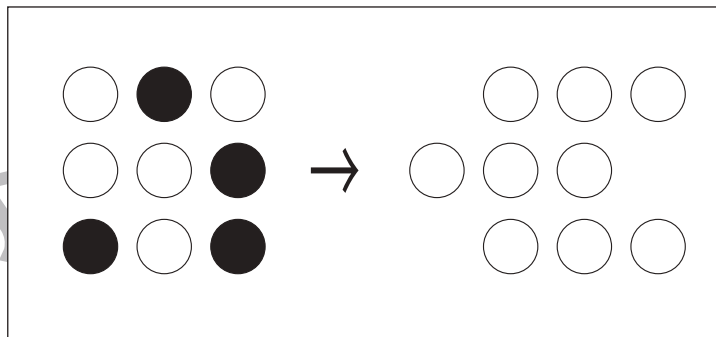
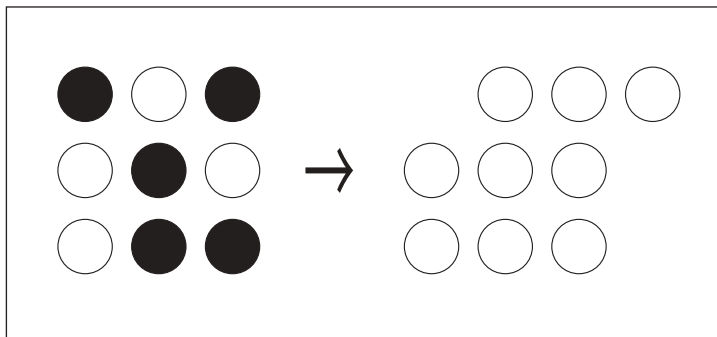


おうちで、やろう。

Study at home. 小学校受験の家庭学習教材

図形：移動⑱

左がお手本です。このお手本の●の場所を考えて矢印の右の○の同じ場所を塗ります。ただし、右の○はずれています。どの場所を塗ればよいのか考えましょう。



※1. このプリントは、しながわ・目黒こどもスクールのウェブサイトでダウンロードができます。無断複写・引用はご遠慮ください。
 ※2. このプリントを活用したオンライン授業のスケジュールは、しながわ・目黒こどもスクールのウェブサイトでご確認ください。

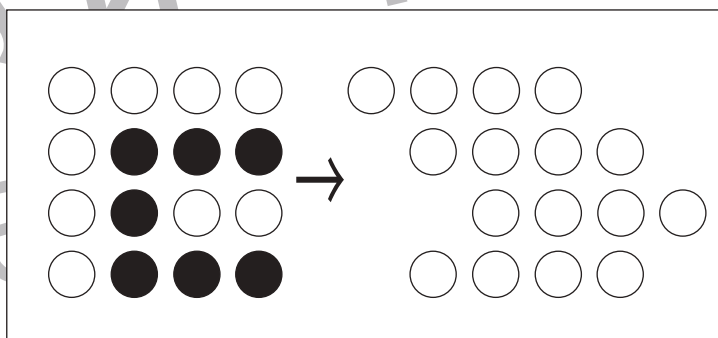
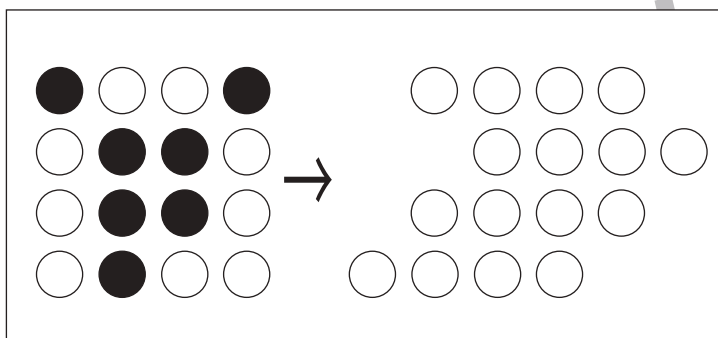
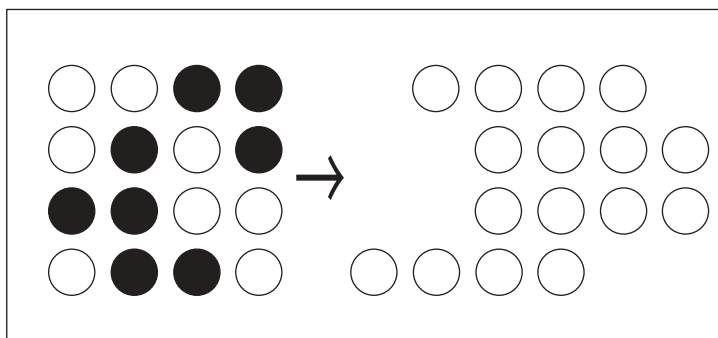
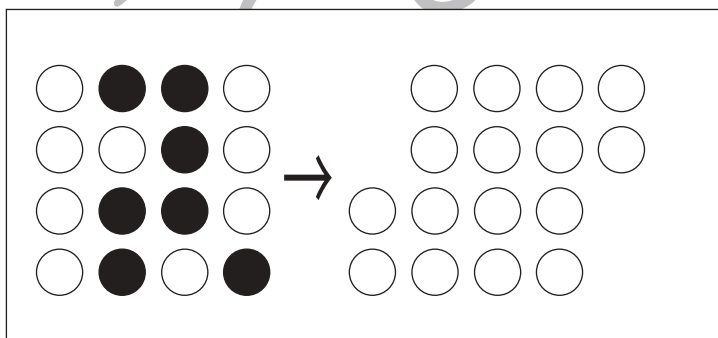
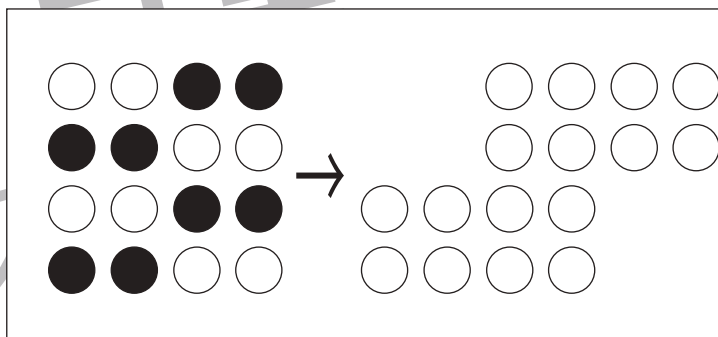
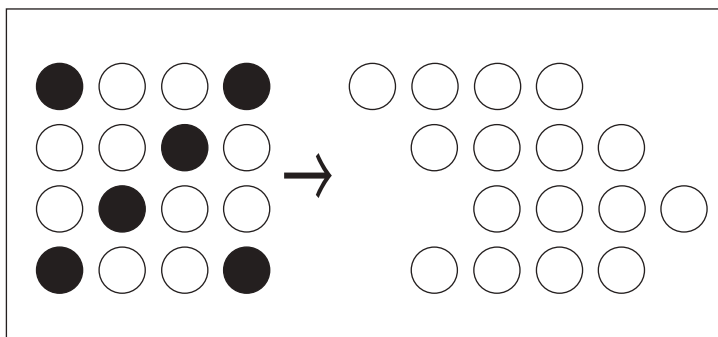
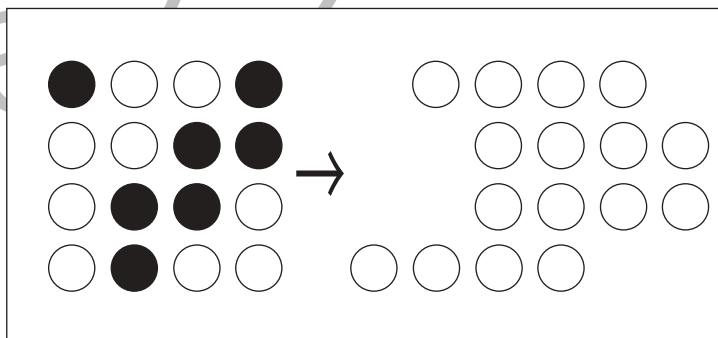
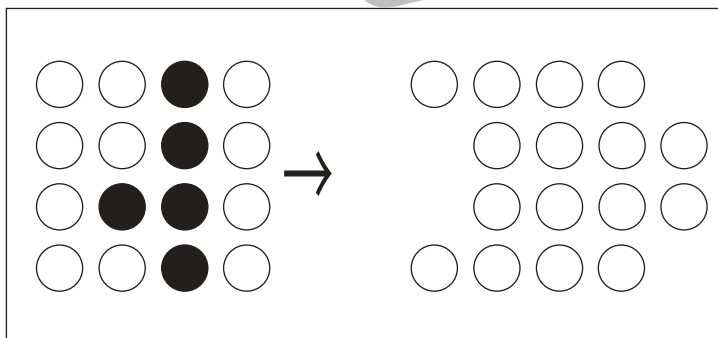
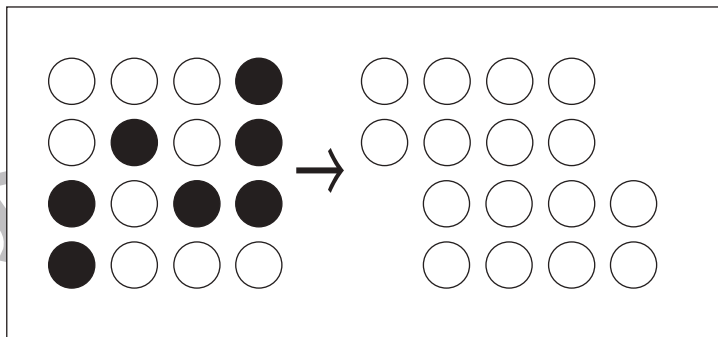
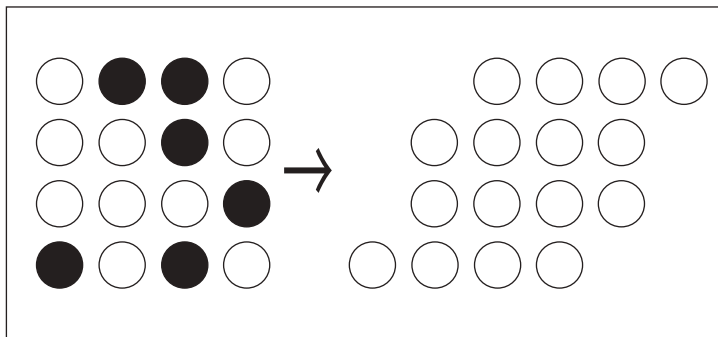


おうちで、やろう。

Study at home. 小学校受験の家庭学習教材

図形：移動⑱

左がお手本です。このお手本の●の場所を考えて矢印の右の○の同じ場所を塗ります。ただし、右の○はずれています。どの場所を塗ればよいのか考えましょう。



※1. このプリントは、しながわ・目黒こどもスクールのウェブサイトからダウンロードできます。無断複写・引用はご遠慮ください。
 ※2. このプリントを活用したオンライン授業のスケジュールは、しながわ・目黒こどもスクールのウェブサイトでご確認ください。

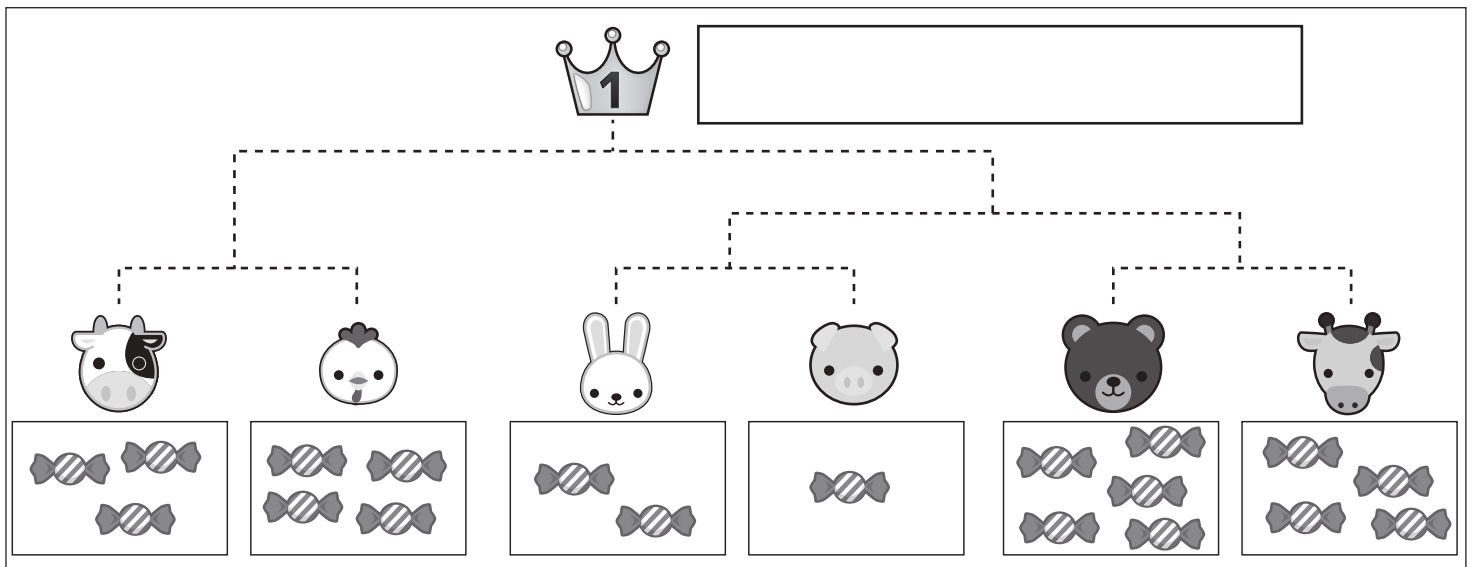
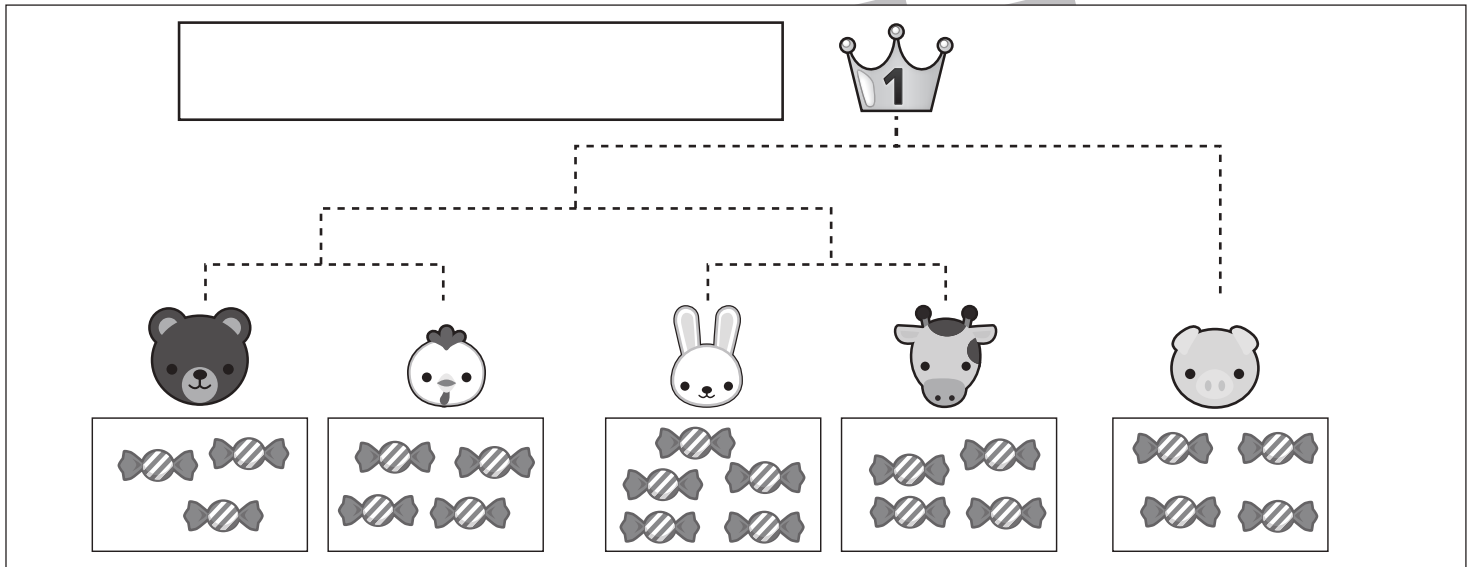
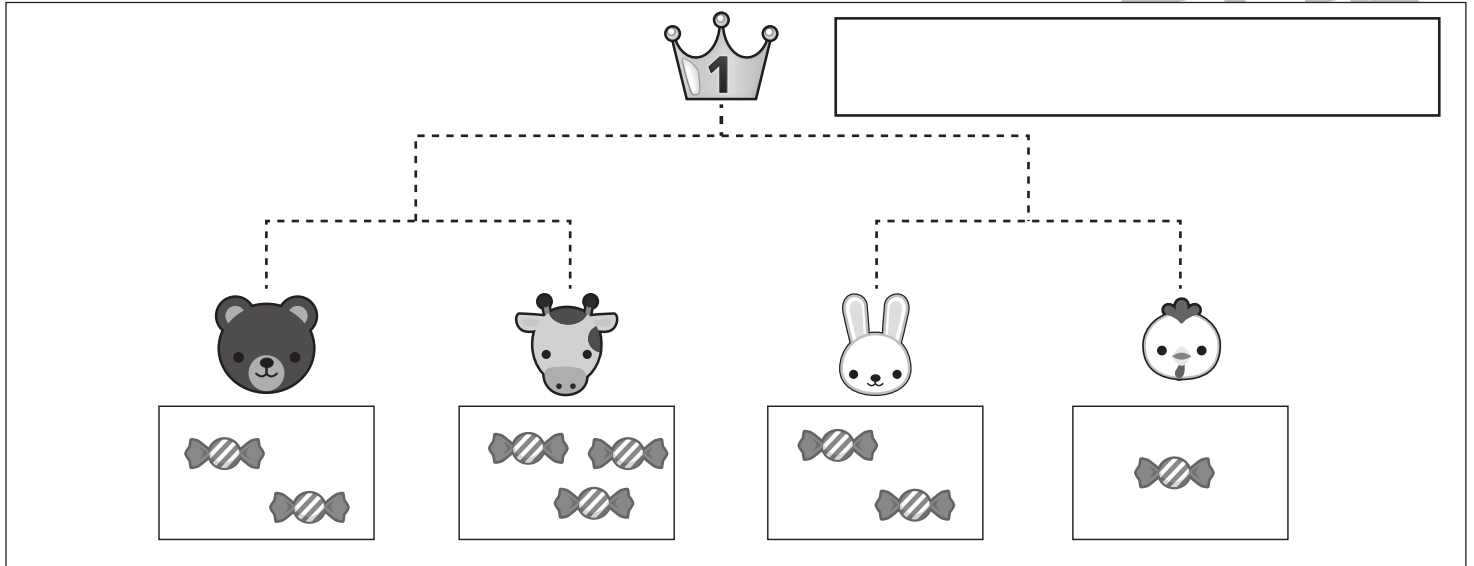


おうちで、やろう。

Study at home. 小学校受験の家庭学習教材

推理：条件推理⑱

動物たちがトーナメント勝負をします。トーナメントは点線で結んである2匹の勝負です。勝負はそれぞれの動物たちの持っている飴の数です。飴の数を比べて多い方が勝ちです。勝った動物は次の勝負に進み、点線で結んである動物と勝負します。この約束で順番に勝負をして一番になった動物に○をつけます。そして一番になった動物が持っている飴の数だけ王冠の隣の四角に○をかきます。また、それぞれの動物がどのようにトーナメントを進んだか点線をなぞってみましょう。



※1. このプリントは、しながわ・目黒こどもスクールのウェブサイトでダウンロードができます。無断複写・引用はご遠慮ください。

※2. このプリントを活用したオンライン授業のスケジュールは、しながわ・目黒こどもスクールのウェブサイトでご確認ください。

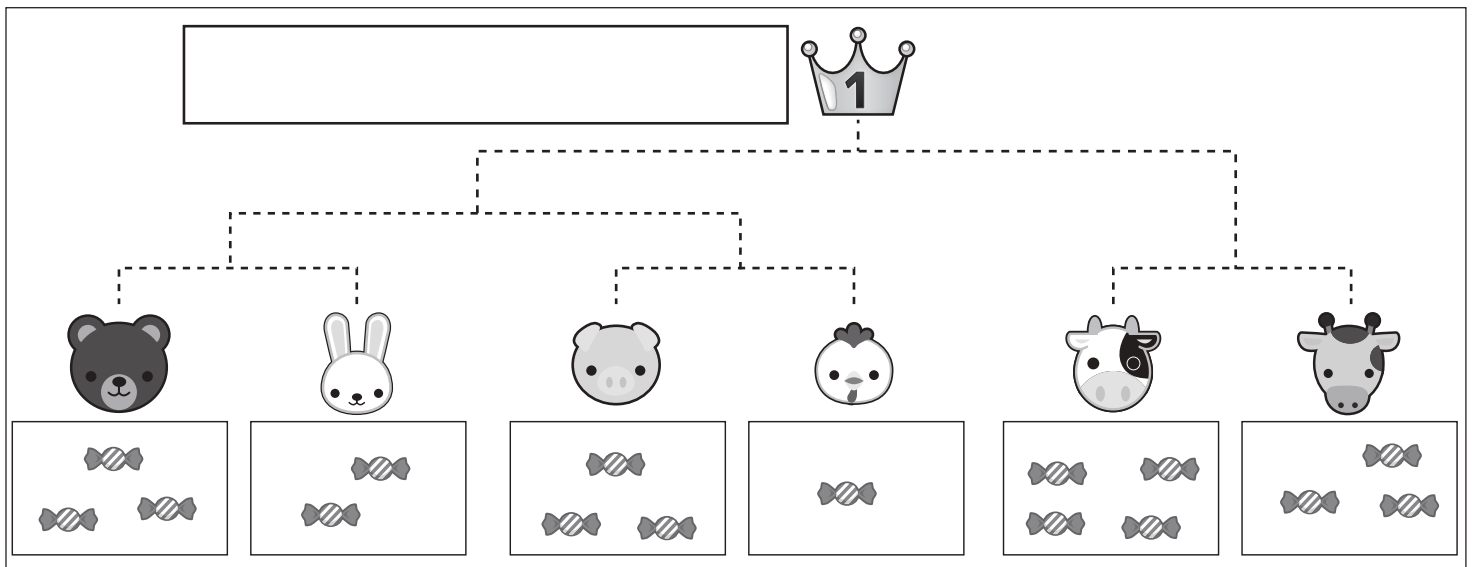
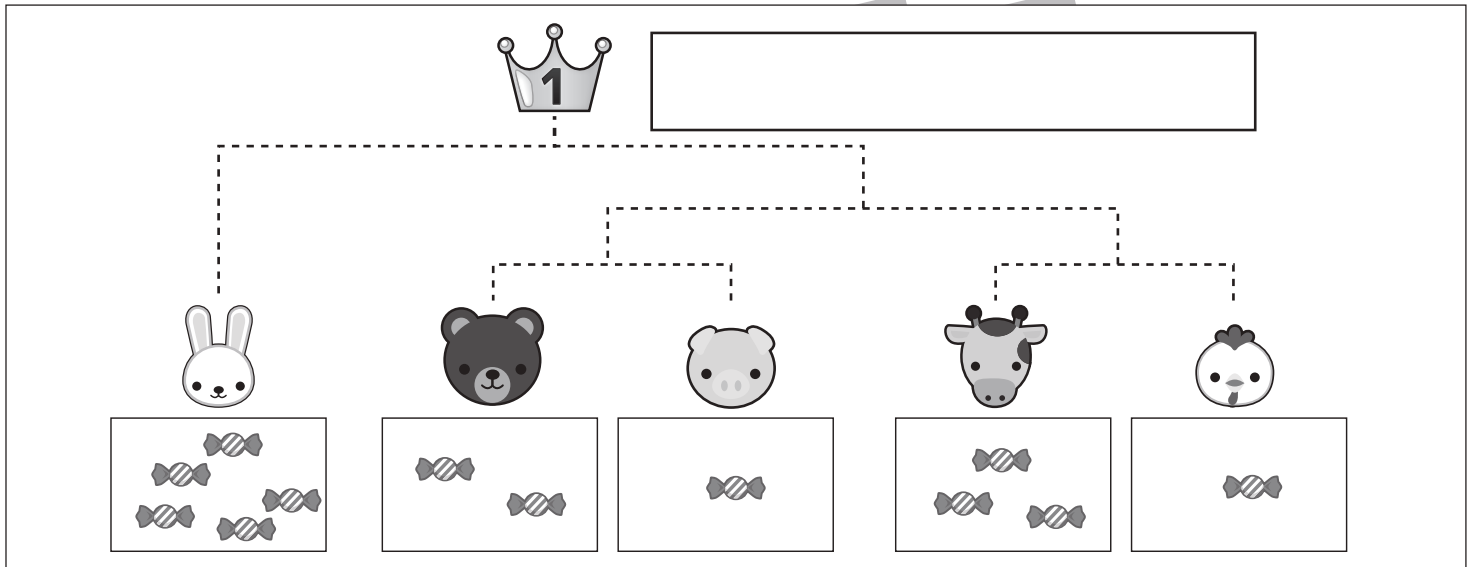
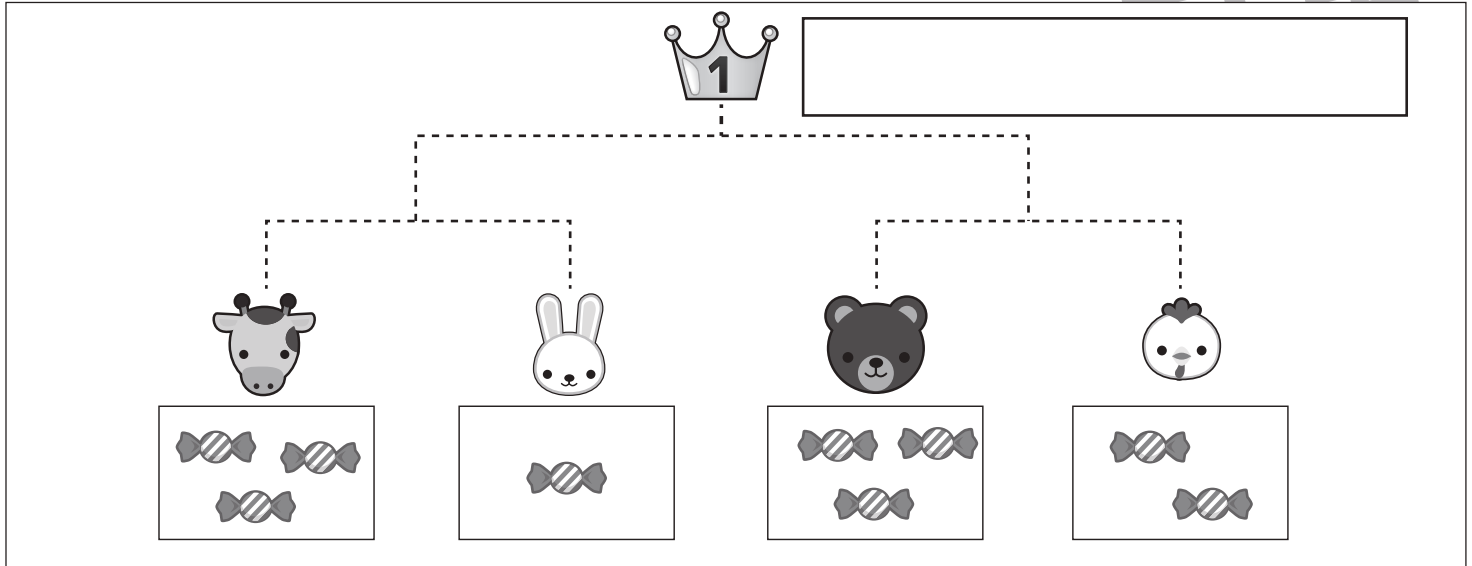


おうちで、やろう。

Study at home. 小学校受験の家庭学習教材

推理：条件推理⑱

動物たちがトーナメント勝負をします。トーナメントは点線で結んである2匹の勝負です。勝負はそれぞれの動物たちの持っている飴の数です。飴の数を比べて多い方が勝ちです。勝った動物は負けた動物の持っている飴をもらって次の勝負に進み、点線で結んである動物と勝負します。この約束で順番に勝負をして一番になった動物に○をつけます。そして一番になった動物が持っている飴の数だけ王冠の隣ある四角に○をかきます。また、それぞれの動物がどのようにトーナメントを進んだか点線をなぞってみましょう。



※1. このプリントは、しながわ・目黒こどもスクールのウェブサイトでダウンロードができます。無断複写・引用はご遠慮ください。

※2. このプリントを活用したオンライン授業のスケジュールは、しながわ・目黒こどもスクールのウェブサイトでご確認ください。

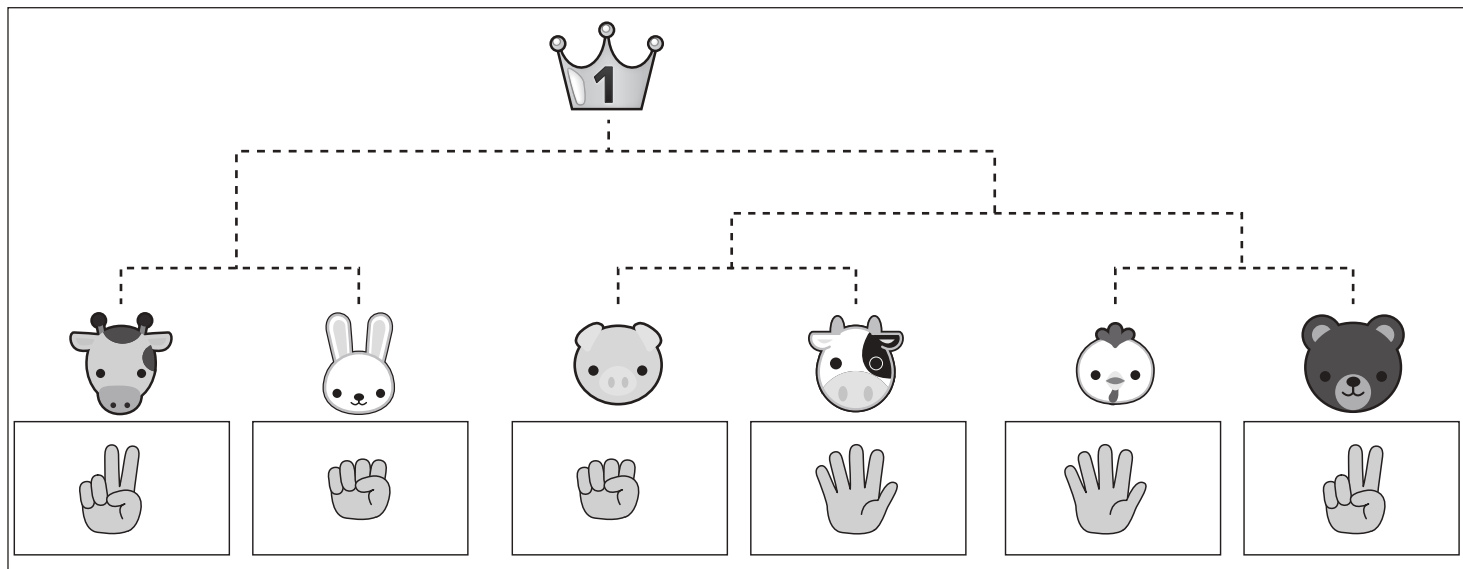
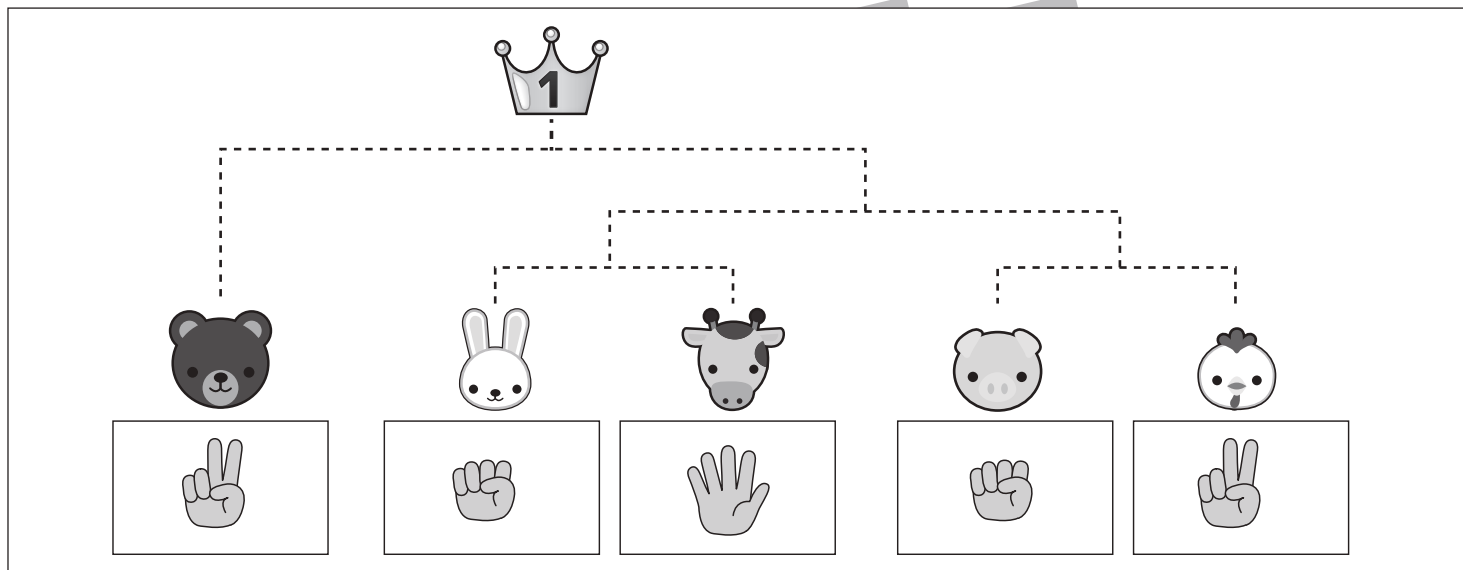
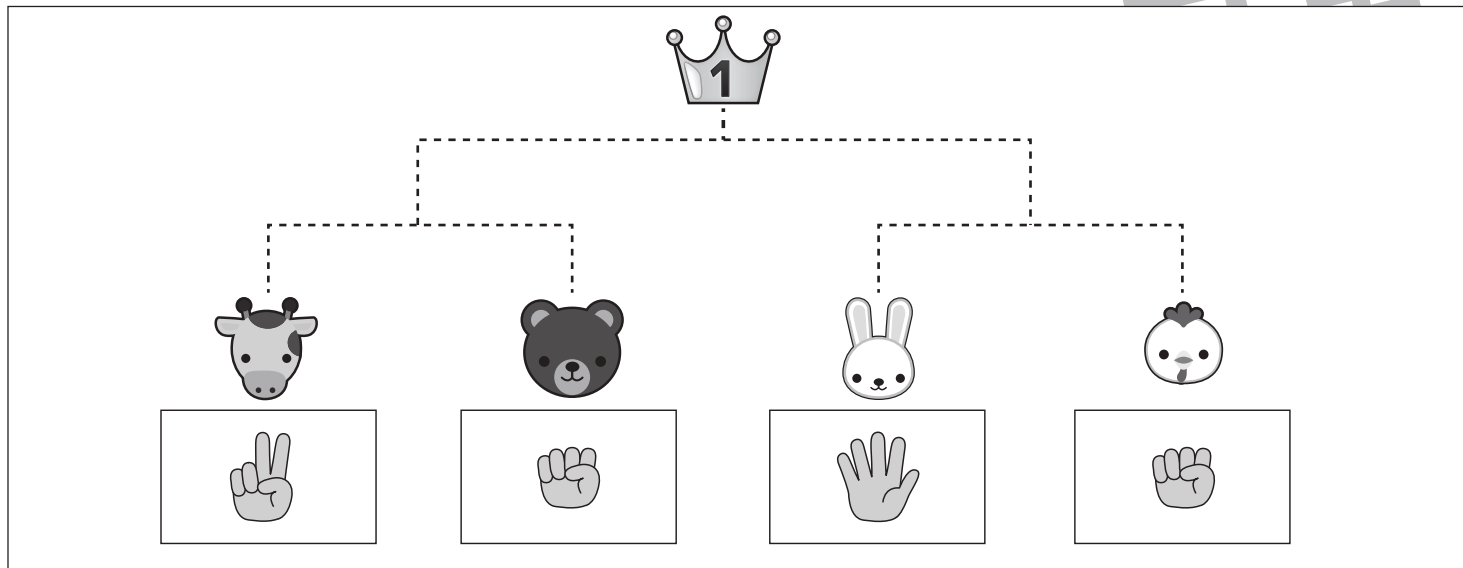


おうちで、やろう。

Study at home. 小学校受験の家庭学習教材

推理：条件推理⑳

動物たちがトーナメント勝負をします。トーナメントは点線で結んである2匹の勝負です。勝負はじゃんけんです。動物たちの下の四角の中の手を出して勝負をします。勝った動物は次の勝負に進み、点線で結んである動物と勝負します。この約束で順番に勝負をして一番になった動物に○をつけます。また、それぞれの動物がどのようにトーナメントを進んだか点線をなぞってみましょう。



※1. このプリントは、しながわ・目黒こどもスクールのウェブサイトでダウンロードができます。無断複写・引用はご遠慮ください。

※2. このプリントを活用したオンライン授業のスケジュールは、しながわ・目黒こどもスクールのウェブサイトでご確認ください。

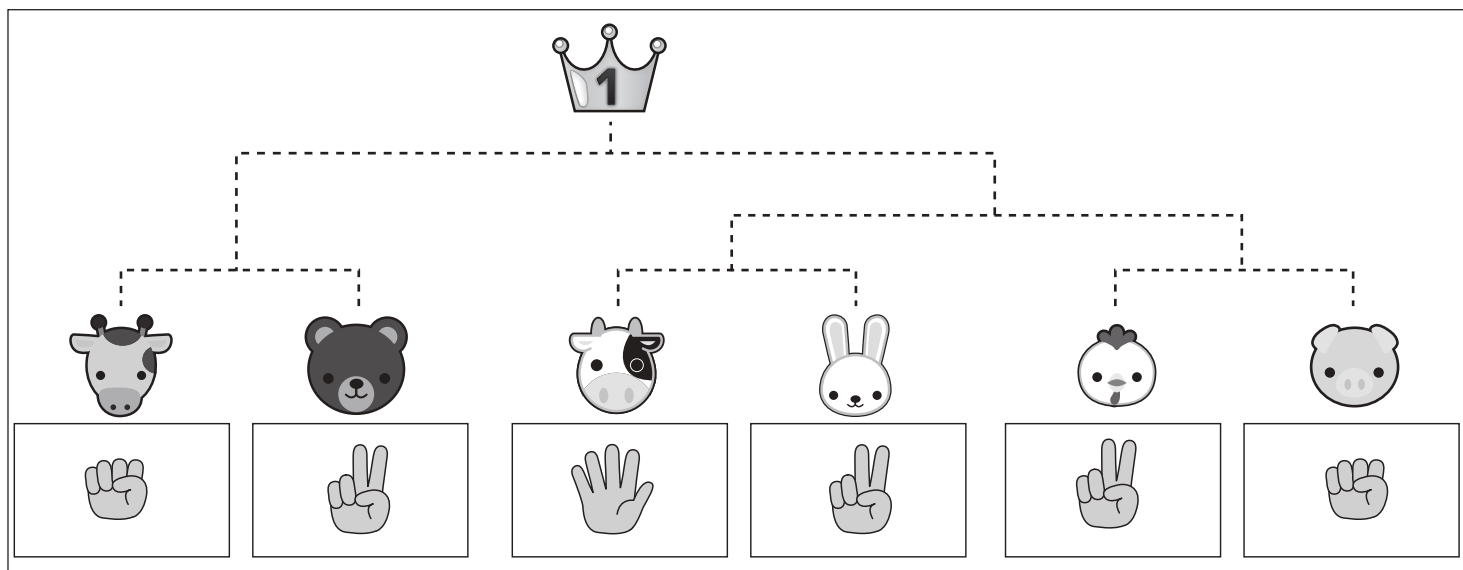
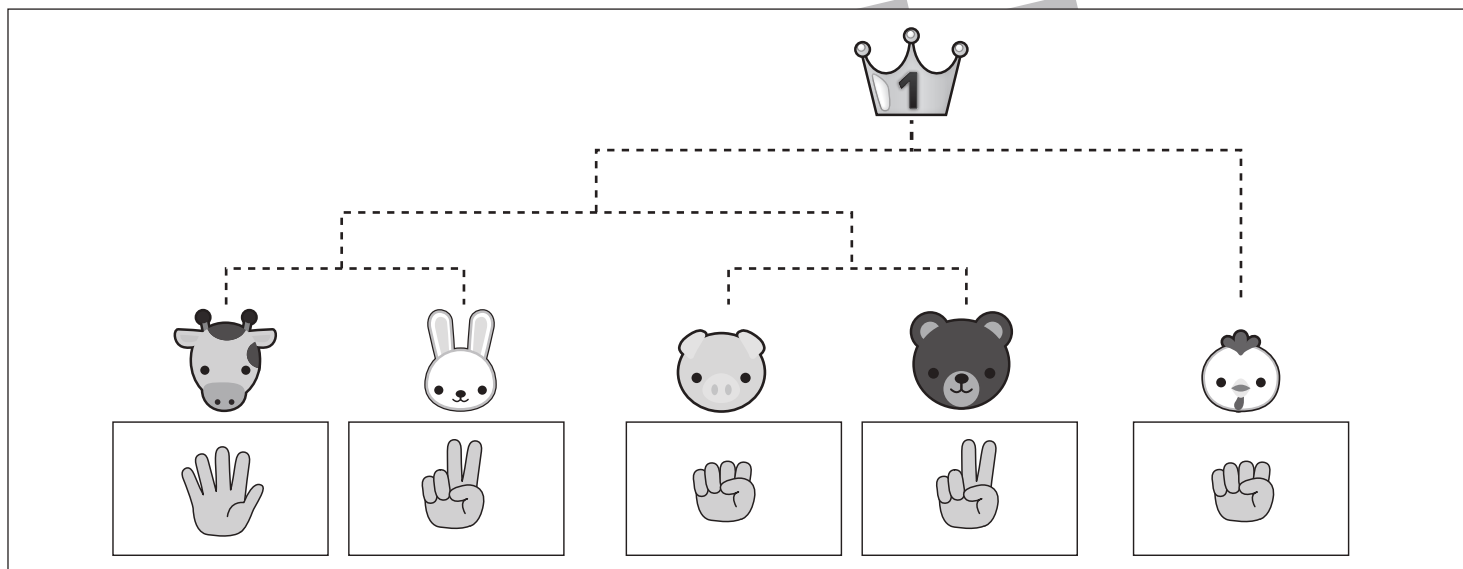
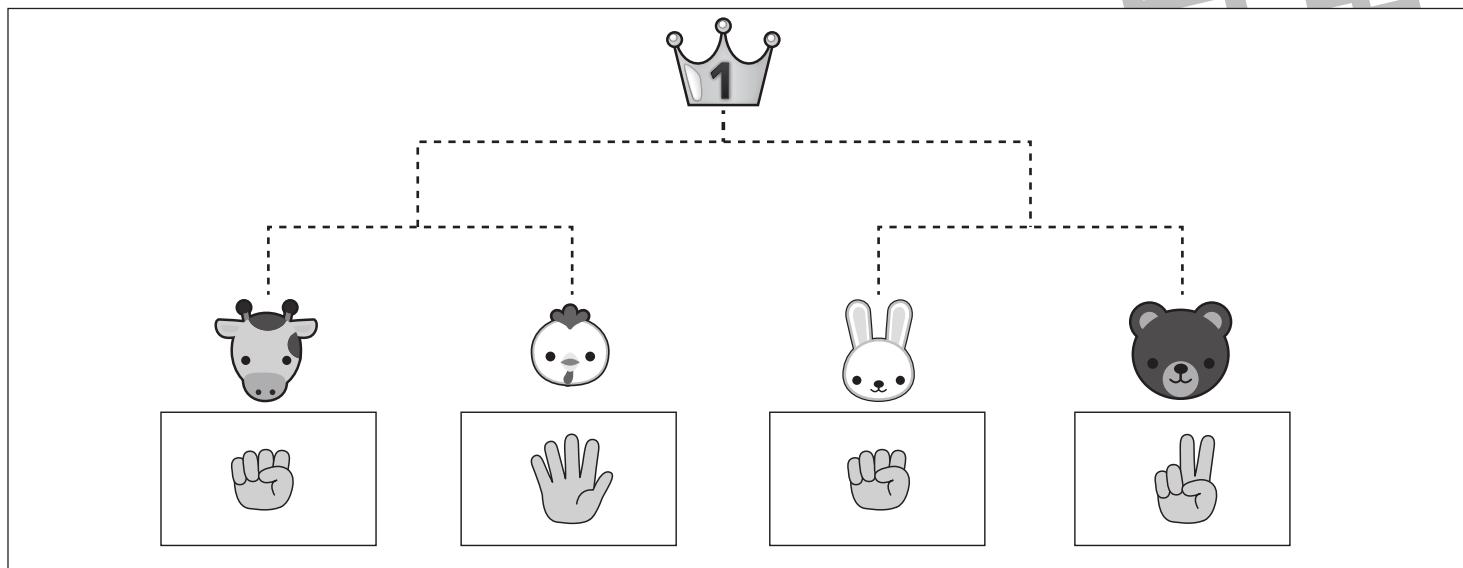


おうちで、やろう。

Study at home. 小学校受験の家庭学習教材

推理：条件推理⑳

動物たちがトーナメント勝負をします。トーナメントは点線で結んである2匹の勝負です。勝負はじゃんけんです。動物たちの下の四角の中の手を出して勝負をします。勝った動物は次の勝負に進み、点線で結んである動物と勝負します。このとき次の勝負で出す手はさっき勝負して負けた動物の手を出します。この約束で順番に勝負をしていき一番になった動物に○をつけます。また、それぞれの動物がどのようにトーナメントを進んだか点線をなぞってみましょう。



※1. このプリントは、しながわ・目黒こどもスクールのウェブサイトからダウンロードができます。無断複写・引用はご遠慮ください。

※2. このプリントを活用したオンライン授業のスケジュールは、しながわ・目黒こどもスクールのウェブサイトでご確認ください。