







おうちで、やろう。



Study at home. 小学校受験の家庭学習教材



言語：音の数⑩

四角の中には虫が2匹います。それぞれの虫の名前の数だけ下の○を塗ります。また、2匹の虫の音の数を比べて違う数だけ右の四角に○をかきます。

 <div><div>○ ○ ○ ○</div><div>○ ○ ○ ○</div></div>	 <div><div>○ ○ ○ ○</div><div>○ ○ ○ ○</div></div>	
--	--	--

 <div><div>○ ○ ○ ○</div><div>○ ○ ○ ○</div></div>	 <div><div>○ ○ ○ ○</div><div>○ ○ ○ ○</div></div>	
---	---	--

 <div><div>○ ○ ○ ○</div><div>○ ○ ○ ○</div></div>	 <div><div>○ ○ ○ ○</div><div>○ ○ ○ ○</div></div>	
--	--	--

 <div><div>○ ○ ○ ○</div><div>○ ○ ○ ○</div></div>	 <div><div>○ ○ ○ ○</div><div>○ ○ ○ ○</div></div>	
--	--	--

※1. このプリントは、しながわ・目黒こどもスクールのウェブサイトでダウンロードができます。無断複写・引用はご遠慮ください。

※2. このプリントを活用したオンライン授業のスケジュールは、しながわ・目黒こどもスクールのウェブサイトでご確認ください。











おうちで、やろう。





Study at home. 小学校受験の家庭学習教材





言語：音の数⑪

四角の中には動物が2匹います。それぞれの動物の名前の数だけ下の○を塗ります。また、2匹の動物の音の数を合わせた数だけ右の四角に○をかきます。

 	 	
--	--	--

 	 	
---	---	--

 	 	
--	--	--

 	 	
--	--	--

※1. このプリントは、しながわ・目黒こどもスクールのウェブサイトでダウンロードができます。無断複写・引用はご遠慮ください。

※2. このプリントを活用したオンライン授業のスケジュールは、しながわ・目黒こどもスクールのウェブサイトでご確認ください。



おうちで、やろう。

Study at home. 小学校受験の家庭学習教材

図形：折り重ね③⑩

長四角を矢印の方向へ折り重ねたときの見え方を考えます。まず、太い線で折り重ねてから、次に点線を折り重ねます。このときの見え方を考えてすぐ右の四角にかきます。もし、間違えてしまったら一番右の四角にかきなおしましょう。正しい答えをかくと数字がみえてきますよ。

①

②

③

④

※ 1. このプリントは、しながわ・目黒こどもスクールのウェブサイトでダウンロードができます。無断複写・引用はご遠慮ください。

※ 2. このプリントを活用したオンライン授業のスケジュールは、しながわ・目黒こどもスクールのウェブサイトでご確認ください。





おうちで、やろう。

Study at home. 小学校受験の家庭学習教材

図形：折り重ね③①

長四角を矢印の方向へ折り重ねたときの見え方を考えます。まず、太い線で折り重ねてから、次に点線を折り重ねます。このときの見え方を考えてすぐ右の四角にかきます。もし、間違えてしまったら一番右の四角にかきなおしましょう。

①

②

③

④

※ 1. このプリントは、しながわ・目黒こどもスクールのウェブサイトでダウンロードができます。無断複写・引用はご遠慮ください。

※ 2. このプリントを活用したオンライン授業のスケジュールは、しながわ・目黒こどもスクールのウェブサイトでご確認ください。






おうちで、やろう。

Study at home. 小学校受験の家庭学習教材

図形：折り重ね③②

長四角を矢印の方向へ折り重ねたときの見え方を考えます。このときの見え方を考えてすぐ下の四角にかきます。もし、間違えてしまったら一番下の四角にかきなおしましょう。



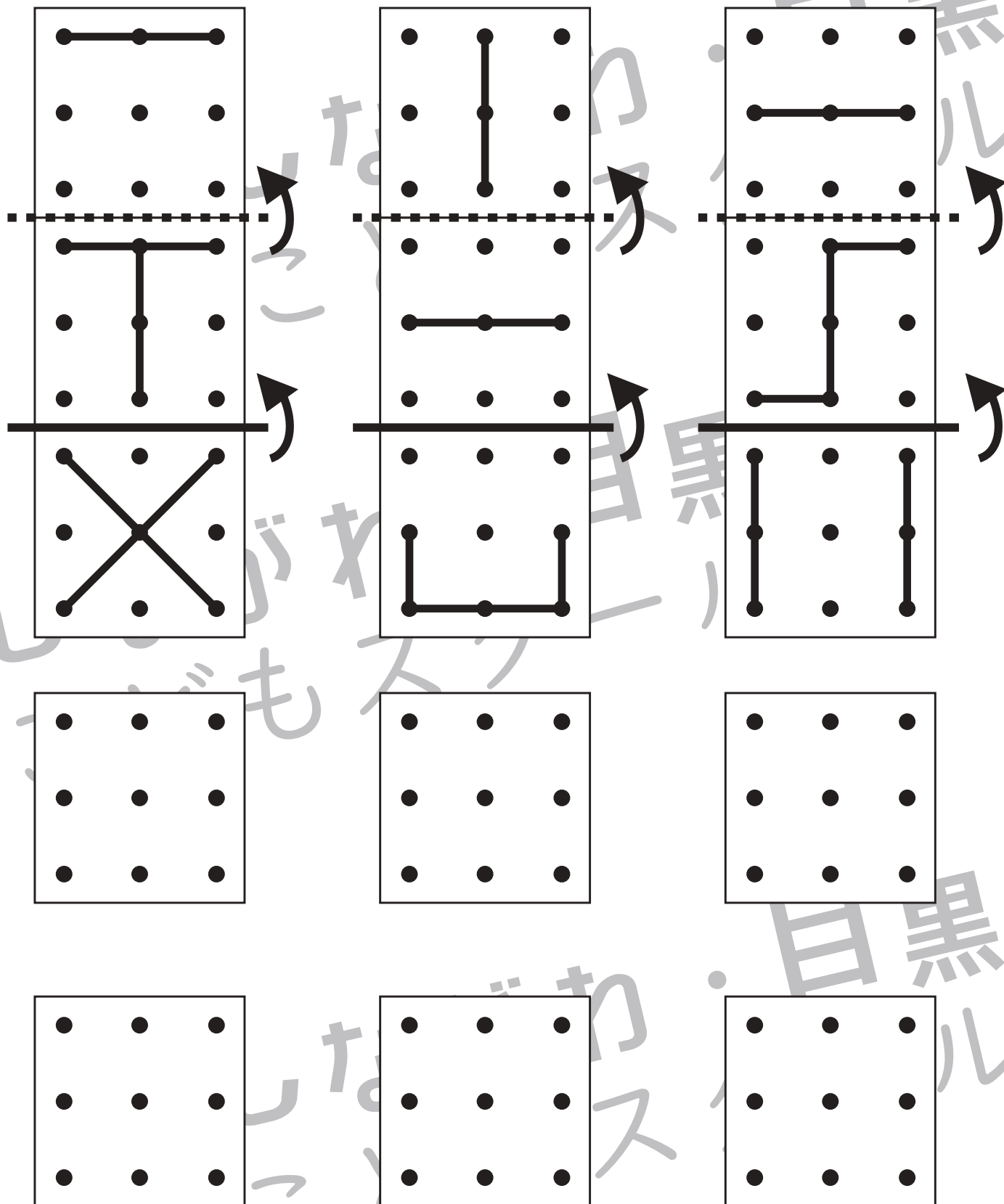
※ 1. このプリントは、しながわ・目黒こどもスクールのウェブサイトでダウンロードができます。無断複写・引用はご遠慮ください。

※ 2. このプリントを活用したオンライン授業のスケジュールは、しながわ・目黒こどもスクールのウェブサイトでご確認ください。





長四角を矢印の方向へ折り重ねたときの見え方を考えます。まず、太い線で折り重ねてから、次に点線を折り重ねます。このときの見え方を考えてすぐ下の四角にかきます。もし、間違えてしまったら一番下の四角にかきなおしましょう。









































おうちで、やろう。


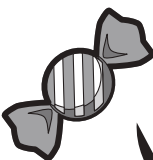
















Study at home. 小学校受験の家庭学習教材



















推理：構成①

上の四角の中の絵を半分に切りました。下のどれとどれを組み合わせると元の形になりますか。正しい組み合わせを選んで2つに○をつけます。下の四角の絵は向きがかわっているものもありますので、気をつけましょう。

※ 1. このプリントは、しながわ・目黒こどもスクールのウェブサイトダウンロードができます。無断複写・引用はご遠慮ください。

※ 2. このプリントを活用したオンライン授業のスケジュールは、しながわ・目黒こどもスクールのウェブサイトでご確認ください。









































おうちで、やろう。



















Study at home. 小学校受験の家庭学習教材




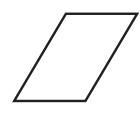






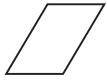







推理：構成②

上の四角の中の絵を半分に切りました。下のどれとどれを組み合わせると元の形になりますか。正しい組み合わせを選んで2つに○をつけます。下の四角の絵は向きがかわっているものもありますので、気をつけましょう。

※1. このプリントは、しながわ・目黒こどもスクールのウェブサイトでダウンロードができます。無断複写・引用はご遠慮ください。

※2. このプリントを活用したオンライン授業のスケジュールは、しながわ・目黒こどもスクールのウェブサイトでご確認ください。



おうちで、やろう。

Study at home. 小学校受験の家庭学習教材

推理：構成③

上の四角の中の絵を半分に切りました。下のどれとどれを組み合わせると元の形になりますか。正しい組み合わせを選んで2つに○をつけます。下の四角の絵は向きがかわっているものもありますので、気をつけましょう。

<table border="1" style="width: 100%; border-collapse: collapse;"> <tr> <td style="width: 33%;">▽ ↑ ○</td> <td style="width: 33%;">○ ↓ ▷</td> </tr> <tr> <td>→ ☆ ↘</td> <td>↖ ☆ ←</td> </tr> <tr> <td>○ ↑ △</td> <td>→ ☆ ↘</td> </tr> </table>	▽ ↑ ○	○ ↓ ▷	→ ☆ ↘	↖ ☆ ←	○ ↑ △	→ ☆ ↘	<table border="1" style="width: 100%; border-collapse: collapse;"> <tr> <td style="width: 33%;">☆ ↘ ▯</td> <td style="width: 33%;">☆ ↘ ▯</td> </tr> <tr> <td>→ ▽ ↓</td> <td>☆ ↖ ▯</td> </tr> <tr> <td>↑ △ →</td> <td>↑ ▽ ←</td> </tr> </table>	☆ ↘ ▯	☆ ↘ ▯	→ ▽ ↓	☆ ↖ ▯	↑ △ →	↑ ▽ ←						
▽ ↑ ○	○ ↓ ▷																		
→ ☆ ↘	↖ ☆ ←																		
○ ↑ △	→ ☆ ↘																		
☆ ↘ ▯	☆ ↘ ▯																		
→ ▽ ↓	☆ ↖ ▯																		
↑ △ →	↑ ▽ ←																		
<table border="1" style="width: 100%; border-collapse: collapse;"> <tr> <td style="width: 33%;">Elephant (side)</td> <td style="width: 33%;">Rabbit (front)</td> <td style="width: 33%;">Panda (back)</td> </tr> <tr> <td>Panda (front)</td> <td>Rabbit (side)</td> <td>Elephant (back)</td> </tr> <tr> <td>Frog (side)</td> <td>Koala (front)</td> <td>Horse (side)</td> </tr> </table>	Elephant (side)	Rabbit (front)	Panda (back)	Panda (front)	Rabbit (side)	Elephant (back)	Frog (side)	Koala (front)	Horse (side)	<table border="1" style="width: 100%; border-collapse: collapse;"> <tr> <td style="width: 33%;">Paw print (side)</td> <td style="width: 33%;">Bear (front)</td> <td style="width: 33%;">Checkered square (side)</td> </tr> <tr> <td>Checkered square (front)</td> <td>Paw print (back)</td> <td>Bear (side)</td> </tr> <tr> <td>Koala (side)</td> <td>Flower (front)</td> <td>Heart (side)</td> </tr> </table>	Paw print (side)	Bear (front)	Checkered square (side)	Checkered square (front)	Paw print (back)	Bear (side)	Koala (side)	Flower (front)	Heart (side)
Elephant (side)	Rabbit (front)	Panda (back)																	
Panda (front)	Rabbit (side)	Elephant (back)																	
Frog (side)	Koala (front)	Horse (side)																	
Paw print (side)	Bear (front)	Checkered square (side)																	
Checkered square (front)	Paw print (back)	Bear (side)																	
Koala (side)	Flower (front)	Heart (side)																	

※ 1. このプリントは、しながわ・目黒こどもスクールのウェブサイトでダウンロードができます。無断複写・引用はご遠慮ください。

※ 2. このプリントを活用したオンライン授業のスケジュールは、しながわ・目黒こどもスクールのウェブサイトでご確認ください。