













# おうちで、やろう。





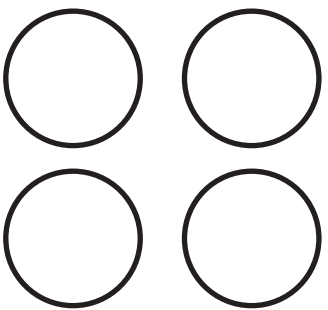
Study at home. 小学校受験の家庭学習教材





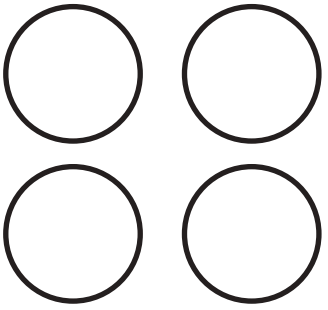
言語：音の数⑩

四角の中には虫が2匹います。それぞれの虫の名前の数だけ下の○を塗ります。また、2匹の虫の音の数を比べて違う数だけ右の四角に○をかきます。

 	 	
--	--	---

 	 	
---	---	--

 	 	
--	--	---

 	 	
--	--	---

※1. このプリントは、しながわ・目黒こどもスクールのウェブサイトでダウンロードができます。無断複写・引用はご遠慮ください。

※2. このプリントを活用したオンライン授業のスケジュールは、しながわ・目黒こどもスクールのウェブサイトでご確認ください。







# おうちで、やろう。



Study at home. 小学校受験の家庭学習教材



言語：音の数⑪

四角の中には動物が2匹います。それぞれの動物の名前の数だけ下の○を塗ります。また、2匹の動物の音の数を合わせた数だけ右の四角に○をかきます。

<p>ぞう</p>  <p>● ● ○ ○</p> <p>○ ○ ○ ○</p>	<p>わに</p>  <p>● ● ○ ○</p> <p>○ ○ ○ ○</p>	<p>○ × 4</p>
---	---	--------------

<p>うさぎ</p>  <p>● ● ● ○</p> <p>○ ○ ○ ○</p>	<p>いぬ</p>  <p>● ● ○ ○</p> <p>○ ○ ○ ○</p>	<p>○ × 5</p>
---	--	--------------

<p>らいおん</p>  <p>● ● ● ●</p> <p>○ ○ ○ ○</p>	<p>うし</p>  <p>● ● ○ ○</p> <p>○ ○ ○ ○</p>	<p>○ × 6</p>
---	---	--------------

<p>にわとり</p>  <p>● ● ● ●</p> <p>○ ○ ○ ○</p>	<p>おおかみ</p>  <p>● ● ● ●</p> <p>○ ○ ○ ○</p>	<p>○ × 8</p>
---	---	--------------

※1. このプリントは、しながわ・目黒こどもスクールのウェブサイトでダウンロードができます。無断複写・引用はご遠慮ください。

※2. このプリントを活用したオンライン授業のスケジュールは、しながわ・目黒こどもスクールのウェブサイトでご確認ください。



# おうちで、やろう。

Study at home. 小学校受験の家庭学習教材

## 図形：折り重ね③〇

長四角を矢印の方向へ折り重ねたときの見え方を考えます。まず、太い線で折り重ねてから、次に点線を折り重ねます。このときの見え方を考えてすぐ右の四角にかきます。もし、間違えてしまったら一番右の四角にかきなおしましょう。正しい答えをかくと数字がみえてきますよ。

①

②

③

④

※1. このプリントは、しながわ・目黒こどもスクールのウェブサイトでダウンロードができます。無断複写・引用はご遠慮ください。

※2. このプリントを活用したオンライン授業のスケジュールは、しながわ・目黒こどもスクールのウェブサイトでご確認ください。



# おうちで、やろう。

Study at home. 小学校受験の家庭学習教材

## 図形：折り重ね③①

長四角を矢印の方向へ折り重ねたときの見え方を考えます。まず、太い線で折り重ねてから、次に点線を折り重ねます。このときの見え方を考えてすぐ右の四角にかきます。もし、間違えてしまったら一番右の四角にかきなおしましょう。

①

②

③

④

※1. このプリントは、しながわ・目黒こどもスクールのウェブサイトでダウンロードができます。無断複写・引用はご遠慮ください。  
 ※2. このプリントを活用したオンライン授業のスケジュールは、しながわ・目黒こどもスクールのウェブサイトでご確認ください。



# おうちで、やろう。

Study at home. 小学校受験の家庭学習教材

## 図形：折り重ね③②

長四角を矢印の方向へ折り重ねたときの見え方を考えます。このときの見え方を考えてすぐ下の四角にかきます。もし、間違えてしまったら一番下の四角にかきなおしましょう。

The diagram illustrates a sequence of three 3x4 dot grids. In the first grid, a horizontal line is drawn between the top and middle rows, and a vertical line is drawn between the rightmost and second-to-right columns. An arrow indicates the top section is folded down. The second grid shows the result: the top row is now on top of the middle row, and the rightmost column is on top of the second-to-right column. A second horizontal line is drawn between the middle and bottom rows, and a second vertical line is drawn between the rightmost and second-to-right columns. An arrow indicates the middle section is folded down. The third grid shows the final result: the top two rows are on top of the bottom row, and the rightmost column is on top of the second-to-right column. Below this sequence are three blank 3x4 dot grids for practice.

※1. このプリントは、しながわ・目黒こどもスクールのウェブサイトでダウンロードができます。無断複写・引用はご遠慮ください。

※2. このプリントを活用したオンライン授業のスケジュールは、しながわ・目黒こどもスクールのウェブサイトでご確認ください。

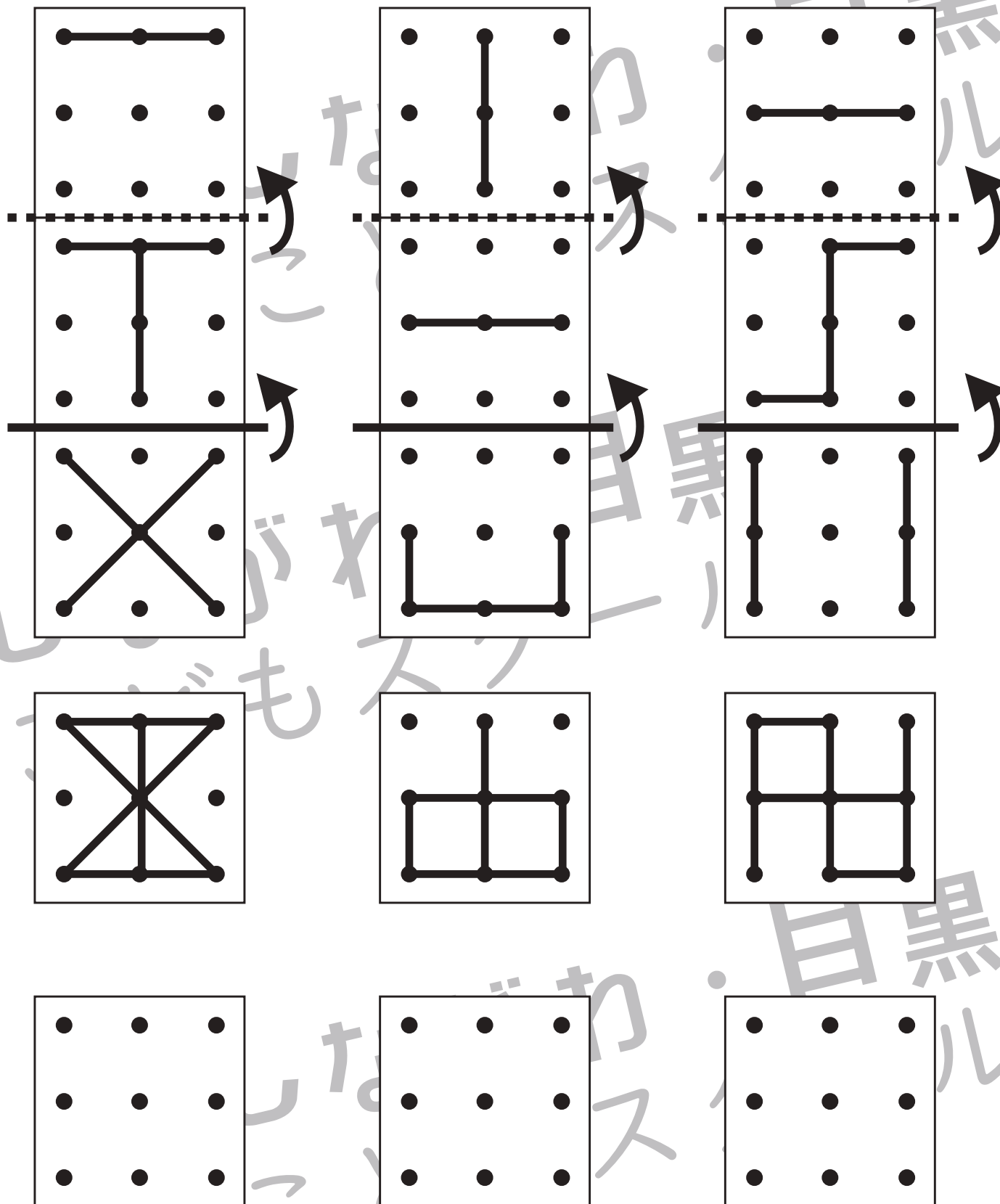


# おうちで、やろう。

Study at home. 小学校受験の家庭学習教材

## 図形：折り重ね③③

長四角を矢印の方向へ折り重ねたときの見え方を考えます。まず、太い線で折り重ねてから、次に点線を折り重ねます。このときの見え方を考えてすぐ下の四角にかきます。もし、間違えてしまったら一番下の四角にかきなおしましょう。



※1. このプリントは、しながわ・目黒こどもスクールのウェブサイトでダウンロードができます。無断複写・引用はご遠慮ください。

※2. このプリントを活用したオンライン授業のスケジュールは、しながわ・目黒こどもスクールのウェブサイトでご確認ください。

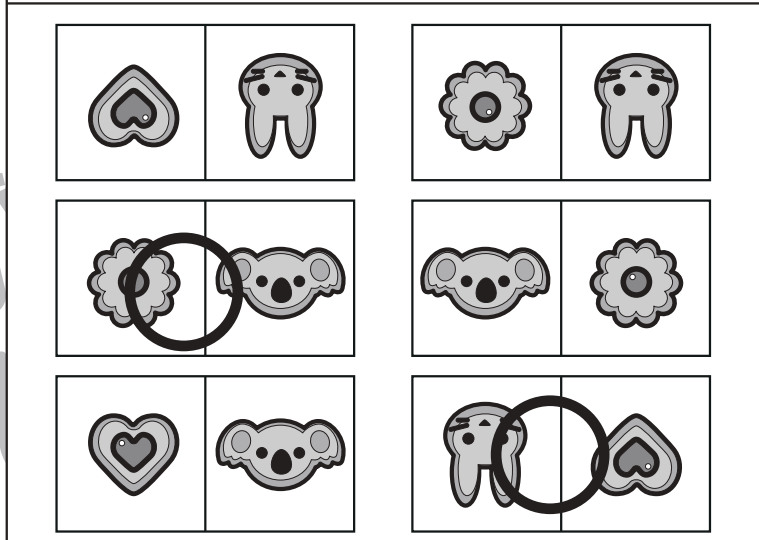

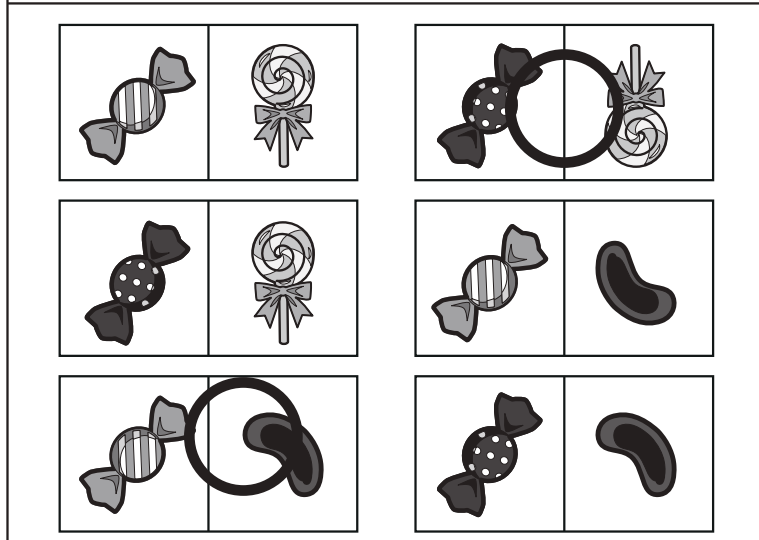



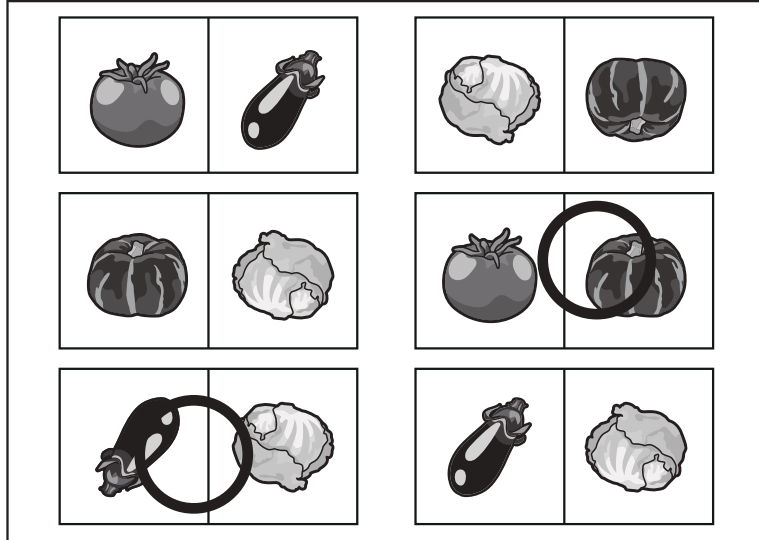
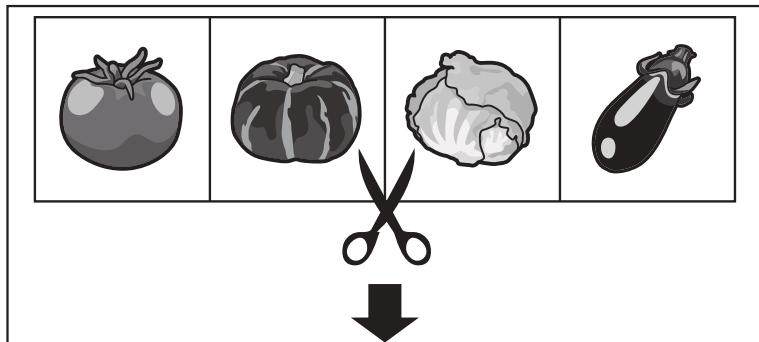


# おうちで、やろう。

Study at home. 小学校受験の家庭学習教材

推理：構成①

上の四角の中の絵を半分に切りました。下のどれとどれを組み合わせると元の形になりますか。正しい組み合わせを選んで2つに○をつけます。下の四角の絵は向きがかわっているものもありますので、気をつけましょう。



※1. このプリントは、しながわ・目黒こどもスクールのウェブサイトからダウンロードできます。無断複写・引用はご遠慮ください。

※2. このプリントを活用したオンライン授業のスケジュールは、しながわ・目黒こどもスクールのウェブサイトでご確認ください。



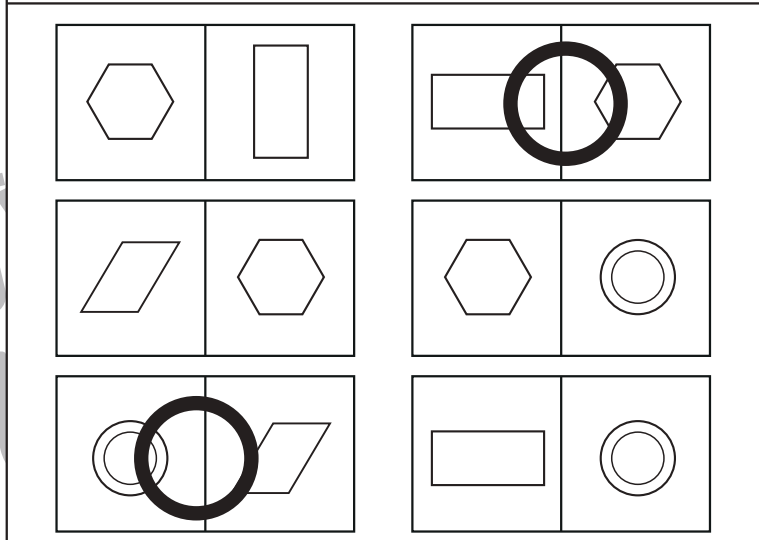
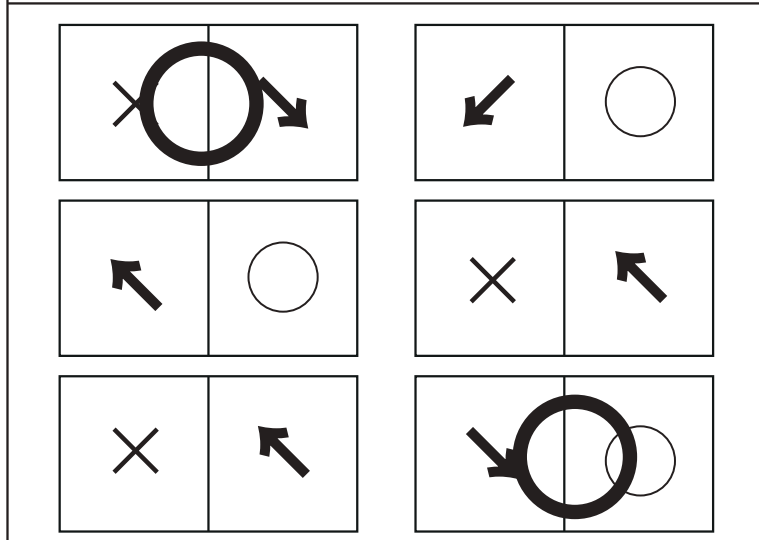

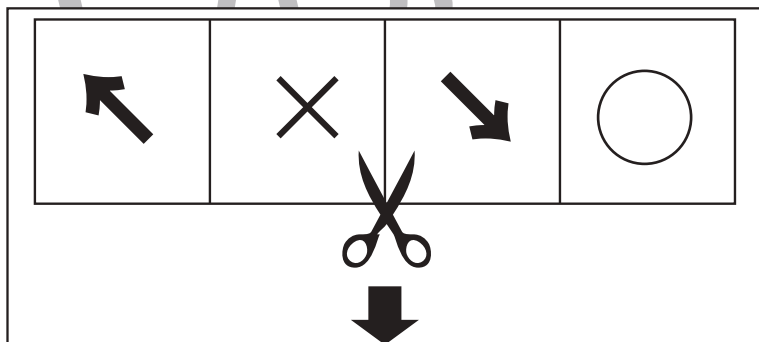
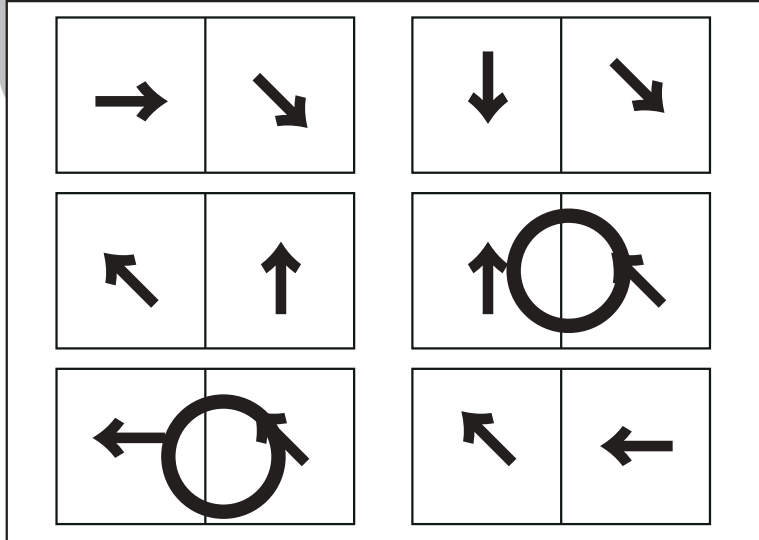
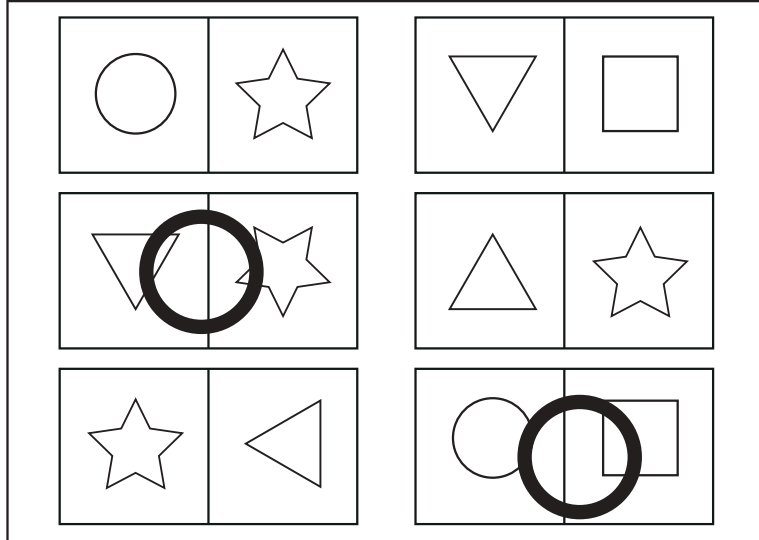
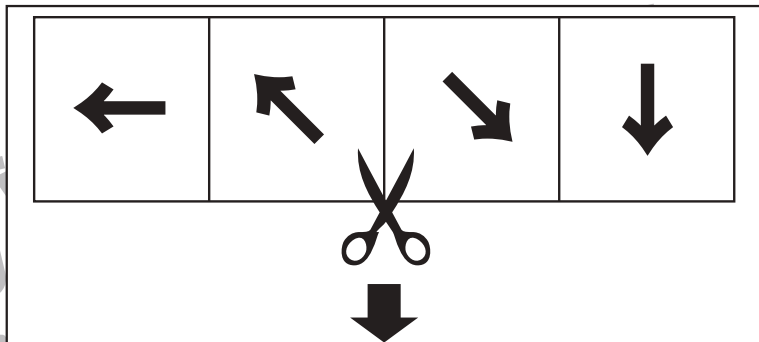
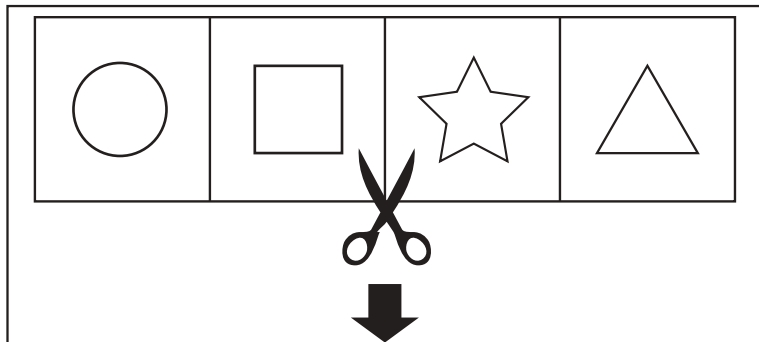


# おうちで、やろう。

Study at home. 小学校受験の家庭学習教材

## 推理：構成②

上の四角の中の絵を半分に切りました。下のどれとどれを組み合わせると元の形になりますか。正しい組み合わせを選んで2つに○をつけます。下の四角の絵は向きがかわっているものもありますので、気をつけましょう。



※1. このプリントは、しながわ・目黒こどもスクールのウェブサイトでダウンロードができます。無断複写・引用はご遠慮ください。

※2. このプリントを活用したオンライン授業のスケジュールは、しながわ・目黒こどもスクールのウェブサイトでご確認ください。







# おうちで、やろう。

Study at home. 小学校受験の家庭学習教材

推理：構成③

上の四角の中の絵を半分に切りました。下のどれとどれを組み合わせると元の形になりますか。正しい組み合わせを選んで2つに○をつけます。下の四角の絵は向きがかわっているものもありますので、気をつけましょう。





※1. このプリントは、しながわ・目黒こどもスクールのウェブサイトでダウンロードができます。無断複写・引用はご遠慮ください。  
※2. このプリントを活用したオンライン授業のスケジュールは、しながわ・目黒こどもスクールのウェブサイトでご確認ください。