




おうちで、やろう。


Study at home. 小学校受験の家庭学習教材

言語：音の数⑫

ネコは上の食べ物を食べるとその食べ物の音の数だけ矢印の方向へマスを進みます。全部食べた後のネコの場所に○をつけます。



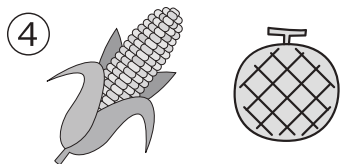
			○						
--	--	--	---	--	--	--	--	--	--



					○				
--	--	--	--	--	---	--	--	--	--



								○	
--	--	--	--	--	--	--	--	---	--



									○
--	--	--	--	--	--	--	--	--	---



									○
--	--	--	--	--	--	--	--	--	---

※1. このプリントは、しながわ・目黒こどもスクールのウェブサイトからダウンロードができます。無断複写・引用はご遠慮ください。
※2. このプリントを活用したオンライン授業のスケジュールは、しながわ・目黒こどもスクールのウェブサイトでご確認ください。



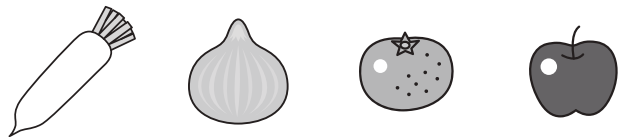
おうちで、やろう。


Study at home. 小学校受験の家庭学習教材

言語：音の数⑬


動物たちは上の食べ物を食べるとその食べ物の音の数だけ矢印の方向へマスを進みます。全部食べた後の動物たちの場所に○をつけます。


①




									
						→			
○									


②



				○					
		←							

③



	○								
									

※1. このプリントは、しながわ・目黒こどもスクールのウェブサイトでダウンロードができます。無断複写・引用はご遠慮ください。

※2. このプリントを活用したオンライン授業のスケジュールは、しながわ・目黒こどもスクールのウェブサイトでご確認ください。

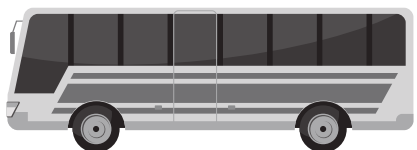






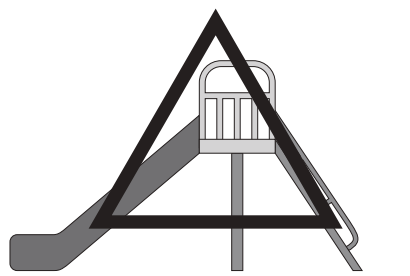





おうちで、やろう。

Study at home. 小学校受験の家庭学習教材

言語：音の理解⑳

それぞれ絵の下の○は名前の音の数だけ並んでいます。一番左がはじめの音で一番右が終わりの音です。左上の太い四角の中がお手本です。このお手本の絵の●の場所の音を考えます。他の絵の名前の中でお手本の●と同じ音があるものを見つけて△をつけます。また、同じ音の場所を塗ります。

 ○ ●	 ● ○ ○ ○ ○ ○	 ○ ○ ○
 ○ ○ ○	 ○ ○ ○ ○ ○	 ○ ○ ●
 ● ○ ○	 ● ○ ○ ○ ○ ○	 ○ ○ ○
 ○ ○ ○	 ○ ○ ○ ○ ○ ○	

※1. このプリントは、しながわ・目黒こどもスクールのウェブサイトでダウンロードができます。無断複写・引用はご遠慮ください。

※2. このプリントを活用したオンライン授業のスケジュールは、しながわ・目黒こどもスクールのウェブサイトでご確認ください。

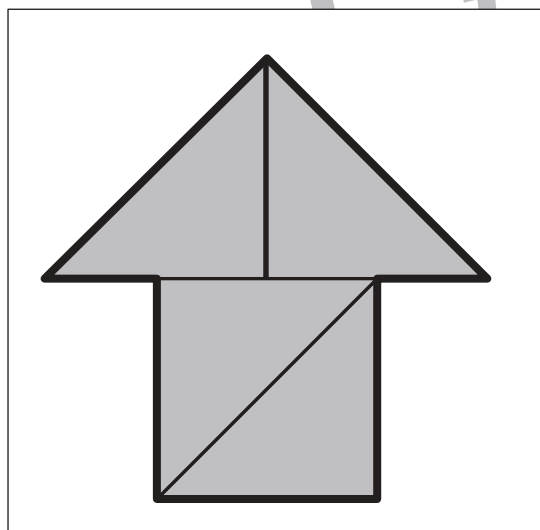


おうちで、やろう。

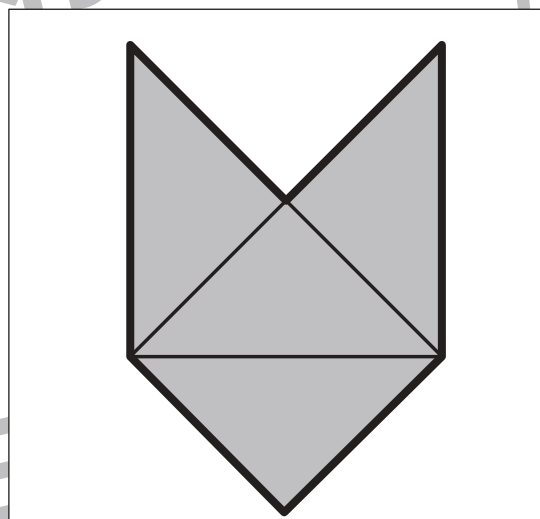
Study at home. 小学校受験の家庭学習教材

図形：三角パズル⑥

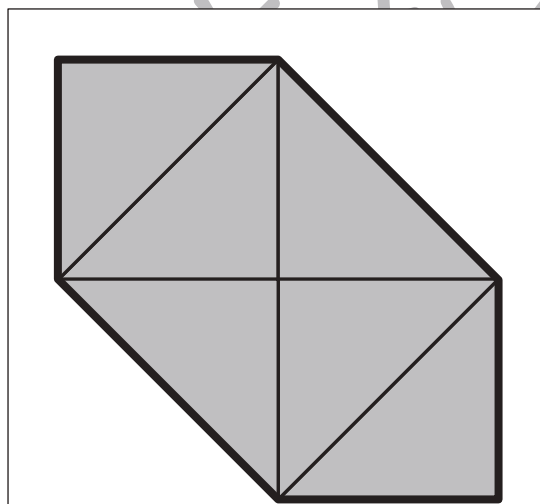
上の三角パズルを使って下の形を作ります。このとき、三角パズルが何枚あればそれぞれの形を作ることができますか。その数だけ下の四角に○をかきます。パズルは重ねてはいけません。



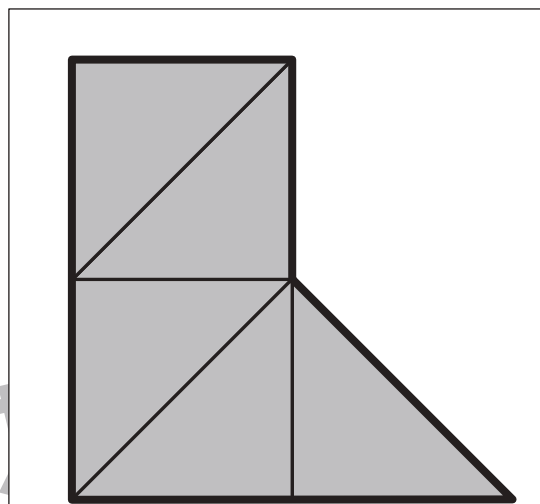
○ × 4



○ × 4



○ × 6



○ × 5

※1. このプリントは、しながわ・目黒こどもスクールのウェブサイトでダウンロードができます。無断複写・引用はご遠慮ください。

※2. このプリントを活用したオンライン授業のスケジュールは、しながわ・目黒こどもスクールのウェブサイトでご確認ください。



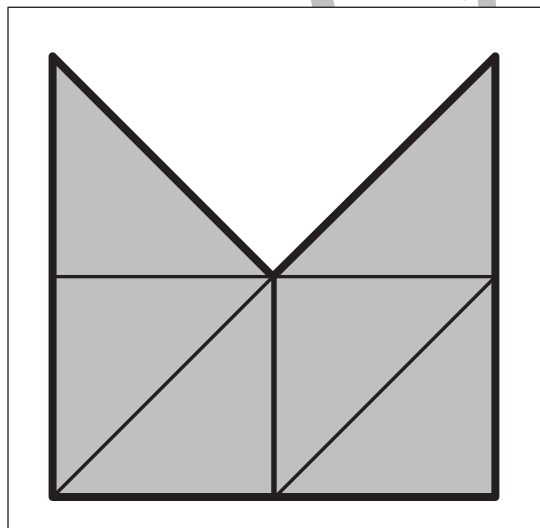


おうちで、やろう。

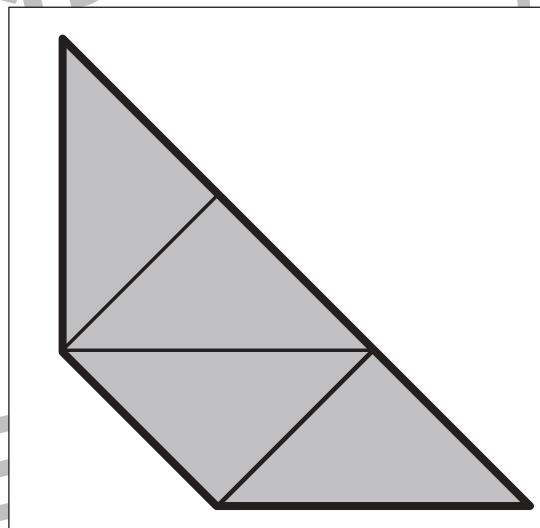
Study at home. 小学校受験の家庭学習教材

図形：三角パズル⑦

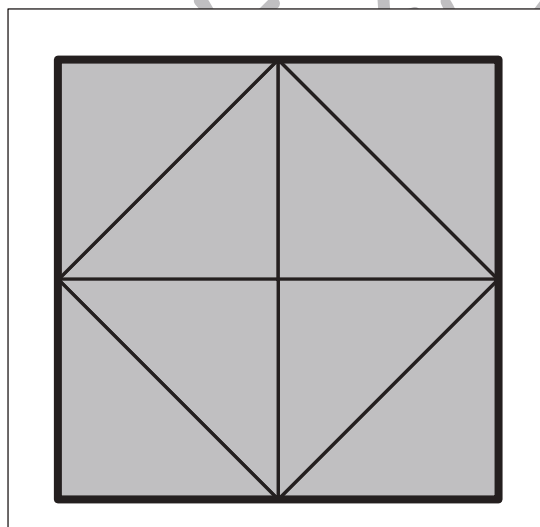
上の三角パズルを使って下の形を作ります。このとき、三角パズルが何枚あればそれぞれの形を作ることができますか。その数だけ下の四角に○をかきます。パズルは重ねてはいけません。



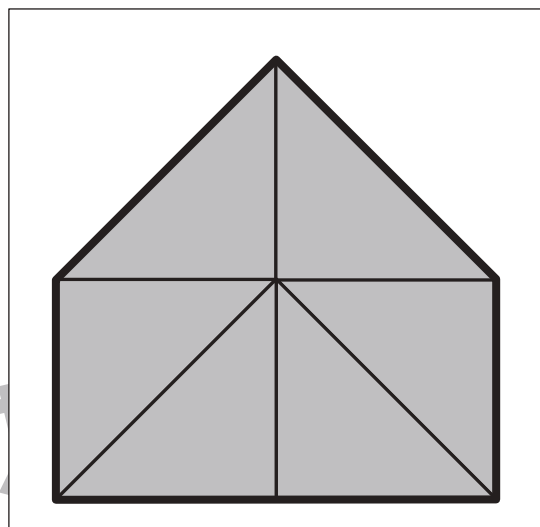
○×6



○×4



○×8



○×6

※1. このプリントは、しながわ・目黒こどもスクールのウェブサイトでダウンロードができます。無断複写・引用はご遠慮ください。
※2. このプリントを活用したオンライン授業のスケジュールは、しながわ・目黒こどもスクールのウェブサイトでご確認ください。



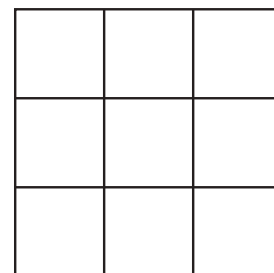
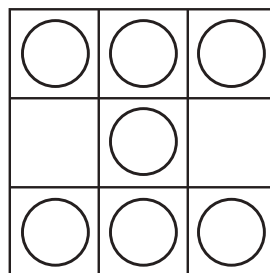
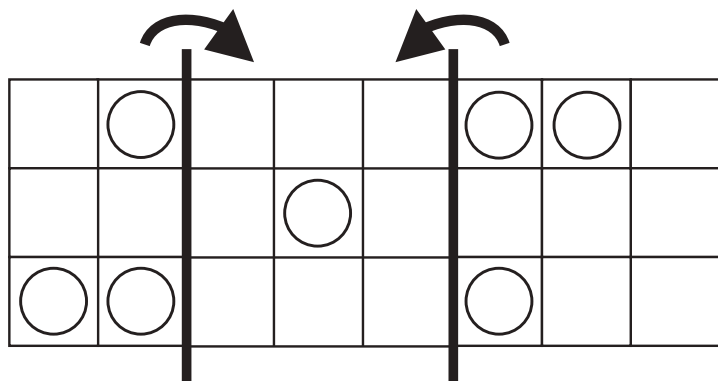
おうちで、やろう。

Study at home. 小学校受験の家庭学習教材

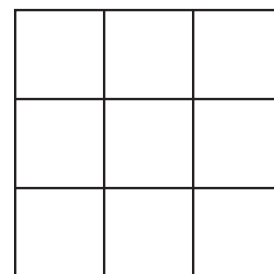
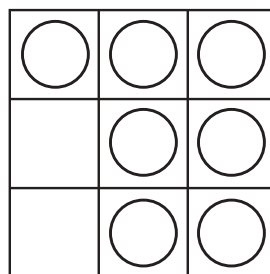
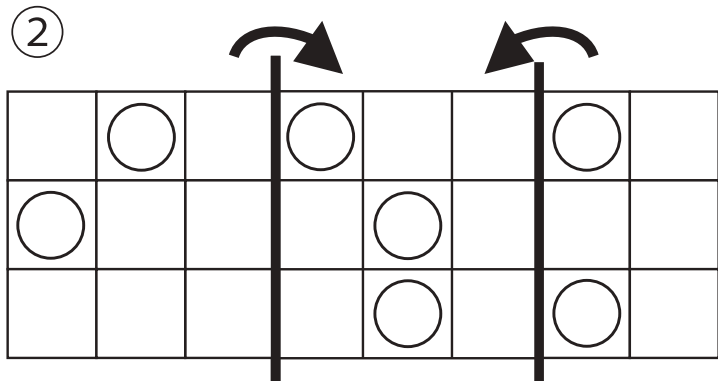
図形：折り重ね③④

太い線で矢印の方向へ折り重ねた時の見え方を考えます。答えはすぐ右の空いている四角にかきます。もし間違えてしまったら、一番右の四角にかきなおしましょう。

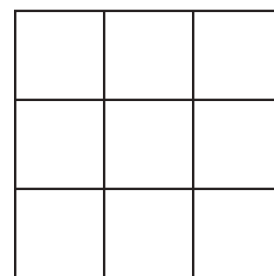
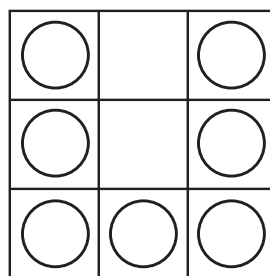
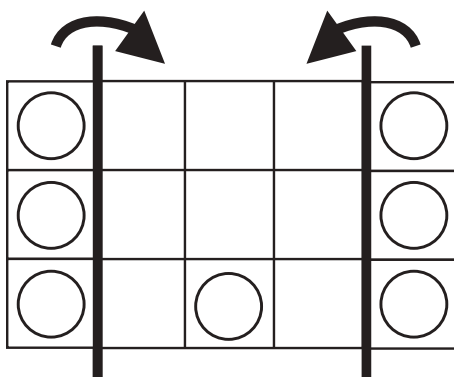
①



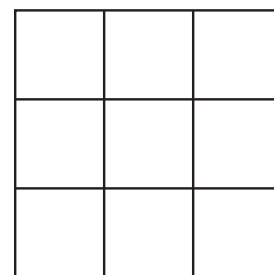
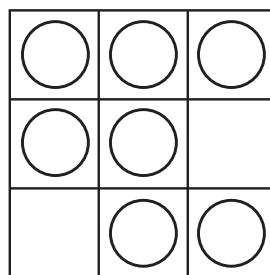
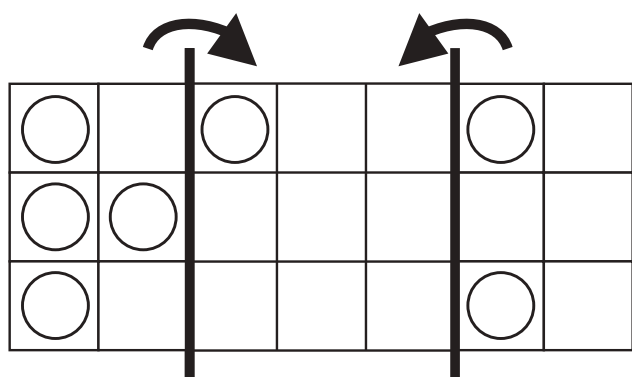
②



③



④



※1. このプリントは、しながわ・目黒こどもスクールのウェブサイトでダウンロードができます。無断複写・引用はご遠慮ください。
※2. このプリントを活用したオンライン授業のスケジュールは、しながわ・目黒こどもスクールのウェブサイトでご確認ください。





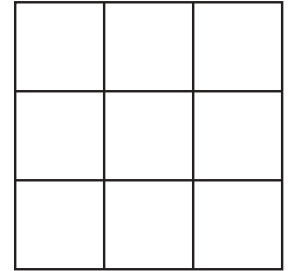
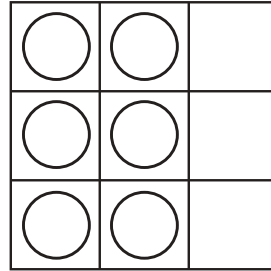
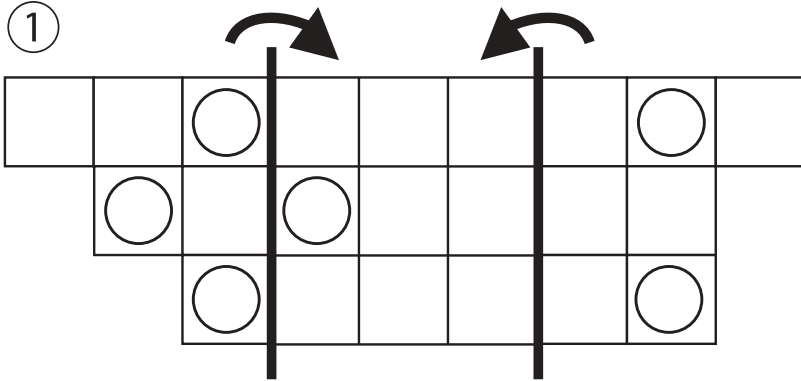
おうちで、やろう。

Study at home. 小学校受験の家庭学習教材

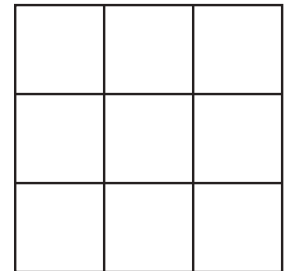
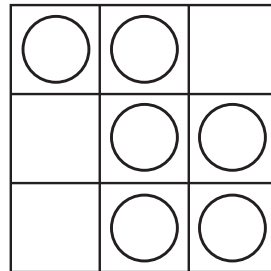
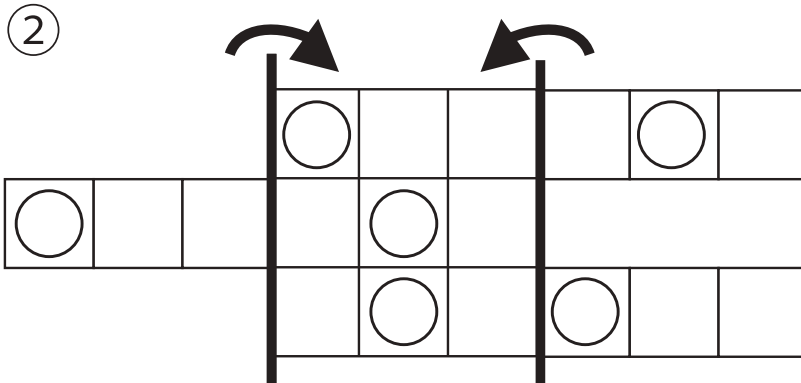
図形：折り重ね③⑤

太い線で矢印の方向へ折り重ねた時の見え方を考えます。答えはすぐ右の空いている四角にかきます。もし間違えてしまったら、一番右の四角にかきなおしましょう。

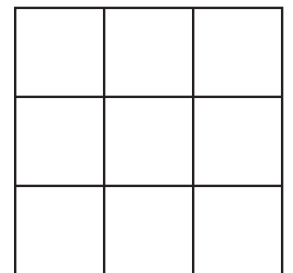
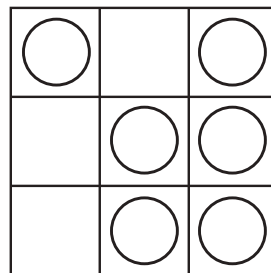
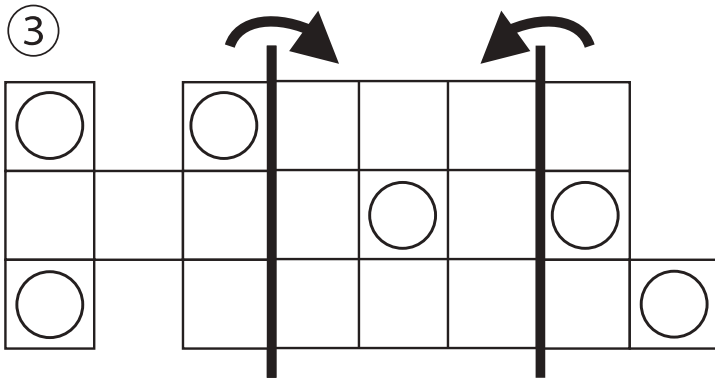
①



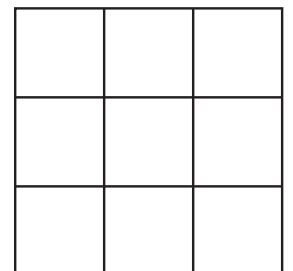
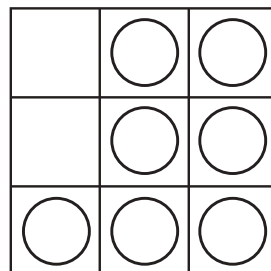
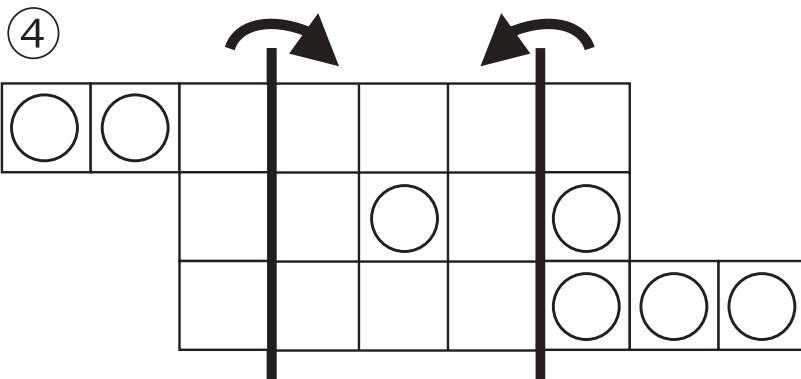
②



③



④



※1. このプリントは、しながわ・目黒こどもスクールのウェブサイトでダウンロードができます。無断複写・引用はご遠慮ください。
※2. このプリントを活用したオンライン授業のスケジュールは、しながわ・目黒こどもスクールのウェブサイトでご確認ください。





おうちで、やろう。

Study at home. 小学校受験の家庭学習教材

推理：条件推理⑳

上の四角の中が約束です。それぞれの動物は1回で○の数だけマスを進めます。この約束で上の動物と下の動物が同じ回数だけ進んだとき、一緒の場所になるのはどこですか。そのマスを塗ります。

	○
	○ ○

	○ ○ ○
	○ ○ ○ ○

① ↓

② ↓

③ ↓

④ ↓

※1. このプリントは、しながわ・目黒こどもスクールのウェブサイトでダウンロードができます。無断複写・引用はご遠慮ください。
 ※2. このプリントを活用したオンライン授業のスケジュールは、しながわ・目黒こどもスクールのウェブサイトでご確認ください。