

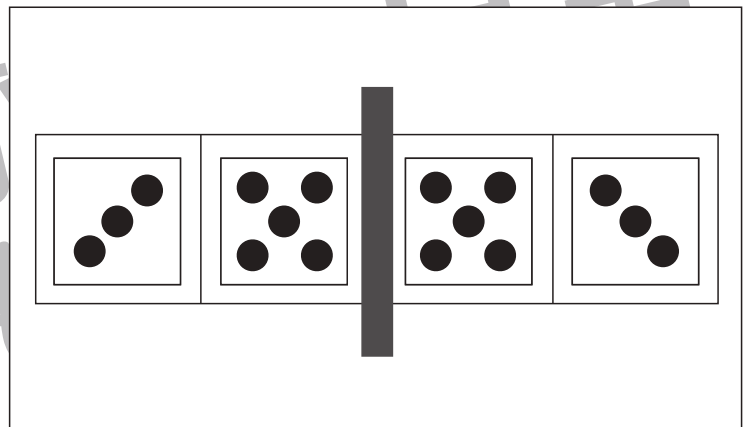
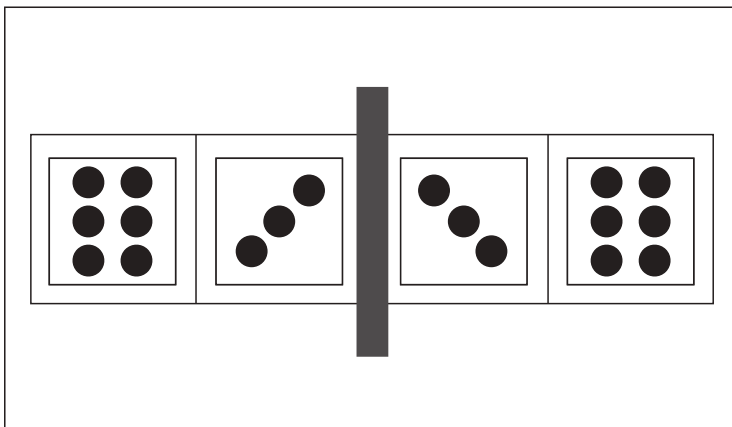
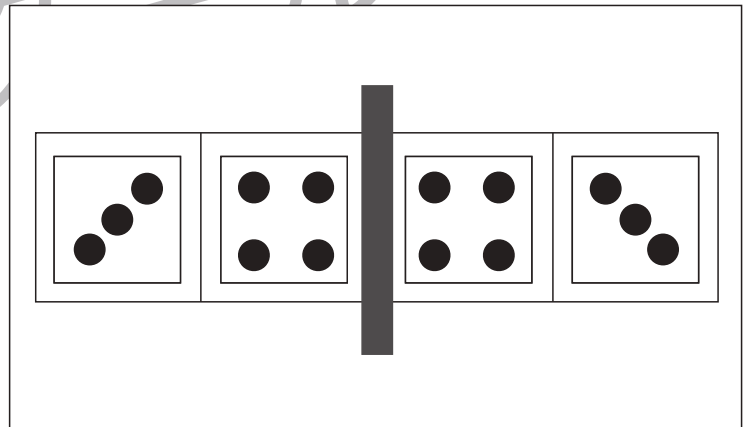
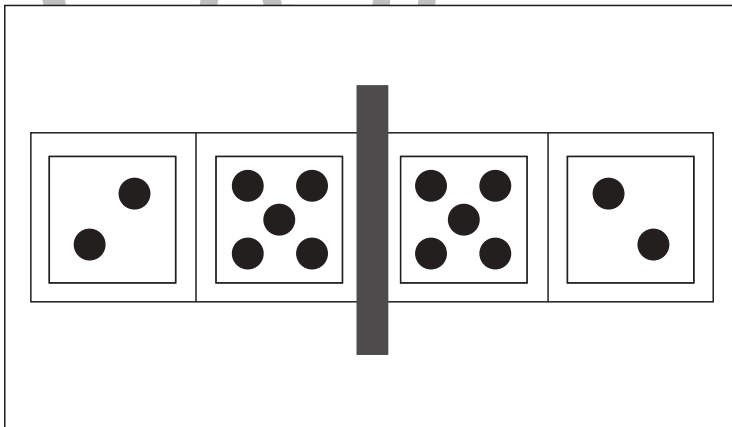
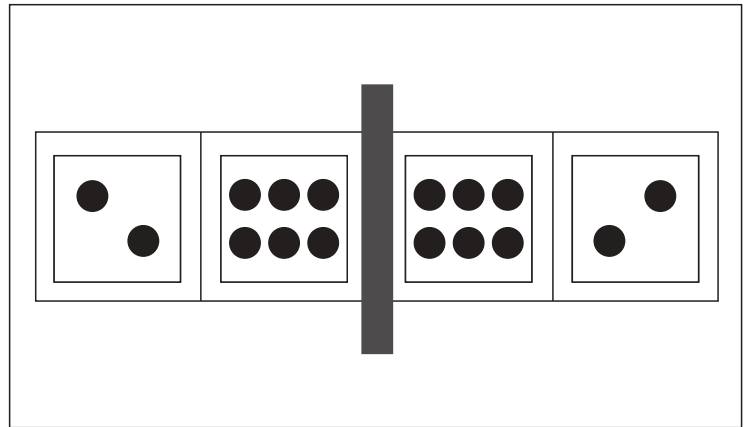
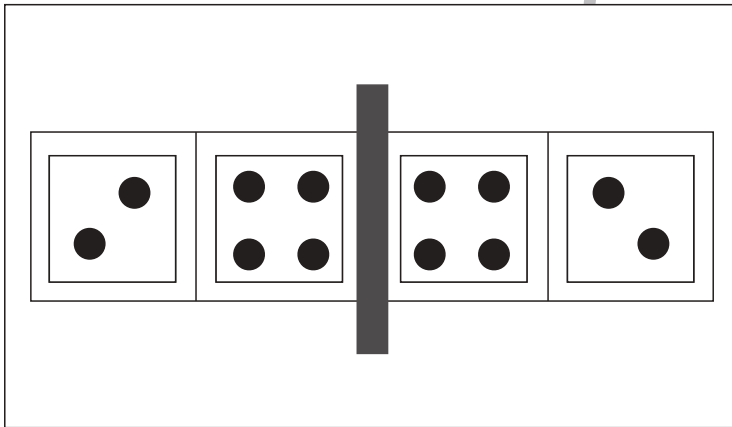
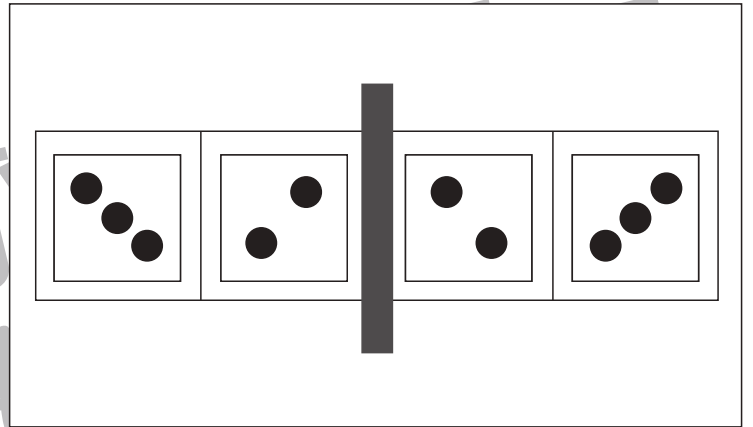
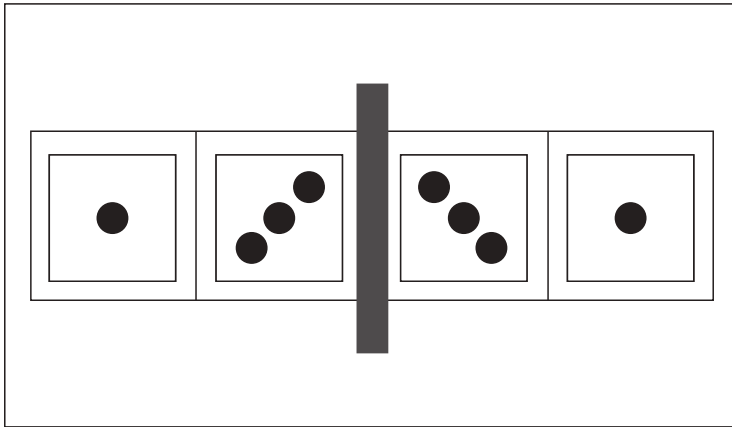


おうちで、やろう。

Study at home. 小学校受験の家庭学習教材

図形：鏡⑫

左の四角の中にはサイコロの目が描いてあります。紙の真ん中の灰色の部分に鏡を立てて鏡を見た時と時の見え方を考えます。鏡を見たときにサイコロがどのような模様になっているか考えて右側にかきます。



※1. このプリントは、しながわ・目黒こどもスクールのウェブサイトでダウンロードができます。無断複写・引用はご遠慮ください。
※2. このプリントを活用したオンライン授業のスケジュールは、しながわ・目黒こどもスクールのウェブサイトでご確認ください。

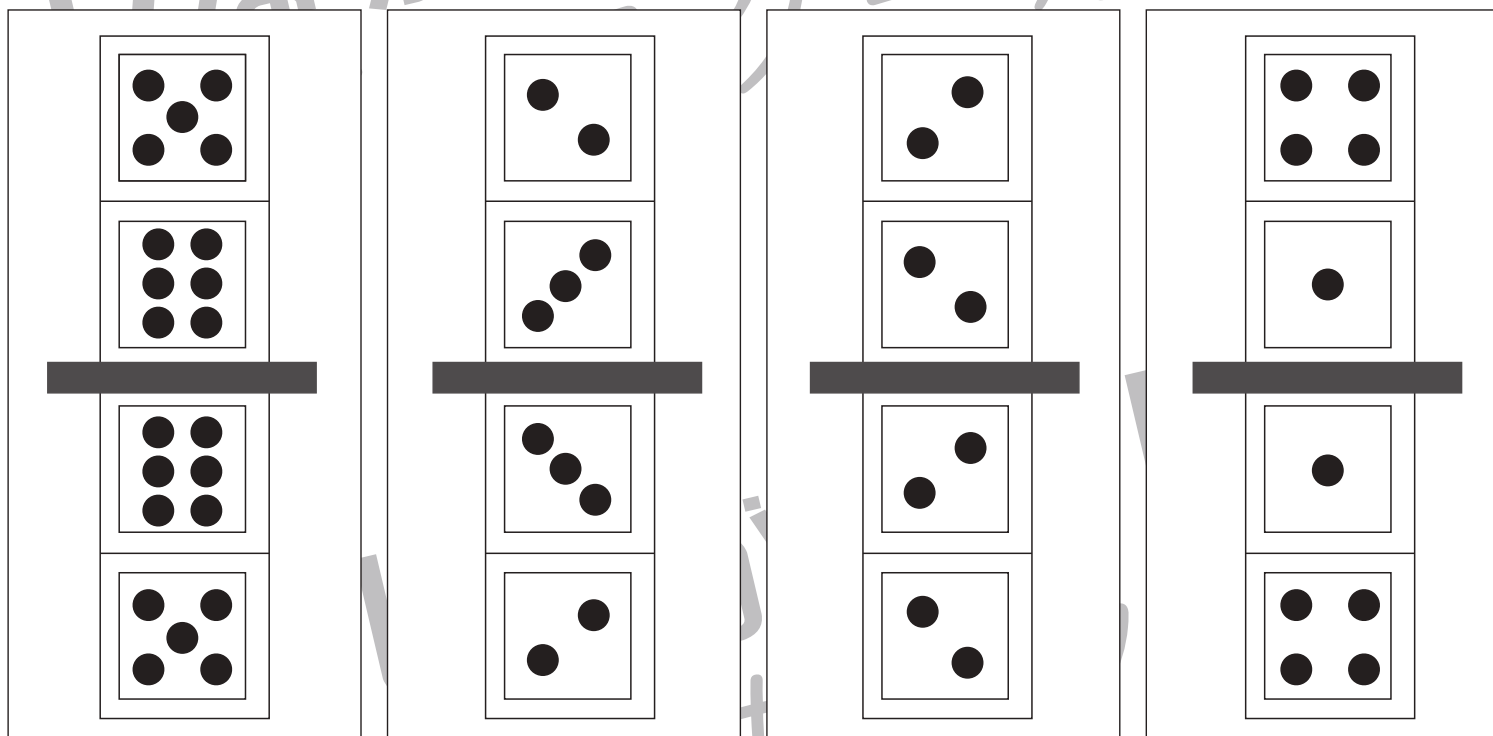
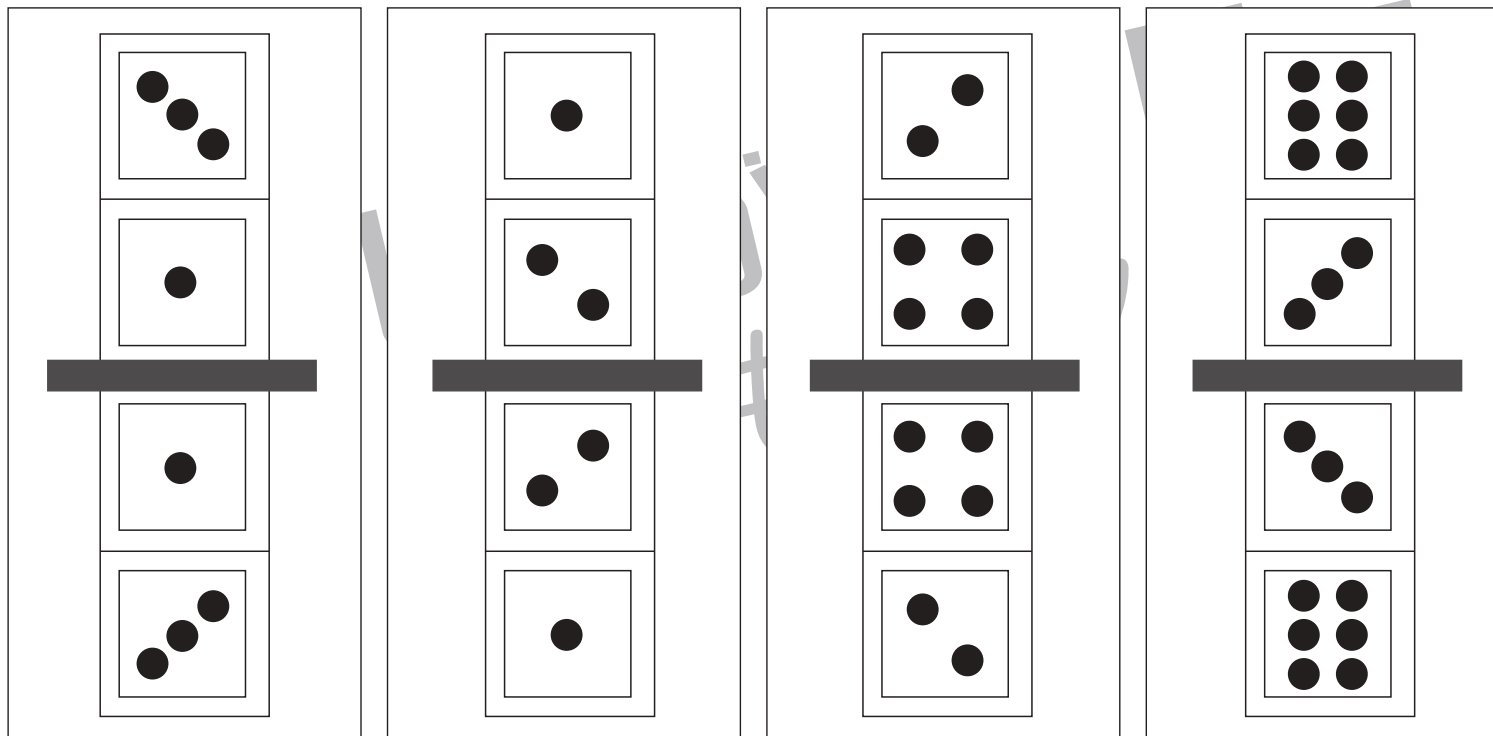


おうちで、やろう。

Study at home. 小学校受験の家庭学習教材

図形：鏡⑬

上の四角の中にはサイコロの目が描いてあります。紙の真ん中の灰色の部分に鏡を立てて鏡を見たときの見え方を考えます。鏡を見たときにサイコロがどのような模様になっているか考えて下にかきます。



※1. このプリントは、しながわ・目黒こどもスクールのウェブサイトでダウンロードができます。無断複写・引用はご遠慮ください。
 ※2. このプリントを活用したオンライン授業のスケジュールは、しながわ・目黒こどもスクールのウェブサイトでご確認ください。



おうちで、やろう。

Study at home. 小学校受験の家庭学習教材

推理：あみだくじ⑤

キリンとウサギが吹き出しの中のクッキーを持ってあみだくじを進みます。途中でライオンに会うとクッキーを1枚あげます。クッキー屋さんがあるとクッキーを2枚もらえます。この約束で進み、最後に着いた四角に持っているクッキーの数だけ○をかきます。キリンは緑のクーピーで、ウサギは青のクーピーで○をかきます。

※あみだくじのルール：①上から下へ進みます。道は戻ってはいけません。②途中で曲がり角があったら必ず曲がります。

この迷路は、キリン（緑のクーピー）とウサギ（青のクーピー）がクッキーを持って進む。途中でライオン（クッキー+1）やクッキー屋さん（クッキー+2）に出くわす。ゴールは下の四角で、持っているクッキーの数だけ○をかきこむ。

この迷路は、キリン（緑のクーピー）とウサギ（青のクーピー）がクッキーを持って進む。途中でクッキー屋さん（クッキー+2）やライオン（クッキー+1）に出くわす。ゴールは下の四角で、持っているクッキーの数だけ○をかきこむ。

※1. このプリントは、しながわ・目黒こどもスクールのウェブサイトでダウンロードができます。無断複写・引用はご遠慮ください。

※2. このプリントを活用したオンライン授業のスケジュールは、しながわ・目黒こどもスクールのウェブサイトでご確認ください。



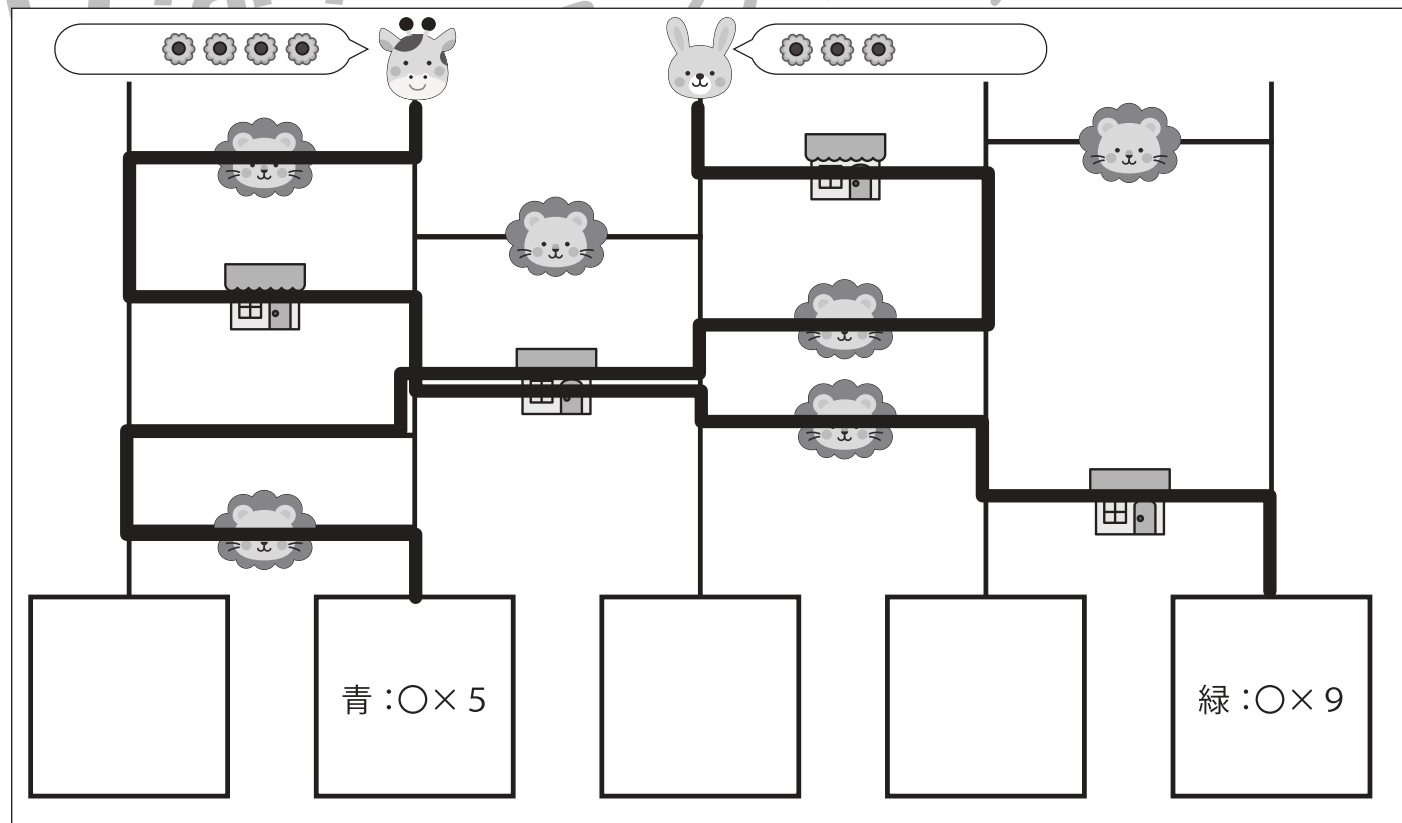
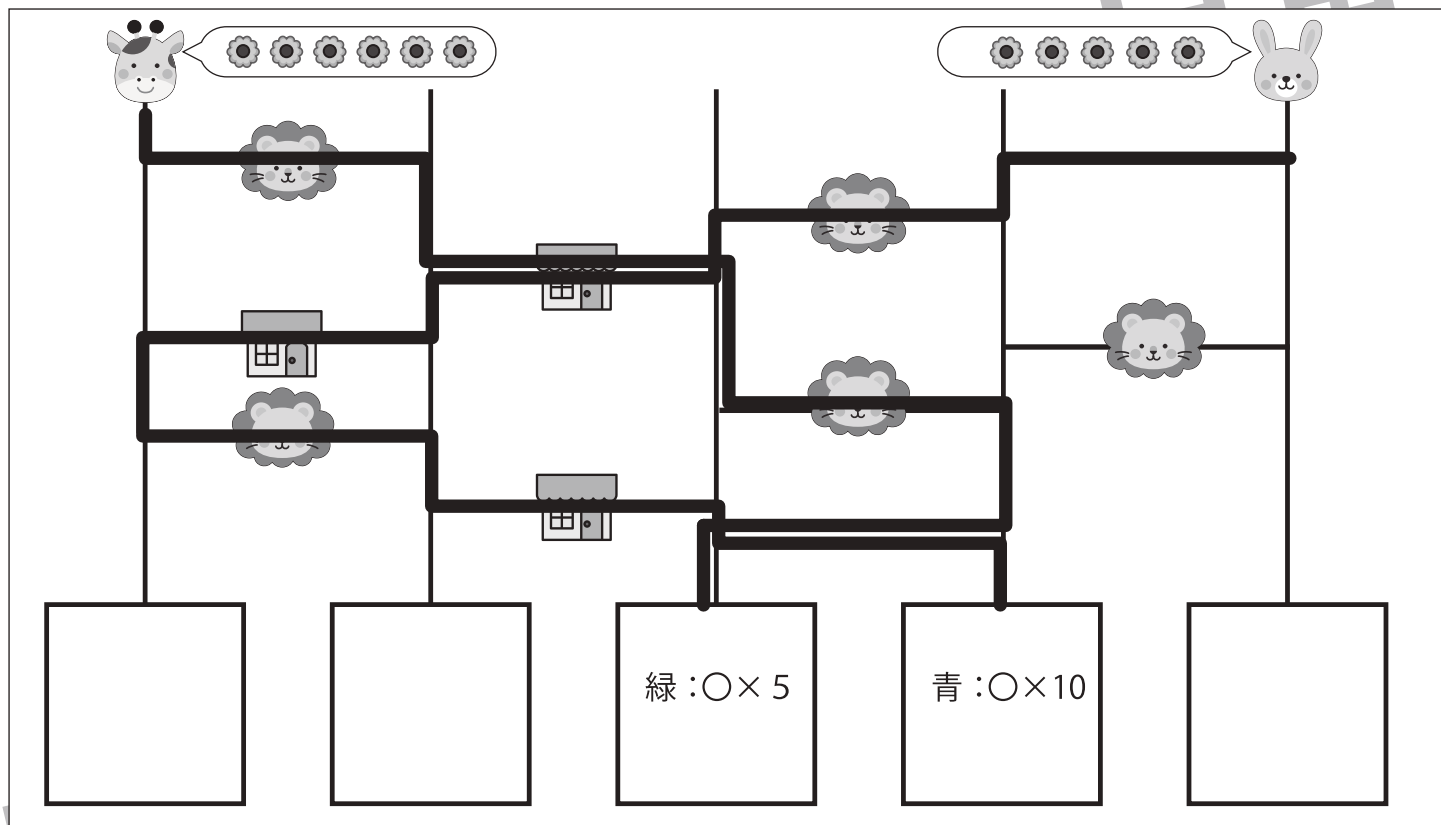
おうちで、やろう。

Study at home. 小学校受験の家庭学習教材

推理：あみだくじ⑥

キリンとウサギが吹き出しの中のクッキーを持ってあみだくじを進みます。途中でライオンに会うとクッキーを2枚あげます。クッキー屋さんがあるとクッキーを3枚もらえます。この約束で進み、最後に着いた四角に持っているクッキーの数だけ〇をかきます。キリンは緑のクーピーで、ウサギは青のクーピーで〇をかきます。

※あみだくじのルール：①上から下へ進みます。道は戻ってはいけません。②途中で曲がり角があったら必ず曲がります。



※1. このプリントは、しながわ・目黒こどもスクールのウェブサイトでダウンロードができます。無断複写・引用はご遠慮ください。

※2. このプリントを活用したオンライン授業のスケジュールは、しながわ・目黒こどもスクールのウェブサイトでご確認ください。



おうちで、やろう。

Study at home. 小学校受験の家庭学習教材

推理：重さ⑫

左の四角の中が約束で2つのものをシーソーで重さ比べをした様子です。真ん中の四角の中のシーソーは2つのものの数を変えて重さ比べをした様子です。空いているところに入る野菜の数が正しい四角に○をつけます。

※1. このプリントは、しながわ・目黒こどもスクールのウェブサイトでダウンロードができます。無断複写・引用はご遠慮ください。

※2. このプリントを活用したオンライン授業のスケジュールは、しながわ・目黒こどもスクールのウェブサイトでご確認ください。



おうちで、やろう。

Study at home. 小学校受験の家庭学習教材

推理：重さ⑬

左の四角の中が約束で2つのものをシーソーで重さ比べをした様子です。真ん中の四角の中のシーソーは2つのものの数を変えて重さ比べをした様子です。空いているところに入る果物の数が正しい四角を全て選んで○をつけます。

※1. このプリントは、しながわ・目黒こどもスクールのウェブサイトでダウンロードができます。無断複写・引用はご遠慮ください。

※2. このプリントを活用したオンライン授業のスケジュールは、しながわ・目黒こどもスクールのウェブサイトでご確認ください。



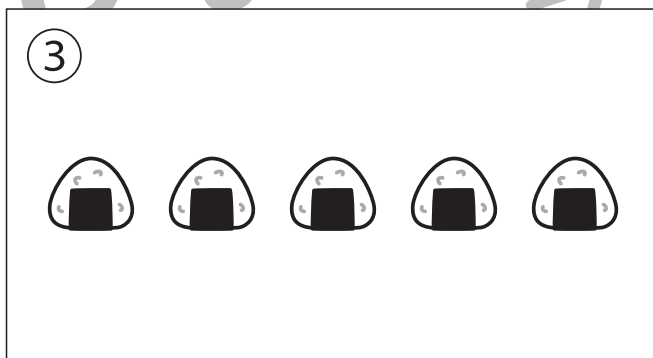





おうちで、やろう。

Study at home. 小学校受験の家庭学習教材

数量：加減⑱

別紙『数量：加減⑱(問題文)』を使用し取り組みます。



※1. このプリントは、しながわ・目黒こどもスクールのウェブサイトでダウンロードができます。無断複写・引用はご遠慮ください。
 ※2. このプリントを活用したオンライン授業のスケジュールは、しながわ・目黒こどもスクールのウェブサイトでご確認ください。





おうちで、やろう。

Study at home. 小学校受験の家庭学習教材

数量：加減⑳

別紙『数量：加減⑳(問題文)』を使用し取り組みます。



※1. このプリントは、しながわ・目黒こどもスクールのウェブサイトでダウンロードができます。無断複写・引用はご遠慮ください。

※2. このプリントを活用したオンライン授業のスケジュールは、しながわ・目黒こどもスクールのウェブサイトでご確認ください。