



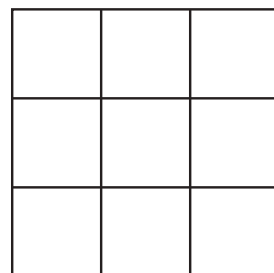

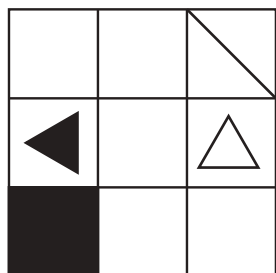
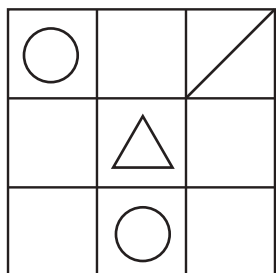
おうちで、やろう。

Study at home. 小学校受験の家庭学習教材

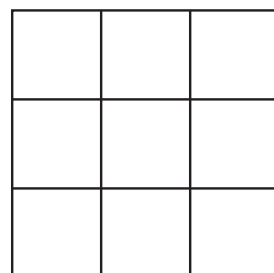

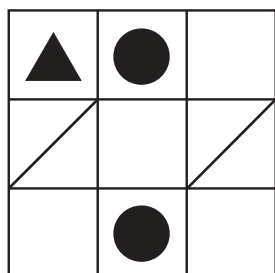
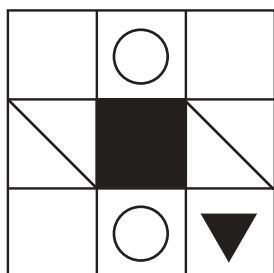
図形：重ね図形②④

左の2枚の四角は透明です。この2枚の四角を重ねた時の見え方を考えてすぐ右の四角にかきます。もし間違えてしまった場合は、一番右の四角にもう一度書き直してみましょう。

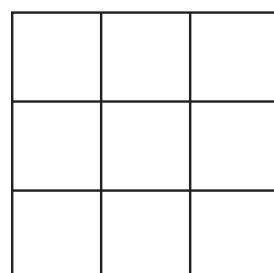

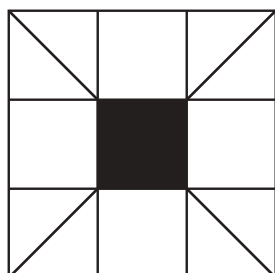
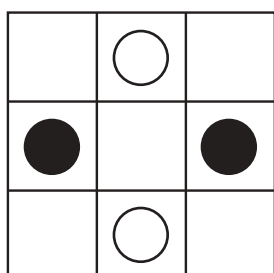
①



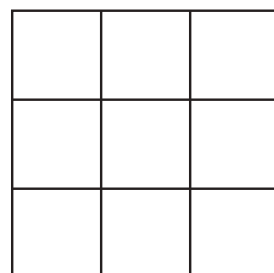
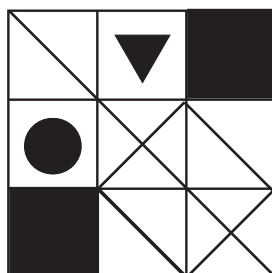
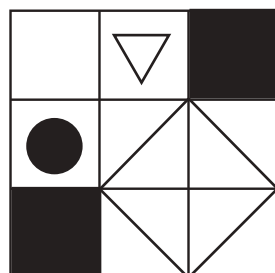
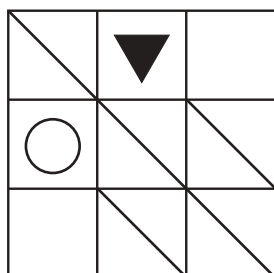
②



③



④



※1. このプリントは、しながわ・目黒こどもスクールのウェブサイトでダウンロードができます。無断複写・引用はご遠慮ください。
※2. このプリントを活用したオンライン授業のスケジュールは、しながわ・目黒こどもスクールのウェブサイトでご確認ください。



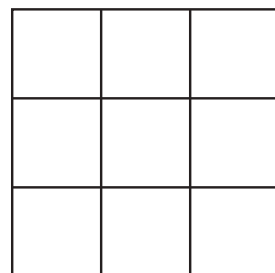
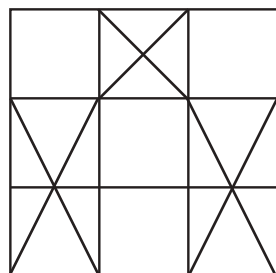
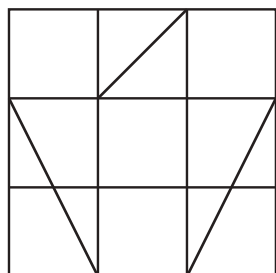
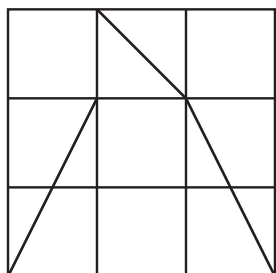
おうちで、やろう。

Study at home. 小学校受験の家庭学習教材

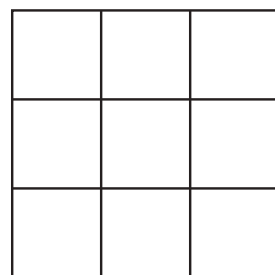
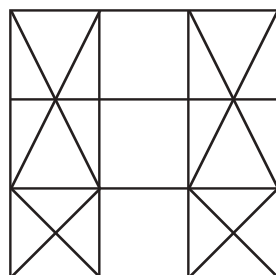
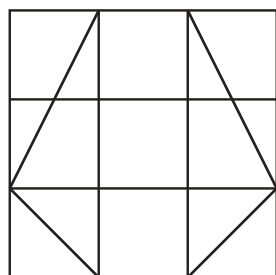
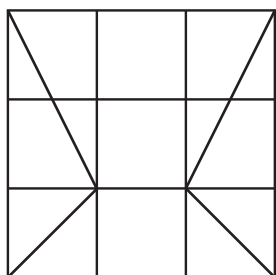
図形：重ね図形⑳

左の2枚の四角は透明です。この2枚の四角を重ねた時の見え方を考えてすぐ右の四角にかきます。もし間違えてしまった場合は、一番右の四角にもう一度書き直してみましょう。

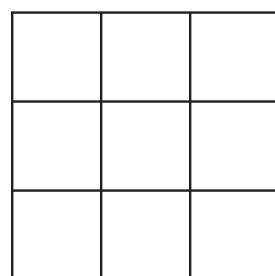
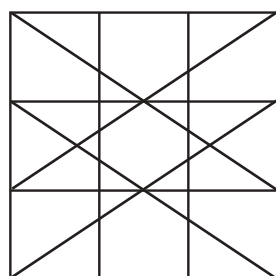
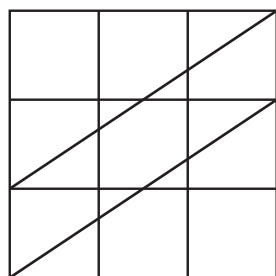
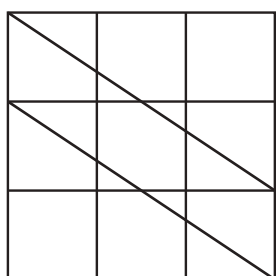
①



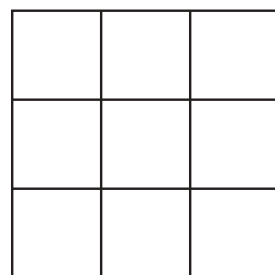
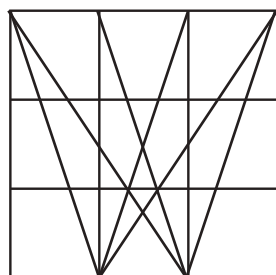
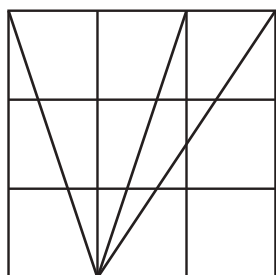
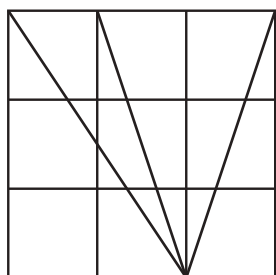
②



③



④



※1. このプリントは、しながわ・目黒こどもスクールのウェブサイトからダウンロードができます。無断複写・引用はご遠慮ください。
※2. このプリントを活用したオンライン授業のスケジュールは、しながわ・目黒こどもスクールのウェブサイトでご確認ください。





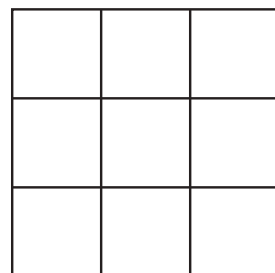



おうちで、やろう。

Study at home. 小学校受験の家庭学習教材

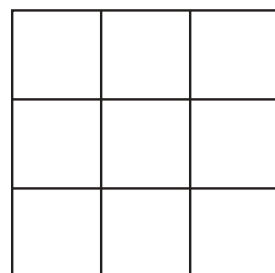



図形：重ね図形②⑥

左の2枚の四角は透明です。この2枚の四角を重ねた時の見え方を考えてすぐ右の四角にかきます。もし間違えてしまった場合は、一番右の四角にもう一度書き直してみましょう。

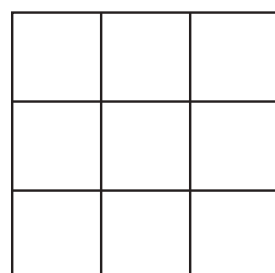



①



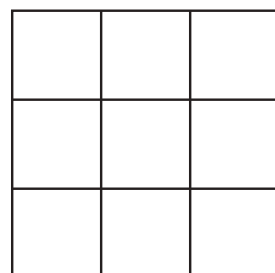



②



③



④



※1. このプリントは、しながわ・目黒こどもスクールのウェブサイトでダウンロードができます。無断複写・引用はご遠慮ください。
※2. このプリントを活用したオンライン授業のスケジュールは、しながわ・目黒こどもスクールのウェブサイトでご確認ください。





おうちで、やろう。

Study at home. 小学校受験の家庭学習教材

図形：折り重ね④

太い線で矢印の方向へ折り重ねた時の見え方を考えます。まずは左の四角を点線で矢印の方向へ折り重ねます。そのあと、黒い線で矢印の方向へ折り重ねます。2回折り重ねた後の答えをすぐ右の空いている四角にかきます。もし間違えてしまったら、一番右の四角にかきなおしましょう。

①

		○	■	○	○		
■		●	■	○	●	●	
			○	●			○

○	■	
■	■	●
	●	○

②

■	●			■			○
			■	○		●	
		■			○		

■	●	○
	●	■
○		

③

●		■		○			■
	■			●		○	●
●		■		○			■

●	○	■
○	■	○
●	○	■

④

	○		●		●	○		●
●		○		■		○		
	●		■		■		○	

●	○	●
●	■	○
■	●	■

※1. このプリントは、しながわ・目黒こどもスクールのウェブサイトでダウンロードができます。無断複写・引用はご遠慮ください。
※2. このプリントを活用したオンライン授業のスケジュールは、しながわ・目黒こどもスクールのウェブサイトでご確認ください。



おうちで、やろう。

Study at home. 小学校受験の家庭学習教材

図形：折り重ね④

太い線で矢印の方向へ折り重ねた時の見え方を考えます。まずは左の四角を点線で矢印の方向へ折り重ねます。そのあと、黒い線で矢印の方向へ折り重ねます。2回折り重ねた後の答えをすぐ右の空いている四角にかきます。もし間違えてしまったら、一番右の四角にかきなおしましょう。

①

		△	△	△		
	△		△	△		
△			△			△

↓

△	△	△
△	△	△
△	△	△

②

▷			▷			△
◁			▷			▲
▷			▷			△

↓

▷	△	◁
◁	▲	▷
▷	△	◁

③

		▷		▷		▼
		▷		▷		▼
		▷		▷		▼

↓

▷	▼	◁
◁	▼	▷
▷	▼	◁

④

			▽	△	▽		
	▷		▷		▷		
△	▽	△					

↓

▽	△	▽
▷	▷	▷
△	▽	△

※1. このプリントは、しながわ・目黒こどもスクールのウェブサイトでダウンロードができます。無断複写・引用はご遠慮ください。
※2. このプリントを活用したオンライン授業のスケジュールは、しながわ・目黒こどもスクールのウェブサイトでご確認ください。



おうちで、やろう。

Study at home. 小学校受験の家庭学習教材

図形：折り重ね④

太い線で矢印の方向へ折り重ねた時の見え方を考えます。まずは左の四角を点線で矢印の方向へ折り重ねます。そのあと、黒い線で矢印の方向へ折り重ねます。2回折り重ねた後の答えをすぐ右の空いている四角にかきます。もし間違えてしまったら、一番右の四角にかきなおしましょう。

①

	△		▲		△
	△		▲		△
	△		▲		△

	▲	
	▲	
	▲	

②

▷			◁	▷		
▷	▷	▷	▷	▷	▷	▷
▷			▷	▷		

▷		
▷	▷	▷
▷		

③

		▷	▷			▷
▷	▷	▷	▷	▷	▷	▷
		▷	▷			▷

		▷
▷	▷	▷
		▷

④

▷	▷	▷			▷	▷	▷
▷			▷				▷

▷	▷	▷
▷	▷	▷

※1. このプリントは、しながわ・目黒こどもスクールのウェブサイトでダウンロードができます。無断複写・引用はご遠慮ください。
※2. このプリントを活用したオンライン授業のスケジュールは、しながわ・目黒こどもスクールのウェブサイトでご確認ください。





















おうちで、やろう。











Study at home. 小学校受験の家庭学習教材











図形：置き換え⑬
















上の四角が約束で、●を約束通りの形に変えます。この約束どおりに●を変えたときの組み合わせで正しいものを右の中から選んで○をつけます。
















● →  → 	● →  → 	● →  → 	● →  → 
---	---	--	---

● → 				
● → 				

● → 				
● → 				

● → 				
● → 				

● → 				
● → 				
● → 				

● → 				
● → 				
● → 				

※1. このプリントは、しながわ・目黒こどもスクールのウェブサイトでダウンロードができます。無断複写・引用はご遠慮ください。

※2. このプリントを活用したオンライン授業のスケジュールは、しながわ・目黒こどもスクールのウェブサイトでご確認ください。



























おうちで、やろう。
























Study at home. 小学校受験の家庭学習教材
























図形：置き換え⑭



































上の四角が約束で、灰色の四角を約束通りの形に変えます。この約束どおりに灰色の四角を変えたときの組み合わせで正しいものを右の中から選んで○をつけます。





































 →    →  	 	 	 	  
	 	 	 	 

 →    →  	 	  	 	 
	 	 	 	 

 →    →  	  	 	 	 
	 	 	 	 

 →    →    →  	 	 	  	 
	 	 	 	 
	 	 	 	 

 →    →    →  	 	  	 	 
	 	 	 	 
	 	 	 	 

※1. このプリントは、しながわ・目黒こどもスクールのウェブサイトからダウンロードできます。無断複写・引用はご遠慮ください。
 ※2. このプリントを活用したオンライン授業のスケジュールは、しながわ・目黒こどもスクールのウェブサイトでご確認ください。




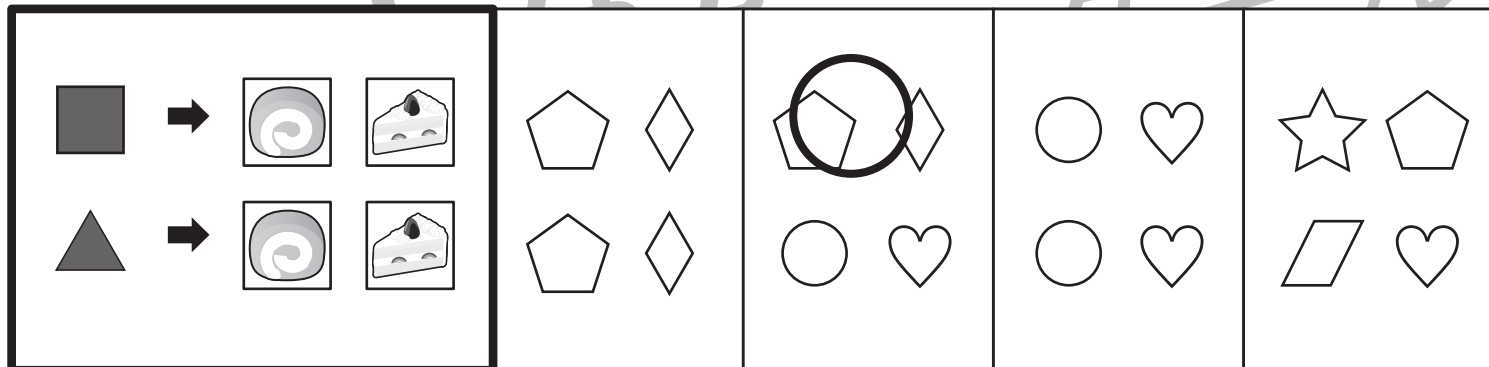
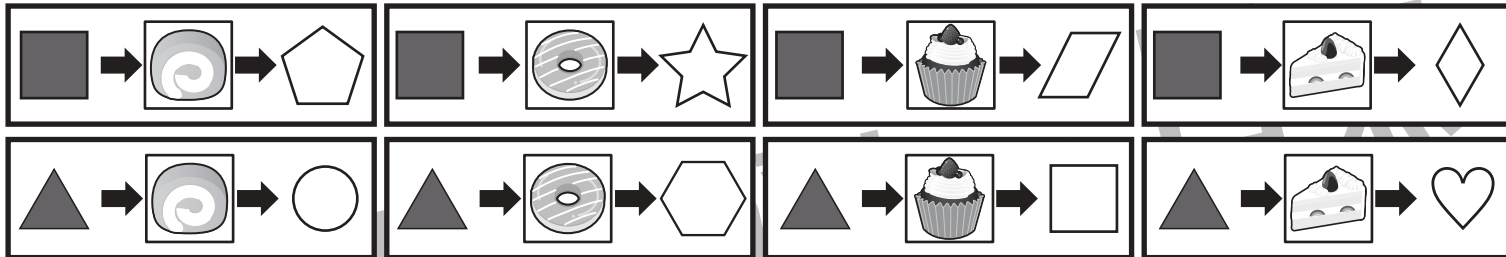


おうちで、やろう。

Study at home. 小学校受験の家庭学習教材

図形：置き換え⑮

上の四角が約束で、灰色の四角や三角を約束通りの形に変えます。この約束どおりに灰色の四角や三角を変えたときの組み合わせで正しいものを右の中から選んで○をつけます。



※1. このプリントは、しながわ・目黒こどもスクールのウェブサイトからダウンロードができます。無断複写・引用はご遠慮ください。

※2. このプリントを活用したオンライン授業のスケジュールは、しながわ・目黒こどもスクールのウェブサイトでご確認ください。