



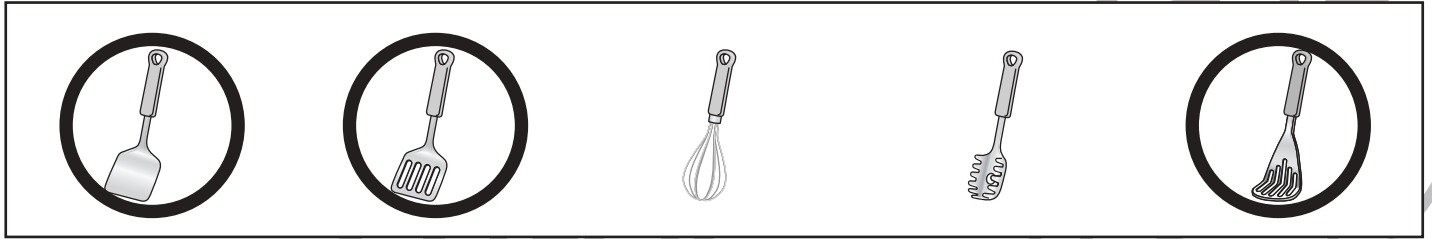
おうちで、やろう。

Study at home. 小学校受験の家庭学習教材

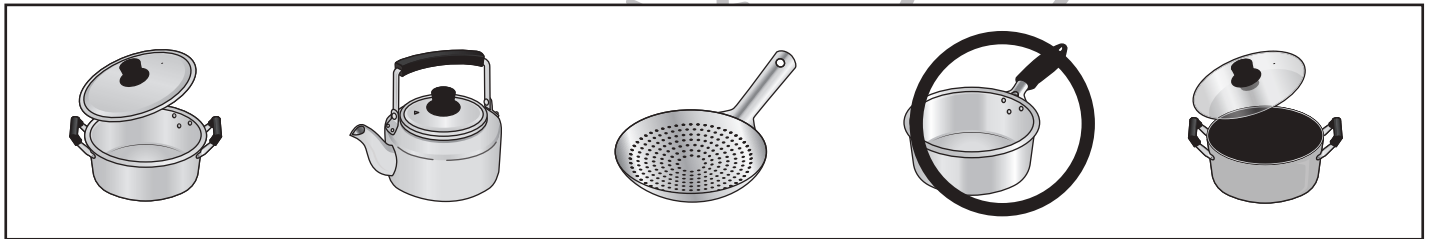
常識：生活⑱

お話を聞いて、正しいと思うものをすべて選んで○をつけましょう。


フライ返しをすべて選んで○をつけましょう。



片手鍋と呼ぶ道具をすべて選んで○をつけましょう。



何かを「切る」のに使う道具をすべて選んで○をつけましょう。

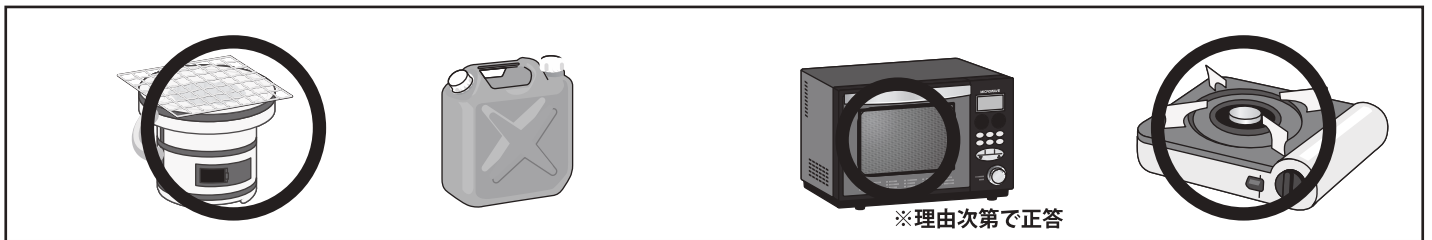


※理由次第で正答

麺を茹でるのに使う道具をすべて選んで○をつけましょう。




何かを焼くのに使う道具をすべて選んで○をつけましょう。



※理由次第で正答

瓶をすべて選んで○をつけましょう。



※1. このプリントは、しながわ・目黒こどもスクールのウェブサイトでダウンロードができます。無断複写・引用はご遠慮ください。
※2. このプリントを活用したオンライン授業のスケジュールは、しながわ・目黒こどもスクールのウェブサイトでご確認ください。



おうちで、やろう。

Study at home. 小学校受験の家庭学習教材


常識：生活⑳

お話を聞いて、正しいと思うものをすべて選んで○をつけましょう。

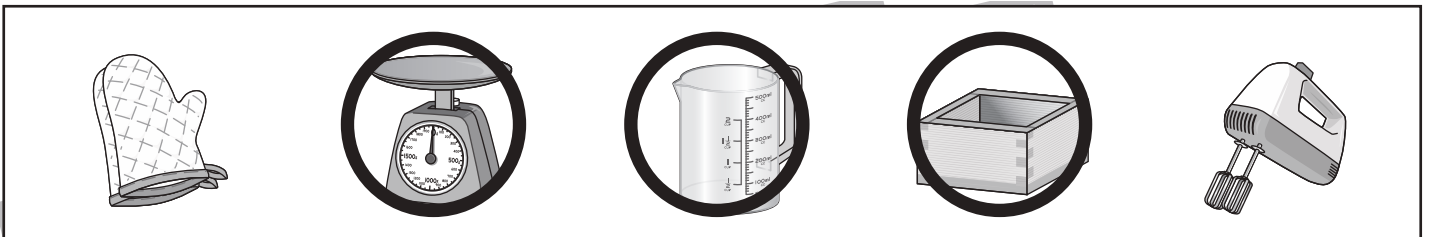
フライパンをすべて選んで○をつけましょう。



ご飯を炊く道具をすべて選んで○をつけましょう。




何かを「はかる」のに使う道具をすべて選んで○をつけましょう。




沸かしたお湯が冷めないように入れておく容器をすべて選んで○をつけましょう。



電気力で動くものをすべて選んで○をつけましょう。



卵焼きを作るのに使う道具をすべて選んで○をつけましょう。



※1. このプリントは、しながわ・目黒こどもスクールのウェブサイトでダウンロードができます。無断複写・引用はご遠慮ください。
 ※2. このプリントを活用したオンライン授業のスケジュールは、しながわ・目黒こどもスクールのウェブサイトでご確認ください。



おうちで、やろう。

Study at home. 小学校受験の家庭学習教材

図形：パズル①

左の四角の空いている部分に真ん中のパズルを入れます。空いている部分にパズルを何枚いれればよいかを考えてその数だけ右の四角に○をかきます。

※1. このプリントは、しながわ・目黒こどもスクールのウェブサイトからダウンロードできます。無断複写・引用はご遠慮ください。

※2. このプリントを活用したオンライン授業のスケジュールは、しながわ・目黒こどもスクールのウェブサイトでご確認ください。







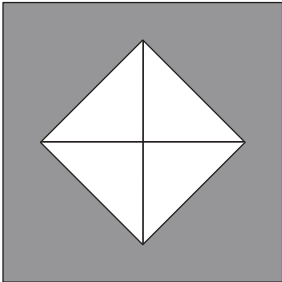
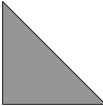

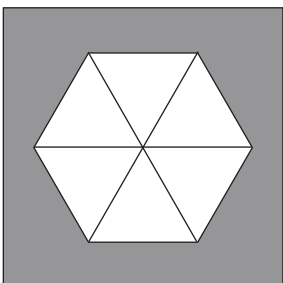
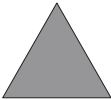

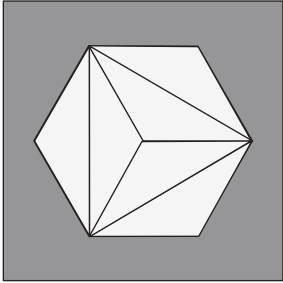




おうちで、やろう。

Study at home. 小学校受験の家庭学習教材

図形：パズル②

左の四角の空いている部分に真ん中のパズルを入れます。空いている部分にパズルを何枚いれればよいかを考えてその数だけ右の四角に○をかきます。

※1. このプリントは、しながわ・目黒こどもスクールのウェブサイトでダウンロードができます。無断複写・引用はご遠慮ください。

※2. このプリントを活用したオンライン授業のスケジュールは、しながわ・目黒こどもスクールのウェブサイトでご確認ください。

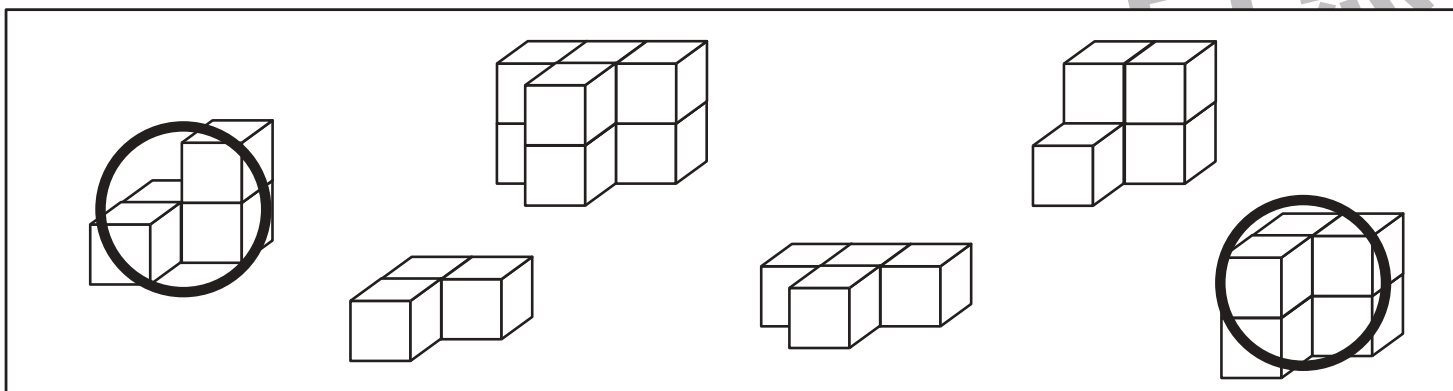
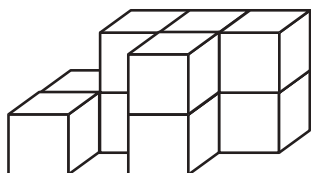
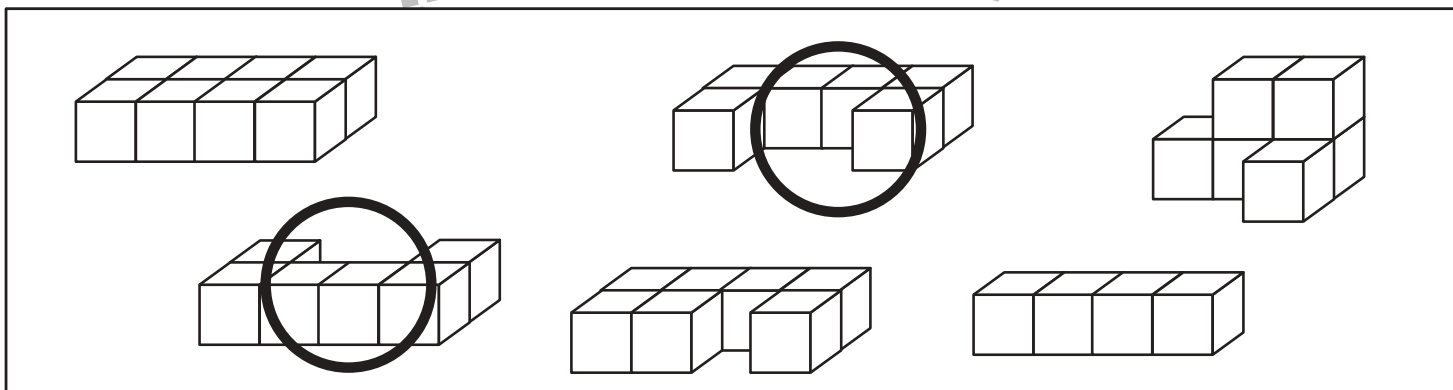
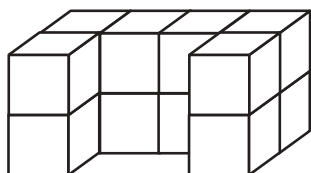
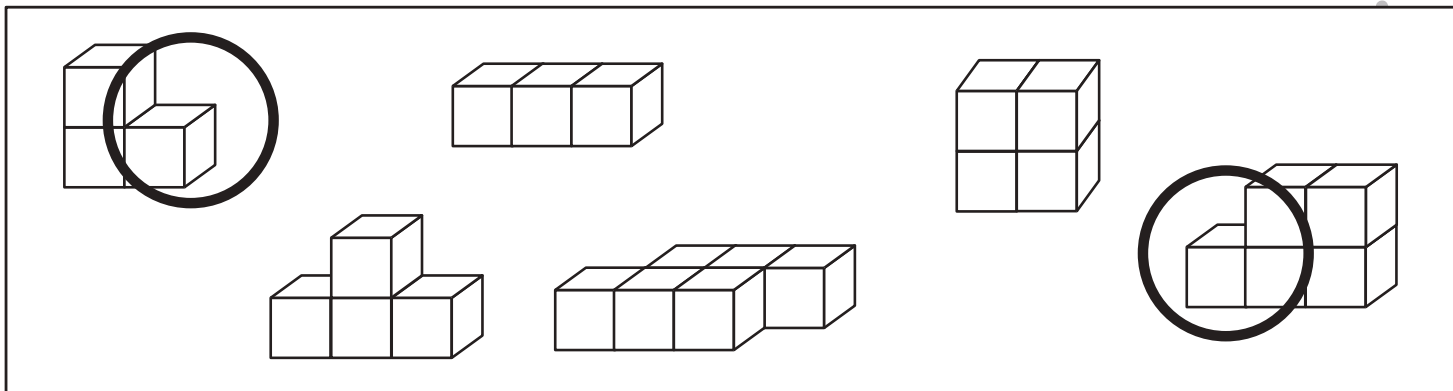
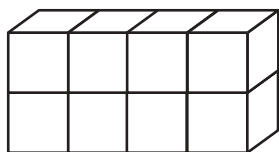


おうちで、やろう。

Study at home. 小学校受験の家庭学習教材

推理：積み木⑬

それぞれの四角の上のある積み木がお手本です。このお手本を下の四角の中の2つの積み木を組み合わせて作ります。どれとどれを合わせればお手本の積み木が作れるのかを考えて、2つの形に○をつけます。



※1. このプリントは、しながわ・目黒こどもスクールのウェブサイトでダウンロードができます。無断複写・引用はご遠慮ください。
※2. このプリントを活用したオンライン授業のスケジュールは、しながわ・目黒こどもスクールのウェブサイトでご確認ください。



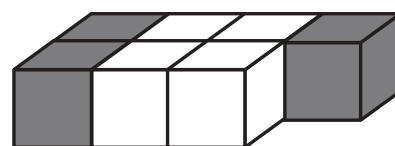
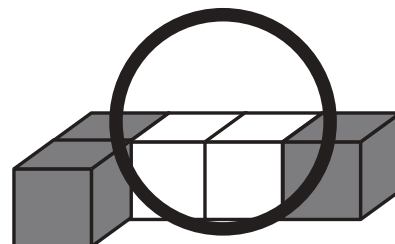
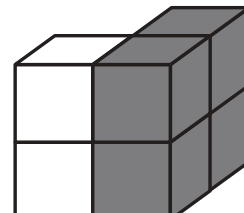
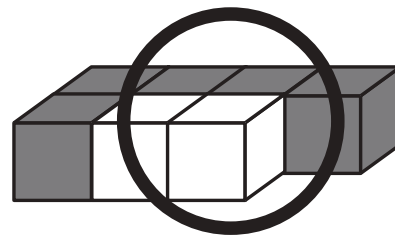
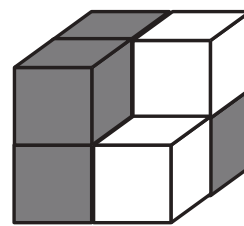
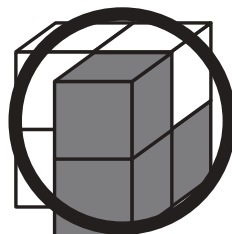
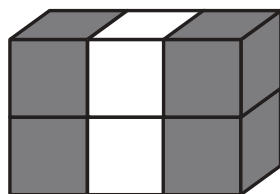
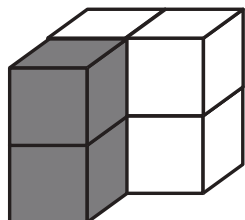
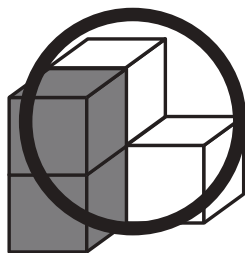
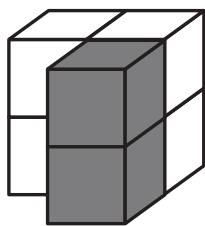
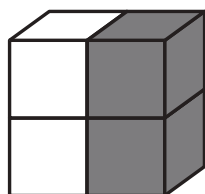
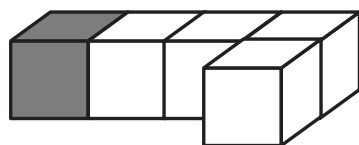
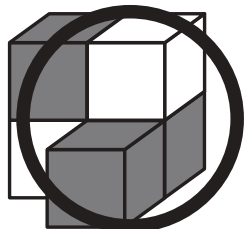
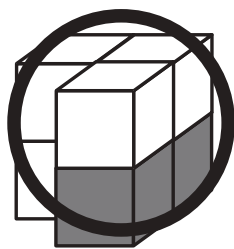
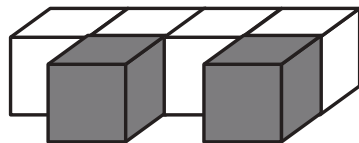
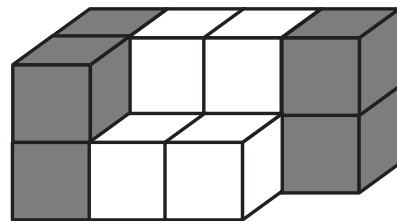
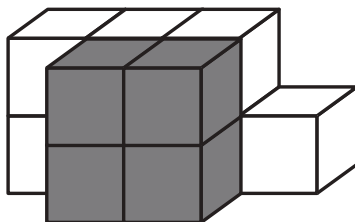
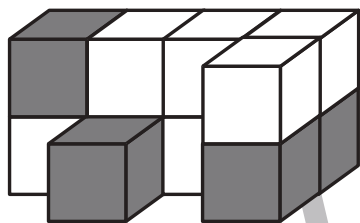


おうちで、やろう。

Study at home. 小学校受験の家庭学習教材

推理：積み木⑭

それぞれの四角の上のある形がお手本です。このお手本を下の四角の中の2つの形を組み合わせて作ります。また隠れて見えない部分にある積み木は灰色です。どれとどれを合わせればお手本の積み木が作れるのかを考えて、2つの形に○をつけます。



※1. このプリントは、しながわ・目黒こどもスクールのウェブサイトでダウンロードができます。無断複写・引用はご遠慮ください。
※2. このプリントを活用したオンライン授業のスケジュールは、しながわ・目黒こどもスクールのウェブサイトでご確認ください。



おうちで、やろう。

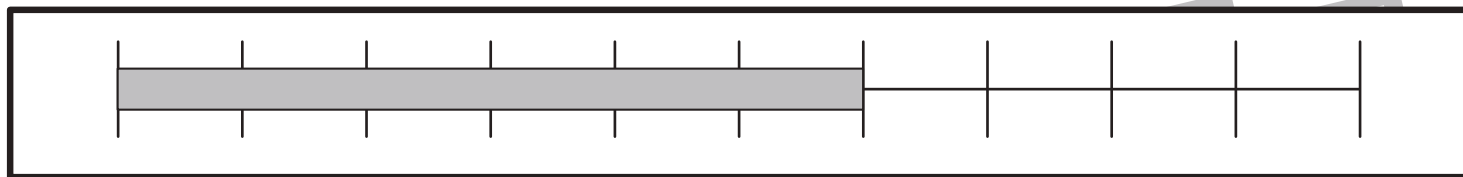
Study at home. 小学校受験の家庭学習教材

数量：長さ④

上の太い四角の棒の長さがお手本です。①②の問題に答えましょう。

①お手本と同じ長さの棒をみつけて○をつけます。

②お手本より短い棒には○、お手本より長い棒には×をつけます。



①

①お手本と同じ長さの棒をみつけて○をつけます。

②

②お手本より短い棒には○、お手本より長い棒には×をつけます。

※1. このプリントは、しながわ・目黒こどもスクールのウェブサイトでダウンロードができます。無断複写・引用はご遠慮ください。

※2. このプリントを活用したオンライン授業のスケジュールは、しながわ・目黒こどもスクールのウェブサイトでご確認ください。



おうちで、やろう。

Study at home. 小学校受験の家庭学習教材

数量：長さ⑤

一番上の太い四角の中の棒の長さがお手本です。下の四角の棒の長さを合わせてお手本と同じ長さになるものを下の四角の中から選び○をつけます。

A large gray bar is shown above a ruler with 10 equal segments. The bar spans the entire length of the ruler.

Three gray bars of different lengths are shown above a ruler with 5 equal segments. The bars are approximately 1.5, 2.5, and 3.5 segments long.

Three gray bars of different lengths are shown above a ruler with 5 equal segments. The bars are approximately 1.5, 2.5, and 3.5 segments long. The middle bar (2.5 segments) is circled with a thick black line.

Three gray bars of different lengths are shown above a ruler with 5 equal segments. The bars are approximately 1.5, 2.5, and 3.5 segments long. The middle bar (2.5 segments) is circled with a thick black line.

Three gray bars of different lengths are shown above a ruler with 5 equal segments. The bars are approximately 1.5, 2.5, and 3.5 segments long.

Three gray bars of different lengths are shown above a ruler with 5 equal segments. The bars are approximately 1.5, 2.5, and 3.5 segments long.

Three gray bars of different lengths are shown above a ruler with 5 equal segments. The bars are approximately 1.5, 2.5, and 3.5 segments long. The middle bar (2.5 segments) is circled with a thick black line.

※1. このプリントは、しながわ・目黒こどもスクールのウェブサイトでダウンロードができます。無断複写・引用はご遠慮ください。
 ※2. このプリントを活用したオンライン授業のスケジュールは、しながわ・目黒こどもスクールのウェブサイトでご確認ください。



おうちで、やろう。

Study at home. 小学校受験の家庭学習教材

数量：長さ⑥

上の太い四角がお手本です。白い棒は灰色の棒が2つ分の長さです。

- ①四角の中の棒の長さを合わせてお手本と同じ長さになるものに○をつけます。
- ②四角の中の棒の長さを合わせたとき、一番長くなるものに△をつけます。

※1. このプリントは、しながわ・目黒こどもスクールのウェブサイトでダウンロードができます。無断複写・引用はご遠慮ください。
 ※2. このプリントを活用したオンライン授業のスケジュールは、しながわ・目黒こどもスクールのウェブサイトでご確認ください。