

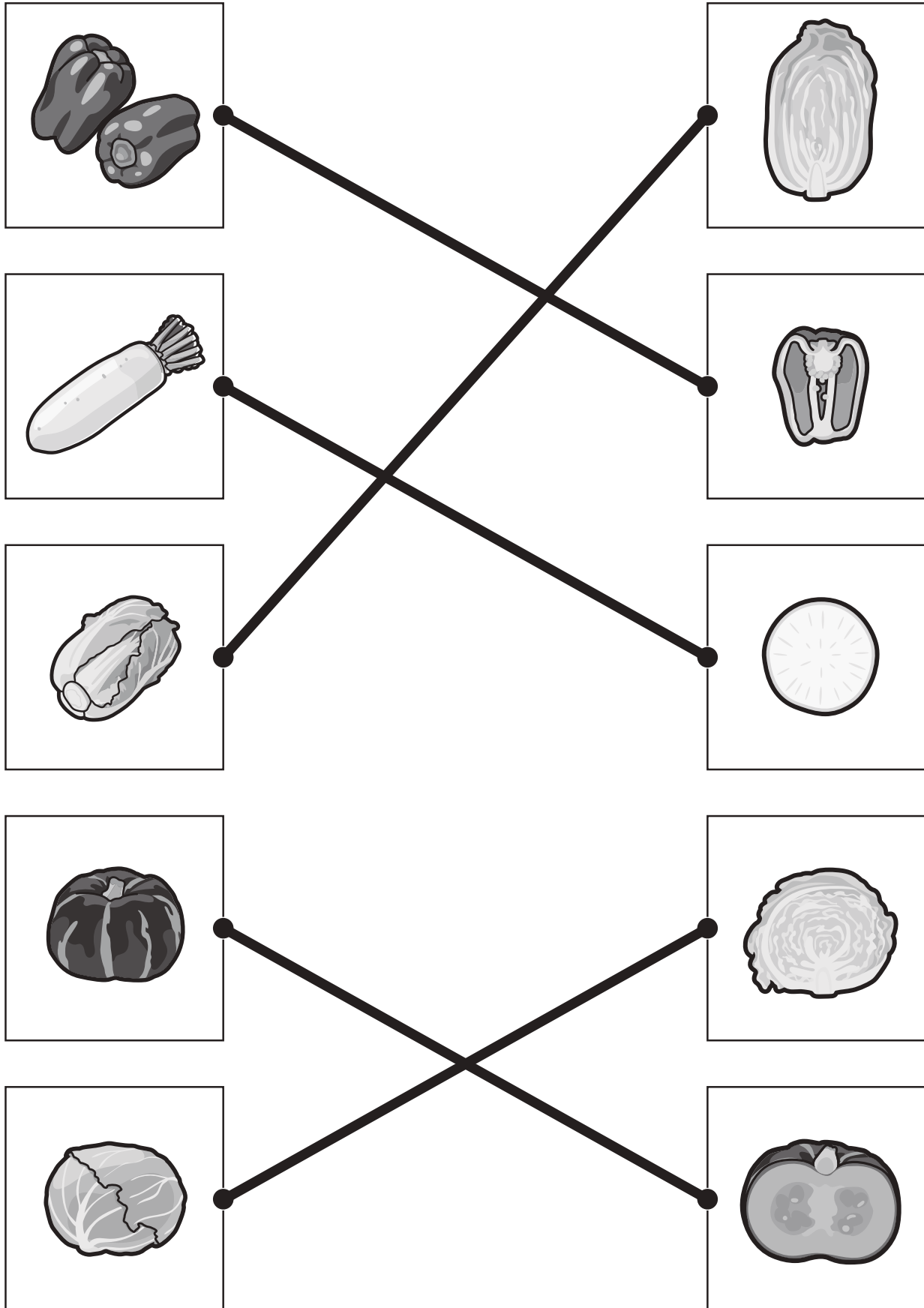


おうちで、やろう。

Study at home. 小学校受験の家庭学習教材

常識：断面図⑤

左は野菜、右は野菜を半分に切ったときの絵の絵です。同じもの同士の点と点を線で結びます。



※1. このプリントは、しながわ・目黒こどもスクールのウェブサイトからダウンロードできます。無断複写・引用はご遠慮ください。

※2. このプリントを活用したオンライン授業のスケジュールは、しながわ・目黒こどもスクールのウェブサイトでご確認ください。

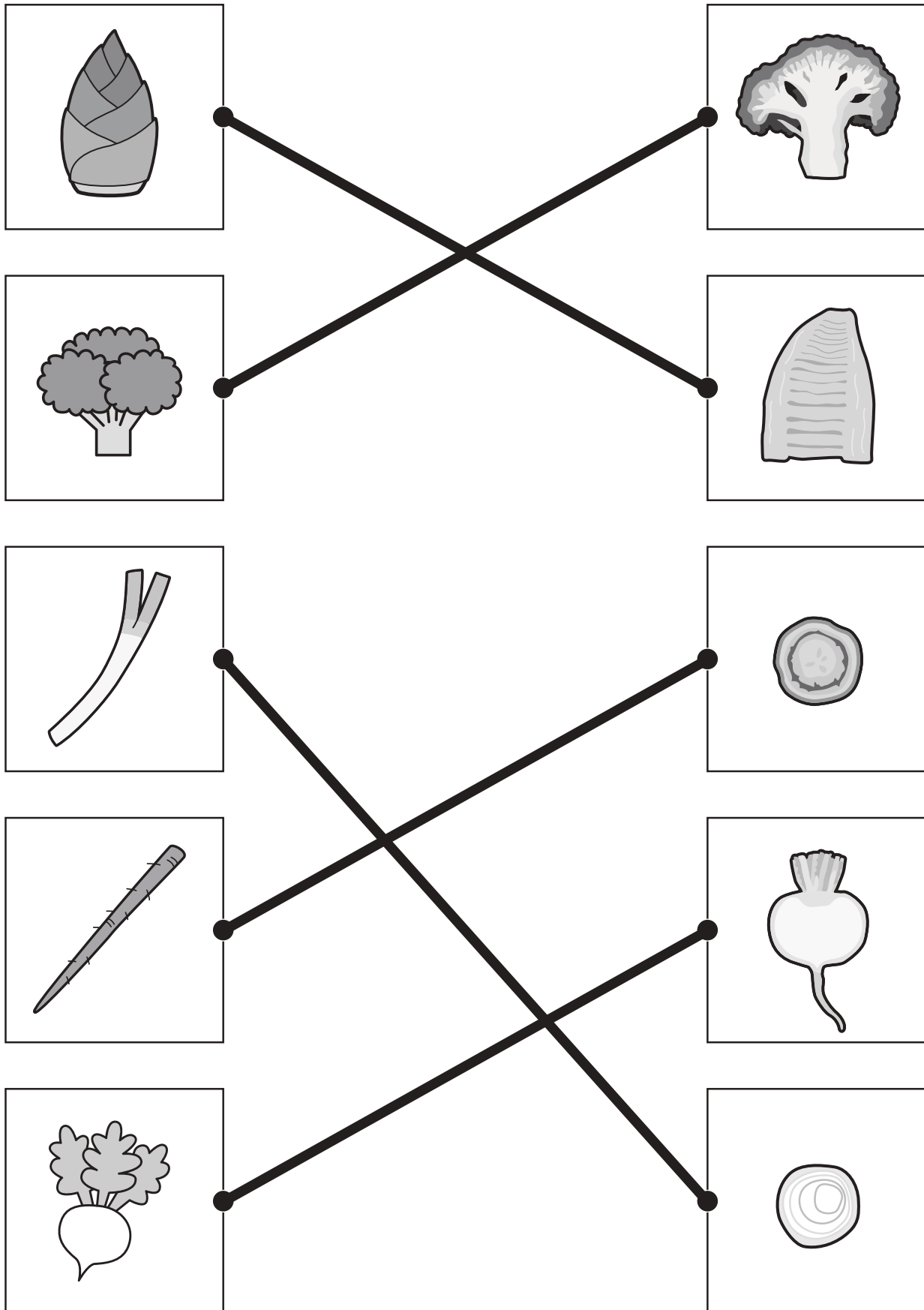


おうちで、やろう。

Study at home. 小学校受験の家庭学習教材

常識：断面図⑥

左は野菜、右は野菜を半分に切ったときの絵の絵です。同じもの同士の点と点を線で結びます。



※1. このプリントは、しながわ・目黒こどもスクールのウェブサイトでダウンロードができます。無断複写・引用はご遠慮ください。

※2. このプリントを活用したオンライン授業のスケジュールは、しながわ・目黒こどもスクールのウェブサイトでご確認ください。


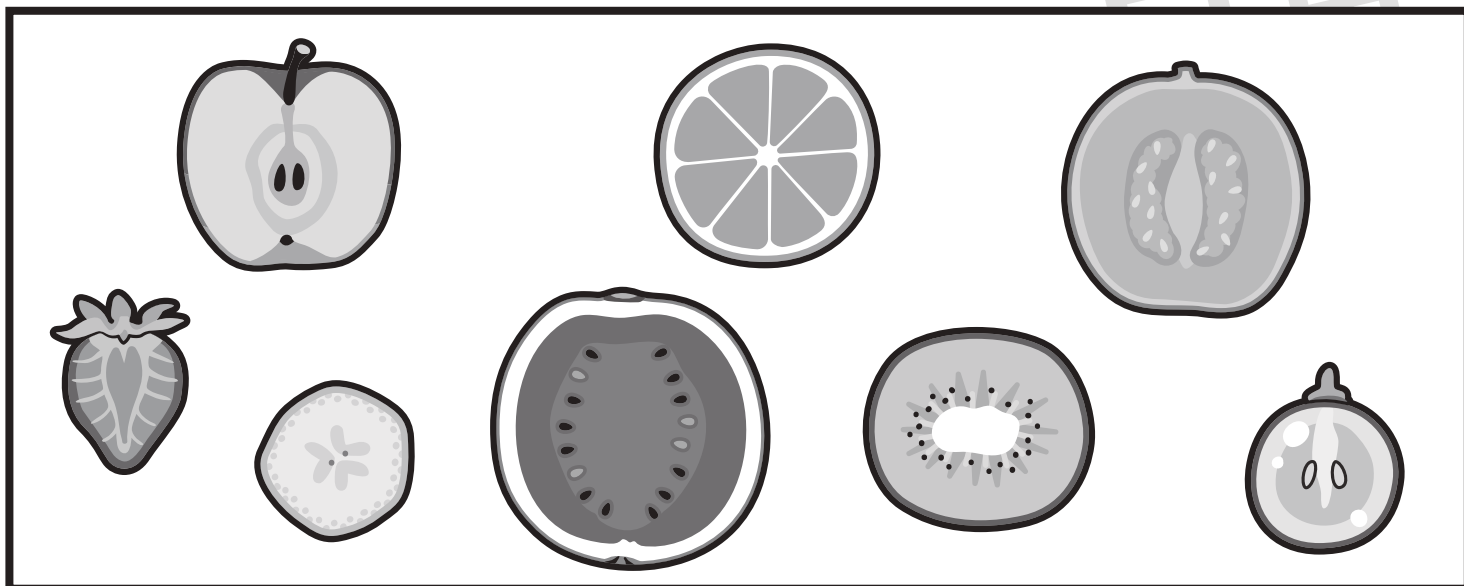


おうちで、やろう。

Study at home. 小学校受験の家庭学習教材

常識：断面図⑦

上の太い四角の中は果物を半分に切った様子です。下の四角の中の果物のうち、上の四角にない果物を見つけて×をつけます。



※1. このプリントは、しながわ・目黒こどもスクールのウェブサイトでダウンロードができます。無断複写・引用はご遠慮ください。

※2. このプリントを活用したオンライン授業のスケジュールは、しながわ・目黒こどもスクールのウェブサイトでご確認ください。





おうちで、やろう。

Study at home. 小学校受験の家庭学習教材

図形：移動②④

左の四角のマスの中に白丸があります。この白丸を黒丸の数だけ矢印の方向へマスを移動させます。白丸を移動させた場所が正しいものを右の四角の中から見つけて○をつけます。

(1)

(2)

(3)

(4)

※1. このプリントは、しながわ・目黒こどもスクールのウェブサイトでダウンロードができます。無断複写・引用はご遠慮ください。

※2. このプリントを活用したオンライン授業のスケジュールは、しながわ・目黒こどもスクールのウェブサイトでご確認ください。



おうちで、やろう。

Study at home. 小学校受験の家庭学習教材

図形：移動②⑤

左の四角のマスの中に白丸があります。この白丸を黒丸の数だけ矢印の方向へマスを移動させます。白丸を移動させた場所が正しいものを右の四角の中から見つけて○をつけます。

(1)

(2)

(3)

(4)

※1. このプリントは、しながわ・目黒こどもスクールのウェブサイトでダウンロードができます。無断複写・引用はご遠慮ください。

※2. このプリントを活用したオンライン授業のスケジュールは、しながわ・目黒こどもスクールのウェブサイトでご確認ください。



おうちで、やろう。

Study at home. 小学校受験の家庭学習教材

図形：移動②⑥

左の四角のマスの中に白丸があります。この白丸を黒丸の数だけ矢印の方向へマスを移動させます。白丸を移動させた場所が正しいものを右の四角の中から見つけて○をつけます。

(1)

(2)

(3)

(4)

※1. このプリントは、しながわ・目黒こどもスクールのウェブサイトでダウンロードができます。無断複写・引用はご遠慮ください。

※2. このプリントを活用したオンライン授業のスケジュールは、しながわ・目黒こどもスクールのウェブサイトでご確認ください。



おうちで、やろう。

Study at home. 小学校受験の家庭学習教材

図形：移動②⑦

左の四角のマスの中に白丸があります。この白丸を黒丸の数だけ矢印の方向へマスを移動させます。白丸を移動させた場所が正しいものを右の四角の中から見つけて○をつけます。

(1)

(2)

(3)

(4)

※1. このプリントは、しながわ・目黒こどもスクールのウェブサイトでダウンロードができます。無断複写・引用はご遠慮ください。

※2. このプリントを活用したオンライン授業のスケジュールは、しながわ・目黒こどもスクールのウェブサイトでご確認ください。




おうちで、やろう。

Study at home. 小学校受験の家庭学習教材


数量：順番④

花の芽が出ています。①～④の問題に答えましょう。


①左から6番目、7番目の芽が一番先に花が咲きました。その芽に○をつけます。




②左から3番目、5番目、7番目の芽が一番先に花が咲きました。その芽に○をつけます。



③右から2番目、8番目、10番目の芽が一番先に花が咲きました。その芽に○をつけます。



④左端、右から3番目、真ん中の芽が一番先に花が咲きました。その芽に○をつけます。



※1. このプリントは、しながわ・目黒こどもスクールのウェブサイトでダウンロードができます。無断複写・引用はご遠慮ください。
※2. このプリントを活用したオンライン授業のスケジュールは、しながわ・目黒こどもスクールのウェブサイトでご確認ください。






おうちで、やろう。

Study at home. 小学校受験の家庭学習教材


数量：順番⑤

お花が咲いています。①～④の問題に答えましょう。


①左から2番目のお花、左から7番目のお花、この2本の間のお花を摘みました。そのお花すべてに○をつけます。




②左から3番目のお花、右から5番目のお花、この2本の間のお花を摘みました。そのお花すべてに○をつけます。



③左から4番目のお花、右から3番目のお花、この2本の間のお花を摘みました。そのお花すべてに○をつけます。



④左端のお花、右から8番目のお花、この2本の間のお花を摘みました。そのお花すべてに○をつけます。



※1. このプリントは、しながわ・目黒こどもスクールのウェブサイトでダウンロードができます。無断複写・引用はご遠慮ください。
※2. このプリントを活用したオンライン授業のスケジュールは、しながわ・目黒こどもスクールのウェブサイトでご確認ください。