



おうちで、やろう。

Study at home. 小学校受験の家庭学習教材

図形：移動⑳

左の四角のマスの中に白丸があります。この白丸を黒丸の数だけ矢印の方向へマスを移動させます。白丸を移動させた場所が正しいものを右の四角の中から見つけて○をつけます。

(1)

●			○
●	○	■	
↑		○	

			○
○	■		
	○		
			○

		○	
○	■		
			○

○			○
	■		
			○

(2)

●	○	○	
●		■	
●	○		
↑			

	○		
	■		○
			○

○			
○	■		
			○

○			○
	■		
○			

(3)

●		○	
●		■	○
●			
●		○	
↓			↑

	■		
○	○	○	

			○
	■		
○			○

	○		
○	■		
			○

(4)

●		○	
●		■	○
●			○
↓			↑

○			
○	■		○

○	○		
	■		
○			

	○		
	■		
○	○		

※1. このプリントは、しながわ・目黒こどもスクールのウェブサイトでダウンロードができます。無断複写・引用はご遠慮ください。
 ※2. このプリントを活用したオンライン授業のスケジュールは、しながわ・目黒こどもスクールのウェブサイトでご確認ください。


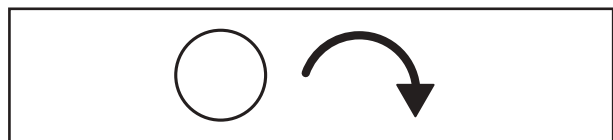


おうちで、やろう。

Study at home. 小学校受験の家庭学習教材

図形：移動⑳

左の四角のマスの中に白丸と黒丸があります。それぞれの丸を左にある☆の数だけマスを進みます。このとき、白丸は時計回り、黒丸は時計とは反対回りに進みます。白丸と黒丸を移動させた場所が正しいものを右の四角の中から見つけて○をつけます。



☆				
---	--	--	--	--

☆				
---	--	--	--	--

☆ ☆				
--------	--	--	--	--

☆ ☆ ☆ ☆			
------------------	--	--	--

※1. このプリントは、しながわ・目黒こどもスクールのウェブサイトでダウンロードができます。無断複写・引用はご遠慮ください。
※2. このプリントを活用したオンライン授業のスケジュールは、しながわ・目黒こどもスクールのウェブサイトでご確認ください。


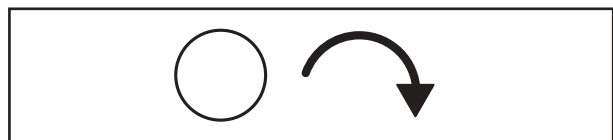


おうちで、やろう。

Study at home. 小学校受験の家庭学習教材

図形：移動③⑩

左の四角のマスの中に白丸と黒丸があります。それぞれの丸を左にある☆の数だけマスを進みます。このとき、白丸は時計回り、黒丸は時計とは反対回りに進みます。白丸と黒丸を移動させた場所が正しいものを右の四角の中から見つけて○をつけます。



☆ ☆				
--------	--	--	--	--

☆ ☆				
--------	--	--	--	--

☆ ☆ ☆				
-------------	--	--	--	--

☆ ☆ ☆ ☆				
------------------	--	--	--	--

※1. このプリントは、しながわ・目黒こどもスクールのウェブサイトでダウンロードができます。無断複写・引用はご遠慮ください。
※2. このプリントを活用したオンライン授業のスケジュールは、しながわ・目黒こどもスクールのウェブサイトでご確認ください。



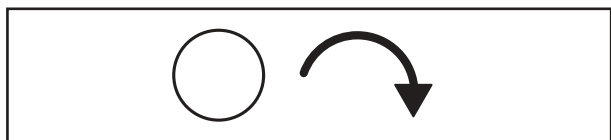


おうちで、やろう。

Study at home. 小学校受験の家庭学習教材

図形：移動③①

左の四角のマスの中に白丸と黒丸があります。それぞれの丸を左にある☆の数だけマスを進みます。このとき、白丸は時計回り、黒丸は時計とは反対回りに進みます。白丸と黒丸を移動させた場所が正しいものを右の四角の中から見つけて○をつけます。



☆	●	○		○	○	○			
		■					○	○	○

☆		●		○	○	○			
	●	■					○	○	○

☆			○	○	○	○			
	○	■					○	○	○
			●						

☆		●		○	○	○			
		■					○	○	○
	●								
			○				○	○	○

※1. このプリントは、しながわ・目黒こどもスクールのウェブサイトでダウンロードができます。無断複写・引用はご遠慮ください。
※2. このプリントを活用したオンライン授業のスケジュールは、しながわ・目黒こどもスクールのウェブサイトでご確認ください。



おうちで、やろう。

Study at home. 小学校受験の家庭学習教材

推理：じゃんけん⑬

ウサギとカエルがじゃんけんゲームをします。上の太い四角が約束です。じゃんけんで勝った時だけ勝った手の右にある○の数だけマスを進めます。ウサギとカエルでじゃんけんをした時、ウサギがいるマスに○をつけます。ウサギが進むのは太い四角に囲まれたマスです。

○ ○	○ ○ ○	○ ○ ○ ○
-----	-------	---------

※1. このプリントは、しながわ・目黒こどもスクールのウェブサイトでダウンロードができます。無断複写・引用はご遠慮ください。
 ※2. このプリントを活用したオンライン授業のスケジュールは、しながわ・目黒こどもスクールのウェブサイトでご確認ください。



おうちで、やろう。

Study at home. 小学校受験の家庭学習教材

推理：じゃんけん⑭

ウサギとカエルがじゃんけんゲームをします。上の太い四角が約束です。じゃんけんで勝った時だけ勝った手の右にある○の数だけマスを進めます。ウサギとカエルでじゃんけんをした時、ウサギがいるマスに○を、カエルがいるマスに△をつけます。一度も進むことができなかった場合は、左端のウサギ、カエルに印をつけます。

○ ○ ○	○ ○ ○ ○ ○	○ ○
-------	-----------	-----

※1. このプリントは、しながわ・目黒こどもスクールのウェブサイトでダウンロードができます。無断複写・引用はご遠慮ください。
 ※2. このプリントを活用したオンライン授業のスケジュールは、しながわ・目黒こどもスクールのウェブサイトでご確認ください。



おうちで、やろう。

Study at home. 小学校受験の家庭学習教材

推理：じゃんけん⑮

ゾウとネコとリスがじゃんけんゲームをします。上の太い四角が約束です。じゃんけんで勝った時だけ勝った手の右にある○の数だけマスを進めます。3匹でじゃんけんをした時、ゾウがいるマスに○を、ネコがいるマスに△を、リスがいるマスに×をつけます。一度も進むことができなかった場合は、左端のゾウ、ネコ、リスに印をつけます。

○ ○ ○ ○	○ ○ ○	○ ○
---------	-------	-----

※1. このプリントは、しながわ・目黒こどもスクールのウェブサイトでダウンロードができます。無断複写・引用はご遠慮ください。
※2. このプリントを活用したオンライン授業のスケジュールは、しながわ・目黒こどもスクールのウェブサイトでご確認ください。








おうちで、やろう。

Study at home. 小学校受験の家庭学習教材

推理：水量⑥

左の四角の中のコップに右の四角の中のコップの水を入れて、コップの水をいっぱいにします。どのコップの水を入れればよいか考えて○をつけます。このときコップの水があふれてはいけません。



※1. このプリントは、しながわ・目黒こどもスクールのウェブサイトでダウンロードができます。無断複写・引用はご遠慮ください。
 ※2. このプリントを活用したオンライン授業のスケジュールは、しながわ・目黒こどもスクールのウェブサイトでご確認ください。








おうちで、やろう。

Study at home. 小学校受験の家庭学習教材

推理：水量⑦

四角の中のコップのうち2つのコップの水を合わせるとコップの水がいっぱいになります。どれとどれを合わせればよいか考えて○をつけます。このとき、コップの水はあふれてはいけません。



※1. このプリントは、しながわ・目黒こどもスクールのウェブサイトからダウンロードできます。無断複写・引用はご遠慮ください。
※2. このプリントを活用したオンライン授業のスケジュールは、しながわ・目黒こどもスクールのウェブサイトでご確認ください。