



おうちで、やろう。

Study at home. 小学校受験の家庭学習教材

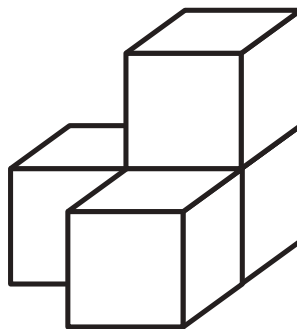
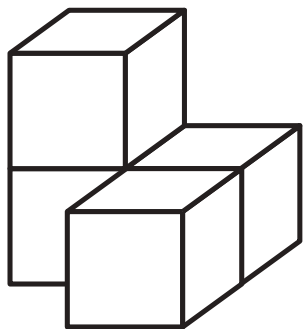
記憶：絵の記憶⑦ 記憶用紙

別紙『記憶 - 絵の記憶⑦』を行う際に使用します。記憶用紙は点線で折って(切って)、①、②、③の問題の際にそれぞれ 20 秒間ずつ記憶させてください。記憶する際は問題用紙は裏返しにします。記憶後①、②、③それぞれの問題に答えましょう。

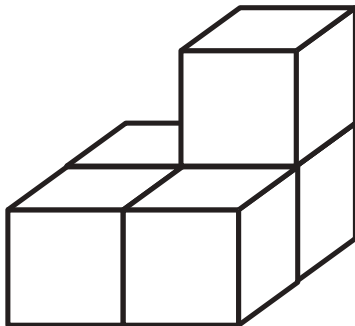
①: 覚えた積み木と同じものを見つけて○をつけます。 ②: 覚えた積み木と同じ数でできる積み木に○をつけます。 ③: 覚えた積み木の数を合わせた数でできる積み木に○をつけます。

※6月16日(火)のオンライン授業では実施中に記憶する絵を画面で表示します。

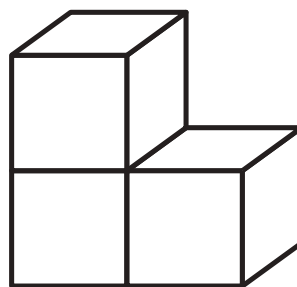
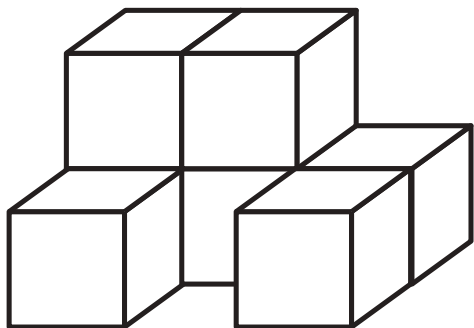
①



②



③



※1. このプリントは、しながわ・目黒こどもスクールのウェブサイトからダウンロードできます。無断複写・引用はご遠慮ください。

※2. このプリントを活用したオンライン授業のスケジュールは、しながわ・目黒こどもスクールのウェブサイトでご確認ください。





おうちで、やろう。

Study at home. 小学校受験の家庭学習教材

記憶：絵の記憶⑦

別紙『記憶 - 絵の記憶⑦記憶用紙』を使用します。記憶用紙の絵を見た後に①、②、③の問題に取り組みましょう。

①

②

③

※1. このプリントは、しながわ・目黒こどもスクールのウェブサイトでダウンロードができます。無断複写・引用はご遠慮ください。

※2. このプリントを活用したオンライン授業のスケジュールは、しながわ・目黒こどもスクールのウェブサイトでご確認ください。





おうちで、やろう。

Study at home. 小学校受験の家庭学習教材

図形：移動③②

マスの中に灰色の丸と白丸があり、灰色の丸は1回で2マス、白丸は1マスずつ時計回りに進みます。進む回数は左側にある星の数です。この約束の時、星の回数だけ進んだ後の場所を考えて、正しいものを右の4つの中から選んで○をつけます。



★				
---	--	--	--	--

★				
★				

★				
★				

★				
★				
★				

※1. このプリントは、しながわ・目黒こどもスクールのウェブサイトでダウンロードができます。無断複写・引用はご遠慮ください。
※2. このプリントを活用したオンライン授業のスケジュールは、しながわ・目黒こどもスクールのウェブサイトでご確認ください。





おうちで、やろう。

Study at home. 小学校受験の家庭学習教材

図形：移動③

マスの中に灰色の丸と白丸があり、灰色の丸は1回で2マス、白丸は1マスずつ時計回りに進みます。進む回数は左側にある星の数です。この約束の時、星の回数だけ進んだ後の場所を考えて、正しいものを右の4つの中から選んで○をつけます。



★ ★				
--------	--	--	--	--

★ ★				
--------	--	--	--	--

★ ★ ★				
-------------	--	--	--	--

★ ★ ★				
-------------	--	--	--	--

※1. このプリントは、しながわ・目黒こどもスクールのウェブサイトでダウンロードができます。無断複写・引用はご遠慮ください。
※2. このプリントを活用したオンライン授業のスケジュールは、しながわ・目黒こどもスクールのウェブサイトでご確認ください。







おうちで、やろう。

Study at home. 小学校受験の家庭学習教材

図形：移動③④

マスの中に灰色の丸と白丸があり、灰色の丸は1回で1マス、白丸は2マスずつ時計回りに進みます。進む回数は左側にある星の数です。この約束の時、星の回数だけ進んだ後の場所を考えて、正しいものを右の4つの中から選んで○をつけます。



★				
---	--	--	--	--

★ ★			
--------	--	--	--

★ ★				
--------	--	--	--	--

★ ★ ★			
-------------	--	--	--

※1. このプリントは、しながわ・目黒こどもスクールのウェブサイトでダウンロードができます。無断複写・引用はご遠慮ください。
※2. このプリントを活用したオンライン授業のスケジュールは、しながわ・目黒こどもスクールのウェブサイトでご確認ください。

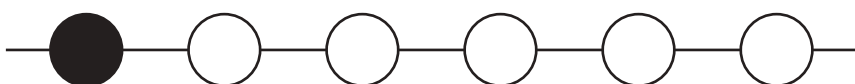
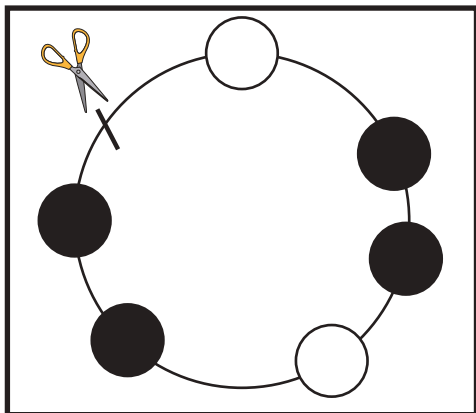
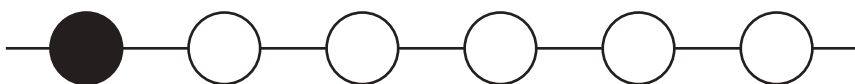

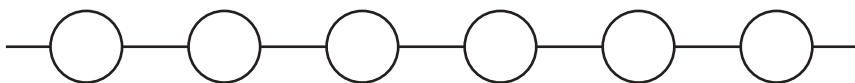
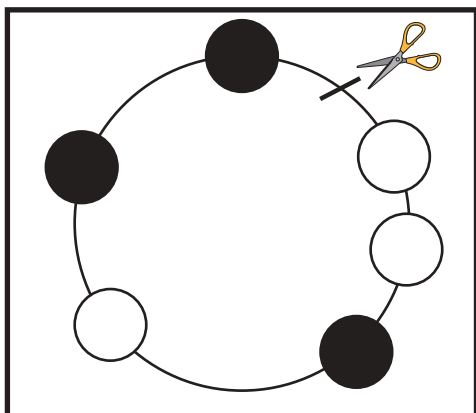
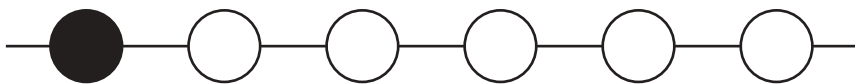
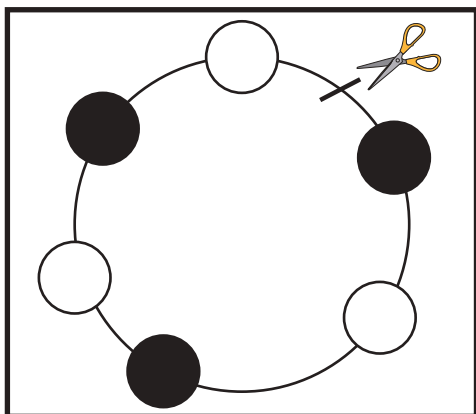


おうちで、やろう。

Study at home. 小学校受験の家庭学習教材

推理：輪つなぎ③

左の四角の中は白と黒のビーズでできたプレスレットです。このプレスレットを線のところではさみで切りました。切ったあと、右のように並べたとき、黒いビーズはどこになりますか。黒いビーズの場所を塗ります。



※1. このプリントは、しながわ・目黒こどもスクールのウェブサイトでダウンロードができます。無断複写・引用はご遠慮ください。

※2. このプリントを活用したオンライン授業のスケジュールは、しながわ・目黒こどもスクールのウェブサイトでご確認ください。

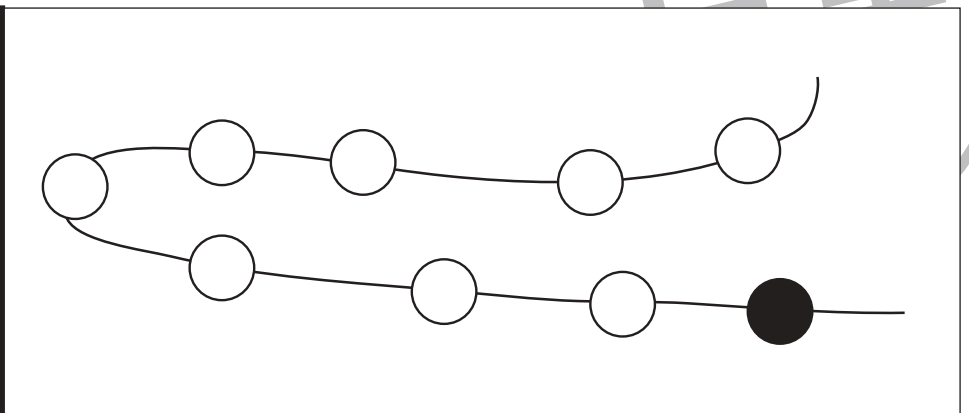
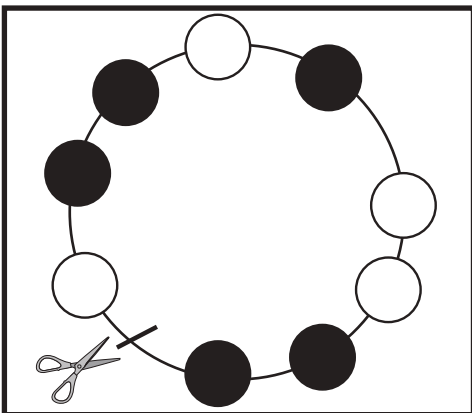
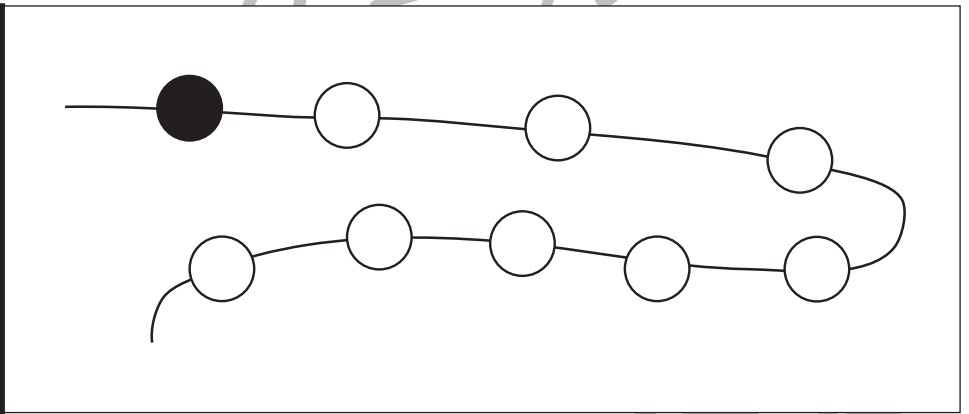
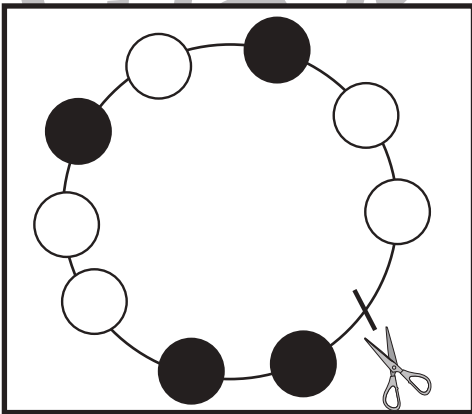
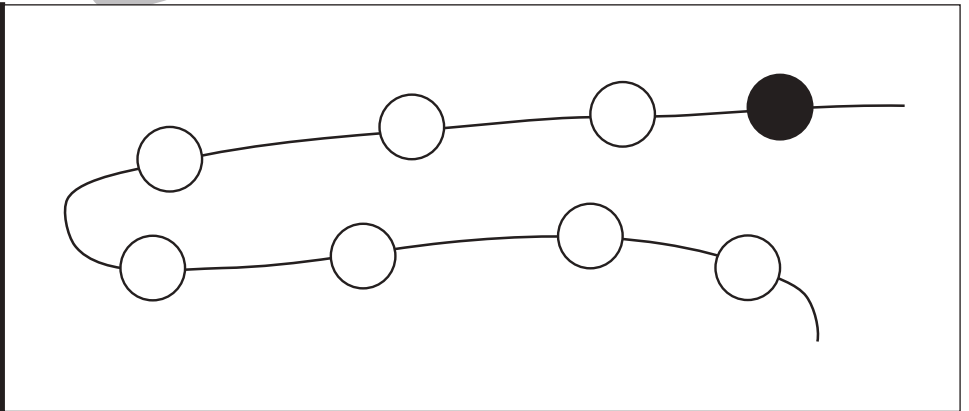
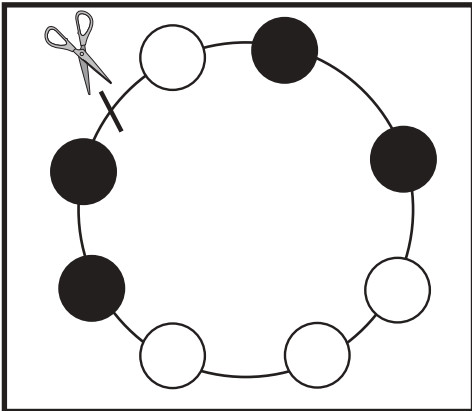
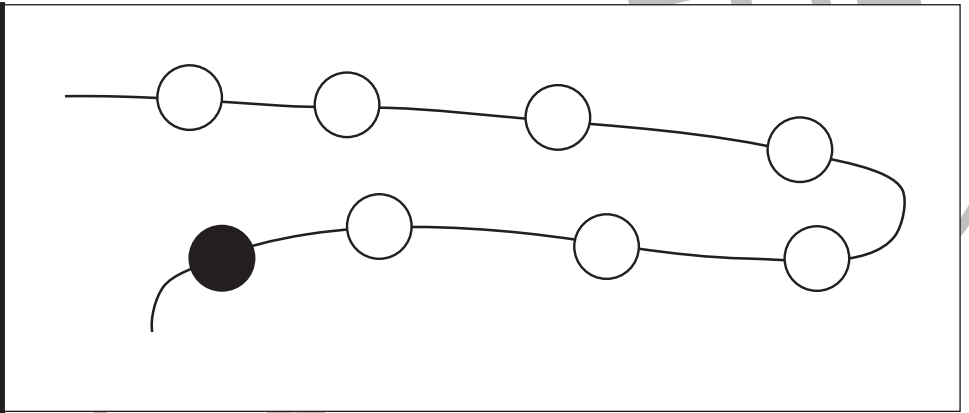
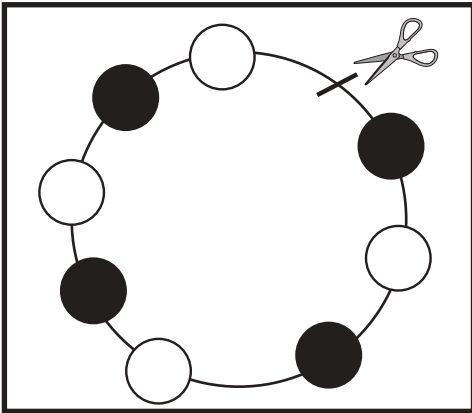


おうちで、やろう。

Study at home. 小学校受験の家庭学習教材

推理：輪つなぎ④

左の四角の中は白と黒のビーズでできたプレスレットです。このプレスレットを線の場所ではさみで切りました。切ったあと、右のように並べたとき、黒いビーズはどこになりますか。黒いビーズの場所を塗ります。



※1. このプリントは、しながわ・目黒こどもスクールのウェブサイトでダウンロードができます。無断複写・引用はご遠慮ください。
※2. このプリントを活用したオンライン授業のスケジュールは、しながわ・目黒こどもスクールのウェブサイトでご確認ください。



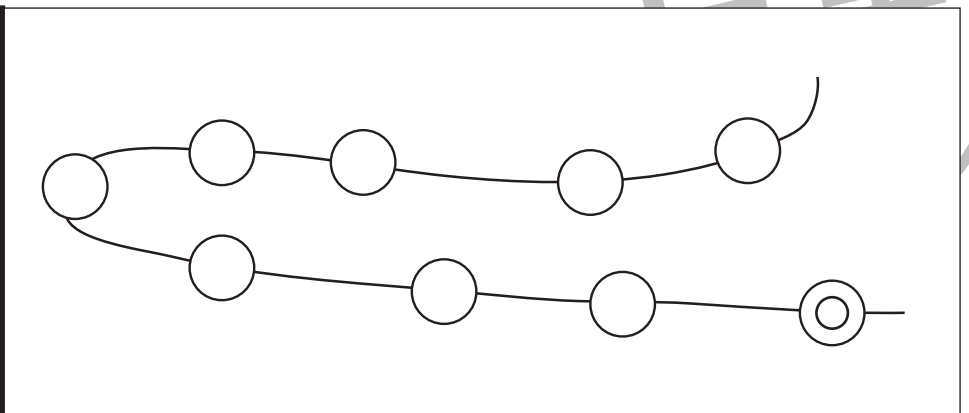
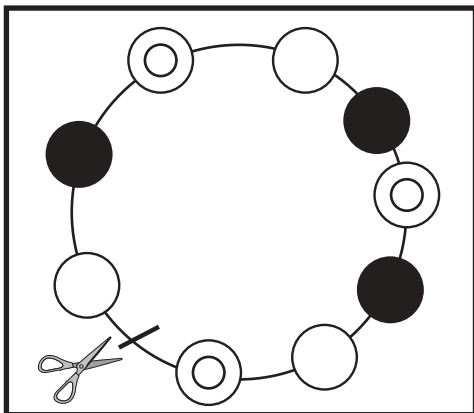
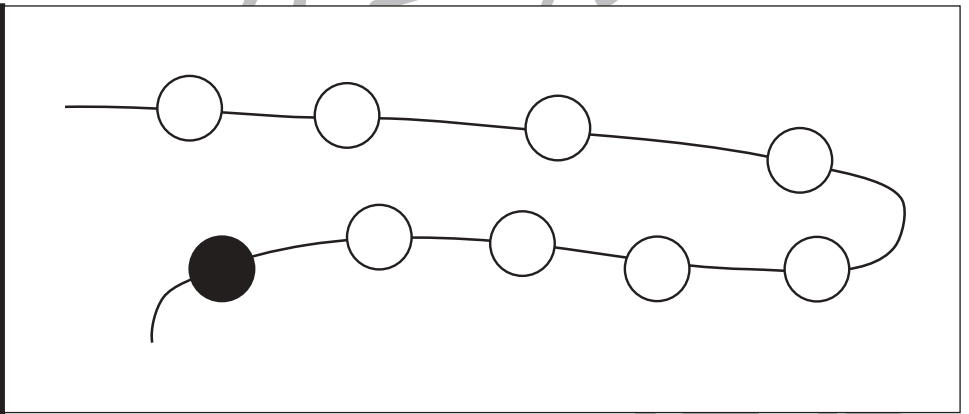
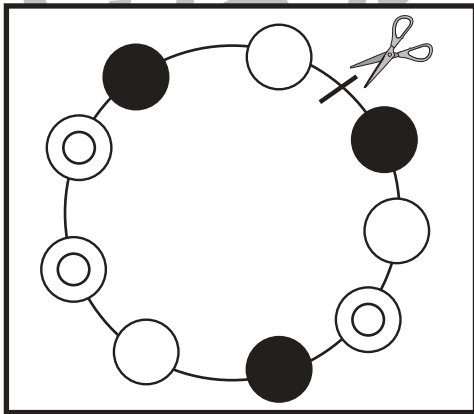
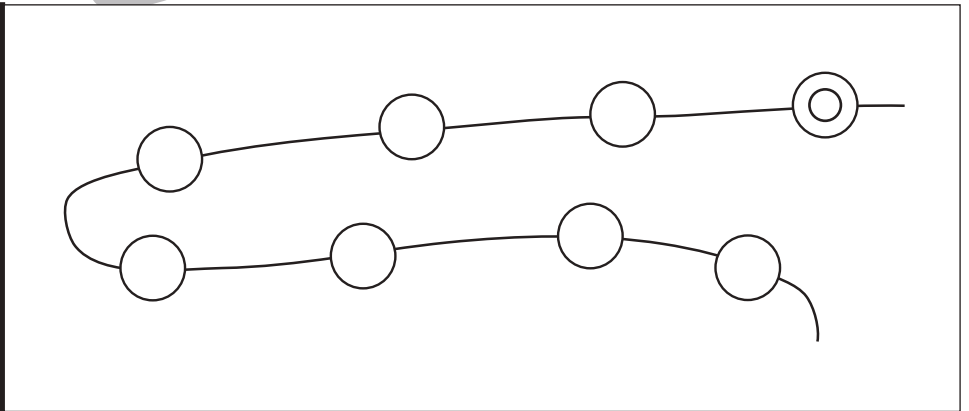
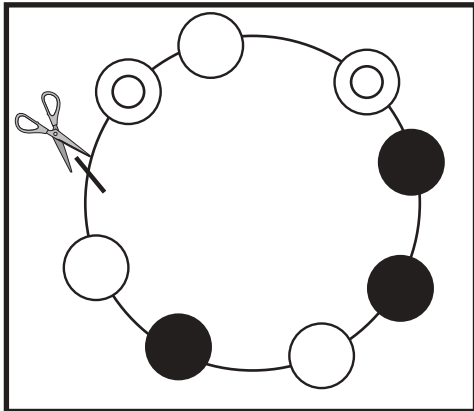
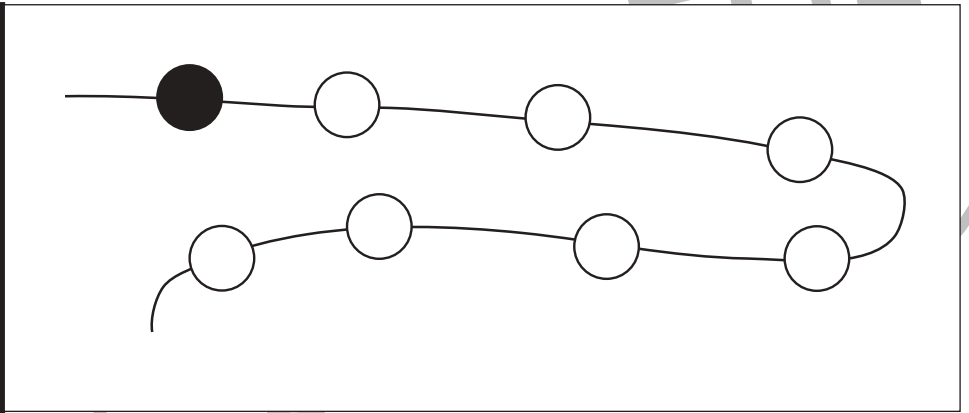
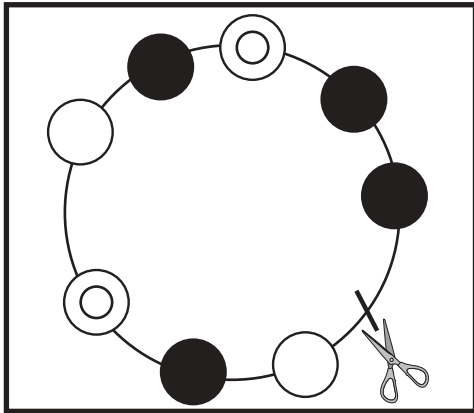


おうちで、やろう。

Study at home. 小学校受験の家庭学習教材

推理：輪つなぎ⑤

左の四角の中は3つピースでできたプレスレットです。このプレスレットを線の場所ではさみで切りました。切ったあと、右のように並べたときのビーズの並び方はどうなりますか。その通りになるように色を塗ったり、印をかきます。



※1. このプリントは、しながわ・目黒こどもスクールのウェブサイトからダウンロードができます。無断複写・引用はご遠慮ください。
※2. このプリントを活用したオンライン授業のスケジュールは、しながわ・目黒こどもスクールのウェブサイトでご確認ください。

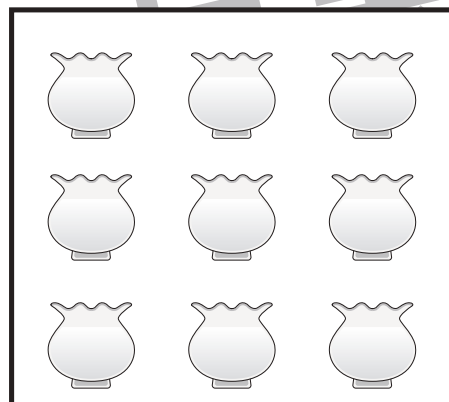



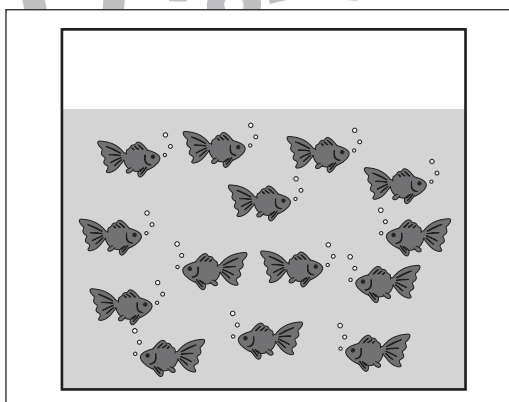
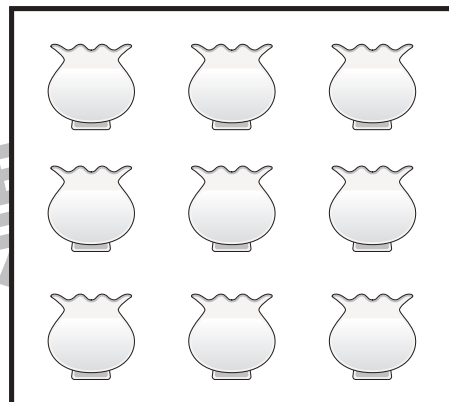

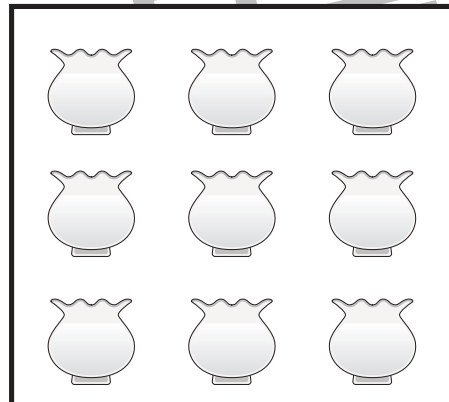
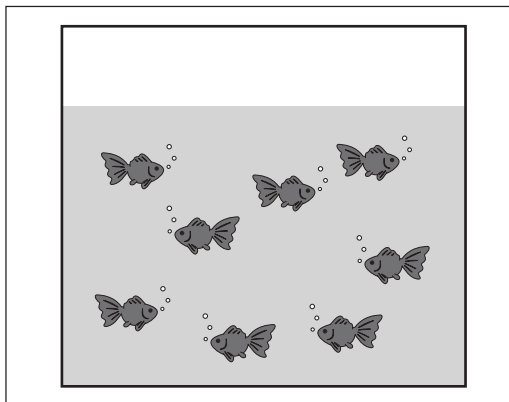


おうちで、やろう。

Study at home. 小学校受験の家庭学習教材

数量：対応⑩

左の四角の中の大きな水槽に金魚がいます。真ん中の小さい水槽に絵の数だけ金魚を移します。大きな水槽の金魚をすべて移動させるには小さな水槽がいくつあればよいですか。その数だけ、右の四角の水槽を囲みます。



※1. このプリントは、しながわ・目黒こどもスクールのウェブサイトでダウンロードができます。無断複写・引用はご遠慮ください。

※2. このプリントを活用したオンライン授業のスケジュールは、しながわ・目黒こどもスクールのウェブサイトでご確認ください。



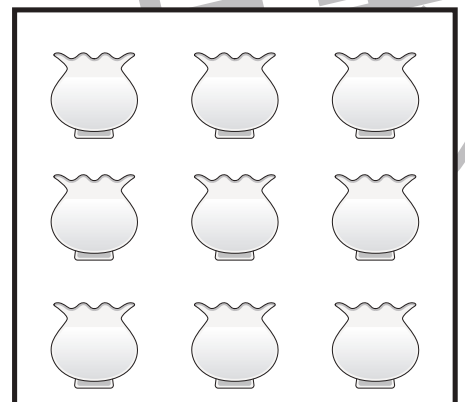


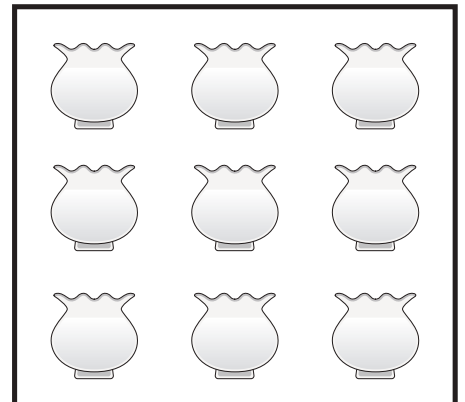

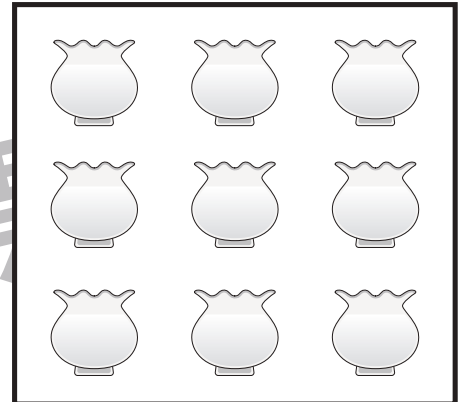
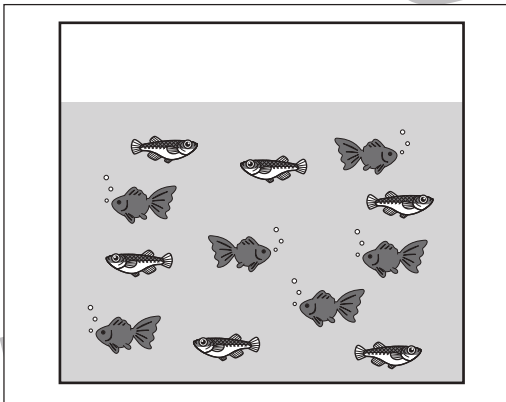
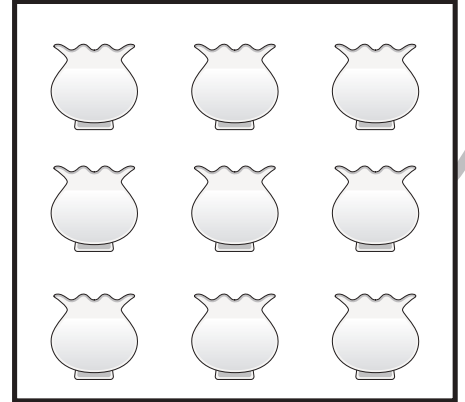




おうちで、やろう。

Study at home. 小学校受験の家庭学習教材

数量：対応⑪

左の四角の中の大きな水槽に金魚がいます。真ん中の小さい水槽に絵の数だけ金魚を移します。大きな水槽の金魚をすべて移動させるには小さな水槽がいくつあればよいですか。その数だけ、右の四角の水槽を囲みます。



※1. このプリントは、しながわ・目黒こどもスクールのウェブサイトでダウンロードができます。無断複写・引用はご遠慮ください。

※2. このプリントを活用したオンライン授業のスケジュールは、しながわ・目黒こどもスクールのウェブサイトでご確認ください。





おうちで、やろう。

Study at home. 小学校受験の家庭学習教材

処理：模写⑨

左の四角がお手本です。黒いマスと灰色のマス場所を考えて、右の四角の同じ場所に記号をかきます。黒いマスの場所には○、灰色のマスの場所には×をかきます。この問題はスピードを意識して取り組む練習をしてみましょう。(1分30秒～2分)

黒	灰	白	灰
白	白	黒	白
灰	白	黒	灰
白	黒	白	白

白	白	白	白
白	白	白	白
白	白	白	白
白	白	白	白

白	黒	白	白
灰	白	黒	白
白	灰	灰	白
黒	白	白	黒

白	白	白	白
白	白	白	白
白	白	白	白
白	白	白	白

白	白	白	黒
灰	灰	黒	白
白	黒	白	白
白	黒	白	灰

白	白	白	白
白	白	白	白
白	白	白	白
白	白	白	白

灰	白	白	灰
白	灰	黒	白
白	白	黒	白
黒	白	白	白

白	白	白	白
白	白	白	白
白	白	白	白
白	白	白	白

白	白	灰	白
白	黒	白	灰
灰	白	黒	白
白	黒	白	黒

白	白	白	白
白	白	白	白
白	白	白	白
白	白	白	白

白	白	白	白
白	黒	灰	黒
灰	白	灰	白
黒	白	黒	白

白	白	白	白
白	白	白	白
白	白	白	白
白	白	白	白

灰	白	黒	白
白	白	黒	白
白	黒	白	灰
白	黒	灰	白

白	白	白	白
白	白	白	白
白	白	白	白
白	白	白	白

白	黒	白	白
白	黒	灰	白
灰	白	灰	黒
白	灰	白	白

白	白	白	白
白	白	白	白
白	白	白	白
白	白	白	白

黒	白	黒	灰
白	白	白	白
白	灰	黒	白
灰	白	白	黒

白	白	白	白
白	白	白	白
白	白	白	白
白	白	白	白

黒	白	白	灰
白	灰	黒	白
白	黒	灰	白
白	白	白	灰

白	白	白	白
白	白	白	白
白	白	白	白
白	白	白	白

※1. このプリントは、しながわ・目黒こどもスクールのウェブサイトでダウンロードができます。無断複写・引用はご遠慮ください。
※2. このプリントを活用したオンライン授業のスケジュールは、しながわ・目黒こどもスクールのウェブサイトでご確認ください。