



おうちで、やろう。

Study at home. 小学校受験の家庭学習教材

図形：折り重ね④③

大きな3枚の四角を太い線のところで矢印の方向に折り重ねた時の真ん中の四角の見え方を考えます。真ん中の四角はどのように見えるかを考えて、すぐ下の四角にかきます。もし間違えてしまったときは、一番下の四角にかきなおしましょう。

The diagram shows three 3x3 grids illustrating the process of overlapping shapes. Each grid has a thick horizontal line across the middle row. Arrows indicate the direction of folding: the top row folds down, and the bottom row folds up. The shapes in the grids are:

- Grid 1: (1,1) Black triangle, (2,2) White circle, (2,3) White triangle, (3,1) White triangle.
- Grid 2: (1,1) Black triangle, (1,3) White circle, (2,2) Black triangle, (3,1) Black triangle, (3,3) White circle.
- Grid 3: (1,3) Black square, (2,1) Black square, (2,2) Black square, (3,3) White circle, (3,2) White triangle, (4,2) White inverted triangle, (4,3) White circle, (5,1) Black circle, (5,2) Black inverted triangle, (5,3) Black circle.

 Below each grid is a blank 3x3 grid for the student to draw the result of the overlapping process.

※1. このプリントは、しながわ・目黒こどもスクールのウェブサイトでダウンロードができます。無断複写・引用はご遠慮ください。

※2. このプリントを活用したオンライン授業のスケジュールは、しながわ・目黒こどもスクールのウェブサイトでご確認ください。



おうちで、やろう。

Study at home. 小学校受験の家庭学習教材

図形：折り重ね④④

大きな3枚の四角を点線、太い線の順番で矢印の方向に折り重ねた時の一番上の四角の見え方を考えます。一番上の四角はどのように見えるかを考えて、すぐ下の四角にかきます。もし間違えてしまったときは、一番下の四角にかきなおしましょう。

The puzzle involves three 3x3 grids. The first grid contains the following elements: Row 1: (1,1) white circle; Row 2: (2,3) white inverted triangle; Row 3: (3,1) black circle; Row 4: (4,1) white circle; Row 5: (5,1) white circle, (5,2) black square, (5,3) black triangle; Row 6: (6,2) black circle; Row 7: (7,2) black square, (7,3) black square; Row 8: (8,1) black square; Row 9: (9,2) black square. A solid horizontal line is drawn between rows 3 and 4, and a dashed horizontal line is drawn between rows 6 and 7. Arrows indicate folding the top part down and the bottom part up. The second grid shows the result of the first fold. The third grid shows the result of the second fold. Below each grid is a blank 3x3 grid for the student to draw the final visible shape.

※1. このプリントは、しながわ・目黒こどもスクールのウェブサイトでダウンロードができます。無断複写・引用はご遠慮ください。

※2. このプリントを活用したオンライン授業のスケジュールは、しながわ・目黒こどもスクールのウェブサイトでご確認ください。



おうちで、やろう。

Study at home. 小学校受験の家庭学習教材

図形：折り重ね④5

大きな3枚の四角を点線、太い線の順番に矢印の方向に折り重ねた時の一番下の四角の見え方を考えます。一番下の四角はどのように見えるかを考えて、すぐ下の空いている四角にかきます。もし間違えてしまったときは、一番下の空いている四角にかきなおしましょう。

※1. このプリントは、しながわ・目黒こどもスクールのウェブサイトでダウンロードができます。無断複写・引用はご遠慮ください。

※2. このプリントを活用したオンライン授業のスケジュールは、しながわ・目黒こどもスクールのウェブサイトでご確認ください。



おうちで、やろう。

Study at home. 小学校受験の家庭学習教材

図形：折り重ね④⑥

大きな3枚の四角を点線、太い線の順番に矢印の方向に折り重ねた時の一番下の四角の見え方を考えます。一番下の四角はどのように見えるかを考えて、すぐ下の空いている四角にかきます。もし間違えてしまったときは、一番下の空いている四角にかきなおしましょう。

※1. このプリントは、しながわ・目黒こどもスクールのウェブサイトでダウンロードができます。無断複写・引用はご遠慮ください。

※2. このプリントを活用したオンライン授業のスケジュールは、しながわ・目黒こどもスクールのウェブサイトでご確認ください。



おうちで、やろう。

Study at home. 小学校受験の家庭学習教材

推理：あみだくじ⑦

ウサギが吹き出しの中のリンゴを持ってあみだくじを進みます。途中の白いサイコロでは目の数だけリンゴが増え、黒いサイコロではその目の数だけリンゴが減ります。一番下まで行ったときにウサギが持っているリンゴの数だけ下の四角に○をかきます。

※あみだくじのルール：①上から下へ進みます。道は戻ってはいけません。②途中で曲がり角があったら必ず曲がります。






※1. このプリントは、しながわ・目黒こどもスクールのウェブサイトでダウンロードができます。無断複写・引用はご遠慮ください。

※2. このプリントを活用したオンライン授業のスケジュールは、しながわ・目黒こどもスクールのウェブサイトでご確認ください。



おうちで、やろう。

Study at home. 小学校受験の家庭学習教材

推理：あみだくじ⑧

ウサギが吹き出しの中のリンゴを持ってあみだくじを進みます。途中の白いサイコロでは目の数だけリンゴが増え、黒いサイコロではその目の数だけリンゴが減ります。一番下まで行ったときにウサギが持っているリンゴの数だけ下の四角に○をかきます。
※あみだくじのルール：①上から下へ進みます。道は戻ってはいけません。②途中で曲がり角があったら必ず曲がります。

ウサギの吹き出し：4個のリンゴ

あみだくじの道筋：

- 1段目：左から右へ
- 2段目：右から左へ
- 3段目：左から右へ
- 4段目：右から左へ
- 5段目：左から右へ
- 6段目：右から左へ
- 7段目：左から右へ
- 8段目：右から左へ
- 9段目：左から右へ
- 10段目：右から左へ
- 11段目：左から右へ
- 12段目：右から左へ
- 13段目：左から右へ
- 14段目：右から左へ
- 15段目：左から右へ
- 16段目：右から左へ
- 17段目：左から右へ
- 18段目：右から左へ
- 19段目：左から右へ
- 20段目：右から左へ

サイコロの目：

- 1段目：白1
- 2段目：黒2
- 3段目：白3
- 4段目：黒4
- 5段目：白5
- 6段目：黒6
- 7段目：白7
- 8段目：黒8
- 9段目：白9
- 10段目：黒10
- 11段目：白11
- 12段目：黒12
- 13段目：白13
- 14段目：黒14
- 15段目：白15
- 16段目：黒16
- 17段目：白17
- 18段目：黒18
- 19段目：白19
- 20段目：黒20



ウサギの吹き出し：3個のリンゴ

あみだくじの道筋：

- 1段目：左から右へ
- 2段目：右から左へ
- 3段目：左から右へ
- 4段目：右から左へ
- 5段目：左から右へ
- 6段目：右から左へ
- 7段目：左から右へ
- 8段目：右から左へ
- 9段目：左から右へ
- 10段目：右から左へ
- 11段目：左から右へ
- 12段目：右から左へ
- 13段目：左から右へ
- 14段目：右から左へ
- 15段目：左から右へ
- 16段目：右から左へ
- 17段目：左から右へ
- 18段目：右から左へ
- 19段目：左から右へ
- 20段目：右から左へ

サイコロの目：

- 1段目：黒1
- 2段目：白2
- 3段目：黒3
- 4段目：白4
- 5段目：黒5
- 6段目：白6
- 7段目：黒7
- 8段目：白8
- 9段目：黒9
- 10段目：白10
- 11段目：黒11
- 12段目：白12
- 13段目：黒13
- 14段目：白14
- 15段目：黒15
- 16段目：白16
- 17段目：黒17
- 18段目：白18
- 19段目：黒19
- 20段目：白20



ウサギの吹き出し：7個のリンゴ

あみだくじの道筋：

- 1段目：左から右へ
- 2段目：右から左へ
- 3段目：左から右へ
- 4段目：右から左へ
- 5段目：左から右へ
- 6段目：右から左へ
- 7段目：左から右へ
- 8段目：右から左へ
- 9段目：左から右へ
- 10段目：右から左へ
- 11段目：左から右へ
- 12段目：右から左へ
- 13段目：左から右へ
- 14段目：右から左へ
- 15段目：左から右へ
- 16段目：右から左へ
- 17段目：左から右へ
- 18段目：右から左へ
- 19段目：左から右へ
- 20段目：右から左へ

サイコロの目：

- 1段目：黒5
- 2段目：白4
- 3段目：黒3
- 4段目：白2
- 5段目：黒1
- 6段目：白6
- 7段目：黒7
- 8段目：白8
- 9段目：黒9
- 10段目：白10
- 11段目：黒11
- 12段目：白12
- 13段目：黒13
- 14段目：白14
- 15段目：黒15
- 16段目：白16
- 17段目：黒17
- 18段目：白18
- 19段目：黒19
- 20段目：白20



ウサギの吹き出し：6個のリンゴ

あみだくじの道筋：

- 1段目：左から右へ
- 2段目：右から左へ
- 3段目：左から右へ
- 4段目：右から左へ
- 5段目：左から右へ
- 6段目：右から左へ
- 7段目：左から右へ
- 8段目：右から左へ
- 9段目：左から右へ
- 10段目：右から左へ
- 11段目：左から右へ
- 12段目：右から左へ
- 13段目：左から右へ
- 14段目：右から左へ
- 15段目：左から右へ
- 16段目：右から左へ
- 17段目：左から右へ
- 18段目：右から左へ
- 19段目：左から右へ
- 20段目：右から左へ

サイコロの目：

- 1段目：黒6
- 2段目：白5
- 3段目：黒4
- 4段目：白3
- 5段目：黒2
- 6段目：白1
- 7段目：黒7
- 8段目：白8
- 9段目：黒9
- 10段目：白10
- 11段目：黒11
- 12段目：白12
- 13段目：黒13
- 14段目：白14
- 15段目：黒15
- 16段目：白16
- 17段目：黒17
- 18段目：白18
- 19段目：黒19
- 20段目：白20



※1. このプリントは、しながわ・目黒こどもスクールのウェブサイトでダウンロードができます。無断複写・引用はご遠慮ください。
※2. このプリントを活用したオンライン授業のスケジュールは、しながわ・目黒こどもスクールのウェブサイトでご確認ください。



おうちで、やろう。

Study at home. 小学校受験の家庭学習教材

推理：構成④

上のマスの中に黒い丸、灰色の丸、白い丸があります。この3種類の丸が1つずつになるように分けます。どこで分ければよいか考えて、矢印の下のマスの点線をなぞります。

↓	↓	↓
↓	↓	↓

※1. このプリントは、しながわ・目黒こどもスクールのウェブサイトでダウンロードができます。無断複写・引用はご遠慮ください。
 ※2. このプリントを活用したオンライン授業のスケジュールは、しながわ・目黒こどもスクールのウェブサイトでご確認ください。




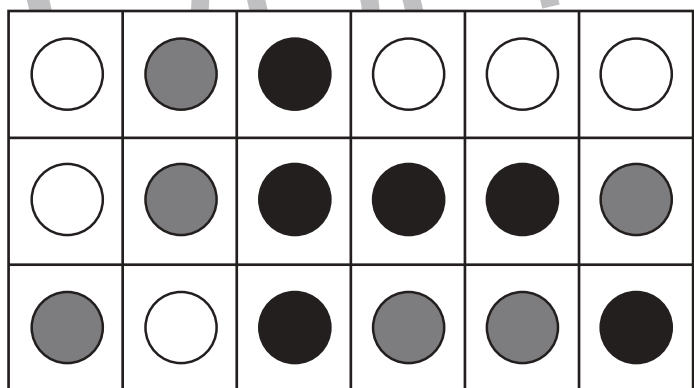


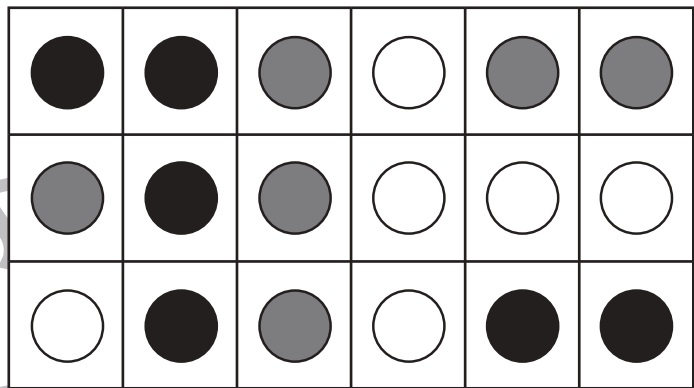
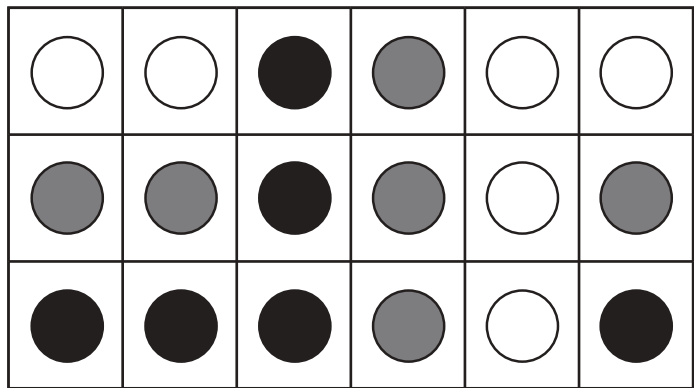


おうちで、やろう。

Study at home. 小学校受験の家庭学習教材

推理：構成⑤

上のマスの中に黒い丸、灰色の丸、白い丸があります。この3種類の丸が1つずつになるように分けます。どこで分ければよいか考えて、矢印の下のマスの点線をなぞります。



※1. このプリントは、しながわ・目黒こどもスクールのウェブサイトでダウンロードができます。無断複写・引用はご遠慮ください。

※2. このプリントを活用したオンライン授業のスケジュールは、しながわ・目黒こどもスクールのウェブサイトでご確認ください。



おうちで、やろう。

Study at home. 小学校受験の家庭学習教材

推理：左右⑥

左手をあげている人の手に○をつけます。
右手をあげている女の人の手に×をつけます。



※1. このプリントは、しながわ・目黒こどもスクールのウェブサイトでダウンロードができます。無断複写・引用はご遠慮ください。
※2. このプリントを活用したオンライン授業のスケジュールは、しながわ・目黒こどもスクールのウェブサイトでご確認ください。

