



おうちで、やろう。

Study at home. 小学校受験の家庭学習教材

図形：折り重ね④③

大きな3枚の四角を太い線のところで矢印の方向に折り重ねた時の真ん中の四角の見え方を考えます。真ん中の四角はどのように見えるかを考えて、すぐ下の四角にかきます。もし間違えてしまったときは、一番下の四角にかきなおしましょう。

※1. このプリントは、しながわ・目黒こどもスクールのウェブサイトでダウンロードができます。無断複写・引用はご遠慮ください。

※2. このプリントを活用したオンライン授業のスケジュールは、しながわ・目黒こどもスクールのウェブサイトでご確認ください。



おうちで、やろう。

Study at home. 小学校受験の家庭学習教材

図形：折り重ね④④

大きな3枚の四角を点線、太い線の順番で矢印の方向に折り重ねた時の一番上の四角の見え方を考えます。一番上の四角はどのように見えるかを考えて、すぐ下の四角にかきます。もし間違えてしまったときは、一番下の四角にかきなおしましょう。

※1. このプリントは、しながわ・目黒こどもスクールのウェブサイトでダウンロードができます。無断複写・引用はご遠慮ください。

※2. このプリントを活用したオンライン授業のスケジュールは、しながわ・目黒こどもスクールのウェブサイトでご確認ください。



おうちで、やろう。

Study at home. 小学校受験の家庭学習教材

図形：折り重ね④5

大きな3枚の四角を点線、太い線の順番に矢印の方向に折り重ねた時の一番下の四角の見え方を考えます。一番下の四角はどのように見えるかを考えて、すぐ下の空いている四角にかきます。もし間違えてしまったときは、一番下の空いている四角にかきなおしましょう。

※1. このプリントは、しながわ・目黒こどもスクールのウェブサイトでダウンロードができます。無断複写・引用はご遠慮ください。
※2. このプリントを活用したオンライン授業のスケジュールは、しながわ・目黒こどもスクールのウェブサイトでご確認ください。

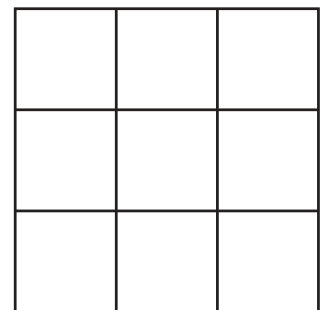
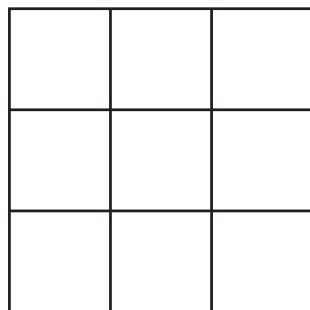
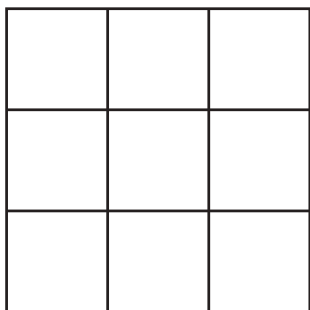


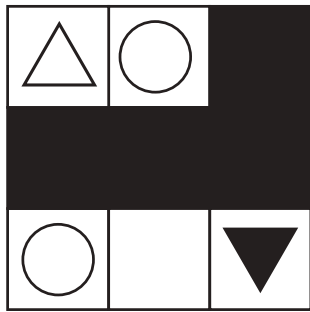
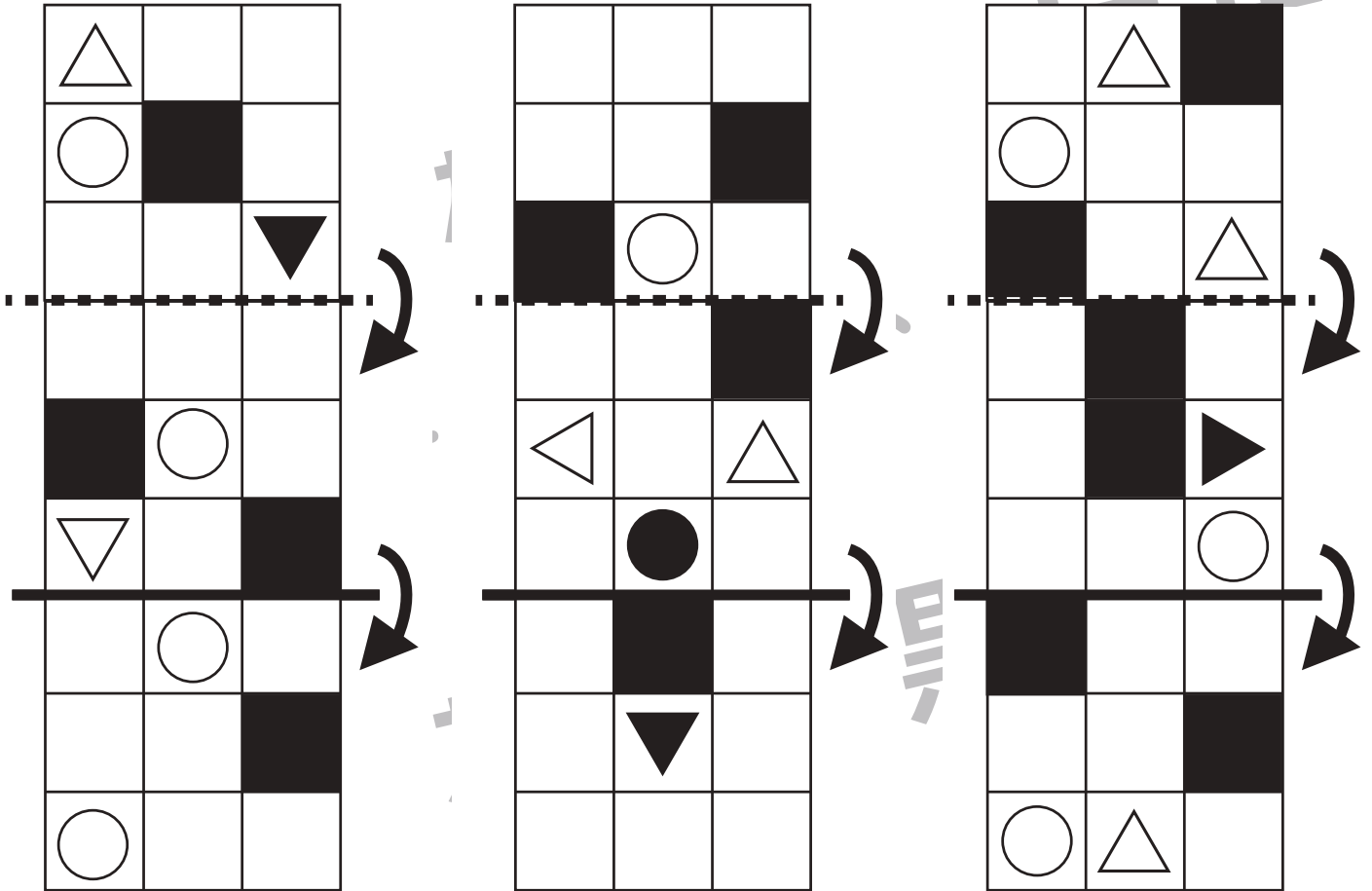


おうちで、やろう。

Study at home. 小学校受験の家庭学習教材

図形：折り重ね④⑥

大きな3枚の四角を点線、太い線の順番に矢印の方向に折り重ねた時の一番下の四角の見え方を考えます。一番下の四角はどのように見えるかを考えて、すぐ下の空いている四角にかきます。もし間違えてしまったときは、一番下の空いている四角にかきなおしましょう。



※1. このプリントは、しながわ・目黒こどもスクールのウェブサイトでダウンロードができます。無断複写・引用はご遠慮ください。

※2. このプリントを活用したオンライン授業のスケジュールは、しながわ・目黒こどもスクールのウェブサイトでご確認ください。



おうちで、やろう。

Study at home. 小学校受験の家庭学習教材

推理：あみだくじ⑦

ウサギが吹き出しの中のリンゴを持ってあみだくじを進みます。途中の白いサイコロでは目の数だけリンゴが増え、黒いサイコロではその目の数だけリンゴが減ります。一番下まで行ったときにウサギが持っているリンゴの数だけ下の四角に○をかきます。

※あみだくじのルール：①上から下へ進みます。道は戻ってはいけません。②途中で曲がり角があったら必ず曲がります。

○ × 8

○ × 10

○ × 10

○ × 9

※1. このプリントは、しながわ・目黒こどもスクールのウェブサイトでダウンロードができます。無断複写・引用はご遠慮ください。

※2. このプリントを活用したオンライン授業のスケジュールは、しながわ・目黒こどもスクールのウェブサイトでご確認ください。



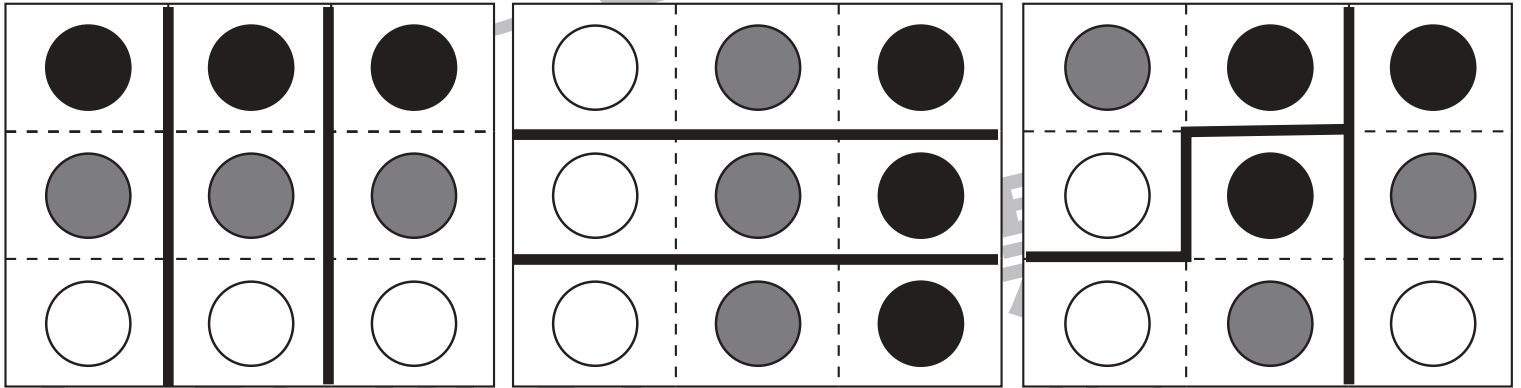
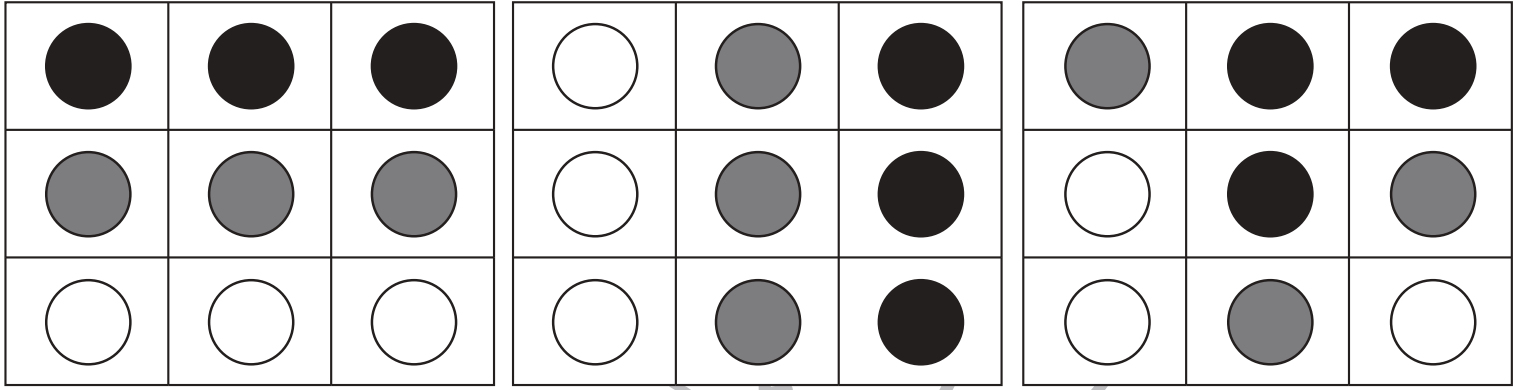


おうちで、やろう。

Study at home. 小学校受験の家庭学習教材

推理：構成④

上のマスの中に黒い丸、灰色の丸、白い丸があります。この3種類の丸が1つずつになるように分けます。どこで分ければよいか考えて、矢印の下のマスの点線をなぞります。※答えは一例です。他にも分けられる場合は正解としてください。



※1. このプリントは、しながわ・目黒こどもスクールのウェブサイトでダウンロードができます。無断複写・引用はご遠慮ください。
 ※2. このプリントを活用したオンライン授業のスケジュールは、しながわ・目黒こどもスクールのウェブサイトでご確認ください。

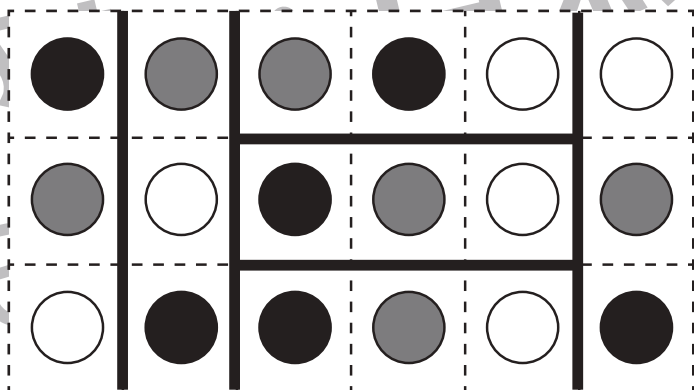
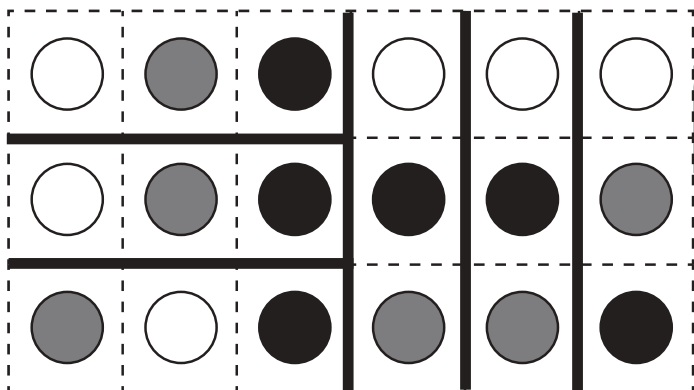

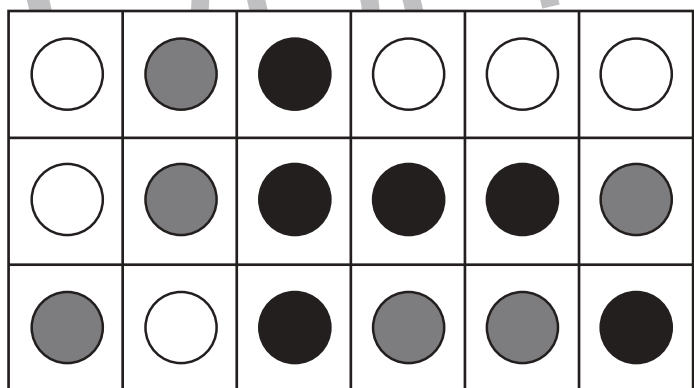
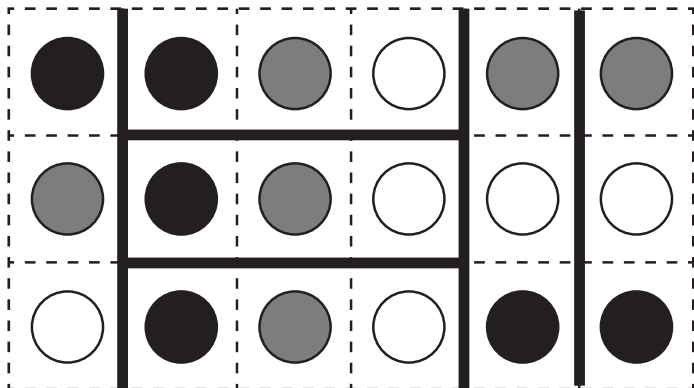
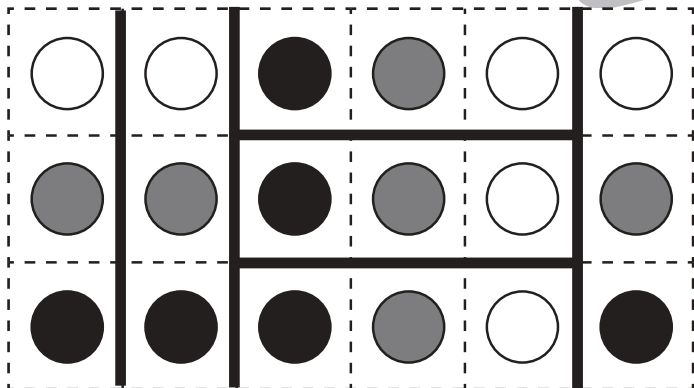
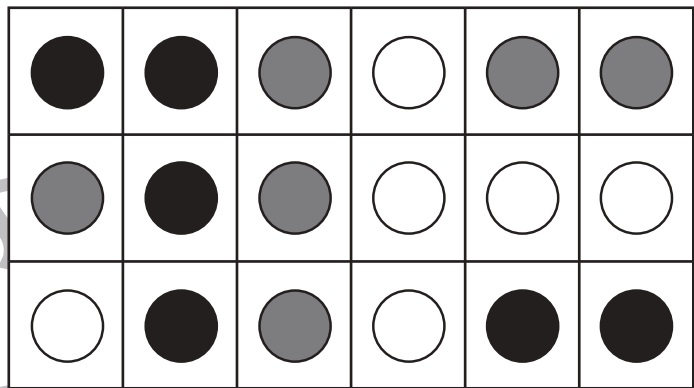
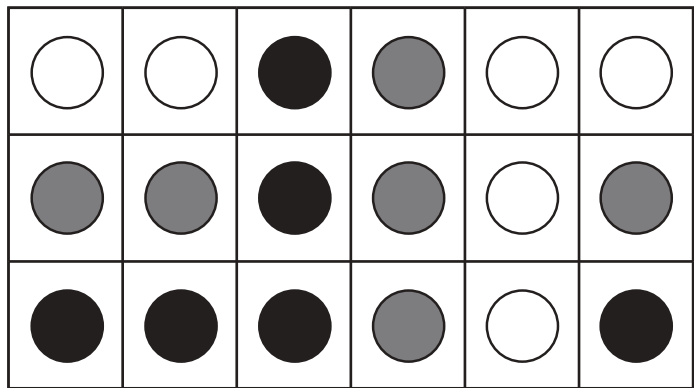


おうちで、やろう。

Study at home. 小学校受験の家庭学習教材

推理：構成⑤

上のマスの中に黒い丸、灰色の丸、白い丸があります。この3種類の丸が1つずつになるように分けます。どこで分ければよいか考えて、矢印の下のマスの点線をなぞります。※答えは一例です。他にも分けられる場合は正解としてください。



※1. このプリントは、しながわ・目黒こどもスクールのウェブサイトでダウンロードができます。無断複写・引用はご遠慮ください。

※2. このプリントを活用したオンライン授業のスケジュールは、しながわ・目黒こどもスクールのウェブサイトでご確認ください。



おうちで、やろう。

Study at home. 小学校受験の家庭学習教材

推理：左右⑥

左手をあげている人の手に○をつけます。
右手をあげている女の人の手に×をつけます。



※1. このプリントは、しながわ・目黒こどもスクールのウェブサイトからダウンロードができます。無断複写・引用はご遠慮ください。
※2. このプリントを活用したオンライン授業のスケジュールは、しながわ・目黒こどもスクールのウェブサイトでご確認ください。

