



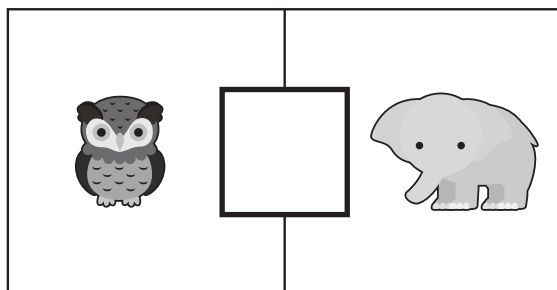
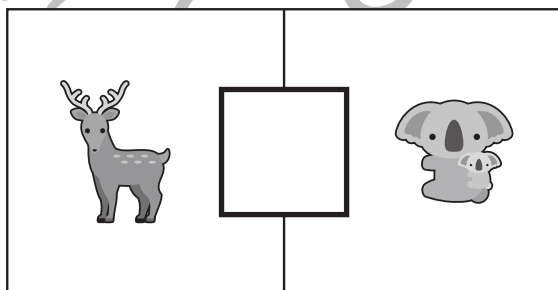
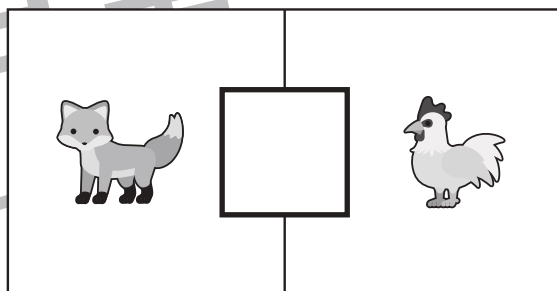




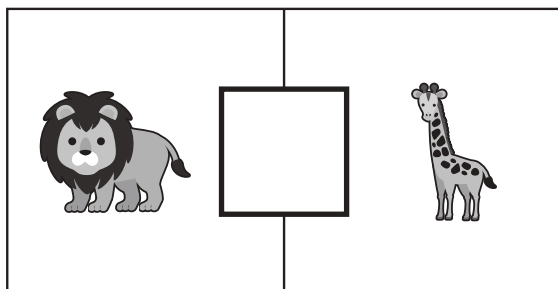


おうちで、やろう。

Study at home. 小学校受験の家庭学習教材

言語：音の理解②④

四角の中の左と右にいる動物の終わりの音を考えます。
終わりの音と同じ場合は○、違う場合は×を真ん中の四角の中にかきます。



※1. このプリントは、しながわ・目黒こどもスクールのウェブサイトでダウンロードができます。無断複写・引用はご遠慮ください。
※2. このプリントを活用したオンライン授業のスケジュールは、しながわ・目黒こどもスクールのウェブサイトでご確認ください。



おうちで、やろう。

Study at home. 小学校受験の家庭学習教材

常識：気持ち③

①～③のお話を聞き、正しいと思う顔に○をつけます。

※この問題に解答はありません。つけた表情についてご家庭でお話してみましょう。


①今日は花火大会です。まきさんは花火大会をとて楽しみにしていました。お気に入りの浴衣を着てでかけます。花火大会に向かっていくときのまきさんの顔はどんな顔だと思いますか。正しいと思う顔に○をつけます。また、どうしてその顔につけたのかお話をしてみましょう。




②-1 今日は音楽発表です。けんじくんのクラスはみんなでお歌をうたいます。けんじくんはみんなの前で発表するのが苦手です。発表する前のけんじくんの顔はどんな顔だと思いますか。正しいと思う顔に○をつけます。また、どうしてその顔につけたのかお話をしてみましょう。



②-2 けんじくんは頑張ってみんなの前でお歌を歌いました。それを見た先生が「がんばりましたね。」と言ってくれました。このときのけんじくんの顔はどんな顔だと思いますか。正しいと思う顔に○をつけます。また、どうしてその顔につけたのかお話をしてみましょう。どんな顔だと思いますか。正しいと思う顔に○をつけます。また、どうしてその顔につけたのかお話をしてみましょう。



③こうたくんはお母さんの誕生日プレゼントで『お手伝い券』をあげました。その時のお母さんの顔はどんな顔だと思いますか。正しいと思う顔に○をつけます。また、どうしてその顔につけたのかお話をしてみましょう。



※1. このプリントは、しながわ・目黒こどもスクールのウェブサイトダウンロードができます。無断複写・引用はご遠慮ください。

※2. このプリントを活用したオンライン授業のスケジュールは、しながわ・目黒こどもスクールのウェブサイトでご確認ください。



おうちで、やろう。

Study at home. 小学校受験の家庭学習教材

常識：気持ち④

①～④のお話を聞き、正しいと思う顔に○をつけます。

※この問題に解答はありません。つけた表情についてご家庭でお話してみましょう。


①たまきさんは幼稚園でクレヨンで絵を描いていました。するとこうたくんがやってきて、たまきさんのクレヨンをかけて持って行ってしまいました。この時、たまきさんはどんな顔だと思いますか。正しいと思う顔に○をつけます。また、どうしてその顔につけたのかお話してみましょう。



②ゆうこさんはお友だちのはなこさんとピクニックにいきました。お昼の時間になったのでお弁当を食べようとしたのですが、ゆうこさんのお弁当のふたがあいてバックの中に散らばっていました。この時、ゆうこさんはどんな顔だと思いますか。正しいと思う顔に○をつけます。また、どうしてその顔につけたのかお話してみましょう。



③かんとくんが公園で遊んでいると急に雨が降ってきました。でもかんとくんは傘を持っていません。この時、かんとくんはどんな顔だと思いますか。正しいと思う顔に○をつけます。また、どうしてその顔につけたのかお話してみましょう。



④たけしくん運動の時間に鉄棒で逆上がりをやりました。でも、たけしくんは上手にできませんでした。この時、たけしくんはどんな顔だと思いますか。正しいと思う顔に○をつけます。また、どうしてその顔につけたのかお話してみましょう。



※1. このプリントは、しながわ・目黒こどもスクールのウェブサイトダウンロードができます。無断複写・引用はご遠慮ください。

※2. このプリントを活用したオンライン授業のスケジュールは、しながわ・目黒こどもスクールのウェブサイトでご確認ください。



おうちで、やろう。

Study at home. 小学校受験の家庭学習教材

図形：移動③⑤

それぞれ上の四角が約束です。白丸と黒丸は矢印の方向へマスで1マス進みます。この約束で下のマスの中の白丸と黒丸が☆の数だけマスを進みます。進んだ後の場所を考えて右のマスにかきます。

(1)

○	→	●	←
---	---	---	---

☆

○			
			●
			●
○			

(5)

○	↘	●	↙
---	---	---	---

☆

○			●
○			●

(2)

○	←	●	→
---	---	---	---

☆

		○	
		●	
		●	
		○	

(6)

○	←	●	↗
---	---	---	---

☆

		○	
●			
		●	○

(3)

○	↑	●	↓
---	---	---	---

☆

●			
		●	○
○			

(7)

○	↘	●	↙
---	---	---	---

☆

○	○	●	
		●	

(3)

○	→	●	↑
---	---	---	---

☆

○			●
			●
○			

(8)

○	↗	●	↙
---	---	---	---

☆

○			
●			
		○	●

※1. このプリントは、しながわ・目黒こどもスクールのウェブサイトでダウンロードができます。無断複写・引用はご遠慮ください。
 ※2. このプリントを活用したオンライン授業のスケジュールは、しながわ・目黒こどもスクールのウェブサイトでご確認ください。



おうちで、やろう。

Study at home. 小学校受験の家庭学習教材

図形：移動③⑥

それぞれ上の四角が約束です。白丸と黒丸は矢印の方向へマスで1マス進みます。この約束で下のマスの中の白丸と黒丸が☆の数だけマスを進みます。進んだ後の場所を考えて右のマスにかきます。

(1)

○	←	●	→
---	---	---	---

☆	☆
---	---

		○	
●			
●			
		○	

(5)

○	↓	●	↖
---	---	---	---

☆	☆	☆
---	---	---

	○		○
			●

(2)

○	→	●	←
---	---	---	---

☆	☆
---	---

○			
		●	
			●
	○		

(6)

○	↗	●	←
---	---	---	---

☆	☆	☆
---	---	---

			●
○			●

(3)

○	←	●	↑
---	---	---	---

☆	☆
---	---

●			○
	●	○	

(7)

○	↘	●	↗
---	---	---	---

☆	☆
---	---

○	○		
			●
			●

(3)

○	↓	●	↑
---	---	---	---

☆	☆
---	---

		○	
○			
			●
	●		

(8)

○	↗	●	↘
---	---	---	---

☆	☆
---	---

		●	
			●
○			
	○		

※1. このプリントは、しながわ・目黒こどもスクールのウェブサイトでダウンロードができます。無断複写・引用はご遠慮ください。
 ※2. このプリントを活用したオンライン授業のスケジュールは、しながわ・目黒こどもスクールのウェブサイトでご確認ください。



おうちで、やろう。

Study at home. 小学校受験の家庭学習教材

図形：移動③⑦

それぞれ上の四角が約束です。白丸と黒丸は矢印の方向へマスを進みます。この約束で下のマスの中の白丸と黒丸が☆の数だけマスを進みます。進んだ後の場所を考えて右のマスにかきます。

(1)

○	→
---	---

●	↑
---	---

☆

○			
		●	
●		●	
	○	○	

(5)

○	↑
---	---

●	↗
---	---

☆	☆	☆
---	---	---

●	○	○	

(2)

○	←
---	---

●	↓
---	---

☆	☆
---	---

	●	●	○
		●	
		○	○

(6)

○	↑
---	---

●	←
---	---

☆	☆	☆
---	---	---

			●
			●
○	○		●

(3)

○	↓
---	---

●	↗
---	---

☆	☆
---	---

			○
○	○		
●	●		
	●		

(7)

○	↘
---	---

●	↘
---	---

☆	☆
---	---

			○
			○
			●
		●	●

(3)

○	↘
---	---

●	↗
---	---

☆

○	○		
○			
		●	
	●	●	

(8)

○	↘
---	---

●	↓
---	---

☆	☆
---	---

		●	○
		○	●

※1. このプリントは、しながわ・目黒こどもスクールのウェブサイトでダウンロードができます。無断複写・引用はご遠慮ください。
 ※2. このプリントを活用したオンライン授業のスケジュールは、しながわ・目黒こどもスクールのウェブサイトでご確認ください。



おうちで、やろう。

Study at home. 小学校受験の家庭学習教材

図形：回転③⑤

左の四角を矢印の向きに矢印の数だけ倒したときの見え方が右の四角です。灰色の場所はどのように見えるかを考えて一番右の3つの中から選んで○をつけます。

(1)

			○
●	■	■	○
●	■	■	
		●	

	■	■	
	■	■	
		○	○

	●	●	
	●		●
●	●		

(2)

●			○
	■	■	
●	■	■	
		●	○

	■	■	
●	■	■	
○			○

	●		●
			●
	○		

(3)

○		●	
	■	■	○
	■	■	
●			

●	■	■	
	■	■	
○			●

●			○
	○		
	●		○

(4)

●			○
○	■	■	
●	■	■	
	●		●

	■	■	
	■	■	●
●	○	●	

	●		○
	●	○	●
○			●

※1. このプリントは、しながわ・目黒こどもスクールのウェブサイトでダウンロードができます。無断複写・引用はご遠慮ください。
 ※2. このプリントを活用したオンライン授業のスケジュールは、しながわ・目黒こどもスクールのウェブサイトでご確認ください。



おうちで、やろう。

Study at home. 小学校受験の家庭学習教材

図形：回転③⑥

左の四角を矢印の向きに矢印の数だけ倒したときの見え方が右の四角です。灰色の場所はどのように見えるかを考えて一番右の3つの中から選んで○をつけます。

(1)

	○		
●	■	■	○
	■	■	
●			○

↻
↻

	■	■	
○	■	■	●
		○	

●			○
○			●
●		●	

(2)

●		○	○
	■	■	
	■	■	
●		●	○

↻
↻

	■	■	
	■	■	
○	○		●

●			●
○		●	●
○	●		●

(3)

○		○	●
	■	■	
	■	■	○
●	●		

↻
↻
↻

	■	■	
○	■	■	●
○			●

		●	●
●		○	
●			○

(4)

			○
○	■	■	○
●	■	■	●
●		●	

↻
↻
↻

	■	■	
	■	■	●
	○	●	●

●	●	○	
○	○	●	
	●		●

※1. このプリントは、しながわ・目黒こどもスクールのウェブサイトでダウンロードができます。無断複写・引用はご遠慮ください。
 ※2. このプリントを活用したオンライン授業のスケジュールは、しながわ・目黒こどもスクールのウェブサイトでご確認ください。



おうちで、やろう。

Study at home. 小学校受験の家庭学習教材

図形：回転③⑦

左の四角を矢印の向きに矢印の数だけ倒したときの見え方が右の四角です。灰色の場所はどのように見えるかを考えて一番右の3つの中から選んで○をつけます。

(1)

○			
●	■	■	○
	■	■	
	○		●

↻
↻

	■	■	
○	■	■	●
			○

○		●	
		●	○
●		○	

(2)

		○	○
●	■	■	
	■	■	○
●		●	

↻
↻

	■	■	
○	■	■	●
○	○		

	●		●
●		●	
○		○	

(3)

○	○		
	■	■	●
	■	■	○
●		●	

↻
↻
↻

	■	■	○
●	■	■	
	○	●	

●			○
	●	○	
	●		●

(4)

	○		
○	■	■	○
	■	■	●
●		●	●

↻
↻
↻

	■	■	○
●	■	■	
●	●	○	

○	●	●	
●	●		●
●		○	

※1. このプリントは、しながわ・目黒こどもスクールのウェブサイトでダウンロードができます。無断複写・引用はご遠慮ください。
 ※2. このプリントを活用したオンライン授業のスケジュールは、しながわ・目黒こどもスクールのウェブサイトでご確認ください。