



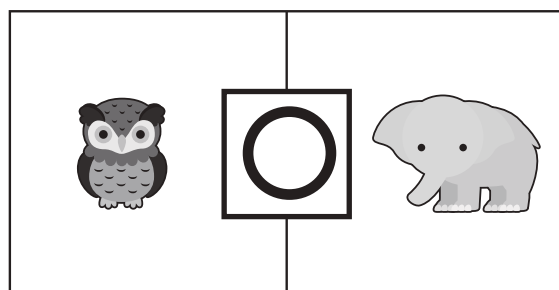
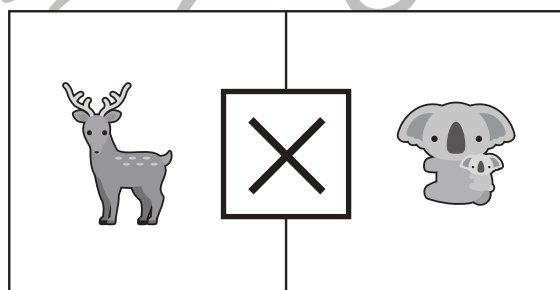





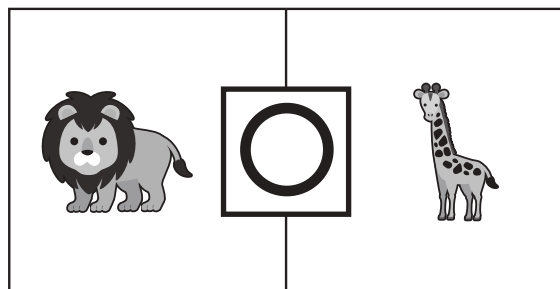


おうちで、やろう。

Study at home. 小学校受験の家庭学習教材

言語：音の理解②④

四角の中の左と右にいる動物の終わりの音を考えます。
終わりの音と同じ場合は○、違う場合は×を真ん中の四角の中にかきます。



※1. このプリントは、しながわ・目黒こどもスクールのウェブサイトでダウンロードができます。無断複写・引用はご遠慮ください。
※2. このプリントを活用したオンライン授業のスケジュールは、しながわ・目黒こどもスクールのウェブサイトでご確認ください。



おうちで、やろう。

Study at home. 小学校受験の家庭学習教材

図形：移動③⑤

それぞれ上の四角が約束です。白丸と黒丸は矢印の方向へマスを1マス進みます。この約束で下のマスの中の白丸と黒丸が☆の数だけマスを進みます。進んだ後の場所を考えて右のマスにかきます。

(1)

○	→	●	←
---	---	---	---

☆

○			
		●	
		●	
○			

○			
	○	●	
		●	
		●	
○			

(5)

○	↙	●	↘
---	---	---	---

☆

○			●
○			●

		●	
		●	
	○		
○			

(2)

○	←	●	→
---	---	---	---

☆

		○	
		●	
		●	
		○	

		○	
			●
			●
		○	

(6)

○	←	●	↗
---	---	---	---

☆

		○	
●			
		●	○

○	●		
			●
		○	

(3)

○	↑	●	↓
---	---	---	---

☆

●			
		●	○
○			

			○
		○	●
○	●		
		●	

(7)

○	↙	●	↘
---	---	---	---

☆

○	○	●	
		●	

		●	
		●	
○	○		

(3)

○	→	●	↑
---	---	---	---

☆

○		●	
		●	
○			

			●
		○	●
○			

(8)

○	↗	●	↙
---	---	---	---

☆

○			
●			
	●		
		○	●

	○		
●			
		●	○

※1. このプリントは、しながわ・目黒こどもスクールのウェブサイトでダウンロードができます。無断複写・引用はご遠慮ください。
 ※2. このプリントを活用したオンライン授業のスケジュールは、しながわ・目黒こどもスクールのウェブサイトでご確認ください。



おうちで、やろう。

Study at home. 小学校受験の家庭学習教材

図形：移動③⑥

それぞれ上の四角が約束です。白丸と黒丸は矢印の方向へマスを進みます。この約束で下のマスの中の白丸と黒丸が☆の数だけマスを進みます。進んだ後の場所を考えて右のマスにかきます。

(1)

○	←
---	---

●	→
---	---

☆	☆
---	---

		○	
●			
●			
		○	

○			
		●	
		●	
○			

(5)

○	↓
---	---

●	↖
---	---

☆	☆	☆
---	---	---

	○		○
			●

●			
	○		○

(2)

○	→
---	---

●	←
---	---

☆	☆
---	---

○			
		●	
			●
	○		

		○	
●			
	●		
			○

(6)

○	↗
---	---

●	←
---	---

☆	☆	☆
---	---	---

			●
○			●

●			○
●			

(3)

○	←
---	---

●	↑
---	---

☆	☆
---	---

●			○
	●	○	

●			
	●		
	○		
○			

(7)

○	↘
---	---

●	↖
---	---

☆	☆
---	---

○	○		
			●
			●

	●		
	●		
			○
			○

(3)

○	↓
---	---

●	↑
---	---

☆	☆
---	---

		○	
○			
			●
	●		

			●
	●		
		○	
○			

(8)

○	↗
---	---

●	↖
---	---

☆	☆
---	---

		●	
			●
○			
	○		

		○	
			○
●			
	●		

※1. このプリントは、しながわ・目黒こどもスクールのウェブサイトでダウンロードができます。無断複写・引用はご遠慮ください。
 ※2. このプリントを活用したオンライン授業のスケジュールは、しながわ・目黒こどもスクールのウェブサイトでご確認ください。



おうちで、やろう。

Study at home. 小学校受験の家庭学習教材

図形：移動③⑦

それぞれ上の四角が約束です。白丸と黒丸は矢印の方向へマスを1マス進みます。この約束で下のマスの中の白丸と黒丸が☆の数だけマスを進みます。進んだ後の場所を考えて右のマスにかきます。

(1)

○	→
---	---

●	↑
---	---

☆

○			
		●	
●		●	
	○	○	

	○	●	
●		●	
		○	○

(5)

○	↑
---	---

●	↗
---	---

☆	☆	☆
---	---	---

●	○	○	

	○	○	●

(2)

○	←
---	---

●	↓
---	---

☆	☆
---	---

	●	●	○
		●	
		○	○

	○		
	●	●	
○	○	●	

(6)

○	↑
---	---

●	←
---	---

☆	☆	☆
---	---	---

		●	
○	○	●	

○	○		
●			
●			
●			

(3)

○	↓
---	---

●	↗
---	---

☆	☆
---	---

			○
○	○		
●	●		
	●		

		●	●
			●
			○
○	○		

(7)

○	↖
---	---

●	↖
---	---

☆	☆
---	---

			○
			○
			●
		●	●

	●		
●	●		
	○		
	○		

(3)

○	↘
---	---

●	↗
---	---

☆

○	○		
○			
		●	
	●	●	

	○	○	●
	○	●	●

(8)

○	↖
---	---

●	↓
---	---

☆	☆
---	---

		●	○
		○	●

	○	●	
○			●

※1. このプリントは、しながわ・目黒こどもスクールのウェブサイトでダウンロードができます。無断複写・引用はご遠慮ください。
※2. このプリントを活用したオンライン授業のスケジュールは、しながわ・目黒こどもスクールのウェブサイトでご確認ください。



おうちで、やろう。

Study at home. 小学校受験の家庭学習教材

図形：回転③⑤

左の四角を矢印の向きに矢印の数だけ倒したときの見え方が右の四角です。灰色の場所はどのように見えるかを考えて一番右の3つの中から選んで○をつけます。

(1)

			○
●	■	■	○
●	■	■	
		●	

	■	■	
	■	■	
		○	○

	●	●	
	●		●
●	●		

(2)

●			○
	■	■	
●	■	■	
		●	○

	■	■	
●	■	■	
○			○

	●		●
			●
	○		

(3)

○		●	
	■	■	○
	■	■	
●			

●	■	■	
	■	■	
○			●

●			○
	○		
	●		○

(4)

●			○
○	■	■	
●	■	■	
	●		●

	■	■	
	■	■	●
●	○	●	

	●		○
	●	○	●
○			●

※1. このプリントは、しながわ・目黒こどもスクールのウェブサイトでダウンロードができます。無断複写・引用はご遠慮ください。
 ※2. このプリントを活用したオンライン授業のスケジュールは、しながわ・目黒こどもスクールのウェブサイトでご確認ください。



おうちで、やろう。

Study at home. 小学校受験の家庭学習教材

図形：回転③⑥

左の四角を矢印の向きに矢印の数だけ倒したときの見え方が右の四角です。灰色の場所はどのように見えるかを考えて一番右の3つの中から選んで○をつけます。

(1)

	○		
●	■	■	○
	■	■	
●			○

↻
↻

	■	■	
○	■	■	●
		○	

●			○
○	○	○	●
●		●	

(2)

●		○	○
	■	■	
	■	■	
●		●	○

↻
↻

	■	■	
○	○		●

●			●
○		●	●
○	●	○	●

(3)

○		○	●
	■	■	
	■	■	○
●	●		

↻
↻
↻

	■	■	
○	■	■	●
○			●

		●	●
●	○	○	
●			○

(4)

			○
○	■	■	○
●	■	■	●
●		●	

↻
↻
↻

	■	■	
	○	●	●

●	●	○	
○	○	●	
	●		●

※1. このプリントは、しながわ・目黒こどもスクールのウェブサイトでダウンロードができます。無断複写・引用はご遠慮ください。

※2. このプリントを活用したオンライン授業のスケジュールは、しながわ・目黒こどもスクールのウェブサイトでご確認ください。



おうちで、やろう。

Study at home. 小学校受験の家庭学習教材

図形：回転③⑦

左の四角を矢印の向きに矢印の数だけ倒したときの見え方が右の四角です。灰色の場所はどのように見えるかを考えて一番右の3つの中から選んで○をつけます。

(1)

○			
●	■	■	○
	■	■	
	○		●

↻
↻

	■	■	
○	■	■	●
			○

○		●	
		●	○
●	○	○	

(2)

		○	○
●	■	■	
	■	■	○
●		●	

↻
↻

	■	■	
○	■	■	●

	●	○	●
●		●	
○		○	

(3)

○	○		
	■	■	●
	■	■	○
●		●	

↻
↻
↻

	■	■	○
●	■	■	
	○	●	

●	○	○	
	●	○	
	●		●

(4)

	○		
○	■	■	○
	■	■	●
●		●	●

↻
↻
↻

	■	■	○
●	■	■	
●	●	○	

○	●	●	
●	●		●
●	○	○	

※1. このプリントは、しながわ・目黒こどもスクールのウェブサイトでダウンロードができます。無断複写・引用はご遠慮ください。

※2. このプリントを活用したオンライン授業のスケジュールは、しながわ・目黒こどもスクールのウェブサイトでご確認ください。