






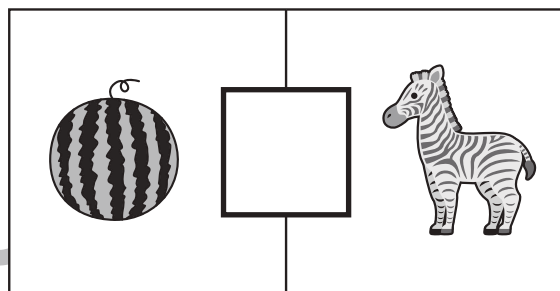
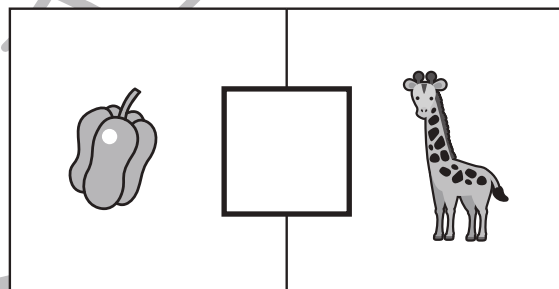


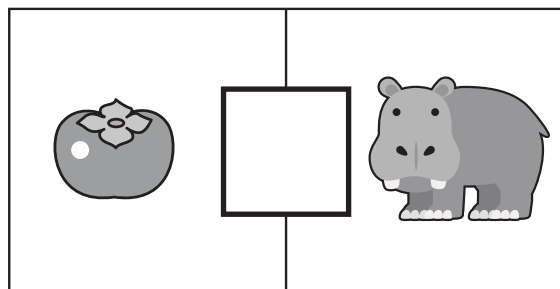


# おうちで、やろう。

Study at home. 小学校受験の家庭学習教材

## 言語：音の理解⑳

四角の中の左と右にある絵のはじめの音を考えます。  
はじめの音と同じ場合は○、違う場合は×を真ん中の四角の中にかきます。



※1. このプリントは、しながわ・目黒こどもスクールのウェブサイトでダウンロードができます。無断複写・引用はご遠慮ください。  
※2. このプリントを活用したオンライン授業のスケジュールは、しながわ・目黒こどもスクールのウェブサイトでご確認ください。





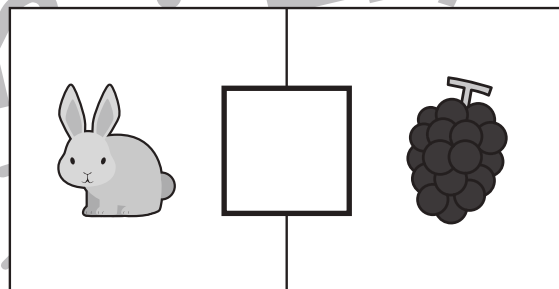

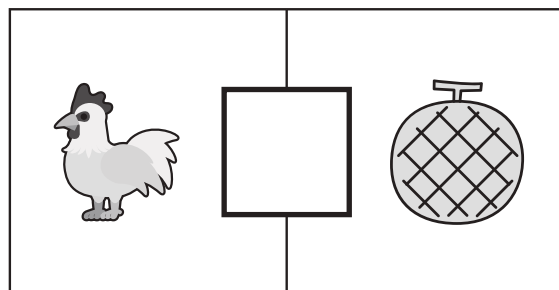

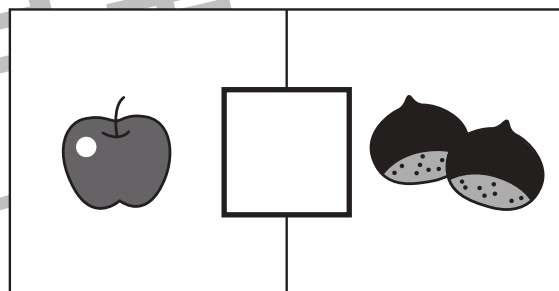
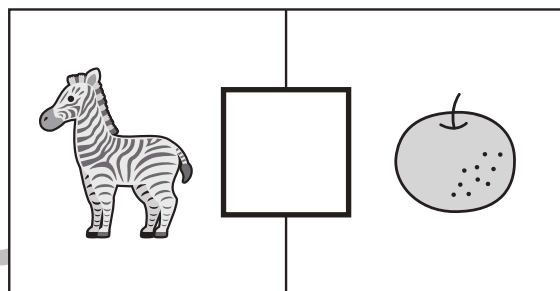

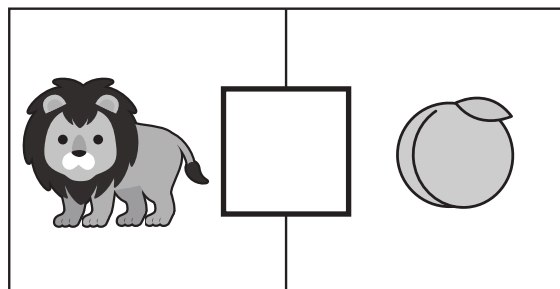
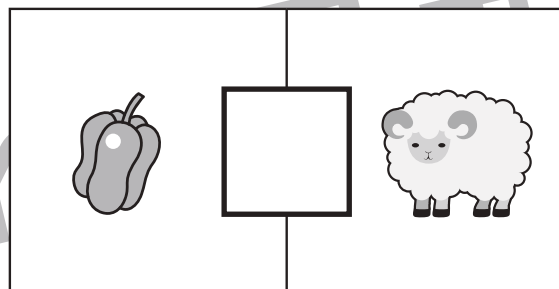
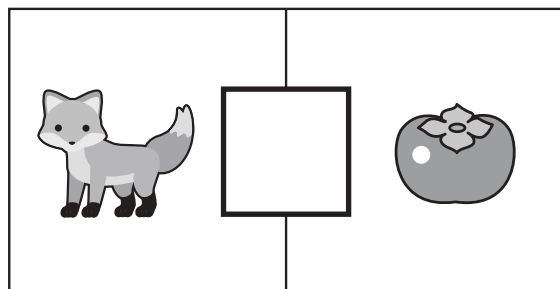
# おうちで、やろう。

Study at home. 小学校受験の家庭学習教材

## 言語：音の理解②⑥

四角の中の左と右にある絵の音を考えます。

左の絵のはじめの音と右の絵の終りの音が場合は○、ちがう場合は×を真ん中の四角の中にかきます。



※1. このプリントは、しながわ・目黒こどもスクールのウェブサイトでダウンロードができます。無断複写・引用はご遠慮ください。

※2. このプリントを活用したオンライン授業のスケジュールは、しながわ・目黒こどもスクールのウェブサイトでご確認ください。





# おうちで、やろう。

Study at home. 小学校受験の家庭学習教材

## 常識：影の見える方①

太陽がそれぞれの位置にあるときに影はどのように見えるかを考えて○をつけましょう。

This section contains two identical sets of visual puzzles. Each set consists of two rows of illustrations.

**Top Row:** Three children are shown in different poses. A sun is positioned at the top center of the row.

**Bottom Row:** The same three children are shown in the same poses as in the top row, but each is accompanied by a black shadow. The shadows are placed in various positions around the children, and each shadow has a small circle (○) next to it, indicating that the student should mark the correct shadow.

※1. このプリントは、しながわ・目黒こどもスクールのウェブサイトでダウンロードができます。無断複写・引用はご遠慮ください。  
 ※2. このプリントを活用したオンライン授業のスケジュールは、しながわ・目黒こどもスクールのウェブサイトでご確認ください。



# おうちで、やろう。

Study at home. 小学校受験の家庭学習教材

## 常識：影の見える方②

太陽がそれぞれの位置にあるときに影はどのように見えるかを考えて○をつけましょう。

This section contains two identical sets of visual puzzles. Each set consists of two rows. The top row shows three children in various poses and a sun icon. The bottom row shows the same children with their shadows cast in different directions, and the student is to mark the correct shadow with an 'O'.

**Top Row (Sun Position):** The sun is in the upper-left quadrant. The children are: 1. A girl holding a cotton candy, waving with her right hand. 2. A boy waving with his right hand and holding a bag. 3. A girl holding a small basket.

**Bottom Row (Shadows):** Six shadows are shown, each corresponding to one of the children above. The shadows are cast in various directions: left, right, up, down, and diagonally.

※1. このプリントは、しながわ・目黒こどもスクールのウェブサイトからダウンロードできます。無断複写・引用はご遠慮ください。  
 ※2. このプリントを活用したオンライン授業のスケジュールは、しながわ・目黒こどもスクールのウェブサイトでご確認ください。





# おうちで、やろう。

Study at home. 小学校受験の家庭学習教材



## 常識：昔話⑤

左の絵の昔話についてそれぞれ問題があります。それぞれの設問に答えて右の四角の中から選んで○をつけます。



マッチ売りの少女が最後にマッチを燃やして見た人は誰ですか。





三匹の子ブタの家に来た動物は誰ですか。





ぶんぶく茶がまのためぎが化けていたものは何ですか。



こぶとり爺さんのお話でおじいさんは誰の前で踊りましたか。



舌きりすすめのお話で雀が食べてしまった糊は何からできていますか。



※1. このプリントは、しながわ・目黒こどもスクールのウェブサイトでダウンロードができます。無断複写・引用はご遠慮ください。  
※2. このプリントを活用したオンライン授業のスケジュールは、しながわ・目黒こどもスクールのウェブサイトでご確認ください。





# おうちで、やろう。

Study at home. 小学校受験の家庭学習教材

## 図形：折り重ね④

太い線で矢印の方向へ折り重ねた時の真ん中の四角の見え方を考えます。答えはすぐ右の空いている四角にかきます。もし間違えてしまったら、一番右の四角にかきなおしましょう。

①

②

③

④

※1. このプリントは、しながわ・目黒こどもスクールのウェブサイトでダウンロードができます。無断複写・引用はご遠慮ください。

※2. このプリントを活用したオンライン授業のスケジュールは、しながわ・目黒こどもスクールのウェブサイトでご確認ください。



# おうちで、やろう。

Study at home. 小学校受験の家庭学習教材

## 図形：折り重ね④⑧

太い線で矢印の方向へ折り重ねた時の真ん中の四角の見え方を考えます。答えはすぐ右の空いている四角にかきます。もし間違えてしまったら、一番右の四角にかきなおしましょう。

①

②

③

④

※1. このプリントは、しながわ・目黒こどもスクールのウェブサイトでダウンロードができます。無断複写・引用はご遠慮ください。  
 ※2. このプリントを活用したオンライン授業のスケジュールは、しながわ・目黒こどもスクールのウェブサイトでご確認ください。



# おうちで、やろう。

Study at home. 小学校受験の家庭学習教材

## 図形：折り重ね④

太い線で矢印の方向へ折り重ねた時の真ん中の四角の見え方を考えます。答えはすぐ右の空いている四角にかきます。もし間違えてしまったら、一番右の四角にかきなおしましょう。

①

②

③

④

※1. このプリントは、しながわ・目黒こどもスクールのウェブサイトでダウンロードができます。無断複写・引用はご遠慮ください。  
 ※2. このプリントを活用したオンライン授業のスケジュールは、しながわ・目黒こどもスクールのウェブサイトでご確認ください。










# おうちで、やろう。

Study at home. 小学校受験の家庭学習教材

## 推理：水量⑧

上の太い四角が約束です。コップに水が入っていておもりが沈んでいます。おもりを水の中から出したときの様子が右側にあります。問題はコップの中のおもりを水から出したときの残りの水の量を考えます。4つのコップの中で水の量が一番多いものに○、一番少ないものに×を書きます。



※1. このプリントは、しながわ・目黒こどもスクールのウェブサイトでダウンロードができます。無断複写・引用はご遠慮ください。  
 ※2. このプリントを活用したオンライン授業のスケジュールは、しながわ・目黒こどもスクールのウェブサイトでご確認ください。





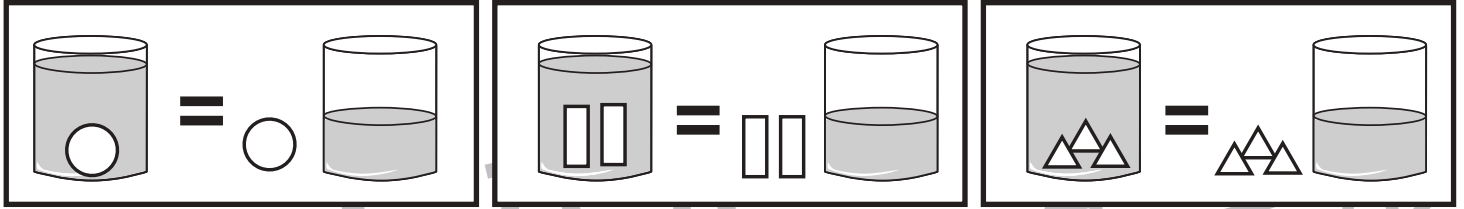


# おうちで、やろう。

Study at home. 小学校受験の家庭学習教材

推理：水量⑨

上の太い四角が約束です。コップに水が入っていておもりが沈んでいます。おもりを水の中から出したときの様子が右側にあります。問題はコップの中のおもりを水から出したときの残りの水の量を考えます。4つのコップの中で水の量が一番多いものに○、一番少ないものに×を書きます。



※1. このプリントは、しながわ・目黒こどもスクールのウェブサイトでダウンロードができます。無断複写・引用はご遠慮ください。  
 ※2. このプリントを活用したオンライン授業のスケジュールは、しながわ・目黒こどもスクールのウェブサイトでご確認ください。