









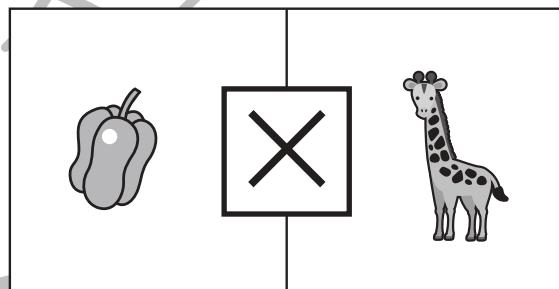


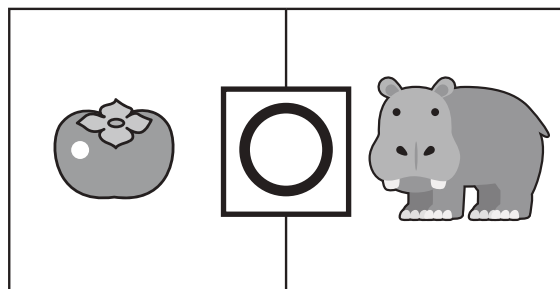
おうちで、やろう。

Study at home. 小学校受験の家庭学習教材

言語：音の理解⑳

四角の中の左と右にある絵のはじめの音を考えます。

はじめの音と同じ場合は○、違う場合は×を真ん中の四角の中にかきます。



※1. このプリントは、しながわ・目黒こどもスクールのウェブサイトでダウンロードができます。無断複写・引用はご遠慮ください。

※2. このプリントを活用したオンライン授業のスケジュールは、しながわ・目黒こどもスクールのウェブサイトでご確認ください。



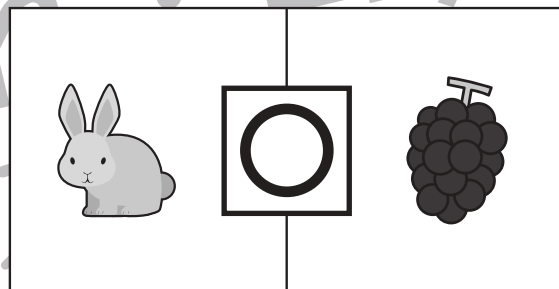

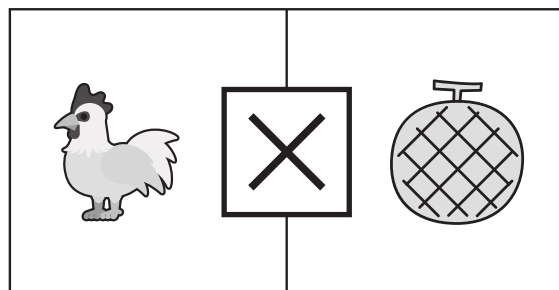

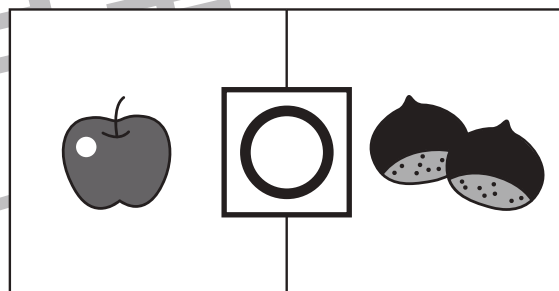
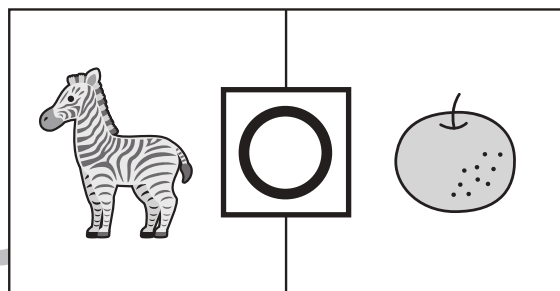

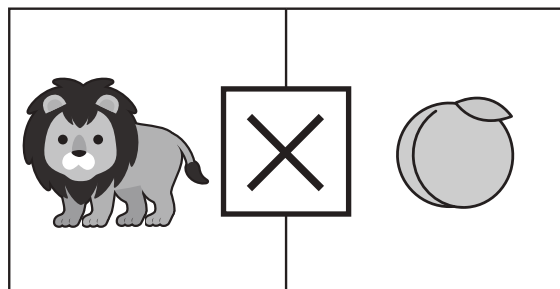
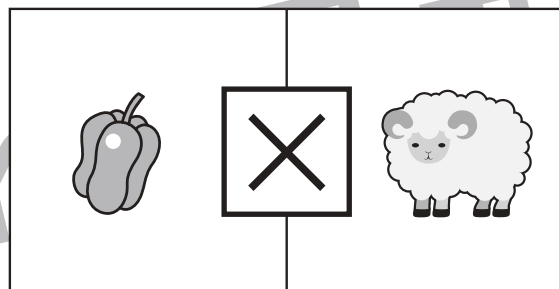
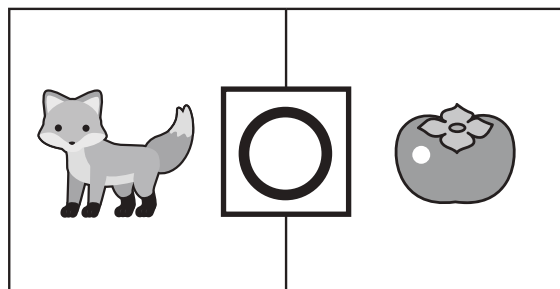
おうちで、やろう。

Study at home. 小学校受験の家庭学習教材

言語：音の理解②⑥

四角の中の左と右にある絵の音を考えます。

左の絵のはじめの音と右の絵の終りの音が場合は○、ちがう場合は×を真ん中の四角の中にかきます。



※1. このプリントは、しながわ・目黒こどもスクールのウェブサイトでダウンロードができます。無断複写・引用はご遠慮ください。

※2. このプリントを活用したオンライン授業のスケジュールは、しながわ・目黒こどもスクールのウェブサイトでご確認ください。





おうちで、やろう。

Study at home. 小学校受験の家庭学習教材

常識：影の見える方①

太陽がそれぞれの位置にあるときに影はどのように見えるかを考えて○をつけましょう。

Two identical activity panels for identifying shadows. Each panel is divided into two horizontal sections.

Top Section: Shows three children in different poses. A sun icon is positioned in the upper right corner of the panel.

Bottom Section: Shows the same three children, each with a circular outline around them. Below each child is a black shadow. The shadows are drawn in various orientations, and the task is to identify which one correctly matches the child's pose and the sun's position.

※1. このプリントは、しながわ・目黒こどもスクールのウェブサイトからダウンロードできます。無断複写・引用はご遠慮ください。

※2. このプリントを活用したオンライン授業のスケジュールは、しながわ・目黒こどもスクールのウェブサイトでご確認ください。



おうちで、やろう。

Study at home. 小学校受験の家庭学習教材

常識：影の見える方②

太陽がそれぞれの位置にあるときに影はどのように見えるかを考えて○をつけましょう。

※1. このプリントは、しながわ・目黒こどもスクールのウェブサイトからダウンロードできます。無断複写・引用はご遠慮ください。
 ※2. このプリントを活用したオンライン授業のスケジュールは、しながわ・目黒こどもスクールのウェブサイトでご確認ください。




おうちで、やろう。

Study at home. 小学校受験の家庭学習教材



常識：昔話⑤

左の絵の昔話についてそれぞれ問題があります。それぞれの設問に答えて右の四角の中から選んで○をつけます。



マッチ売りの少女が最後にマッチを燃やして見た人は誰ですか。





三匹の子ブタの家に来た動物は誰ですか。



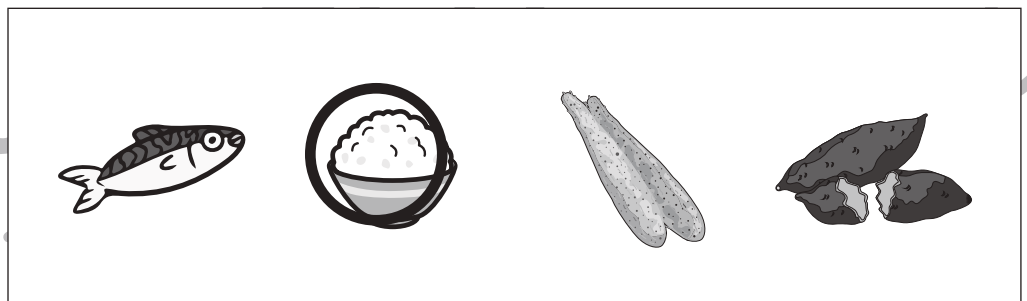

ぶんぶく茶がまのためぎが化けていたものは何ですか。



こぶとり爺さんのお話でおじいさんは誰の前で踊りましたか。



舌きりすすめのお話で雀が食べてしまった糊は何からできていますか。



※1. このプリントは、しながわ・目黒こどもスクールのウェブサイトでダウンロードができます。無断複写・引用はご遠慮ください。
※2. このプリントを活用したオンライン授業のスケジュールは、しながわ・目黒こどもスクールのウェブサイトでご確認ください。



おうちで、やろう。

Study at home. 小学校受験の家庭学習教材

図形：折り重ね④

太い線で矢印の方向へ折り重ねた時の真ん中の四角の見え方を考えます。答えはすぐ右の空いている四角にかきます。もし間違えてしまったら、一番右の四角にかきなおしましょう。

①

②

③

④

※1. このプリントは、しながわ・目黒こどもスクールのウェブサイトでダウンロードができます。無断複写・引用はご遠慮ください。

※2. このプリントを活用したオンライン授業のスケジュールは、しながわ・目黒こどもスクールのウェブサイトでご確認ください。



おうちで、やろう。

Study at home. 小学校受験の家庭学習教材

図形：折り重ね④

太い線で矢印の方向へ折り重ねた時の真ん中の四角の見え方を考えます。答えはすぐ右の空いている四角にかきます。もし間違えてしまったら、一番右の四角にかきなおしましょう。

①

②

③

④

※1. このプリントは、しながわ・目黒こどもスクールのウェブサイトでダウンロードができます。無断複写・引用はご遠慮ください。
 ※2. このプリントを活用したオンライン授業のスケジュールは、しながわ・目黒こどもスクールのウェブサイトでご確認ください。



おうちで、やろう。

Study at home. 小学校受験の家庭学習教材

図形：折り重ね④

太い線で矢印の方向へ折り重ねた時の真ん中の四角の見え方を考えます。答えはすぐ右の空いている四角にかきます。もし間違えてしまったら、一番右の四角にかきなおしましょう。

①

②

③

④

※1. このプリントは、しながわ・目黒こどもスクールのウェブサイトでダウンロードができます。無断複写・引用はご遠慮ください。
 ※2. このプリントを活用したオンライン授業のスケジュールは、しながわ・目黒こどもスクールのウェブサイトでご確認ください。








おうちで、やろう。

Study at home. 小学校受験の家庭学習教材

推理：水量⑧

上の太い四角が約束です。コップに水が入っていておもりが沈んでいます。おもりを水の中から出したときの様子が右側にあります。問題はコップの中のおもりを水から出したときの残りの水の量を考えます。4つのコップの中で水の量が一番多いものに○、一番少ないものに×を書きます。



※1. このプリントは、しながわ・目黒こどもスクールのウェブサイトでダウンロードができます。無断複写・引用はご遠慮ください。
 ※2. このプリントを活用したオンライン授業のスケジュールは、しながわ・目黒こどもスクールのウェブサイトでご確認ください。





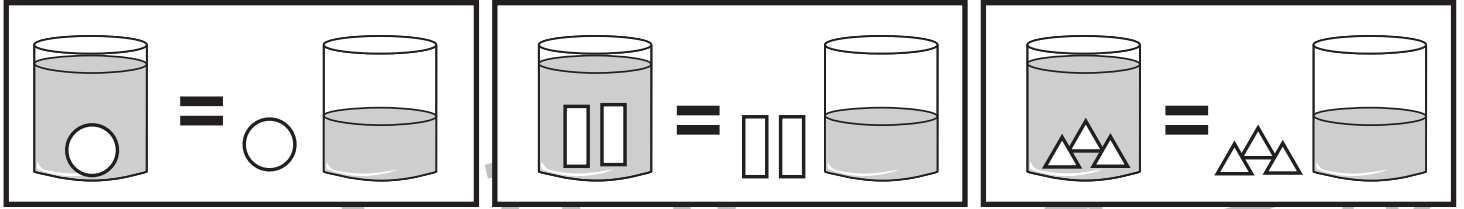


おうちで、やろう。

Study at home. 小学校受験の家庭学習教材

推理：水量⑨

上の太い四角が約束です。コップに水が入っていておもりが沈んでいます。おもりを水の中から出したときの様子が右側にあります。問題はコップの中のおもりを水から出したときの残りの水の量を考えます。4つのコップの中で水の量が一番多いものに○、一番少ないものに×を書きます。



※1. このプリントは、しながわ・目黒こどもスクールのウェブサイトでダウンロードができます。無断複写・引用はご遠慮ください。
 ※2. このプリントを活用したオンライン授業のスケジュールは、しながわ・目黒こどもスクールのウェブサイトでご確認ください。