



おうちで、やろう。

Study at home. 小学校受験の家庭学習教材

図形：マッチ①

四角の中の形をそれぞれの下にあるマッチで作ります。全部で何本あれば上の形ができるのかを考えてその数だけ下の四角の☆を囲みます。

Top: Square shape

Match: 2 sticks

Stars: 15 stars arranged in a 3x5 grid. A 2x4 area of stars is enclosed by a thick black border.

Top: Square shape

Match: 3 sticks

Stars: 15 stars arranged in a 3x5 grid. A 2x5 area of stars is enclosed by a thick black border.

Top: Triangle shape

Match: 2 sticks

Stars: 15 stars arranged in a 3x5 grid. A 2x3 area of stars is enclosed by a thick black border.

Top: Hexagon shape

Match: 1 stick

Stars: 15 stars arranged in a 3x5 grid. A 2x3 area of stars is enclosed by a thick black border.

Top: Horizontal rectangle shape

Match: 1 stick

Stars: 15 stars arranged in a 3x5 grid. A 2x4 area of stars is enclosed by a thick black border.

Top: Triangle shape

Match: 1 stick

Stars: 15 stars arranged in a 3x5 grid. A 2x3 area of stars is enclosed by a thick black border.

※1. このプリントは、しながわ・目黒こどもスクールのウェブサイトでダウンロードができます。無断複写・引用はご遠慮ください。
 ※2. このプリントを活用したオンライン授業のスケジュールは、しながわ・目黒こどもスクールのウェブサイトでご確認ください。


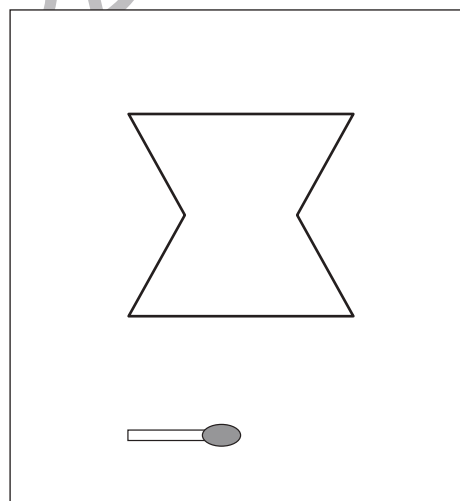

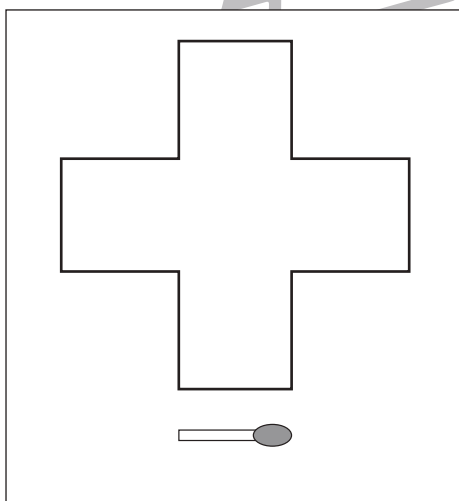
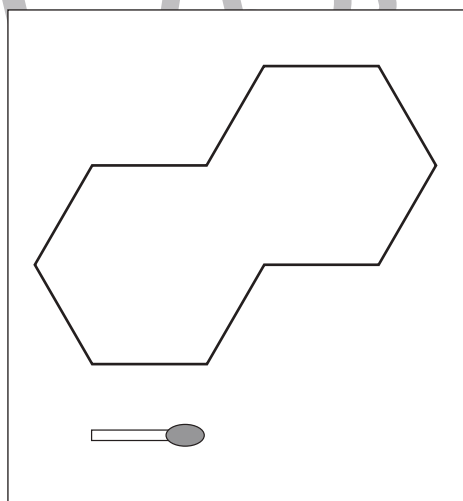

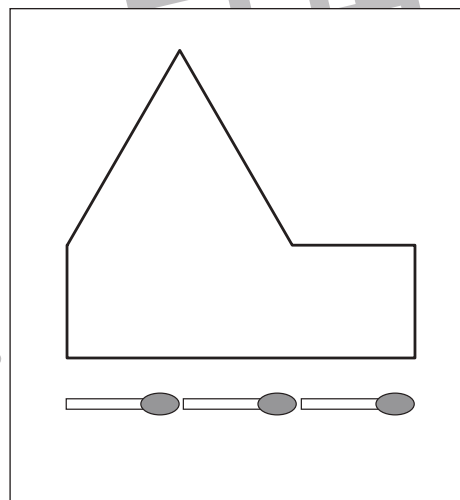

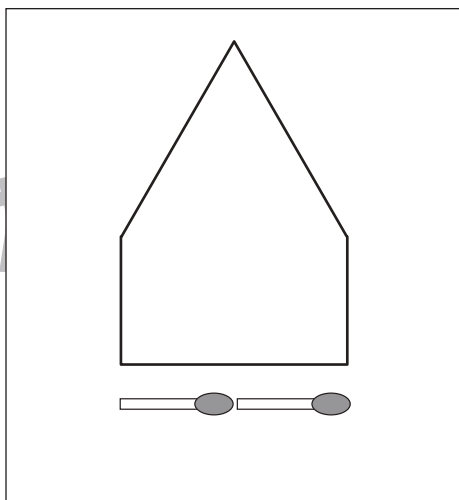
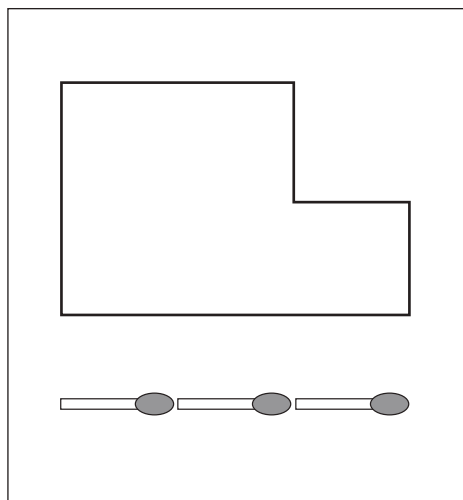


おうちで、やろう。

Study at home. 小学校受験の家庭学習教材

図形：マッチ②

四角の中の形をそれぞれの下にあるマッチで作ります。全部で何本あれば上の形ができるのかを考えてその数だけ下の四角の☆を囲みます。



※1. このプリントは、しながわ・目黒こどもスクールのウェブサイトからダウンロードできます。無断複写・引用はご遠慮ください。
※2. このプリントを活用したオンライン授業のスケジュールは、しながわ・目黒こどもスクールのウェブサイトでご確認ください。



おうちで、やろう。

Study at home. 小学校受験の家庭学習教材

図形：回転③⑧

左の四角が矢印の数だけ矢印の方向に倒したときの見え方が右の四角です。この時、灰色の列にある●はどのように見えるかを考えて一番右の3つの中から選んで○をつけます。

(1)

	●		○
			●
○			
●		○	

↻
↻

			○
●			
○		●	

			●
●			
		●	

(2)

○		○	●
			○
●			●
○		●	

↻
↻

●			
○			
●	○		○

	●		
			●
		●	

(3)

●		●	○
●			●
	○		○

↻
↻
↻

○			
			●
○	●		○

	●	●	
●		●	
	●		●

(4)

●	○	●	○
			●
●			○
●		○	○

↻
↻
↻

●			○
○			
●		●	●

	●		
			●
		●	

※1. このプリントは、しながわ・目黒こどもスクールのウェブサイトでダウンロードができます。無断複写・引用はご遠慮ください。
 ※2. このプリントを活用したオンライン授業のスケジュールは、しながわ・目黒こどもスクールのウェブサイトでご確認ください。



おうちで、やろう。

Study at home. 小学校受験の家庭学習教材

図形：回転③⑨

左の四角が矢印の数だけ矢印の方向に倒したときの見え方が右の四角です。この時、灰色の列にある●はどのように見えるかを考えて一番右の3つの中から選んで○をつけます。

(1)

●	○		○
			●
●		○	

●			●
			○
○			

●			○
	●		○
○	●		

(2)

○			●
●			●
	○	○	

	○	○	
			●
			○

●	●		
		●	
●	○		
			●

(3)

●		●	○
●			
○	○		

○			
●			
			○

	●		●
○		●	●
●	●		○

(4)

●	○		○
●		●	○

○	●		
○		○	

○	●		
	○		○
			●
●	●		

※1. このプリントは、しながわ・目黒こどもスクールのウェブサイトでダウンロードができます。無断複写・引用はご遠慮ください。
 ※2. このプリントを活用したオンライン授業のスケジュールは、しながわ・目黒こどもスクールのウェブサイトでご確認ください。



おうちで、やろう。

Study at home. 小学校受験の家庭学習教材

図形：回転④

左の四角が矢印の数だけ矢印の方向に倒したときの見え方が右の四角です。この時、灰色の列にある●はどのように見えるかを考えて一番右の3つの中から選んで○をつけます。

(1)

●		○	○
○			
			●
●		○	●

↻
↻

●	○		●
●			
			○

		●	
	●		
			●

(2)

○		○	●
			○
●			●
		●	○

↻
↻

○	●		
●			
○			
●	○		

●			
	●		
			●

(3)

●		●	○
●			●
○	●		○

↻
↻
↻

○			○

	●		●
●		●	
	●	●	

(4)

●	○	●	○
			●
●			○
●		●	○

↻
↻
↻

		○	○

	●		
●			●
	●	●	
●			

※1. このプリントは、しながわ・目黒こどもスクールのウェブサイトでダウンロードができます。無断複写・引用はご遠慮ください。

※2. このプリントを活用したオンライン授業のスケジュールは、しながわ・目黒こどもスクールのウェブサイトでご確認ください。

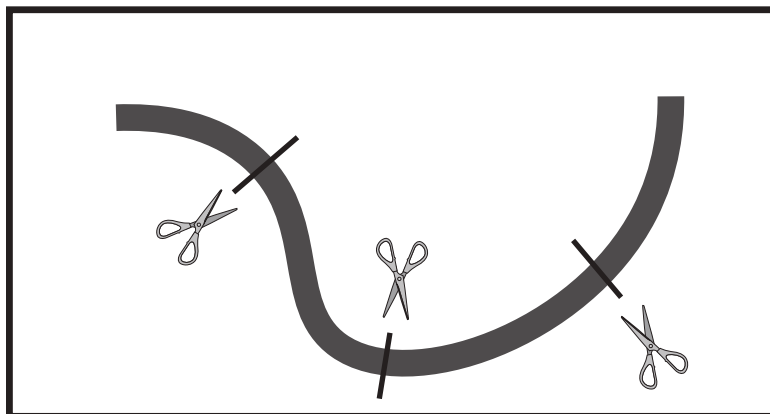


おうちで、やろう。

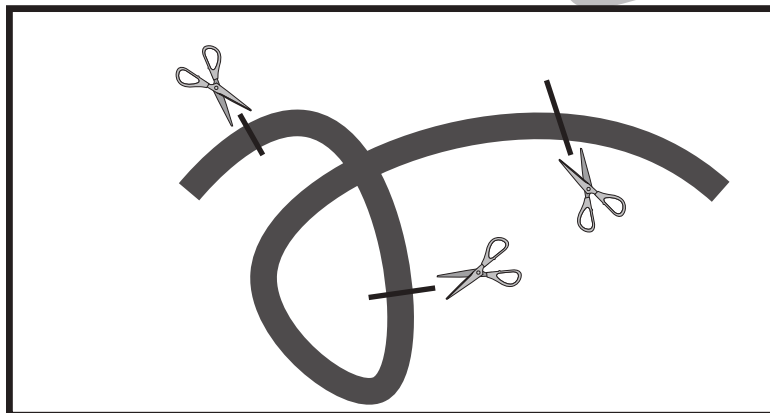
Study at home. 小学校受験の家庭学習教材

推理：紐の数①

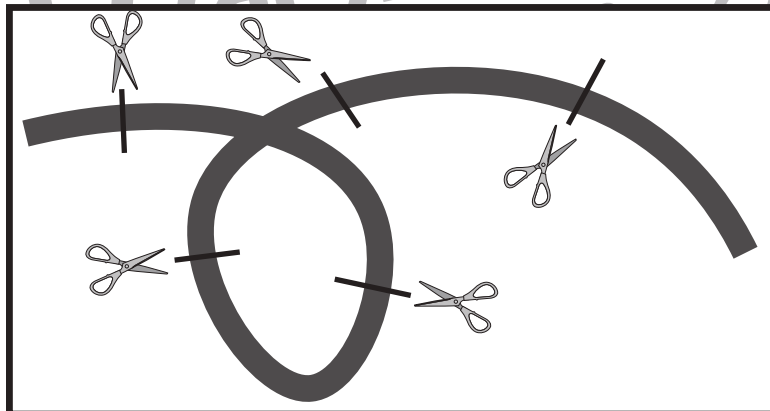
左の四角の中のひもをはさみのところで切るとひもは何本になるかを考えます。その本数だけ右の四角に○をかきます。



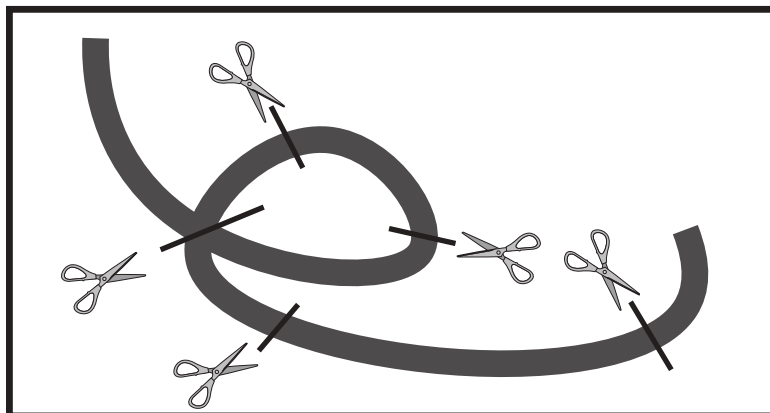
○ × 4



○ × 4



○ × 6



○ × 7

※1. このプリントは、しながわ・目黒こどもスクールのウェブサイトでダウンロードができます。無断複写・引用はご遠慮ください。

※2. このプリントを活用したオンライン授業のスケジュールは、しながわ・目黒こどもスクールのウェブサイトでご確認ください。






おうちで、やろう。

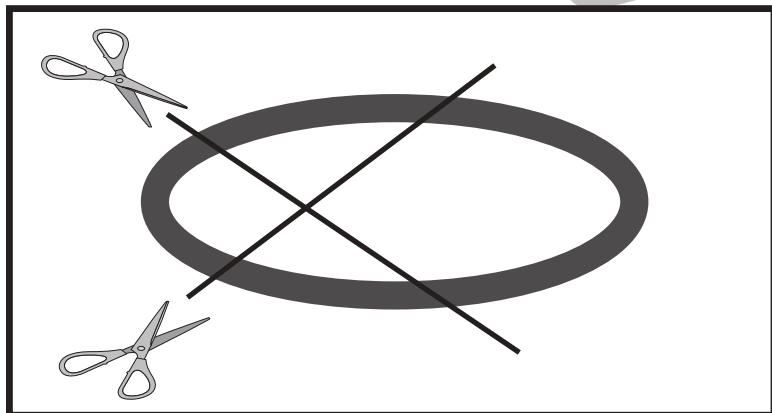
Study at home. 小学校受験の家庭学習教材

推理：紐の数②


左の四角の中のひもをはさみのところで切るとひもは何本になるかを考えます。その本数だけ右の四角に○をかきます。



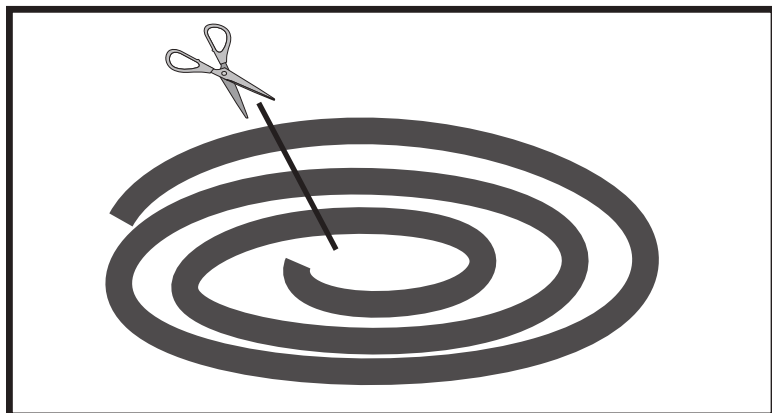
○ × 7



○ × 4



○ × 8



○ × 4

※1. このプリントは、しながわ・目黒こどもスクールのウェブサイトからダウンロードできます。無断複写・引用はご遠慮ください。

※2. このプリントを活用したオンライン授業のスケジュールは、しながわ・目黒こどもスクールのウェブサイトでご確認ください。





おうちで、やろう。

Study at home. 小学校受験の家庭学習教材

数量：隠れた数④

クッキーが10枚あります。それぞれの箱の中に何枚か入れて、残ったクッキーが箱の外に出ています。横に3つ並んだ箱のうち、中に入っているクッキーの数が一番多い箱に○をつけます。

①			
②			
③			
④			

※1. このプリントは、しながわ・目黒こどもスクールのウェブサイトでダウンロードができます。無断複写・引用はご遠慮ください。

※2. このプリントを活用したオンライン授業のスケジュールは、しながわ・目黒こどもスクールのウェブサイトでご確認ください。



おうちで、やろう。

Study at home. 小学校受験の家庭学習教材

数量：隠れた数⑤

クッキーが何枚あります。それぞれの箱の中にそのうちの何枚か入れて、残ったクッキーが箱の外に出ています。横に4つ並んだ箱のうち、中に入っているクッキーの数が一番多い箱に○を、一番少ない箱に×をつけます。

①				
②				
③				
④				

※1. このプリントは、しながわ・目黒こどもスクールのウェブサイトでダウンロードができます。無断複写・引用はご遠慮ください。

※2. このプリントを活用したオンライン授業のスケジュールは、しながわ・目黒こどもスクールのウェブサイトでご確認ください。



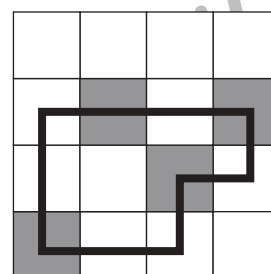
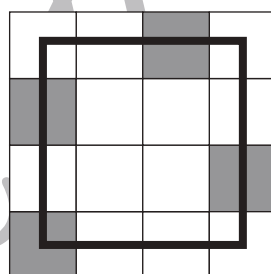
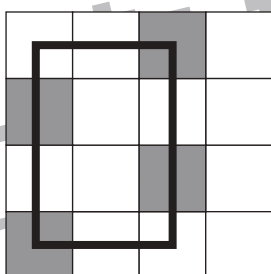
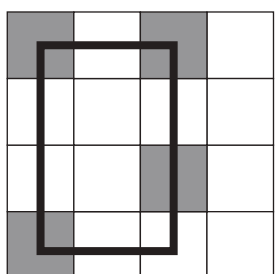
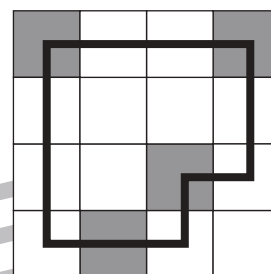
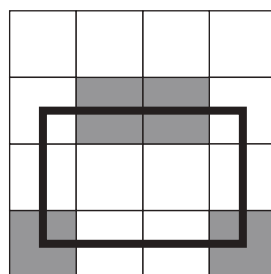
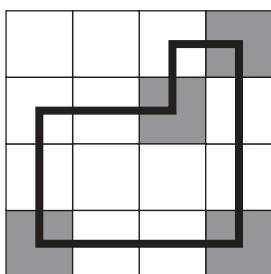
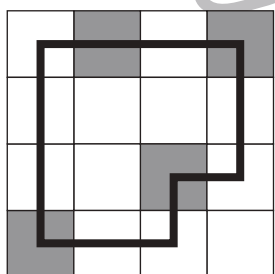
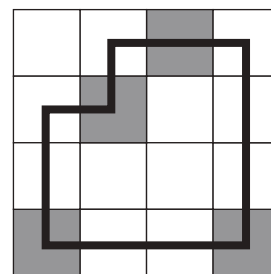
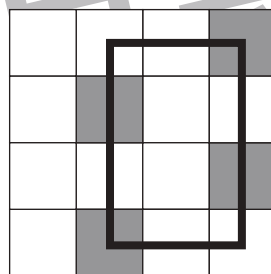
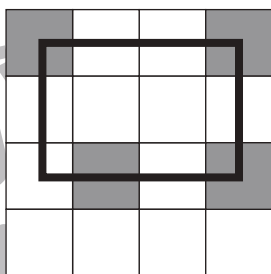
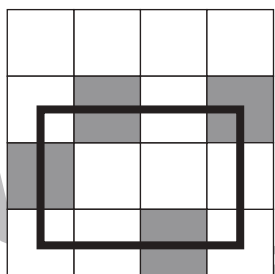
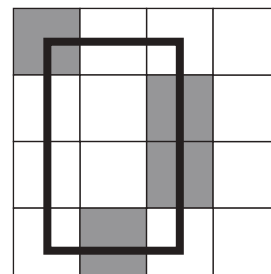
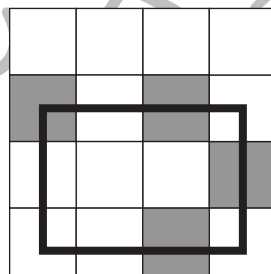
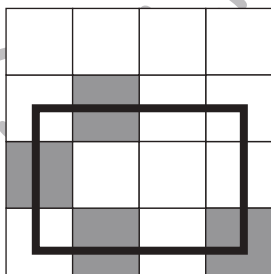
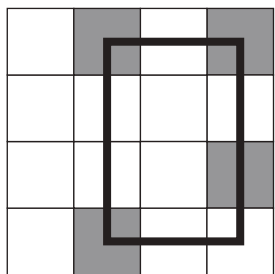
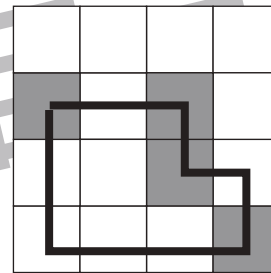
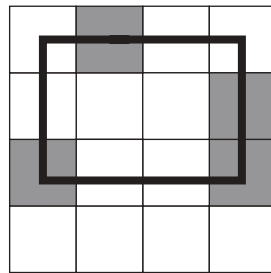
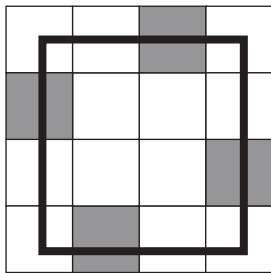
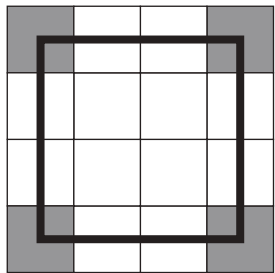
おうちで、やろう。

Study at home. 小学校受験の家庭学習教材

処理：模写⑩

灰色の四角を全て通って線で囲みます。縦と横には進めますが、斜めに進んではいけません。また、同じ道を通ってはいけません。この問題はスピードを意識して取り組む練習をしてみましょう。(1分30秒～2分)

※解答は一例です。他の解答もありますので、確認してください。



※1. このプリントは、しながわ・目黒こどもスクールのウェブサイトでダウンロードができます。無断複写・引用はご遠慮ください。

※2. このプリントを活用したオンライン授業のスケジュールは、しながわ・目黒こどもスクールのウェブサイトでご確認ください。

