



おうちで、やろう。

Study at home. 小学校受験の家庭学習教材

言語：言葉③

下の四角の絵の中で「ひく」という言葉に合う絵に○を、「かける」という言葉に合う絵に△をつけます。



※1. このプリントは、しながわ・目黒こどもスクールのウェブサイトでダウンロードができます。無断複写・引用はご遠慮ください。

※2. このプリントを活用したオンライン授業のスケジュールは、しながわ・目黒こどもスクールのウェブサイトでご確認ください。



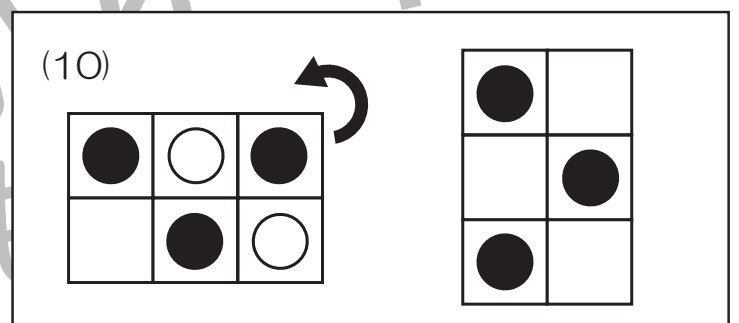
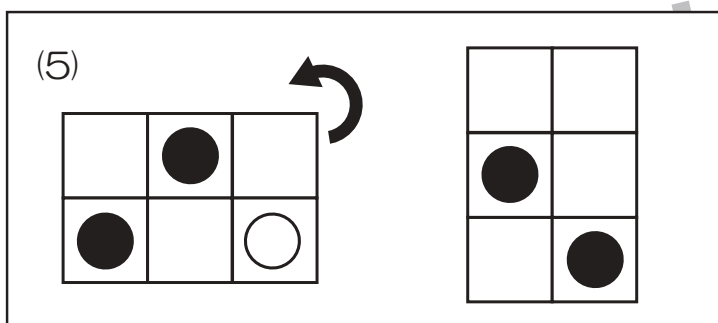
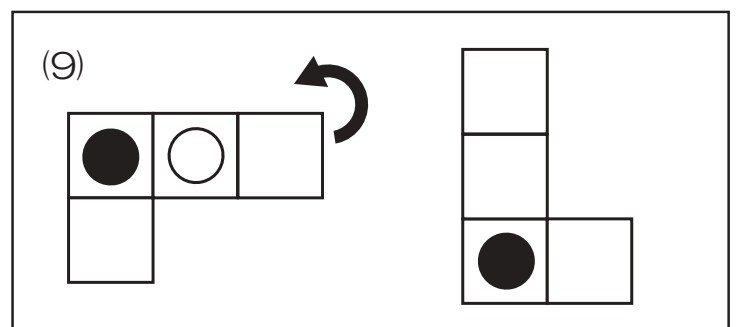
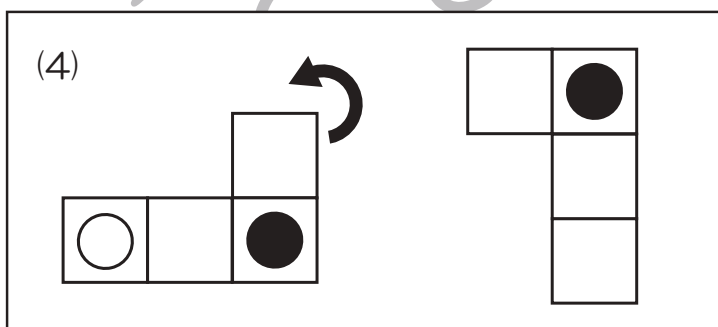
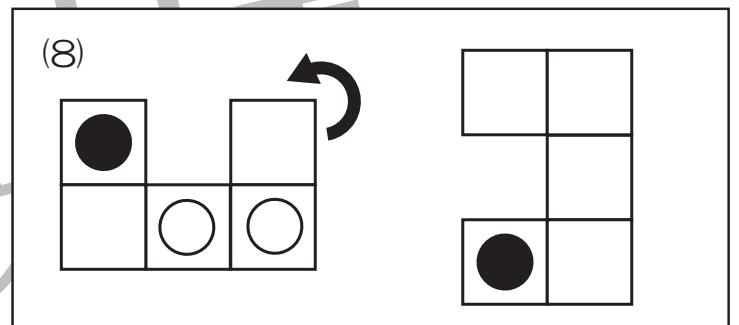
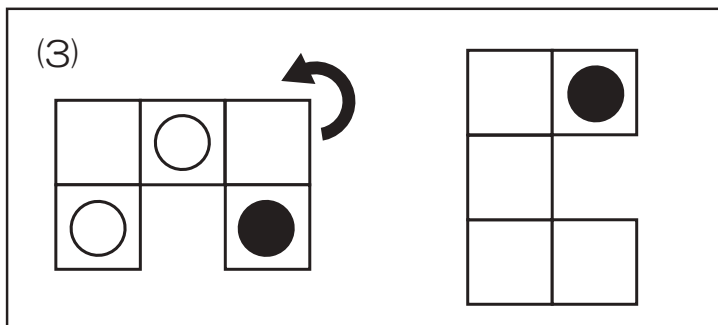
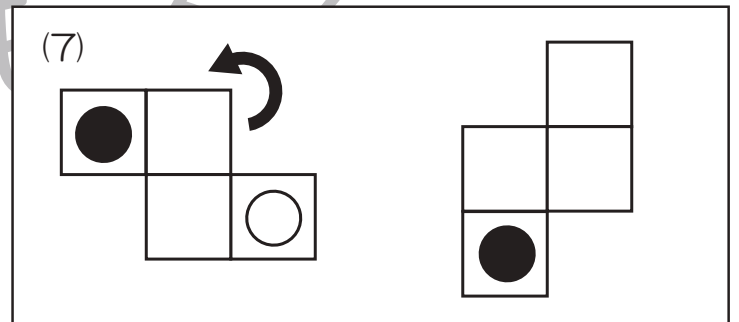
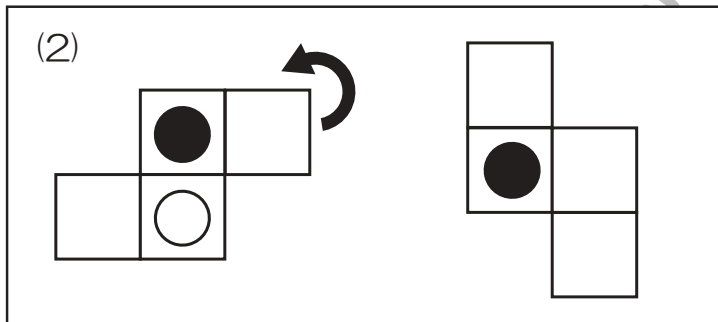
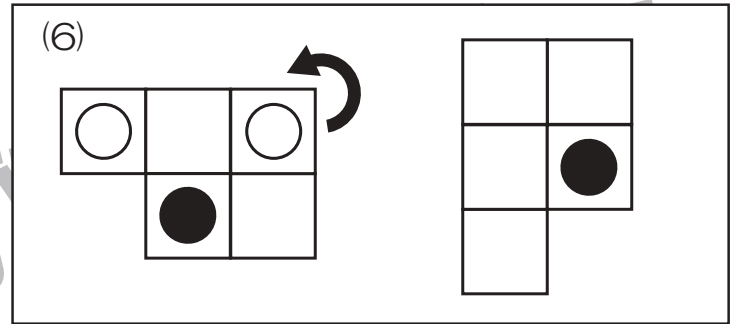
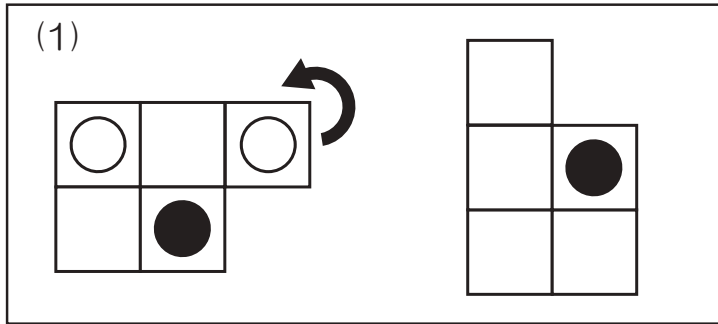


おうちで、よろう。

Study at home. 小学校受験の家庭学習教材

図形：回転④

左の形が矢印の方向に 1 回倒れたときの様子が右の形になります。白い丸の場所を考えて右の四角にかきます。



※1. このプリントは、しながわ・目黒こどもスクールのウェブサイトでダウンロードができます。無断複写・引用はご遠慮ください。
 ※2. このプリントを活用したオンライン授業のスケジュールは、しながわ・目黒こどもスクールのウェブサイトでご確認ください。

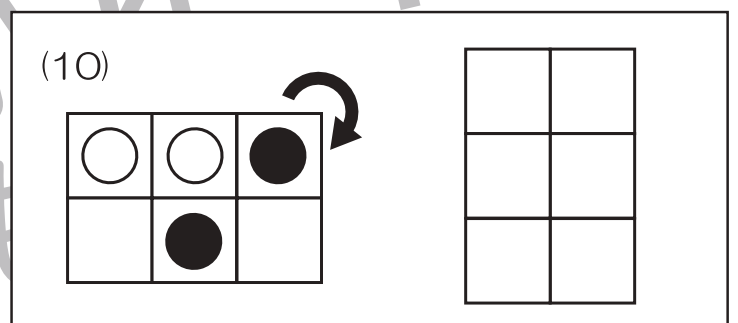
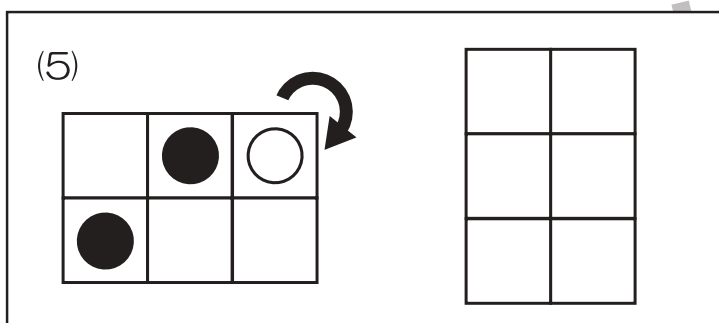
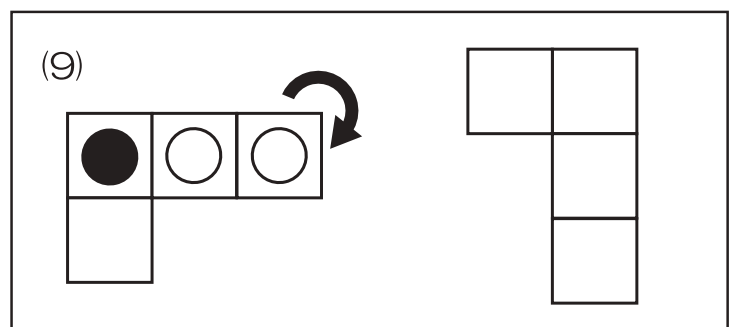
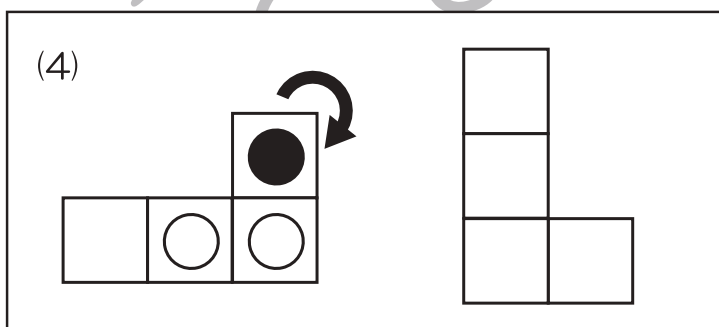
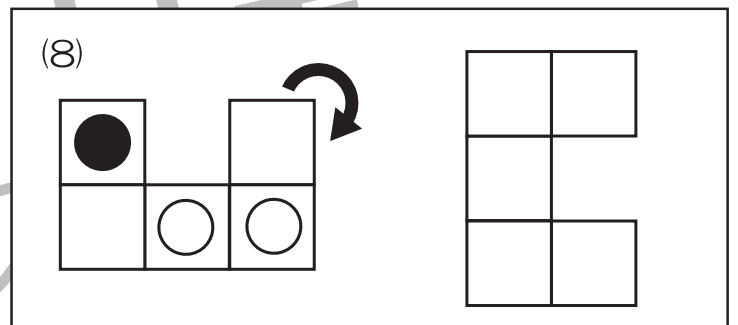
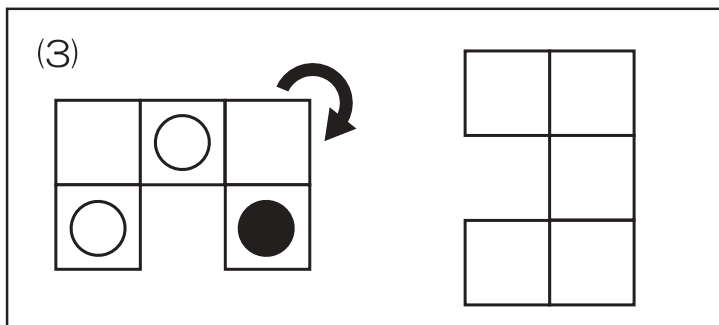
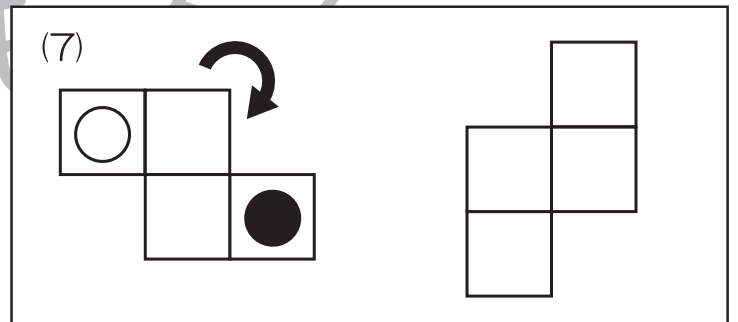
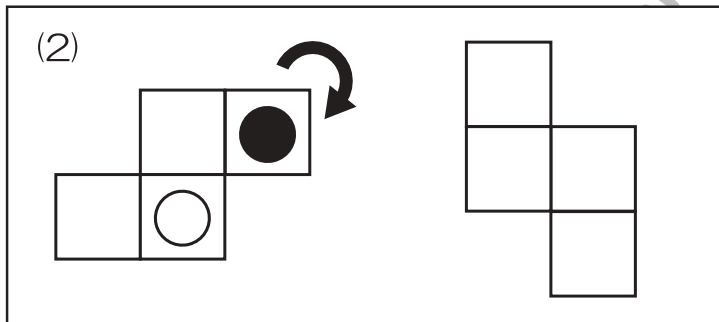
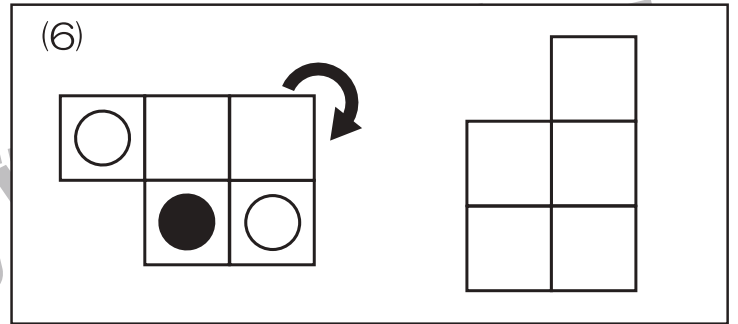
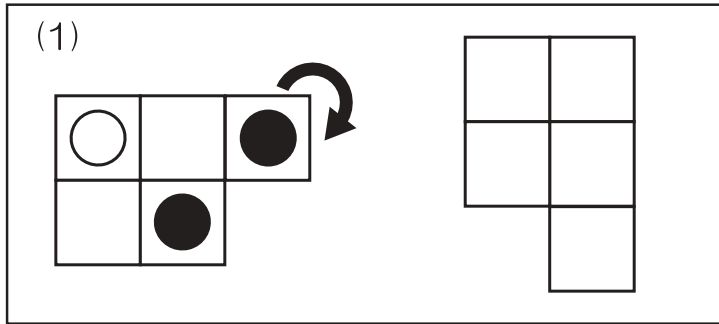


おうちで、やろう。

Study at home. 小学校受験の家庭学習教材

図形：回転④②

左の形が矢印の方向に 1 回倒れたときの様子が右の形になります。白い丸、黒い丸の場所を考えて右の四角にかきます。



※1. このプリントは、しながわ・目黒こどもスクールのウェブサイトでダウンロードができます。無断複写・引用はご遠慮ください。
 ※2. このプリントを活用したオンライン授業のスケジュールは、しながわ・目黒こどもスクールのウェブサイトでご確認ください。



左の形を右のように向きを変えたときの白い丸の場所を考えます。答えは右の四角にかきます。

(1)

(6)

(2)

(7)

(3)

(8)

(4)

(9)

(5)

(10)

※1. このプリントは、しながわ・目黒こどもスクールのウェブサイトでダウンロードができます。無断複写・引用はご遠慮ください。
 ※2. このプリントを活用したオンライン授業のスケジュールは、しながわ・目黒こどもスクールのウェブサイトでご確認ください。



おうちで、やろう。

Study at home. 小学校受験の家庭学習教材

図形：注意力①

左のお手本と同じ数の形を使ってできているものはどれでしょうか。右から選んで正しいものに○をつけます。

--	--	--	--	--

--	--	--	--	--

--	--	--	--	--

--	--	--	--	--

--	--	--	--	--

※1. このプリントは、しながわ・目黒こどもスクールのウェブサイトからダウンロードできます。無断複写・引用はご遠慮ください。

※2. このプリントを活用したオンライン授業のスケジュールは、しながわ・目黒こどもスクールのウェブサイトでご確認ください。



おうちで、やろう。

Study at home. 小学校受験の家庭学習教材

図形：注意力②

左のお手本と同じ数の形を使ってできているものはどれでしょうか。右から選んで正しいものに○をつけます。

--	--	--	--	--

--	--	--	--	--

--	--	--	--	--

--	--	--	--	--

--	--	--	--	--

※1. このプリントは、しながわ・目黒こどもスクールのウェブサイトでダウンロードができます。無断複写・引用はご遠慮ください。

※2. このプリントを活用したオンライン授業のスケジュールは、しながわ・目黒こどもスクールのウェブサイトでご確認ください。



おうちで、やろう。

Study at home. 小学校受験の家庭学習教材

推理：系列完成⑫

絵がある約束通りに並んでいます。灰色の部分で隠れている場所の並び方を考えます。答えは下の四角の中から選んでそれぞれの記号をつけます。

○	●	△	☆	▷	●	○	●	△	☆	▷	○	●	●	△
▷	○	[Grayed out]				●	○	●	△	☆	▷	○	●	●
☆	▷	○	●	△	☆	▷	[Grayed out]				☆	▷	○	●
△	☆	▷	○	●	[Grayed out]			□	○	●	△	☆	▷	○

△	☆	▷	●	●	△	☆	▷	▷	○	●	●
●	△	☆	▷	▷	○	●	△				
△	●	○	●	●	○	●	△	○	●	△	☆

🌸	🍪	🍫	🍪	🍪	🌸	🍫	🍪	🌀	🌸	🍪	🍫	🍪	🍪	🌸
🍫	[Grayed out]				🍪	🍪	🌸	🍫	🍪	🌀	🌸	🍪	🍫	🍫
🍪	🍪	🌸	🍫	🍪	🌀	🌸	🍪	[Grayed out]				🍪	🌀	
🌸	🍪	🍫	🍪	[Grayed out]				□	🌸	🍪	🍫	🍪	🍪	🌸

🌸	🍪	🍫	🍪	🍪	🍫	🍪	🍪	🌸	🍫	🌸	🍫	🍪	🌀	🌸
🍪	🍫	🍪	🍪	🌸	🍪	🍪	🌸	🍫	🍪	🍫	🍪	🌀	🌸	🍪
🌀	🌸	🍪	🍫	🍪	🍪	🌸	🍫	🍪	🌀	🍪	🌀	🌸	🍪	🍫

※1. このプリントは、しながわ・目黒こどもスクールのウェブサイトでダウンロードができます。無断複写・引用はご遠慮ください。
 ※2. このプリントを活用したオンライン授業のスケジュールは、しながわ・目黒こどもスクールのウェブサイトでご確認ください。




おうちで、やろう。

Study at home. 小学校受験の家庭学習教材

数量：計数⑧

上の四角の中に灰色の星があります。①～⑤の問題に答えましょう。

①四角の中に入っている星の数だけ〇をかきます。 ②三角の中に入っている星の数だけ〇をかきます。 ③丸の中の星と四角の中の星の数を合わせた数だけ〇をかきます。 ④3つの形の中に入っている星の数の中で数が一番多くもなく、一番少なくもない数だけ〇をかきます。 ⑤3つの形の中に入っていない星の数だけ〇をかきます。



①

②

③

④

⑤



おうちで、やろう。


Study at home. 小学校受験の家庭学習教材

数量：計数⑨

上の四角の中に灰色の星があります。①～⑤の問題に答えましょう。

①2番目に大きい丸の中にある星の数だけ〇をかきます。 ②丸の中に入っていない星の数だけ〇をかきます。

③丸の中に入っている星の数のうち、一番少ない数だけ〇をかきます。 ④一番大きい丸の中の星と一番小さい丸の中の星の数を合わせた数だけ〇をかきます。 ⑤丸の中に入っていない星の数と2番目に大きい丸の中にある星の数の違いはいくつですか。違う数だけ〇をかきます。



①

②

③

④

⑤




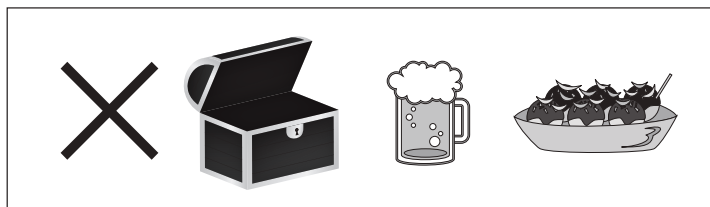


おうちで、やろう。

Study at home. 小学校受験の家庭学習教材

推理：たからさがし⑳

あなたは宝島にやってきました。宝箱と宝箱の鍵をたくさん見つけにいけます。下の地図の中からお手本にある「宝箱」「かき氷」「うちわ」、どこかに1つだけある「石板」を見つけて○をつけましょう。「もう空いている宝箱」と「ビール・タコ焼き」はハズレですから何も印はつけません。宝探しの時間はたったの1分です。それまでに、できるだけ多くの「宝箱」「かき氷」「うちわ」を見つけてみましょう。



※1. このプリントは、しながわ・目黒こどもスクールのウェブサイトからダウンロードできます。無断複写・引用はご遠慮ください。

※2. このプリントを活用したオンライン授業のスケジュールは、しながわ・目黒こどもスクールのウェブサイトでご確認ください。