



おうちで、やろう。

Study at home. 小学校受験の家庭学習教材

常識：季節⑫

左右の列には1月から6月までによく見られる季節の絵があります。真ん中の月と季節の絵を線で結びましょう。
※ここに並んでいる絵の他にも、その月におこなう行事を探してみましょう。

1 がつ

2 がつ

3 がつ

4 がつ

5 がつ

6 がつ

※1. このプリントは、しながわ・目黒こどもスクールのウェブサイトでダウンロードができます。無断複写・引用はご遠慮ください。
 ※2. このプリントを活用したオンライン授業のスケジュールは、しながわ・目黒こどもスクールのウェブサイトでご確認ください。



おうちで、やろう。

Study at home. 小学校受験の家庭学習教材

常識：季節⑬

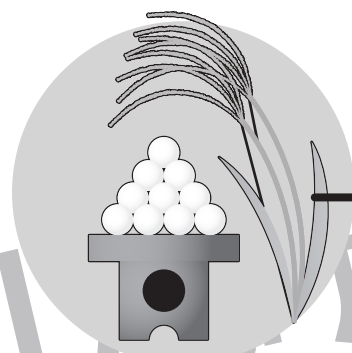
左右の列には7月から12月までによく見られる季節の絵があります。真ん中の月と季節の絵を線で結びましょう。
※ここに並んでいる絵の他にも、その月におこなう行事を探してみましょう。




7 がつ



8 がつ



9 がつ



10 がつ



11 がつ



12 がつ

※1. このプリントは、しながわ・目黒こどもスクールのウェブサイトでダウンロードができます。無断複写・引用はご遠慮ください。
※2. このプリントを活用したオンライン授業のスケジュールは、しながわ・目黒こどもスクールのウェブサイトでご確認ください。




おうちで、やろう。

Study at home. 小学校受験の家庭学習教材

常識：表情①

顔の無い女の子が並んでいます。女の子の下の言葉に合うように表情を描きます。目、眉毛、口、鼻などを、鉛筆（クーピー）1本で描きましょう。



にこにこ



びっくり



どうぞ




おっけー



しくしく



むっ！



うとうと



ぱんぱん



しょんぼり



もじもじ



うーん



あれれ？

※1. このプリントは、しながわ・目黒こどもスクールのウェブサイトでダウンロードができます。無断複写・引用はご遠慮ください。
※2. このプリントを活用したオンライン授業のスケジュールは、しながわ・目黒こどもスクールのウェブサイトでご確認ください。



おうちで、やろう。

Study at home. 小学校受験の家庭学習教材


常識：表情②

顔の無い男の子が並んでいます。女の子の下の言葉に合うように表情を描きます。

目、眉毛、口、鼻などを、鉛筆（クーピー）1本で描きましょう。下段4つは、自分で描きたい顔を考えて取り組みましょう。



やっちゃった



しんせつ



わあ！



こっちだよ




わくわく







えへへ



もしもし



ほっ



※1. このプリントは、しながわ・目黒こどもスクールのウェブサイトでダウンロードができます。無断複写・引用はご遠慮ください。

※2. このプリントを活用したオンライン授業のスケジュールは、しながわ・目黒こどもスクールのウェブサイトでご確認ください。



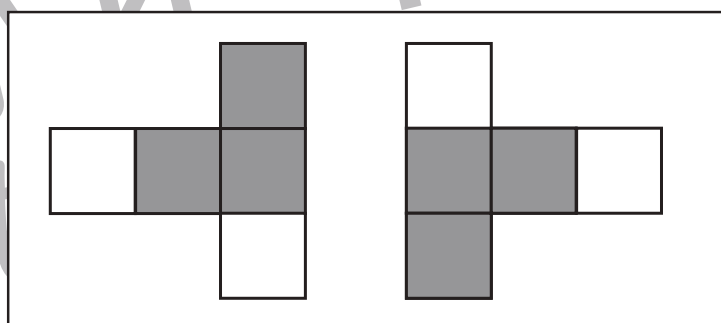
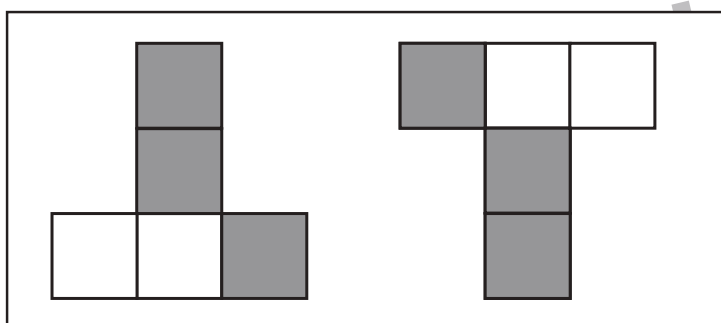
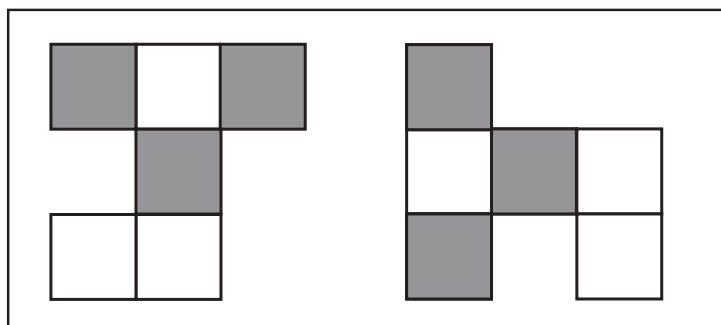
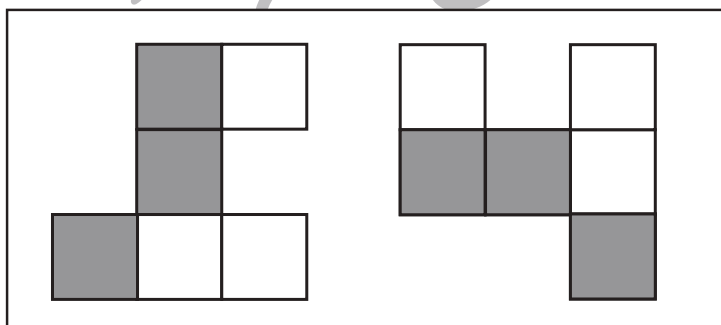
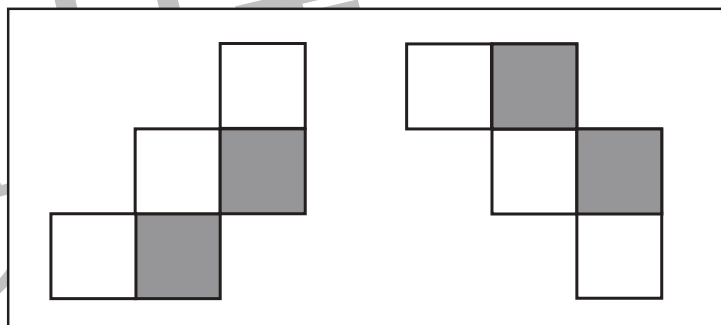
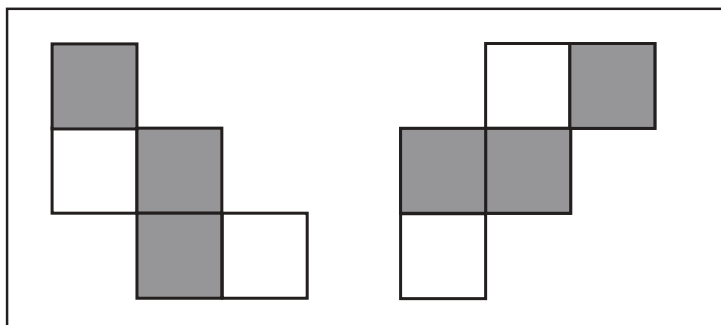
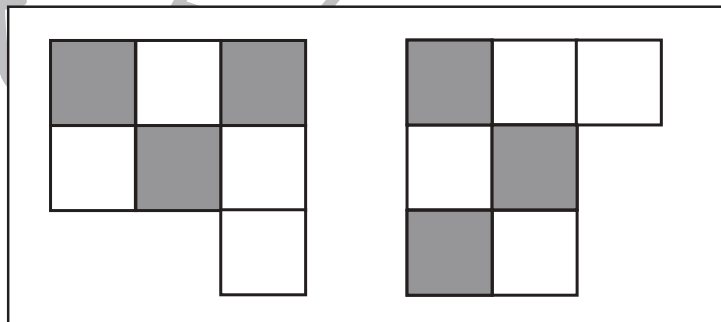
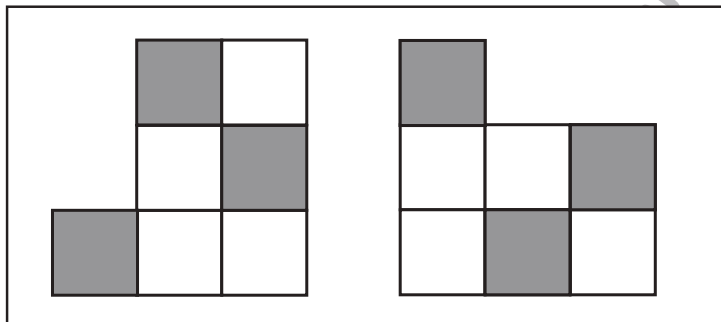
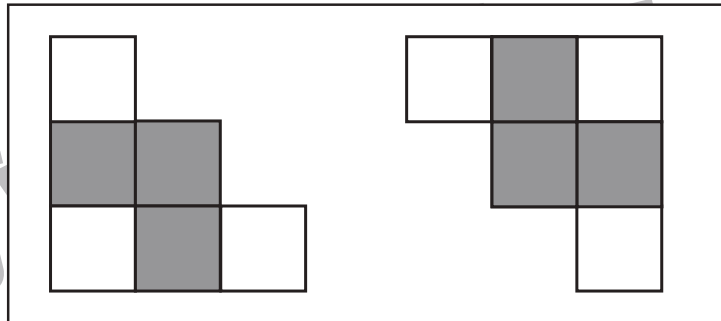
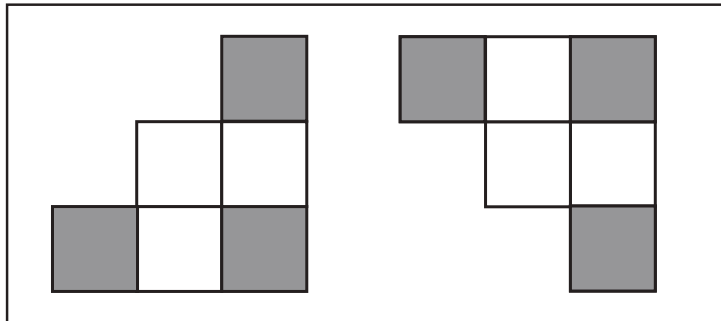


おうちで、やろう。

Study at home. 小学校受験の家庭学習教材

図形：回転④

左の形が右のように倒れたときの見え方を考えます。右の形で灰色のマスを塗ります。



※1. このプリントは、しながわ・目黒こどもスクールのウェブサイトでダウンロードができます。無断複写・引用はご遠慮ください。
※2. このプリントを活用したオンライン授業のスケジュールは、しながわ・目黒こどもスクールのウェブサイトでご確認ください。



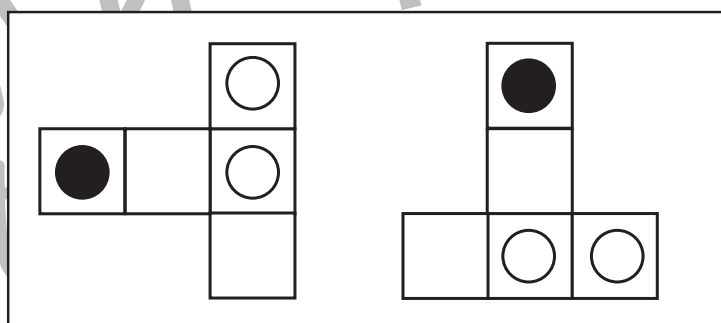
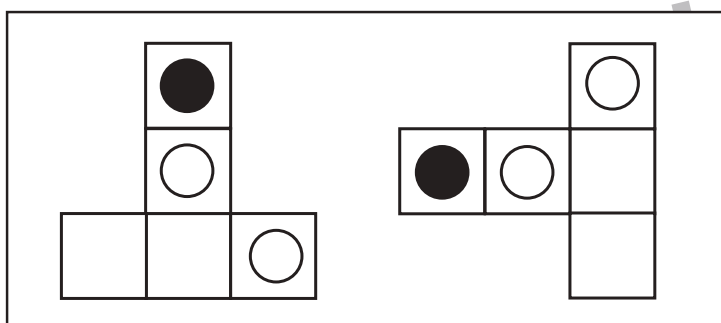
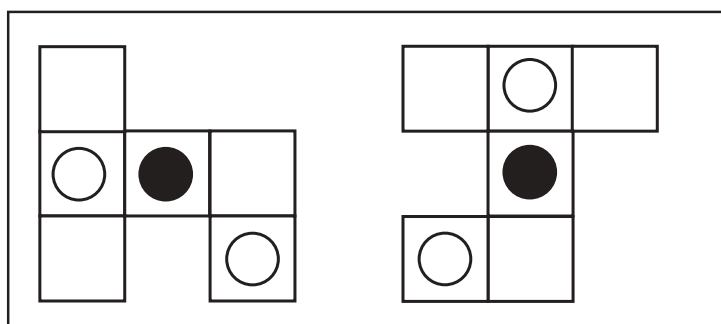
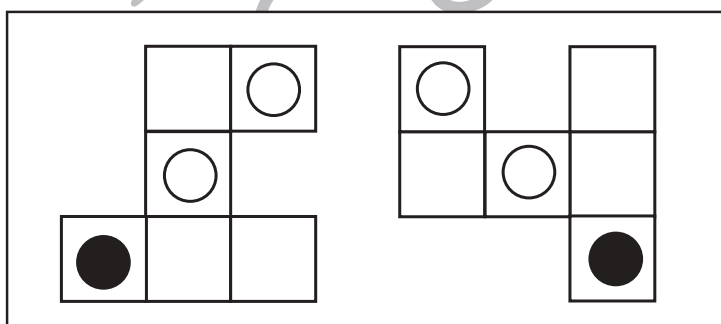
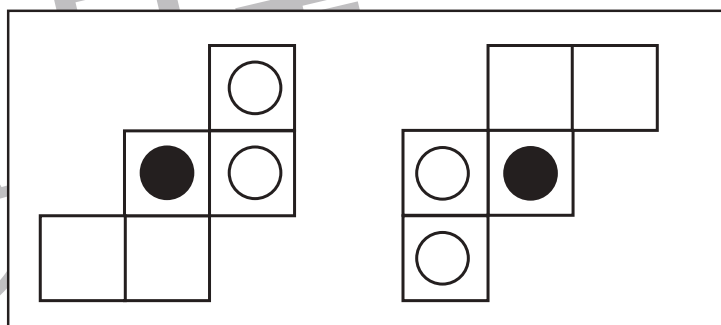
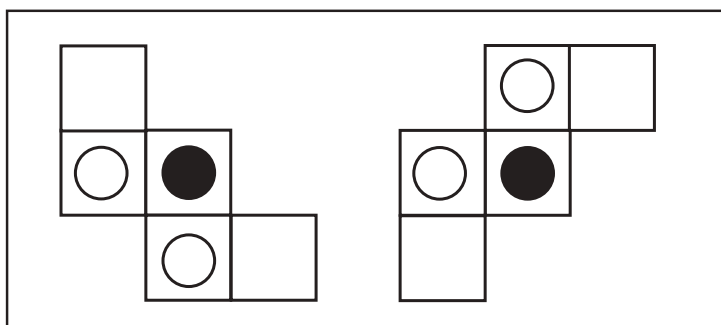
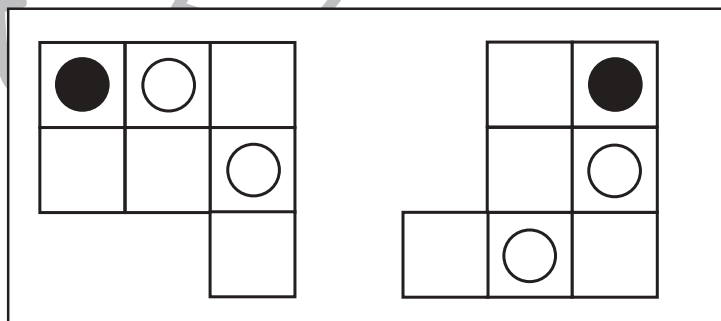
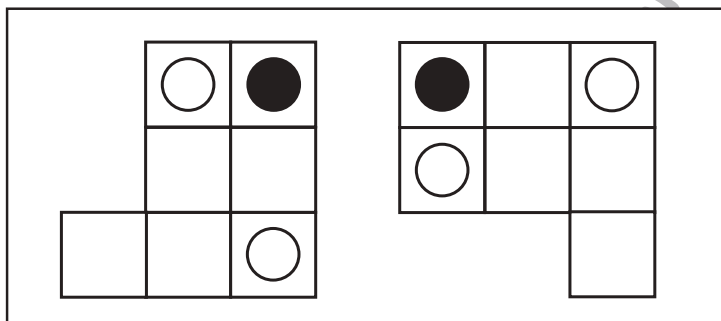
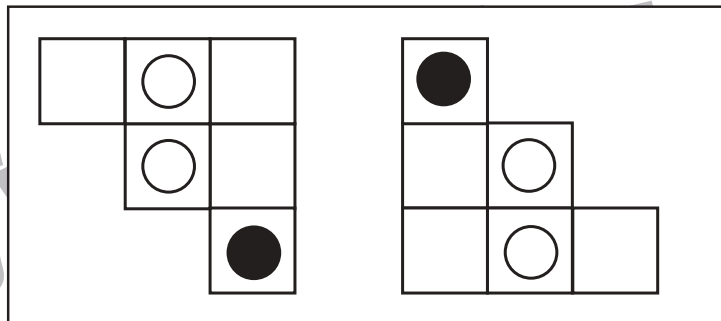
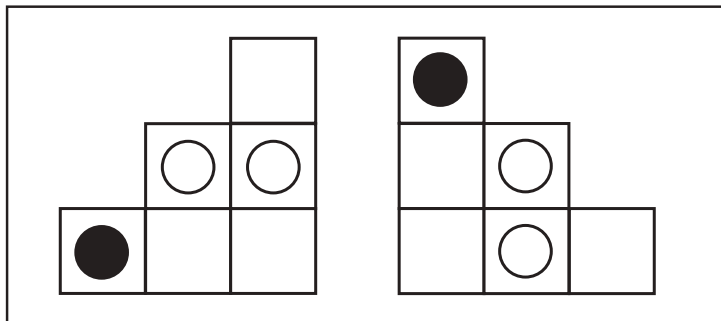


おうちで、やろう。

Study at home. 小学校受験の家庭学習教材

図形：回転④⑤

左の形が右のように倒れたときの見え方を考えます。右の形で白丸の場所を考えてその場所に○をかきます。



※1. このプリントは、しながわ・目黒こどもスクールのウェブサイトでダウンロードができます。無断複写・引用はご遠慮ください。
※2. このプリントを活用したオンライン授業のスケジュールは、しながわ・目黒こどもスクールのウェブサイトでご確認ください。





おうちで、やろう。

Study at home. 小学校受験の家庭学習教材

数量：合わせた数⑧

お話をよく聞いて問題に答えます。

①りんごの数が5よりも多く、8よりも少ない数になるようにします。2つ四角を選んで○をつけましょう。

--	--	--	--

②みかんの数が6よりも多く、9よりも少ない数になるようにします。2つ四角を選んで○をつけましょう。

--	--	--	--

③メロンの数が8よりも多く、10よりも少ない数になるようにします。2つ四角を選んで○をつけましょう。

--	--	--	--

④いちごの数が13よりも多く、15よりも少ない数になるようにします。2つ四角を選んで○をつけましょう。

--	--	--	--

※1. このプリントは、しながわ・目黒こどもスクールのウェブサイトからダウンロードできます。無断複写・引用はご遠慮ください。

※2. このプリントを活用したオンライン授業のスケジュールは、しながわ・目黒こどもスクールのウェブサイトでご確認ください。