



おうちで、やろう。

Study at home. 小学校受験の家庭学習教材

言語：お話づくり④

4枚の絵でお話づくりをします。順番を考えてお話ししましょう。保護者の方がお子さまのお話した内容を下に記入してください。

<学習のアドバイス>絵の説明だけに終わらないようにすることが大切です。まずは、何をしている様子なのかを考えましょう。人物の名前や、どんな会話をしているか想像してみると、お話の内容が充実していきます。※この問題に正解はありません。



あなたの考えたお話

※1. このプリントは、しながわ・目黒こどもスクールのウェブサイトでダウンロードができます。無断複写・引用はご遠慮ください。
 ※2. このプリントを活用したオンライン授業のスケジュールは、しながわ・目黒こどもスクールのウェブサイトでご確認ください。





おうちで、やろう。

Study at home. 小学校受験の家庭学習教材

言語：お話づくり⑤

4枚の絵でお話づくりをします。順番を考えてお話ししましょう。保護者の方がお子さまのお話した内容を下に記入してください。

<学習のアドバイス>絵の説明だけに終わらないようにすることが大切です。まずは、何をしている様子なのかを考えましょう。人物の名前や、どんな会話をしているか想像してみると、お話の内容が充実していきます。※この問題に正解はありません。



あなたの考えたお話

※1. このプリントは、しながわ・目黒こどもスクールのウェブサイトでダウンロードができます。無断複写・引用はご遠慮ください。
 ※2. このプリントを活用したオンライン授業のスケジュールは、しながわ・目黒こどもスクールのウェブサイトでご確認ください。






おうちで、やろう。

Study at home. 小学校受験の家庭学習教材

言語：お話づくり⑥

4枚の絵でお話づくりをします。順番を考えてお話ししましょう。保護者の方がお子さまのお話した内容を下に記入してください。

<学習のアドバイス>絵の説明だけに終わらないようにすることが大切です。まずは、何をしている様子なのかを考えましょう。人物の名前や、どんな会話をしているか想像してみると、お話の内容が充実していきます。※この問題に正解はありません。



あなたの考えたお話

※1. このプリントは、しながわ・目黒こどもスクールのウェブサイトでダウンロードができます。無断複写・引用はご遠慮ください。
 ※2. このプリントを活用したオンライン授業のスケジュールは、しながわ・目黒こどもスクールのウェブサイトでご確認ください。

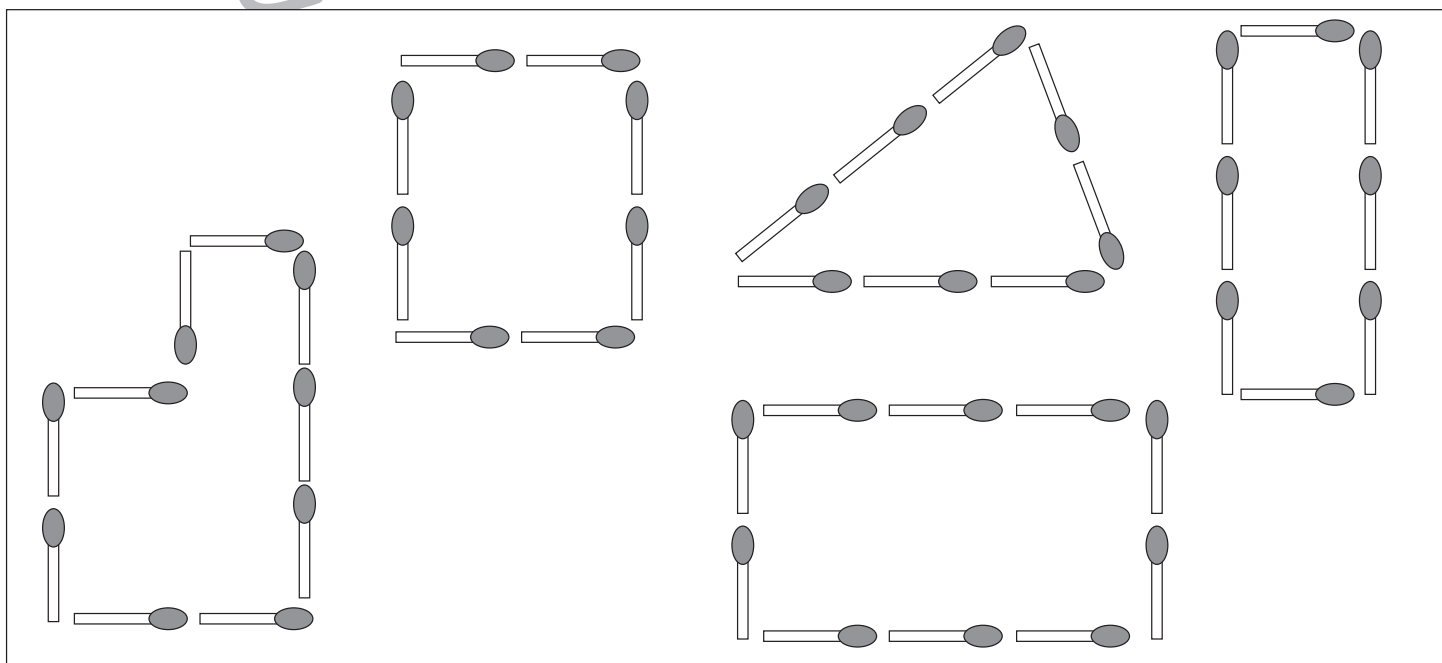

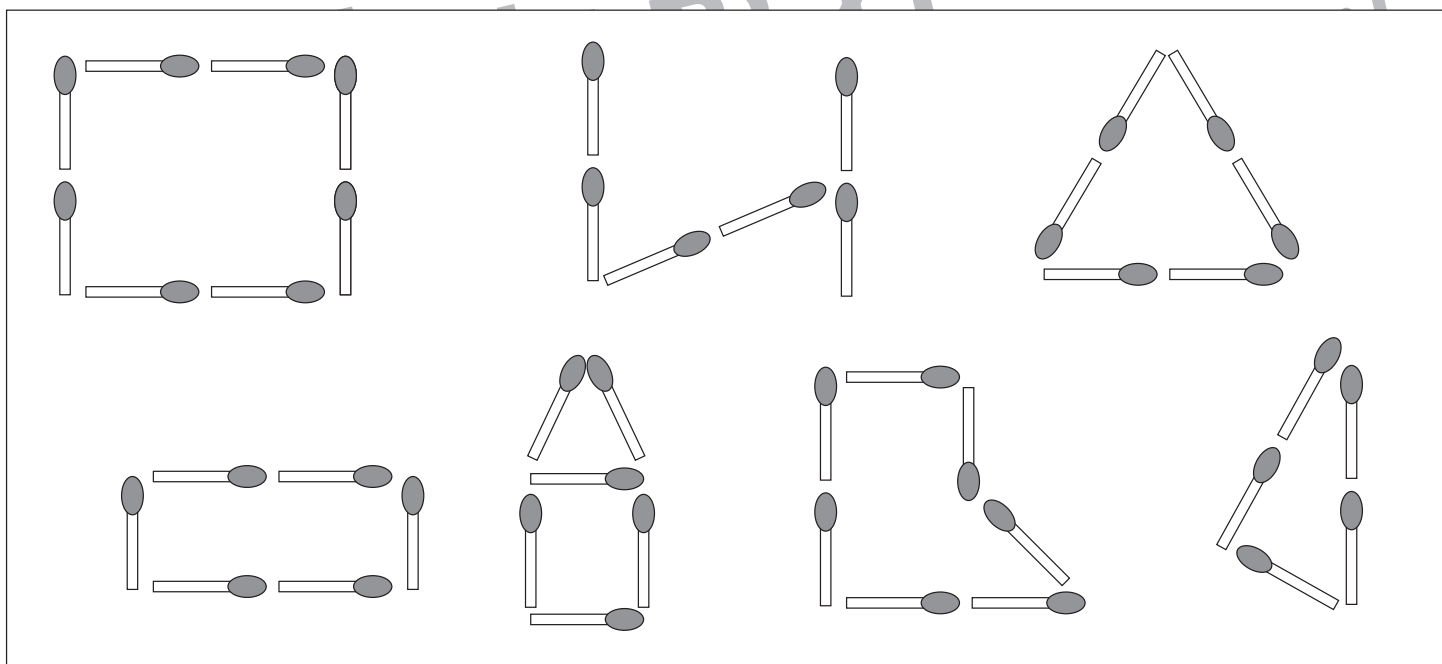



おうちで、やろう。

Study at home. 小学校受験の家庭学習教材

図形：マッチ③

上の太い四角の中に入っているマッチの数でできている形を下の四角の中から選んで○をつけます。A



※1. このプリントは、しながわ・目黒こどもスクールのウェブサイトからダウンロードできます。無断複写・引用はご遠慮ください。
※2. このプリントを活用したオンライン授業のスケジュールは、しながわ・目黒こどもスクールのウェブサイトでご確認ください。





おうちで、やろう。

Study at home. 小学校受験の家庭学習教材

図形：回転④⑥

左の形が矢印の方向に矢印の数だけ、倒れたときにどのように見えるかを考えて、右の点線の四角の中に形をかきます。黒いマスはかいてありますので、よく考えて形をかきましょう。

※1. このプリントは、しながわ・目黒こどもスクールのウェブサイトでダウンロードができます。無断複写・引用はご遠慮ください。

※2. このプリントを活用したオンライン授業のスケジュールは、しながわ・目黒こどもスクールのウェブサイトでご確認ください。



おうちで、やろう。

Study at home. 小学校受験の家庭学習教材

図形：回転④⑦

左の形が矢印の方向に矢印の数だけ、倒れたときにどのように見えるかを考えて、右の点線の四角の中に形をかきます。黒いマスはかいてありますので、よく考えて形をかきましょう。

		■

		■

	■	

		■

■		

		■

■		

		■

		■

■		

■		

		■

■		

		■

		■

		■

		■

		■

		■

※1. このプリントは、しながわ・目黒こどもスクールのウェブサイトでダウンロードができます。無断複写・引用はご遠慮ください。

※2. このプリントを活用したオンライン授業のスケジュールは、しながわ・目黒こどもスクールのウェブサイトでご確認ください。



おうちで、やろう。

Study at home. 小学校受験の家庭学習教材

図形：回転④⑧

左の形が矢印の方向に矢印の数だけ、倒れたときにどのように見えるかを考えて、右の点線の四角の中に形をかきます。黒いマスはかいてありますので、よく考えて形をかきましょう。

※1. このプリントは、しながわ・目黒こどもスクールのウェブサイトでダウンロードができます。無断複写・引用はご遠慮ください。

※2. このプリントを活用したオンライン授業のスケジュールは、しながわ・目黒こどもスクールのウェブサイトでご確認ください。



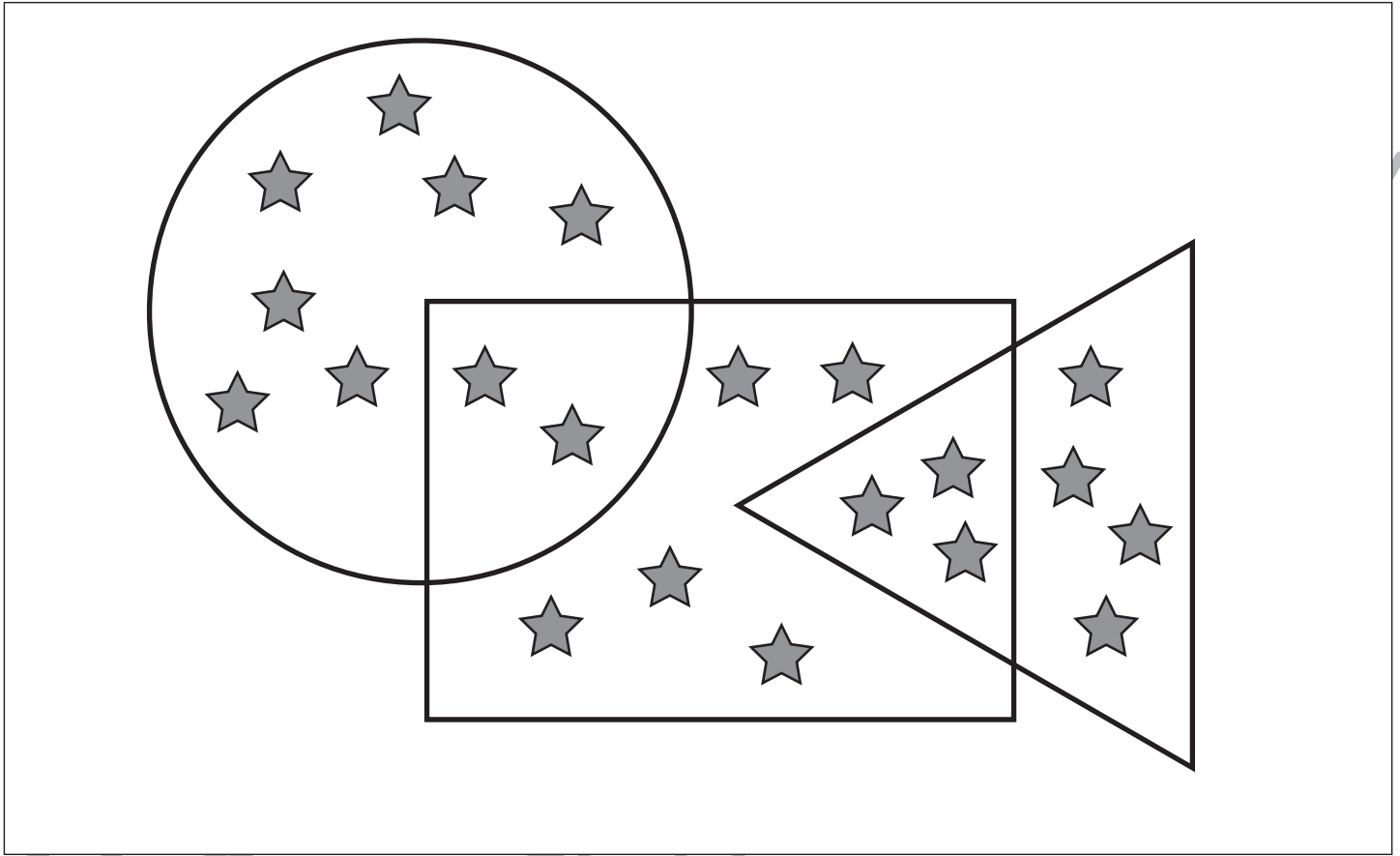
おうちで、やろう。

Study at home. 小学校受験の家庭学習教材

数量：計数⑩

上の四角の中に灰色の星があります。①～⑤の問題に答えましょう。

①丸の中にある星の数だけ〇をかきます。 ②四角の中にある星の数だけ〇をかきます。 ③四角と三角が重なっているところにある星の数だけ〇をかきます。 ④四角の中で丸も三角も重なっていないところにある星の数だけ〇をかきます。 ⑤四角と丸が重なっているところの星の数と四角と三角が重なっているところの星の数を合わせた数だけ〇をかきます。



①

②

③

④

⑤





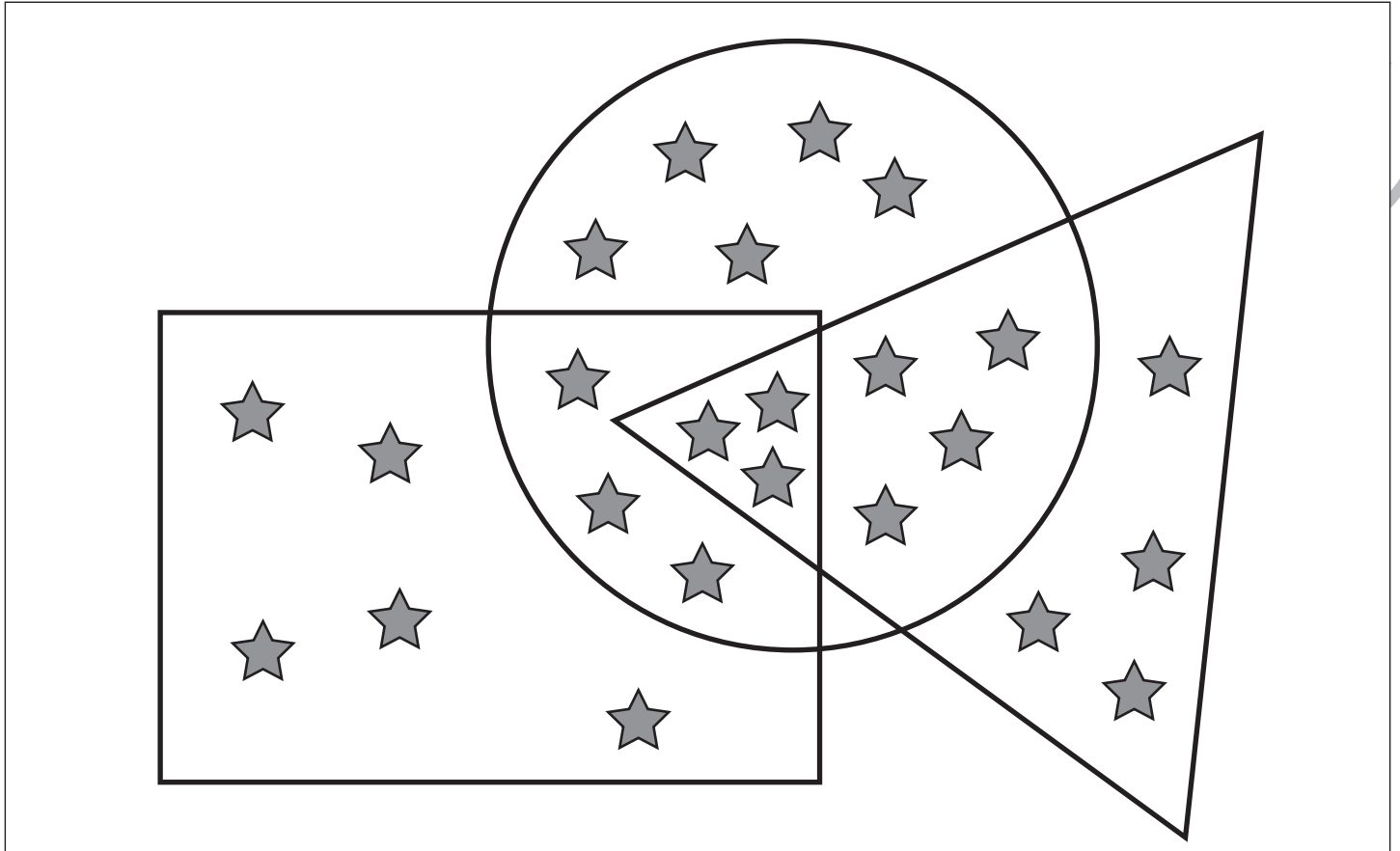
おうちで、やろう。

Study at home. 小学校受験の家庭学習教材

数量：計数⑪

上の四角の中に灰色の星があります。①～⑤の問題に答えましょう。

①三角の中にある星の数だけ○をかきます。 ②四角の中にある星の数だけ○をかきます。 ③丸と四角が重なっているところにある星の数だけ○をかきます。 ④丸と三角が重なっているところにある星の数だけ○をかきます。 ⑤丸も三角も四角も重なっているところにある星の数だけ○をかきます。



①

②

③

④

⑤

※1. このプリントは、しながわ・目黒こどもスクールのウェブサイトでダウンロードができます。無断複写・引用はご遠慮ください。
※2. このプリントを活用したオンライン授業のスケジュールは、しながわ・目黒こどもスクールのウェブサイトでご確認ください。

