



おうちで、やろう。

Study at home. 小学校受験の家庭学習教材

図形：移動⑳

左の四角がお手本です。このお手本の○を真ん中の太い四角の中の矢印の方向へ1マスずつ動かします。移動した後の場所を考えて、右の四角の中に○をかきます。

①

		○

↓
←
↑

	○	

②

○		

→
←
↑

	○	

③

○		

↑
→
↗

		○

④

		○

↖
→
↙

	○	

⑤

○		

↗
↗
↓

		○

⑥

○		

→
→
↑

		○

⑦

	○	

↘
↘
↙

	○	

⑧

	○	

→
↘
↗

		○

⑨

		○

↖
↖
↑

	○	

⑩

○		

↗
↘
←

	○	

※1. このプリントは、しながわ・目黒こどもスクールのウェブサイトからダウンロードできます。無断複製・引用はご遠慮ください。
※2. このプリントを活用したオンライン授業のスケジュールは、しながわ・目黒こどもスクールのウェブサイトでご確認ください。



おうちで、やろう。

Study at home. 小学校受験の家庭学習教材

図形：移動②①

左の四角がお手本です。このお手本の○を真ん中の太い四角の中の矢印の方向へ1マスずつ動かします。移動した後の場所を考えて、右の四角の中に○をかきます。

①

		○	

←
←
↑
→

		○	

②

	○		

→
↑
→
↓

			○

③

○			

↑
→
→
↓

			○

④

			○

←
↓
↘
↓

			○

⑤

	○		

↘
↘
↗
→

		○	

⑥

		○	

↗
←
↓
↘

			○

⑦

			○

↑
↗
↗
→

			○

⑧

			○

←
↘
↘
↓

			○

⑨

			○

↗
↓
↗
←

			○

⑩

	○		

↘
↘
↑
↘

			○

※1. このプリントは、しながわ・目黒こどもスクールのウェブサイトでダウンロードができます。無断複写・引用はご遠慮ください。
※2. このプリントを活用したオンライン授業のスケジュールは、しながわ・目黒こどもスクールのウェブサイトでご確認ください。





おうちで、やろう。

Study at home. 小学校受験の家庭学習教材

図形：移動②②

左の四角がお手本です。このお手本の○を真ん中の太い四角の中の矢印の方向へ1マスずつ動かします。移動した後の場所を考えて、右の四角の中に○をかきます。

①

	○	○

←
↑
→

	○	○

②

○		
○		

→
↓
→

		○
		○

③

	○	
○		

↑
→
↘

		○
○		

④

○	○	

↗
↓
↙

○	○	

⑤

		○
		○

↘
←
↓

		○
○		
○		

⑥

	○	
○		

↓
→
↙

	○	

⑦

○		
○		

→
→
↘

		○
		○

⑧

		○
		○

←
↗
←

		○
		○

⑨

		○
	○	

↙
→
←

		○

⑩

	○	
○		

→
↘
→

		○
		○

※1. このプリントは、しながわ・目黒こどもスクールのウェブサイトでダウンロードができます。無断複写・引用はご遠慮ください。
※2. このプリントを活用したオンライン授業のスケジュールは、しながわ・目黒こどもスクールのウェブサイトでご確認ください。



おうちで、やろう。

Study at home. 小学校受験の家庭学習教材

図形：移動⑳

左の四角がお手本です。このお手本の○を真ん中の太い四角の中の矢印の方向へ1マスずつ動かします。移動した後の場所を考えて、右の四角の中に○をかきます。

①

	○		
	○		

↑
→
→
↓

			○
			○

②

	○	○	

←
→
↓
↓

		○	○

③

○			
	○		

→
↑
→
↓

			○
			○

④

			○
			○

←
←
↑
↓

			○
			○

⑤

	○		○

↙
↑
→
←

	○		○

⑥

		○	
○			

↗
←
↓
→

			○
○			

⑦

		○	
			○

←
↓
→
↙

			○
			○

⑧

			○
		○	

←
↙
↑
↘

			○
			○

⑨

○			
		○	

↘
↓
↗
→

			○
			○

⑩

	○		
○			

↓
→
↗
→

			○
			○

※1. このプリントは、しながわ・目黒こどもスクールのウェブサイトでダウンロードができます。無断複写・引用はご遠慮ください。
※2. このプリントを活用したオンライン授業のスケジュールは、しながわ・目黒こどもスクールのウェブサイトでご確認ください。







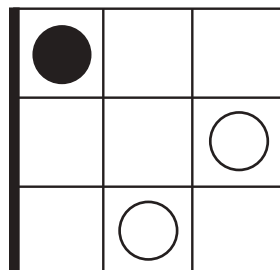
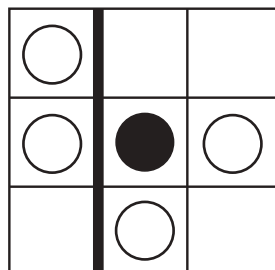
おうちで、やろう。

Study at home. 小学校受験の家庭学習教材



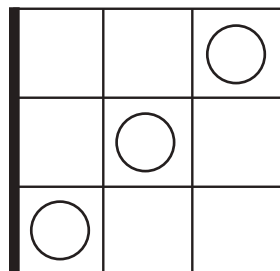
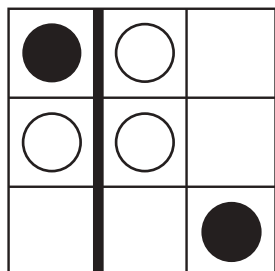
図形：重ね図形②④

左の2枚の四角は透明です。2枚の四角の太い線の所で重ねたとき、2枚の四角が重なっている場所の見え方を考えます。答えはすぐ右の空いている四角にかきます。もし間違えてしまったら一番右の四角にかきなおしましょう。

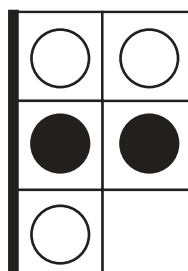
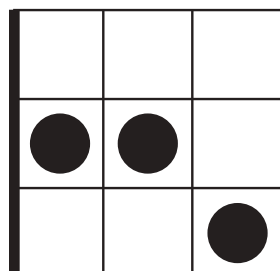
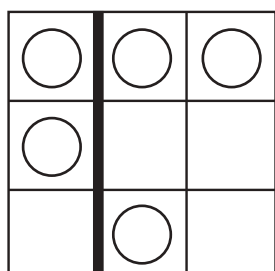
①





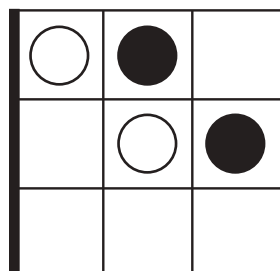
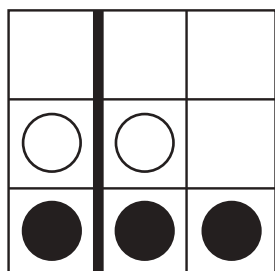
②



③



④



※1. このプリントは、しながわ・目黒こどもスクールのウェブサイトでダウンロードができます。無断複写・引用はご遠慮ください。
※2. このプリントを活用したオンライン授業のスケジュールは、しながわ・目黒こどもスクールのウェブサイトでご確認ください。





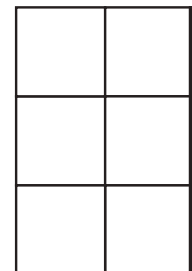

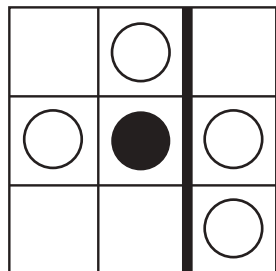
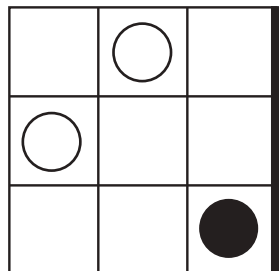
おうちで、やろう。

Study at home. 小学校受験の家庭学習教材

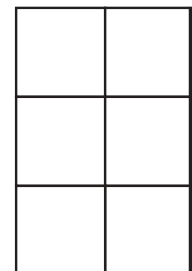

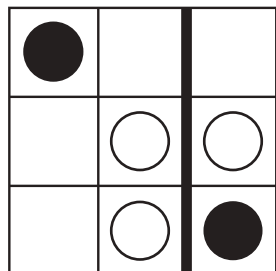
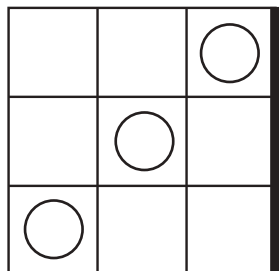
図形：重ね図形⑳

左の2枚の四角は透明です。2枚の四角の太い線の所で重ねたとき、2枚の四角が重なっている場所の見え方を考えます。答えはすぐ右の空いている四角にかきます。もし間違えてしまったら一番右の四角にかきなおしましょう。

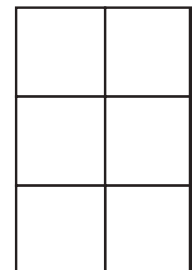

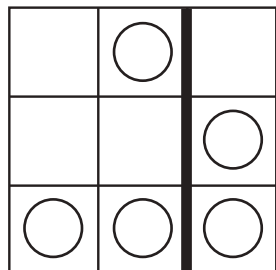

①



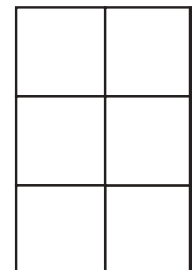

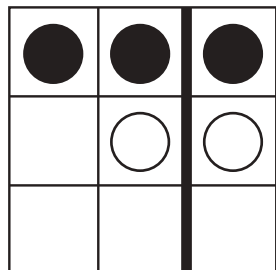
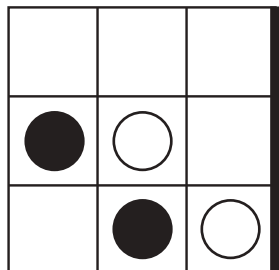
②



③



④



※1. このプリントは、しながわ・目黒こどもスクールのウェブサイトでダウンロードができます。無断複写・引用はご遠慮ください。
※2. このプリントを活用したオンライン授業のスケジュールは、しながわ・目黒こどもスクールのウェブサイトでご確認ください。






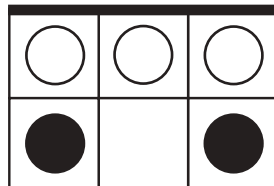
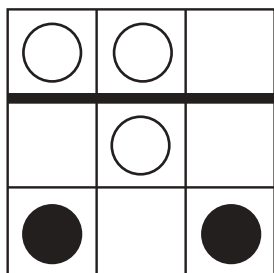
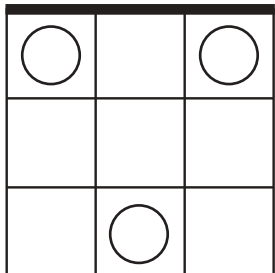
おうちで、やろう。

Study at home. 小学校受験の家庭学習教材

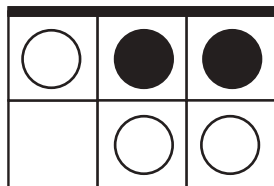
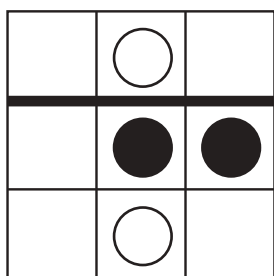
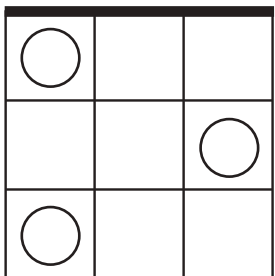
図形：重ね図形②⑥

左の2枚の四角は透明です。2枚の四角の太い線の所で重ねたとき、2枚の四角が重なっている場所の見え方を考えます。答えはすぐ右の空いている四角にかきます。もし間違えてしまったら一番右の四角にかきなおしましょう。


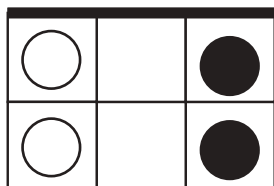
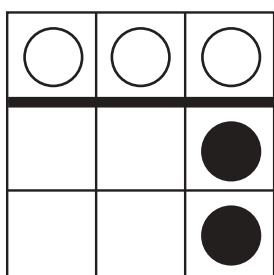
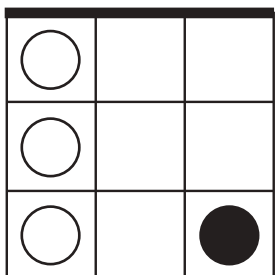
①




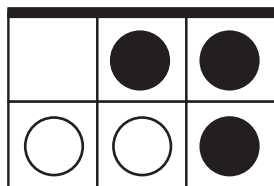
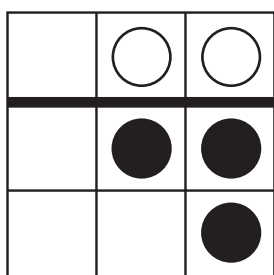
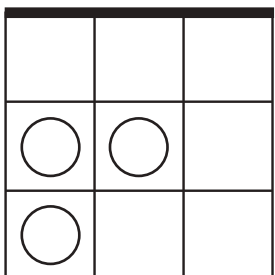
②



③



④



※1. このプリントは、しながわ・目黒こどもスクールのウェブサイトでダウンロードができます。無断複写・引用はご遠慮ください。
※2. このプリントを活用したオンライン授業のスケジュールは、しながわ・目黒こどもスクールのウェブサイトでご確認ください。








おうちで、やろう。

Study at home. 小学校受験の家庭学習教材

数量：置き換え⑩

上の太い四角の中がお約束です。それぞれの乗り物には同じ四角の中のお友だちの人数だけ乗ることができます。
左の四角の中の乗り物に右の四角の中のお友だちたちが矢印のところから順番に乗っていきます。このとき、最後に乗り物に乗れるお友だちに○をつけます。



①

②

③

④

⑤

※1. このプリントは、しながわ・目黒こどもスクールのウェブサイトからダウンロードできます。無断複写・引用はご遠慮ください。
※2. このプリントを活用したオンライン授業のスケジュールは、しながわ・目黒こどもスクールのウェブサイトでご確認ください。




おうちで、やろう。





Study at home. 小学校受験の家庭学習教材

数量：置き換え⑪





上の太い四角の中がお約束です。それぞれの乗り物には同じ四角の中のお友だちの人数だけ乗ることができます。
左の四角の中の乗り物に右の四角の中のお友だちたちが矢印のところから順番に乗っていきます。このとき、最後に乗り物に乗れるお友だちに○をつけます。







①

	→ 
	





②

	→ 
	





③

	→ 
	

④

	→ 
	

⑤

	→ 
	

※1. このプリントは、しながわ・目黒こどもスクールのウェブサイトからダウンロードできます。無断複写・引用はご遠慮ください。

※2. このプリントを活用したオンライン授業のスケジュールは、しながわ・目黒こどもスクールのウェブサイトでご確認ください。