

●はじめに

学力分野の総合テストとして主要6領域から、計6枚を出題しています。ペーパーテスト合計60点満点で採点いたします。なお、平均点は6割到達を目安として36～48点を目標点として作成しています。

●ペーパー出題内容

領域	出題単元	得点
① 記憶A	お話の記憶	10点
② 数量A	計数、数の対応、長さ	10点
③ 図形A	注意・記憶、異図形	10点
④ 言語A	終わりの音(しりとり)、語彙	10点
⑤ 推理A	切り抜き、四方見	10点
⑥ 常識A	季節常識、生活常識、昔話	10点

●テスト時の約束

- テスト担当者は、該当プリントを開かせて各ページの(設問)をはっきりした言葉でゆっくりと読み上げます。受験生が問題の意図を正しく理解できるように、必要に応じて補足説明および例題問題をおこないます。
- 各問題に制限時間を設定しています。時間になったら合図を出して受験生の取り組みを中断させます。その際、筆記具は所定の場所に置くように事前に説明します。
- 解答を誤ってつけた場合は、該当の場所に訂正印(×)を記入し、正しい答えをすぐ隣に描くように促します。こちらは実施前に事前に説明します。指定した訂正以外の印は誤答とみなします。
- 正しい解答と、間違った解答の両方を記入した場合(例:正解のリンゴに○をつけているが、バナナにも○がついている等)は、誤答とみなします。解答のための効果線(計数で数えたものに印をつけるなどの工夫の印)は、それとはっきりわかるものであれば、減点にはなりません。

実施前の注意事項

それではこれからテストを始めます。はじめにお約束をお話します。テストは先生のお話をよく聞いていないとできません。テストを頑張っている間は、皆さんは決してお話をしないでください。問題が終わっても「終わりました。」や、「できました。」は言わずに、静かに終わりの合図を待っていてください。次に、問題のやり方は先生のお話と画面を使って説明します。どの問題の説明をしているのか画面に絵を映しますので、皆さんのプリントと画面を両方見て、やり方を覚えましょう。

では、次の約束です。描く印や使う道具を間違えてしまった場合の練習をしましょう。まず、プリントのどこかに描かれているドッジボールの絵に<青色のクーピーで○>をつけてください。では、今描いた印に×印をつけてください。×印は小さくその印につけます。できましたか。描く印や使う道具を間違えてしまった場合は、今のように×印をつけてください。消しゴムは使いません。では、次に正しい答えを描く場合の練習です。いま描いた×印付きの○のすぐ隣に、もう一度<青色のクーピーで○>を描いてください。できましたか。新しい答えを描く場合は、今のように間違えた印のすぐ隣に描きます。

もうひとつの約束です。描く記号は○だけではありませんし、使う筆記具も変わってきます。では、プリントのどこかに描かれているサッカーボールの絵に△を<鉛筆>でつけてください。できましたか。

では、次に答えを書く練習です。野球ボールが全部で6つ並んだ場所を見てください。このうち左から3つの野球ボール1つずつに<青色のクーピーで○>をつけましょう。1つずつボールに○をつけましたね。では、次は残りの3つの野球ボールを<青色のクーピーで>まとめて囲みましょう。上手にできましたか。答えの書き方も、お話をよく聞いていないと出来ません。最後までお話を聞いてから取り組んでください。

では、テストを始めましょう。クーピーの蓋はずっと開けたままにします。鉛筆もすぐに取れるように机の端に置いておいてください。ここからは、お話をしないで良い姿勢で最後まで頑張りましょう。

1枚目-記憶A

※プリントは表紙のままにし、スピーカーからお話を流します。手を膝の上に置いて姿勢を正し、静かに聞くように指示をします。以下、お話本文。

ーこれからお話を読みます。手を膝の上に置いて静かに聞きましょう。

もうすぐクリスマスです。でもともみさんは、クリスマスが好きではありません。クリスマスにはサンタクロースがプレゼントを持ってきてくれるのに、なぜかともみさんのところにはサンタクロースが来てくれません。最近幼稚園でも、お友だち同士でクリスマスのお話ばかりです。ともみさんが幼稚園に着くと、あけみさんとたいちくんがクレヨンで絵を描いていました。きっとサンタクロースに届けて欲しいプレゼントの絵だろうな、ともみさんは、すぐにそう思いました。あけみさんは桃色の画用紙にクマのぬいぐるみの絵を、たいちくんは水色の画用紙に車の絵を描いています。でも、何だかいつもと様子が違います。いつもはスケッチブックに絵を描いているのに、今日は色画用紙に絵を描いています。ともみさんが「どうしてスケッチブックに描かないの。」と2人に聞くと、たいちくんが「これはサンタクロースに出すお手紙なんだ。クリスマスに欲しいプレゼントを描いてサンタクロースに送るんだよ。」と言いました。ともみさんの思っていたことは大当たりでしたが、知らないこともありました。ともみさんは続けて「サンタクロースって、お手紙を出さないとプレゼントを持ってきてくれないの。」と聞きました。するとあけみさんが「そういうわけじゃないけれど、私は毎年欲しいプレゼントをお手紙に描いてサンタクロースに出しているわ。そうすると、毎年クリスマスにプレゼントをもらえるから。」と言いました。それを聞いたともみさんは、しょんぼりして外へ出て行ってしまいました。心配したあけみさんとたいちくんは、ともみさんを追いかけました。ともみさんは園庭のブランコに座って、下を向いています。たいちくんが「どうしたの。」と聞くと、ともみさんは「実は、私の家にはサンタクロースが来てくれないの。きっと私がお手紙を出さなかったからね。」と小さな声で答えました。それを聞いたあけみさんが「じゃあ、一緒にお手紙を描こうよ。ともみさんは何が欲しいの。」と聞きました。ともみさんは顔をあげて「私は…、自転車が欲しい。」と言いました。3人はすぐに幼稚園のお部屋に戻って、ともみさんの欲しいものを描いたお手紙をつくりました。出来上がったお手紙は、黄色い封筒に入れて願いが叶うようにと、星のシールを2枚貼りました。そして幼稚園が終わったら、3人で郵便局へお手紙を出しに行く約束をしました。一度お家に帰ってから、公園の噴水広場の前で待ち合わせをしました。一番

はじめにやってきたのは、たいちくんです。外は寒いので手袋をつけています。しばらくするとあけみさん、ともみさんもやって来ました。2人は「寒いのに待たせてごめんね。」とたいちくに言いました。あけみさんはマフラーを、ともみさんは毛糸の帽子をかぶっています。3人はお手紙を持って郵便局へ向かいました。公園から郵便局へは、お花屋さんと本屋さんの前を通って行きます。2つのお店を通り過ぎると目印のパン屋さんが見えました。郵便局はパン屋さんの隣にあります。3人は郵便局の中へ入って、受付係のお姉さんにお手紙を出しました。すると「待って、切手はどうしたの。」とあけみさんが言いました。あけみさんのお手紙には切手が貼ってありましたが、ともみさんとたいちくんのお手紙には切手が付いていません。受付係のお姉さんは「この町の郵便局はね、サンタクロース宛てのお手紙に切手は要らないよ。だからお手紙はそのまま出していいですよ。」と言ってくれました。無事にお手紙を出せてひと安心、3人は郵便局を出ました。ともみさんが「今年はサンタクロース来てくれるかな。」と心配そうに言うと、あけみさんが「きっと来てくれるよ。私たちのお手紙を見てくれるはず。」と言いました。サンタクロースにお手紙を出してからしばらく経ちました。今日はクリスマスの日です。ともみさんが幼稚園から帰ると、机の上に赤い封筒が置いてありました。封筒には「ともみさんへ」と書いてありました。封筒を開けてみると「お手紙ありがとう。今日プレゼントを届けに行くよ。実は君のプレゼントはとても大きくて、運んでいるうちに朝になってしまったんだ。1日遅くなってしまったけれど、今日こそは絶対届けに行くからね。でも、やっぱり大きいからプレゼントは玄関に置いておくね。サンタクロースより。」と書いてありました。ともみさんは顔を真っ赤にしました。その夜、ともみさんは寝る前に玄関に行って「サンタクロースさんへ、食べてください。」というお手紙と一緒にクッキーを3枚と、キャンディー2つを入れた袋を置いておきました。朝になりました。ともみさんが玄関に向かうと、そこにはともみさんがお願いをしたプレゼントが置いてありました。「お菓子をどうもありがとう。」というお手紙も置いてありました。

－お話はこれで終わりです。プリントを1枚めくりましょう。

(設問①)

左側に①と書いてある四角を見てください。クリスマスの次にお祝いすることは何ですか。正しいと思う絵を選んで<青色のクーピー>で○をつけましょう。では、クーピーを持って、始めてください。(10秒) はい、そこまでにしてください。

(設問②)

左側に②と書いてある四角を見てください。あけみさんが色画用紙に描いた絵は何でしたか。正しいと思う絵を選んで<青色のクーピー>で○をつけましょう。では、クーピーを持って、始めてください。(10秒) はい、そこまでにしてください。

(設問③)

左側に③と書いてある四角を見てください。たいちくんが絵を描いていた画用紙の色は何でしたか。その色のクーピーで四角の中を急いで塗りましょう。では、クーピーを持って、始めてください。(10秒) はい、そこまでにしてください。

(設問④)

左側に④と書いてある四角を見てください。お話の中であけみさんとたいちくんが、ともみさんを追いかける場面がありました。2人がともみさんを見つけたのはどこでしたか。正しいと思う絵を選んで<青色のクーピー>で○をつけましょう。では、クーピーを持って、始めてください。(10秒) はい、そこまでにしてください。

(設問⑤)

左側に⑤と書いてある四角を見てください。3人は郵便局に行くために公園で待ち合わせをしました。たいちくんが身に着けていたものは何でしたか。その絵を選んで<青色のクーピー>で○をつけましょう。では、クーピーを持って、始めてください。(10秒) はい、そこまでにしてください。

(設問⑥)

左側に⑥と書いてある四角を見てください。郵便局の隣にあるお店屋さんで売っているものは何ですか。その絵を選んで<青色のクーピー>で○をつけましょう。では、クーピーを持って、始めてください。(10秒) はい、そこまでにしてください。

(設問⑦)

左側に⑦と書いてある四角を見てください。3人がお手紙を出そうとしたとき、何かが貼っていなかったことに気が付きました。何が、何枚分、足りなかったのでしょうか。シールを貼り忘れていたと思う人は<青色のクーピー>を使います。切手を貼り忘れていたと思う人は<赤色のクーピー>を使います。使うクーピーが決まったら、その何かが、足りない数はいくつだったかを考えて、その数だけクーピーで○の中を急いで塗りましょう。では、クーピーを持って、始めてください。(15秒) はい、そこまでにしてください。

(設問⑧)

左側に⑧と書いてある四角を見てください。ともみさんがサンタクロースにお菓子を用意していました。用意したお菓子の正しい組み合わせを選んで<青色のクーピー>で○をつけましょう。では、クーピーを持って、始めてください。(15秒) はい、そこまでにしてください。

(設問⑨)

左側に⑨と書いてある四角を見てください。お話の最後に玄関に置いてあった、とても大きいというプレゼントは何でしたか。その絵を選んで<茶色のクーピー>で○をつけましょう。では、クーピーを持って、始めてください。(10秒) はい、そこまでにしてください。

(設問⑩)

左側に⑩と書いてある四角を見てください。このお話の中で、ともみさんは色々な表情の顔になりました。この問題は、お話の中でともみさんがしていないお顔の表情を選びます。正しいと思う絵を選んで<青色のクーピー>で○をつけましょう。では、クーピーを持って、始めてください。(15秒) はい、そこまでにしてください。

(正解) 10点満点

- 設問①：左端の絵に青色のクーピーで○／1点
 設問②：左端の絵に青色のクーピーで○／1点
 設問③：四角の中を水色のクーピーで塗る／1点
 設問④：左から3番目の絵に青色のクーピーで○／1点
 設問⑤：左から3番目の絵に青色のクーピーで○／1点
 設問⑥：左から2番目の絵に青色のクーピーで○／1点
 設問⑦：赤色のクーピーで○を2つ塗る／色・数とも正答で1点
 設問⑧：左から2番目の絵に青色のクーピーで○／1点
 設問⑨：右端の絵に茶色のクーピーで○／1点
 設問⑩：右端の絵に青色のクーピーで○／1点

2枚目-数量A

(設問①・②)

左側に①と書いてある四角を見てください。これはドミノ倒しの様子です。お友だちがドミノを並べて遊んでいましたが、いくつかのドミノは倒れてしまいました。倒れずに立っているドミノはいくつありますか。その数だけ、点線の下のおはじきを<青色のクーピーで>まとめて囲みます。1つずつおはじきに○をつけるのではなく、まとめて囲みます。①の問題が終わったら、すぐ隣の②の問題まで続けてやりましょう。では、クーピーを持って、始めてください。(30秒) はい、そこまでにしてください。

(設問③-1) ※映像

左側に③と書いてある大きな四角を見てください。ハンバーガー、ポテトフライ、ジュース、チキンナゲットがたくさんあります。では、画面を見てください。これから大きな四角の中にあつた食べ物やジュースをセットにしていきます。セットのメニューは、ハンバーガー、ポテトフライ、ジュースの3種類です。大きな四角の中の食べ物やジュースをセットにしていくと、何セットできるかを考えます。できるセットの数だけ点線の下に左にセットのメニューの絵が描かれているところに○を描きます。この問題は<青色のクーピーで>でやりましょう。では、クーピーを持って、始めてください。(25秒) はい、そこまでにしてください。

(設問③-2) ※映像

もう一度、左側に③と書いてある大きな四角を見てください。先ほどの問題では、チキンナゲットだけセットにありませんでした。では、画面を見てください。チキンナゲットはお持ち帰り用の紙袋に入れていきます。紙袋の中には、チキンナゲットが2つ入りましたね。これから大きな四角の中にあつたチキンナゲットを紙袋に2つずつ入れていきます。全部で紙袋がいくつ必要になるかを考えましょう。答えがわかったら、点線の下に左に紙袋の絵が描かれているところに必要な紙袋の数だけ○を描きます。この問題は<緑色のクーピーで>でやりましょう。では、クーピーを持って、始めてください。(20秒) はい、そこまでにしてください。

(設問④) ※映像

左側に④と書いてある四角を見てください。まず、左側にある太い四角の中を見てください。これがお手本です。上から見てみましょう。ゆで卵を半分に切って、トーストが乗っているお皿に乗せていく様子ですね。お皿の中のゆで卵は、1個を半分に切って乗せられていますね。これを「半分のゆで卵」と呼びましょう。一皿にはトーストと「半分のゆで卵」が2つです。では、次にそのすぐ右側の大きな四角の中を見ましょう。ここにはトーストが乗ったお皿が全部で8枚あります。よく見ると、「半分のゆで卵」の数が足りないお皿、「半分のゆで卵」がひとつも乗っていないお皿があります。左の太い四角にあったお手本と、同じお皿にするには、それぞれのお皿に必要な「半分のゆで卵」を乗せていかななくてはなりません。8枚のお皿すべてをお手本と同じ組み合わせにすると、ゆで卵がいくつ必要かを考えます。いいですか、「半分のゆで卵」の数では無く、丸いままのゆで卵がいくつ必要かを考えるのですよ。答えがわかったら、右側のマスに必要なゆで卵の数だけ<青色のクーピーで○>を描きましょう。では、クーピーを持って、始めてください。(40秒)はい、そこまでにしてください。

(設問⑤-1) ※映像

左側に⑤と書いてある四角を見てください。これは自転車で道を走っている様子です。いま画面で見たように、5台の自転車が進み、この絵のように進めた長さに差がついています。自転車で走った後が線になって見えますね。この問題は、5台の自転車の中で一番遠くまで進んだ人を選びます。答えがわかったら、一番遠くまで進んだ自転車に乗っている人に<青色のクーピーで○>をつけましょう。では、クーピーを持って、始めてください。(15秒)はい、そこまでにしてください。

(設問⑤-2)

もう一度、左側に⑤と書いてある四角を見てください。今度は5台の自転車の中で、進めた長さが同じだった自転車を2台選びます。答えがわかったら、その自転車に乗っている2人、どちらにも<緑色のクーピーで△>をつけてください。では、クーピーを持って、始めてください。(20秒)はい、そこまでにしてください。

(正解) 10点満点

設問①：青色のクーピーで8つのおはじきを囲む／1点

設問②：青色のクーピーで7つのおはじきを囲む／1点

設問③-1：青色のクーピーで○を6つ／2点

設問③-2：緑色のクーピーで○を4つ／1点

設問④：青色のクーピーで○を5つ／2点

設問⑤-1：右端の自転車に乗った人に青色のクーピーで○／1点

設問⑤-2：左から数えて3番目・4番目の自転車に乗った人に緑色のクーピーで△
／完答で2点加点（片方のみ選択の場合は加点無し）

3枚目-図形A

(設問①～⑧) ※お手本問題あり

左側に①と書いてあるところを見てください。上の太い四角の中の記号がお手本です。

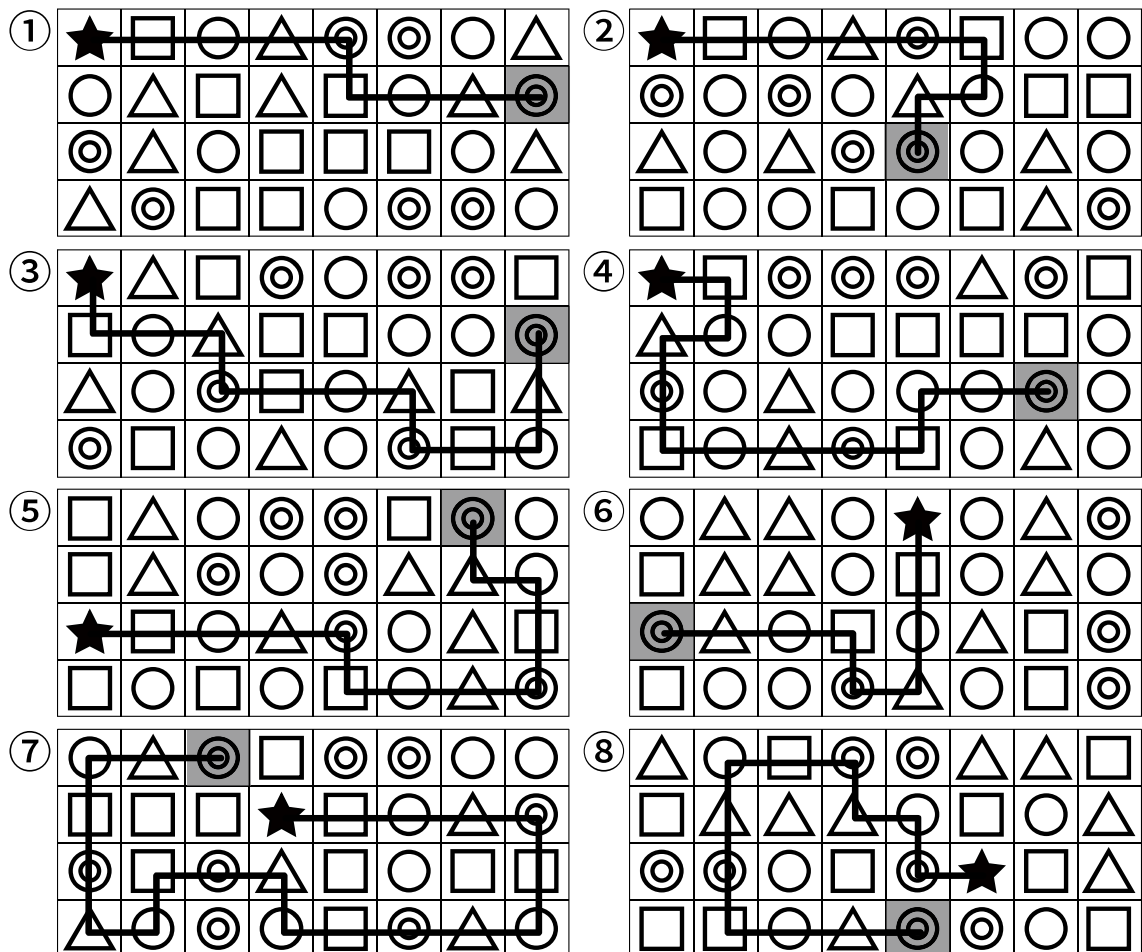
□→○→△→◎の順番で並んでいますね。下のマスには、同じ記号たくさん並んでいます。この中にひとつだけ★があります。ここがスタートです。この★から上のお手本の順番通りに進んで、終わりは必ず◎になるように、なるべく長く進んでいきます。上や下、横には進めますが、斜めには進んではいけません。最後の◎の場所に着いたら、そのマスを<青色のクーピーで>塗ります。どの記号を進んできたか、画面でやってみせたように、線を引いて考えても良いです。ただ、線は引けていても、最後の◎のあるマスを塗っていないと間違いになってしまいますから気を付けましょう。では、ペーパーを見てください。同じように、★からスタートして、□→○→△→◎の順番で進みます。なるべく長く続けて、◎で終わるように進んだら、最後の◎に<青色のクーピーで>塗ります。①の問題が終わったら、⑧の問題まで続けてやります。では、クーピーを持って、始めてください。(4分30秒) はい、そこまでにしてください。

(設問⑨・⑩)


左側に⑨と書いてある四角を見ててください。●と○がたくさん並んでいるマスが、全部で4つあります。どれも同じようなマスに見えますが、この中には1つだけ他のマスとは違う模様があります。そのマスを見つけて、<青色のクーピーで>○をつけましょう。⑨の問題が終わったら、すぐ隣の⑩の問題まで続けてやります。では、クーピーを持って、始めてください。(50秒) はい、そこまでにしてください。

(正解) 10点満点

設問①～⑧：下図参照 ※青色のクーピーで解答/各1点・計8点



設問⑨・⑩：下図参照 ※青色のクーピーで解答／各1点・計2点



4枚目-言語A

(設問①-1～①-4)

左側に①と書いてあるところを見てください。一番上の問題、左側の枠の中にはリンゴがあります。この言葉を右の3つの四角の中にある絵の終わりの音を使って作ります。終わりの音とは、その絵の言葉の一番最後の音のことです。黒板なら「ン」、プリントなら「ト」が終わりの音です。リンゴの「リ」は○が書いている四角の中から終わりの音が「リ」の絵を選びます。リンゴの「ン」は、□が書いてある四角の中から、リンゴの「ゴ」は、△が書いてある四角の中から選びます。選んだ絵は3つとも、<青色のクーピー>で○をつけましょう。やり方はわかりましたか。上のリンゴの問題が終わったら、続けて下のダルマ、ボタン、カブトの問題まで続けてやりましょう。では、では、クーピーを持って、始めてください。(160秒) はい、そこまでにしてください。

(設問②-1)

左側に②と書いてあるところを見てください。12枚の絵がありますね。今からお話する言葉に合う絵を選びます。「ふわふわ」。この言葉に合う絵を、一番上の段から選んで<青色のクーピー>で○をつけましょう。では、クーピーを持って、始めてください。(20秒) はい、そこまでにしてください。

(設問②-2)

もう一度、左側に②と書いてあるところを見てください。次は先ほどとは違う言葉を使います。「すいすい」。この言葉に合う絵を、真ん中の段から選んで<青色のクーピー>で△をつけましょう。では、クーピーを持って、始めてください。(20秒) はい、そこまでにしてください。

(設問②-3)

もう一度、左側に②と書いてあるところを見てください。また、先ほどとは違う言葉を使います。「のろのろ」。この言葉に合う絵を、一番下の段から選んで<青色のクーピー>で□をつけましょう。では、クーピーを持って、始めてください。(20秒) はい、そこまでにしてください。

(設問②-4)

もう一度、左側に②と書いてあるところを見てください。また、先ほどとは違う言葉をお願いします。「すやすや」。この言葉に合う絵を選んで<青色のクーピー>で◎をつけましょう。では、クーピーを持って、始めてください。(20秒) はい、そこまでにしてください。


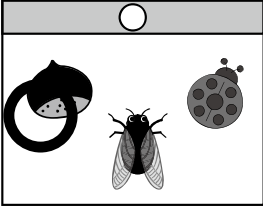

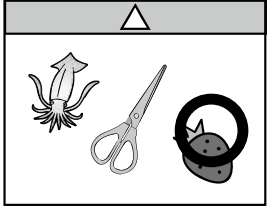


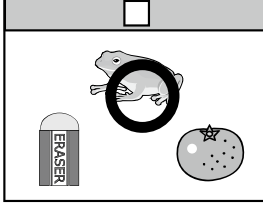

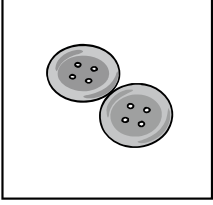


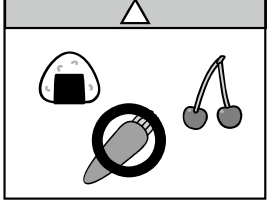
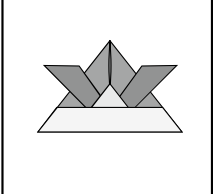



(設問②-5)

左側に②と書いてあるところを見てください。これが最後です。また、先ほどとは違う言葉をお願いします。「ごろごろ」。この言葉に合う絵を2枚選んで<青色のクーピー>で斜め線をつけましょう。では、クーピーを持って、始めてください。(20秒) はい、そこまでにしてください。


(正解) 10点満点

設問①：下図参照 ※青色のクーピーで記入／各段完答で1点・計4点

①

設問②：下図参照 ※青色のクーピーで記入／各1点・計6点



5枚目-推理 A

(設問①～⑤) ※お手本問題あり


左側に①と書いてある四角を見てください。左の太い四角の中に折り紙があります。この折り紙に見える黒い模様部分をハサミで切り、そのあと折り紙をひろげます(画面で映像を確認)。このとき、開いた折り紙がどのような模様になっているのかを考えて、右の4つから正しいものを選びましょう。答えは<青色のクーピーで○>をつけます。①の問題が終わったら、⑤の問題まで続けてやりましょう。では、クーピーを持って、始めてください。(100秒) はい、そこまでにしてください。

(設問⑥-1～⑥-3) ※お手本問題あり

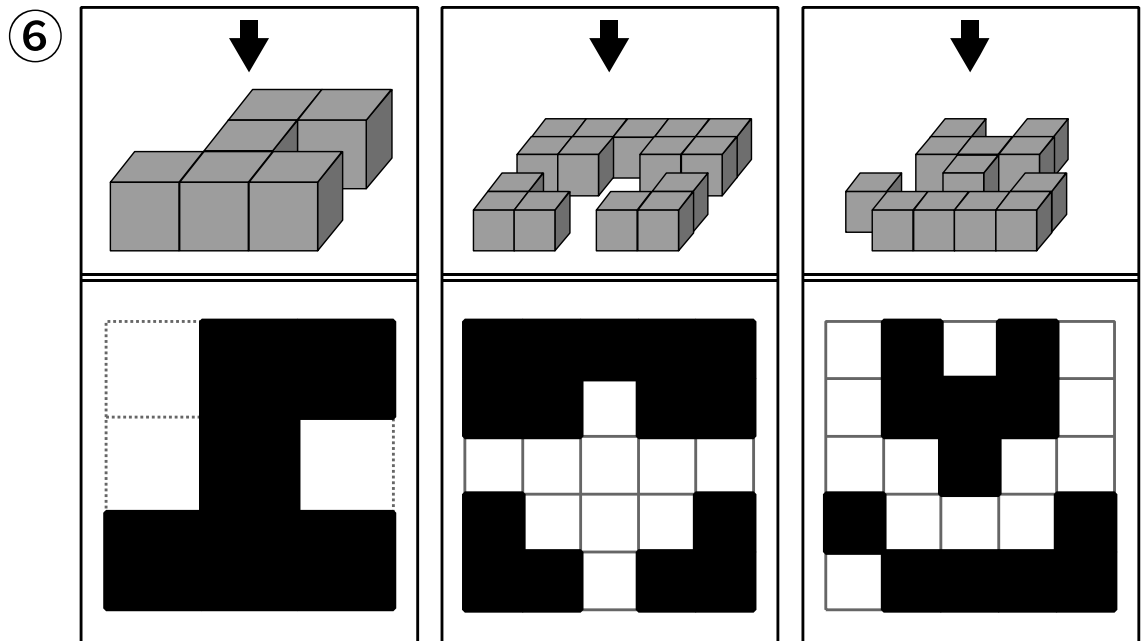
左側に⑥と書いてある四角を見てください。左側の太い枠の中にあるものが、この問題のやり方を表しています。では、黒板を見てください。太い枠の上にある積み木を矢印の方から見たときの見え方を考えます(上から見た様子を確認する)。このように上から見ると、積み木の平たいところだけが見えますね。このときの様子を、二重線の下のマスに描きます。では、プリントを見てください。太い枠の隣の問題から、3問続けてやります。すべて<黒色のクーピーで>答えを書きましょう。では、クーピーを持って、始めてください。(100秒) はい、そこまでにしてください。

(正解) 10点満点

設問①～⑤：下図参照 ※青色のクーピーで記入/各1点・計5点



設問⑥：下図参照 ※黒色のクーピーで記入／左端 1 点・真ん中と右端は 2 点・計 5 点



6 枚目-常識 A

(設問①)

左側に①と書いてある大きな四角を見てください。これは迷路の問題です。真ん中に太い枠で囲まれた絵が2枚あります。左のチューリップがスタート、右の鏡餅はゴールです。この迷路は春・夏・秋・冬の順番に進んでいきます。春の季節のチューリップの絵からはじめて、ゴールの鏡餅まで春・夏・秋・冬の順番に<青色のクーピーで>線を結んでいきましょう。では、クーピーを持って、始めてください。(60 秒) はい、そこまでにしてください。

(設問②)

左側に②と書いてある四角を見てください。昔話の絵がたくさん並んでいます。この中で「鬼が出るお話」はどれですか。正しいものを選んで、<青色のクーピーで○>をつけましょう。では、クーピーを持って、始めてください。(10 秒) はい、そこまでにしてください。

(設問③)

左側に③と書いてある四角を見てください。泳ぎの得意な生き物の絵がたくさん並んでいます。この中で「卵の中から生まれてこない生き物」はどれですか。正しいものを選んで、<青色のクーピーで○>をつけましょう。では、クーピーを持って、始めてください。(15 秒) はい、そこまでにしてください。

(設問④)

左側に④と書いてある四角を見てください。道具がたくさん並んでいます。この中で「何かを切ったりすることには使わない道具」はどれですか。正しいものを2つ選んで、それぞれ<青色のクーピーで○>をつけましょう。では、クーピーを持って、始めてください。(15 秒) はい、そこまでにしてください。

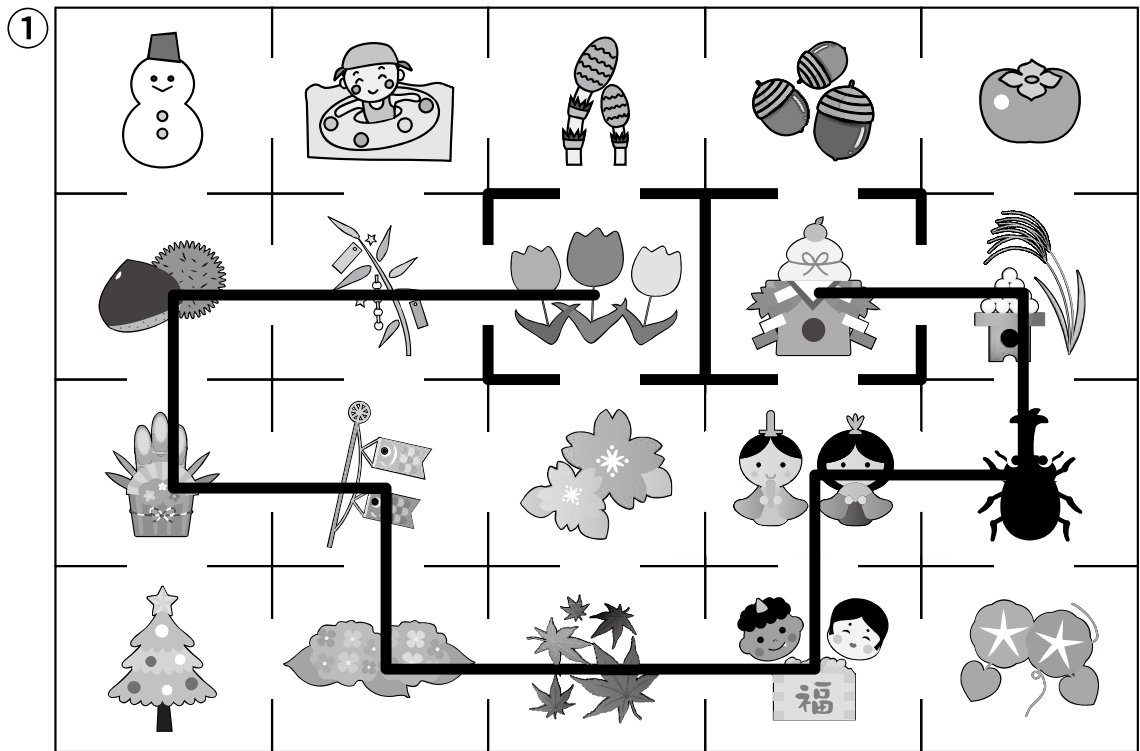
(設問⑤)

左側に⑤と書いてある四角を見てください。楽器がたくさん並んでいます。この中で「吹いて音を出す楽器」はどれですか。正しいものを2つ選んで、それぞれ<青色のクーピーで○>をつけましょう。では、クーピーを持って、始めてください。(15 秒) はい、そこまでにしてください。

(正解) 10 点満点

設問①：下図参照 ※青色のクーピーで記入

- ・チューリップから門松まで線を結べている…1 点
- ・(上の続きで) こいのぼりから節分まで線を結べている…1 点
- ・(上の続きで) 雛祭りから鏡餅まで線を結べている…2 点・計4 点



設問②：左から3番目の桃太郎の絵に青色のクーピーで○／1点

設問③：左から2番目のイルカの絵に青色のクーピーで○／1点

設問④：左から2番目の箒の絵、左から3番目のトンカチの絵に青色のクーピーで○
／各1点・計2点

設問⑤：左端の笛の絵、右端のトランペットの絵に青色のクーピーで○／各1点・計2点