

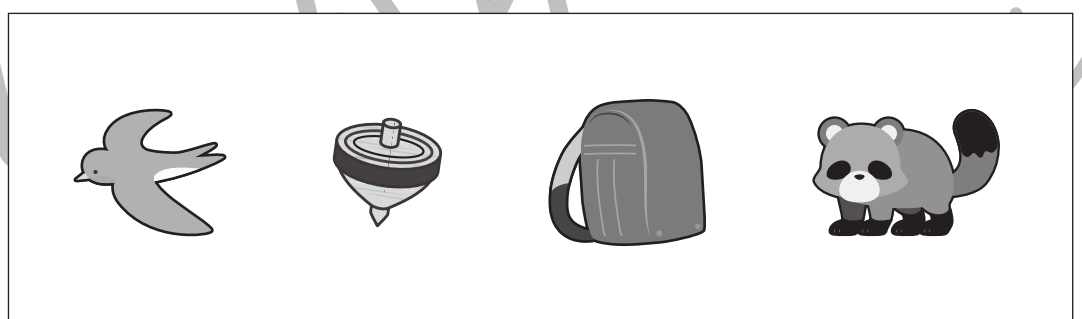

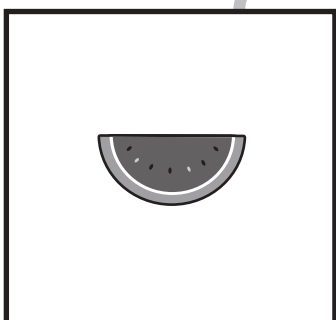

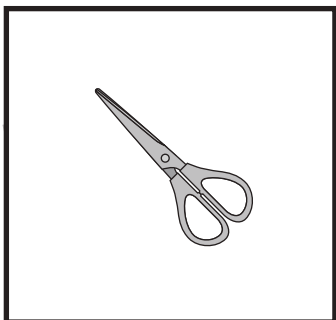
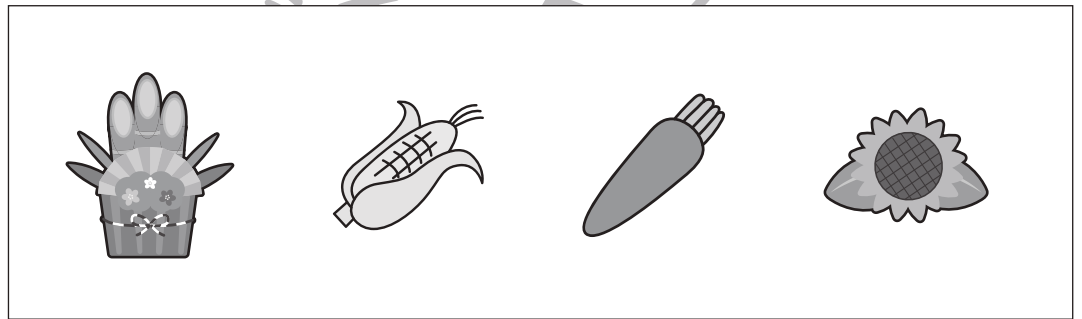

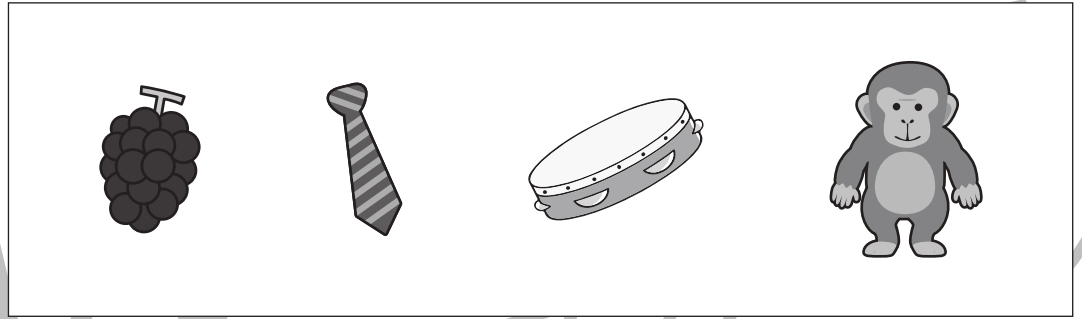



おうちで、やろう。

Study at home. 小学校受験の家庭学習教材

言語：音の理解⑳

左の太い四角の中の名前を右の四角の中のはじめの音を使って作ります。この時、使わない絵を右の中から選んで×をつけます。



※1. このプリントは、しながわ・目黒こどもスクールのウェブサイトからダウンロードできます。無断複写・引用はご遠慮ください。
※2. このプリントを活用したオンライン授業のスケジュールは、しながわ・目黒こどもスクールのウェブサイトでご確認ください。






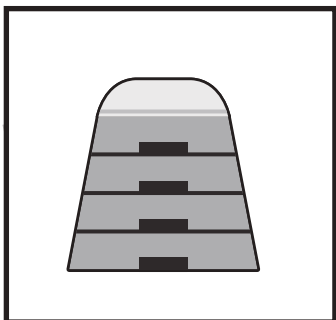






おうちで、やろう。

Study at home. 小学校受験の家庭学習教材

言語：音の理解⑳

左の太い四角の中の名前を右の四角の中のはじめの音を使って作ります。この時、使わない絵を右の中から選んで×をつけます。



※1. このプリントは、しながわ・目黒こどもスクールのウェブサイトからダウンロードできます。無断複写・引用はご遠慮ください。
※2. このプリントを活用したオンライン授業のスケジュールは、しながわ・目黒こどもスクールのウェブサイトでご確認ください。



おうちで、やろう。

Study at home. 小学校受験の家庭学習教材

指示の聞き取り⑪

お話を聞いた後で動物たちがそれぞれじゃんけんで何を出したか考えて線を引きましょう。ただし、3匹とも違う手を出します。

①リスさんはチョコを出しました。ウサギさんはグーはだしませんでした。パンダさんはパーは出しませんでした。

②パンダさんはグーを出しました。ウサギさんはパーは出しませんでした。

③ウサギさんはパーを出してリスさんには勝つことができました。

④リスさんはチョコを出してパンダさんには勝つことができました。

①

②

③

④

※1. このプリントは、しながわ・目黒こどもスクールのウェブサイトでダウンロードができます。無断複写・引用はご遠慮ください。

※2. このプリントを活用したオンライン授業のスケジュールは、しながわ・目黒こどもスクールのウェブサイトでご確認ください。



おうちで、やろう。

Study at home. 小学校受験の家庭学習教材

指示の聞き取り⑫

お話を聞いた後で動物たちがそれぞれじゃんけんで何を出したか考えて線を引きましょう。

- ① プタさんはパーを出してネコさんに勝ちました。クマさんはプタさんとネコさんとは違うものを出しました。
- ② クマさんはグーを出してネコさんに負けました。プタさんもネコさんに負けました。
- ③ ネコさんはグーを出してプタさんに勝ちました。プタさんはクマさんに勝ちました。
- ④ プタさんはチョキを出してみんなに勝ちました。

①

②

③

④

※1. このプリントは、しながわ・目黒こどもスクールのウェブサイトでダウンロードができます。無断複写・引用はご遠慮ください。

※2. このプリントを活用したオンライン授業のスケジュールは、しながわ・目黒こどもスクールのウェブサイトでご確認ください。









おうちで、やろう。







Study at home. 小学校受験の家庭学習教材

下のそれぞれの絵の中からお箸の並べ方について正しいものを見つけ、その絵に○をつけます。

①



②



※1. このプリントは、しながわ・目黒こどもスクールのウェブサイトからダウンロードできます。無断複写・引用はご遠慮ください。
※2. このプリントを活用したオンライン授業のスケジュールは、しながわ・目黒こどもスクールのウェブサイトでご確認ください。



おうちで、やろう。

Study at home. 小学校受験の家庭学習教材





常識：動物⑧

問題を聞き、どの動物の事をお話しているのか考えて○をつけます。

①きれいなキラキラ光る羽をもっている鳥を選びます。 ②動くのがとても遅く、よく木の上で生活している動物を選びます。

③昼間は寝ていて、夜になると元気になるって飛び回る動物を選びます。 ④走るのがとても速い鳥を選びます。

⑤周りの色に合わせて体の色を変えることができる動物を選びます。



※1. このプリントは、しながわ・目黒こどもスクールのウェブサイトからダウンロードできます。無断複写・引用はご遠慮ください。

※2. このプリントを活用したオンライン授業のスケジュールは、しながわ・目黒こどもスクールのウェブサイトでご確認ください。



おうちで、やろう。

Study at home. 小学校受験の家庭学習教材

図形：複合①

左の四角が矢印の数だけ矢印の方向に倒した後、すぐ隣にある四角と重ねた時の見え方を矢印の右の四角にかきます。さらに一番右の四角には自分でかいた答えの丸の色を白丸は黒丸へ、黒丸は白丸へ色を変えてかきます。※一番上の四角はお手本です。

--	--	--	--	--	--

--	--	--	--	--	--

--	--	--	--	--	--

--	--	--	--	--	--

--	--	--	--	--	--

※1. このプリントは、しながわ・目黒こどもスクールのウェブサイトでダウンロードができます。無断複写・引用はご遠慮ください。
 ※2. このプリントを活用したオンライン授業のスケジュールは、しながわ・目黒こどもスクールのウェブサイトでご確認ください。



おうちで、やろう。

Study at home. 小学校受験の家庭学習教材

図形：複合②

左の四角が矢印の数だけ矢印の方向に倒した後、すぐ隣にある四角と重ねた時の見え方を矢印の右の四角にかきます。さらに一番右の四角には自分でかいた答えの丸の色を白丸は黒丸へ、黒丸は白丸へ色を変えてかきます。※一番上の四角はお手本です。

Diagram illustrating a visual puzzle sequence. Each row shows a sequence of operations on a 2x2 grid. The first grid in each row is a template with a black circle in the bottom-left corner. A curved arrow indicates a 90-degree clockwise rotation. The second grid shows the result of the rotation. A plus sign indicates an addition with a second grid. A straight arrow points to the resulting combined grid. A final empty grid is provided for the answer.

Row 1 (Handwritten example):
 Grid 1: Black circle in bottom-left.
 Grid 2: White circles in bottom-left and bottom-right.
 Result: White circles in bottom-left and bottom-right.
 Answer grid: Empty.

Row 2:
 Grid 1: Black circle in top-left.
 Grid 2: Black circle in top-right, white circle in bottom-right.
 Result: Empty grid.
 Answer grid: Empty.

Row 3:
 Grid 1: Black circle in bottom-left, white circle in bottom-right.
 Grid 2: Black circle in top-left, white circle in top-right.
 Result: Empty grid.
 Answer grid: Empty.

Row 4:
 Grid 1: White circle in top-left, black circle in top-right, black circle in bottom-left.
 Grid 2: White circle in top-left, black circle in top-right, black circle in bottom-right.
 Result: Empty grid.
 Answer grid: Empty.

Row 5:
 Grid 1: Black circle in top-right, white circle in bottom-left, white circle in bottom-right.
 Grid 2: Black circle in top-left, white circle in top-right, black circle in bottom-left, white circle in bottom-right.
 Result: Empty grid.
 Answer grid: Empty.

※1. このプリントは、しながわ・目黒こどもスクールのウェブサイトでダウンロードができます。無断複写・引用はご遠慮ください。
 ※2. このプリントを活用したオンライン授業のスケジュールは、しながわ・目黒こどもスクールのウェブサイトでご確認ください。



おうちで、やろう。

Study at home. 小学校受験の家庭学習教材

図形：回転⑥

右の四角を矢印の向きに矢印の数だけ倒した後、左の四角と重ねた時の見え方を矢印の右の四角にかきます。さらに一番右の四角には自分でかいた答えの丸の色を白丸は黒丸へ、黒丸は白丸へ色を変えてかきます。※一番上の四角はお手本です

	+		→		→	
	+		→		→	
	+		→		→	
	+		→		→	
	+		→		→	

※1. このプリントは、しながわ・目黒こどもスクールのウェブサイトでダウンロードができます。無断複写・引用はご遠慮ください。
※2. このプリントを活用したオンライン授業のスケジュールは、しながわ・目黒こどもスクールのウェブサイトでご確認ください。



おうちで、やろう。

Study at home. 小学校受験の家庭学習教材

推理：左右⑦

左の四角の中の人を上から見たときにどのような足の形になっているかを考えます。
そのときの形を考えて右から選び○をつけましょう。

--	--

--	--

--	--

--	--

--	--

※1. このプリントは、しながわ・目黒こどもスクールのウェブサイトでダウンロードができます。無断複写・引用はご遠慮ください。

※2. このプリントを活用したオンライン授業のスケジュールは、しながわ・目黒こどもスクールのウェブサイトでご確認ください。