



おうちで、やろう。

Study at home. 小学校受験の家庭学習教材

図形：構成②①

左の四角の中のパズルを合わせたとき、できる形を右の四角の中から選んで○をつけます。
パズルは重ねたり、回したりはしてはいけません。



おうちで、やろう。

Study at home. 小学校受験の家庭学習教材

図形：構成②②

左の四角の中のパズルを合わせたとき、できる形を右の四角の中から選んで○をつけます。

パズルは回してもよいですが、重ねてはいけ

※1. このプリントは、しながわ・目黒こどもスクールのウェブサイトでダウンロードができます。無断複写・引用はご遠慮ください。

※2. このプリントを活用したオンライン授業のスケジュールは、しながわ・目黒こどもスクールのウェブサイトでご確認ください。

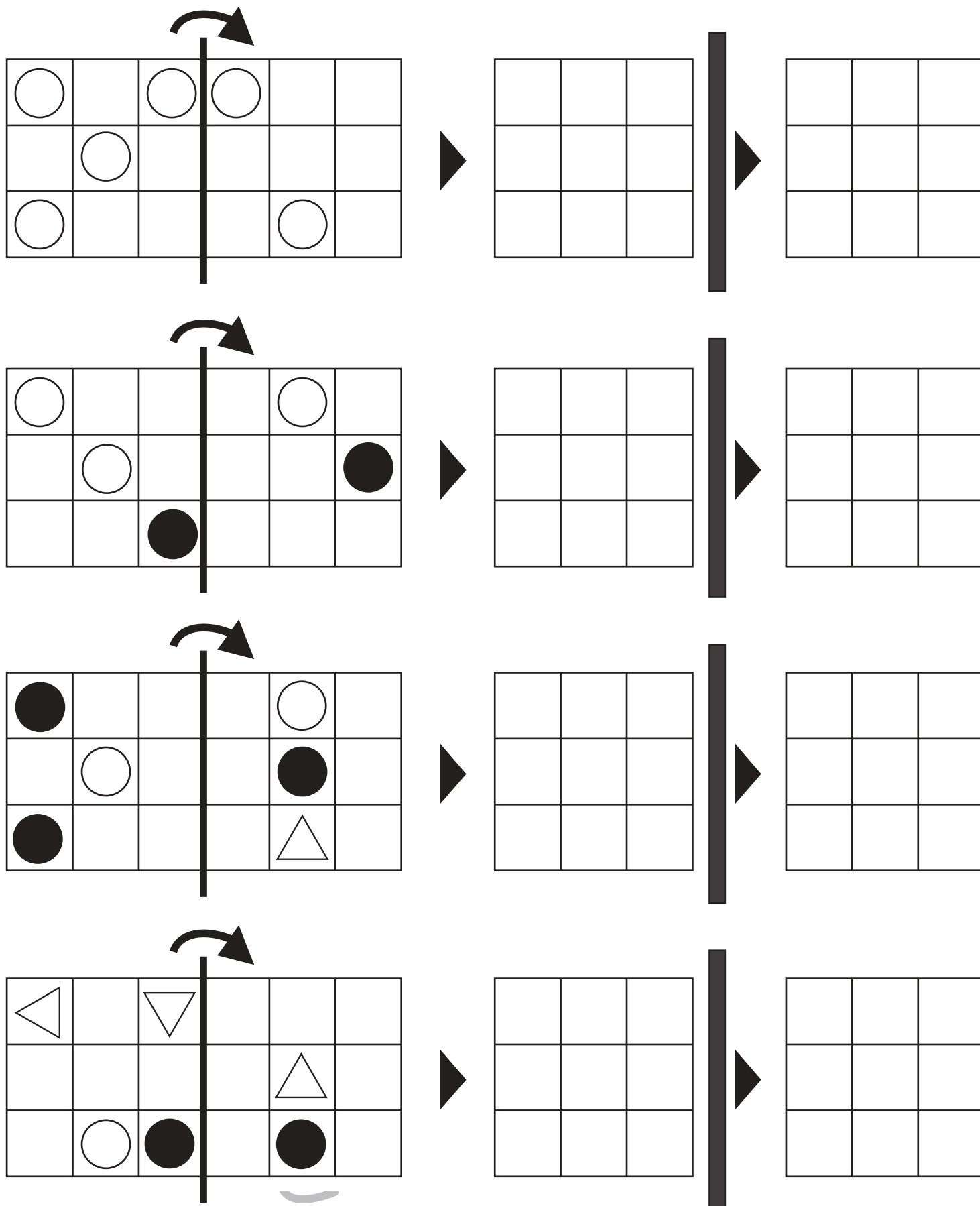


おうちで、やろう。

Study at home. 小学校受験の家庭学習教材

図形：折り重ね鏡①

左の四角を太い線で矢印の方向へ折り重ねたときの模様を考えて真ん中の四角にかきます。さらに真ん中の模様を鏡に映した時の模様を一番右の四角にかきます。



※ 1. このプリントは、しながわ・目黒こどもスクールのウェブサイトでダウンロードができます。無断複写・引用はご遠慮ください。

※ 2. このプリントを活用したオンライン授業のスケジュールは、しながわ・目黒こどもスクールのウェブサイトでご確認ください。



おうちで、やろう。

Study at home. 小学校受験の家庭学習教材

図形：折り重ね鏡②

左の四角を太い線で矢印の方向へ折り重ねたときの模様を考えて真ん中の四角にかきます。さらに真ん中の模様を鏡に映した時の模様を一番右の四角にかきます。

Four sets of visual puzzles are arranged in a 4x3 grid. Each set consists of three 3x3 grids. The first grid in each set has a vertical line and an arrow indicating a fold. The second grid is empty. The third grid is empty. The goal is to determine the pattern in the second grid after the fold and then mirror it in the third grid.

Set 1: The first grid contains a circle at (1,2), a black circle at (1,3), a circle at (1,4), a circle at (2,2), a black circle at (3,1), and a black circle at (3,4). The arrow points right.

Set 2: The first grid contains a triangle at (1,1), a circle at (1,3), a circle at (2,2), a black circle at (3,4), and a triangle at (3,1). The arrow points right.

Set 3: The first grid contains a black circle at (1,1), a black circle at (1,3), a circle at (1,4), a triangle at (2,2), a circle at (2,3), a black circle at (3,1), and a triangle at (3,4). The arrow points right.

Set 4: The first grid contains a triangle at (1,3), a circle at (2,2), a black circle at (2,3), a black circle at (3,4), and a triangle at (3,1). The arrow points right.

※1. このプリントは、しながわ・目黒こどもスクールのウェブサイトでダウンロードができます。無断複写・引用はご遠慮ください。

※2. このプリントを活用したオンライン授業のスケジュールは、しながわ・目黒こどもスクールのウェブサイトでご確認ください。










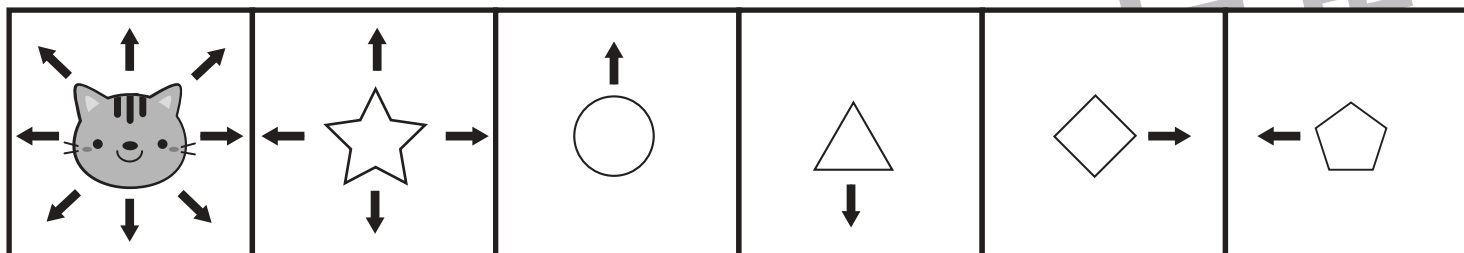


おうちで、やろう。

Study at home. 小学校受験の家庭学習教材

推理：条件推理②④

上の四角が約束です。ネコは今いるところから上下左右と斜めのどれか1つの方向に移動することができます。星は上下左右のどれかの方向に1つずつ。丸は上に1つ、三角は下に1つ、ダイヤは右に1つ、五角形は左に1つ進めます。ただし、灰色のマス目にぶつかったら、そこから先に進むことはできません。今、ネコがいるところから約束通りに進んで行くと魚のマスに行くことができるものはどれですか。すべて見つけて○をつけます。



※1. このプリントは、しながわ・目黒こどもスクールのウェブサイトでダウンロードができます。無断複写・引用はご遠慮ください。

※2. このプリントを活用したオンライン授業のスケジュールは、しながわ・目黒こどもスクールのウェブサイトでご確認ください。







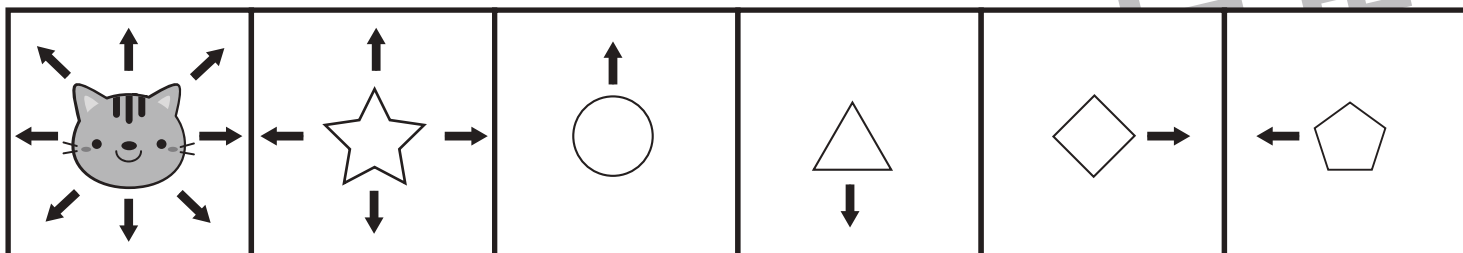


おうちで、やろう。

Study at home. 小学校受験の家庭学習教材

推理：条件推理②⑤

上の四角が約束です。ネコは今いるところから上下左右と斜めのどれか1つの方向に移動することができます。星は上下左右のどれかの方向に1つずつ。丸は上に1つ、三角は下に1つ、ダイヤは右に1つ、五角形は左に1つ進めます。ただし、灰色のマス目にぶつかったら、そこから先に進むことはできません。今、ネコがいるところから約束通りに進んで行くと魚のマスに行くことができるものはどれですか。



※1. このプリントは、しながわ・目黒こどもスクールのウェブサイトでダウンロードができます。無断複写・引用はご遠慮ください。

※2. このプリントを活用したオンライン授業のスケジュールは、しながわ・目黒こどもスクールのウェブサイトでご確認ください。





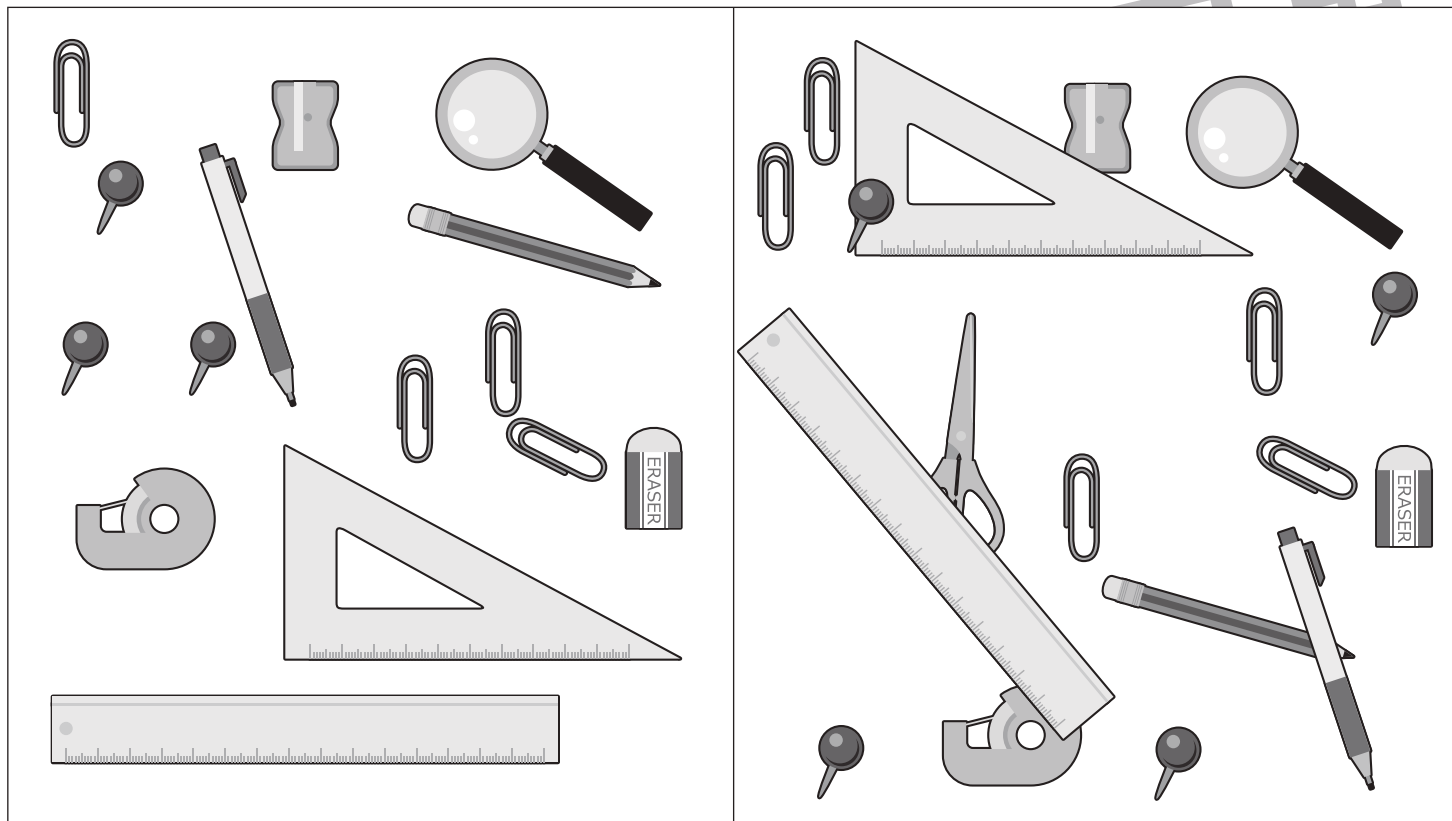
おうちで、やろう。

Study at home. 小学校受験の家庭学習教材


推理：注意力①

右と左の絵は何か違います。違うものを見つけて右の四角の絵に○をつけます。

①



②




※1. このプリントは、しながわ・目黒こどもスクールのウェブサイトダウンロードができます。無断複写・引用はご遠慮ください。

※2. このプリントを活用したオンライン授業のスケジュールは、しながわ・目黒こどもスクールのウェブサイトでご確認ください。




右と左の絵は何か違います。違うものを見つけて右の四角に○をつけます。

①



②





おうちで、やろう。

Study at home. 小学校受験の家庭学習教材

数量：的あてゲーム④


今から、食べ物が描かれた的の的あてをします。的あてはあたる食べ物によって得点が違います。果物の的は1点で、野菜の的は2点です。この約束のとき、①～④の問題に答えましょう。

①「ミカン」と「ブドウ」の的にボールを当てたとき、何点になりますか。その数だけ○をかきましょう。

②「ピーマン」と「ナス」の的にボールを当てたとき、何点になりますか。その数だけ○をかきましょう。

③「トウモロコシ」と「リンゴ」と「モモ」の的にボールを当てたとき、何点になりますか。その数だけ○をかきましょう。

④「バナナ」と「ニンジン」と「ナス」と「ブドウ」の的にボールを当てたとき、何点になりますか。その数だけ○をかきましょう。



①

②

③

④





おうちで、やろう。

Study at home. 小学校受験の家庭学習教材

数量：的あてゲーム⑤









今から、動物が描かれた的の的あてをします。的あてはあたった動物によって得点が違います。卵で生まれる動物の的は3点で、赤ちゃんで生まれる動物の的は2点です。この約束のとき、①～④の問題に答えましょう。

①「ゾウ」と「キツネ」の的にボールを当てたとき、何点になりますか。その数だけ◎をかきましょう。

②「ペンギン」と「蛇」の的にボールを当てたとき、何点になりますか。その数だけ△をかきましょう。

③「ライオン」と「ワニ」と「カンガルー」の的にボールを当てたとき、何点になりますか。その数だけ□をかきましょう。

④「カバ」と「ニワトリ」と「ライオン」と「ペンギン」の的にボールを当てたとき、何点になりますか。その数だけ○をかきましょう。



①

②

③

④

