



おうちで、やろう。

Study at home. 小学校受験の家庭学習教材

図形：構成⑳

左の四角の中のパズルを合わせたとき、できる形を右の四角の中から選んで○をつけます。
パズルは重ねたり、回したりはしてはいけません。

--	--	--	--

--	--	--	--

--	--	--	--

--	--	--	--

--	--	--	--

※1. このプリントは、しながわ・目黒こどもスクールのウェブサイトでダウンロードができます。無断複写・引用はご遠慮ください。
※2. このプリントを活用したオンライン授業のスケジュールは、しながわ・目黒こどもスクールのウェブサイトでご確認ください。



おうちで、やろう。

Study at home. 小学校受験の家庭学習教材

図形：構成②②

左の四角の中のパズルを合わせたとき、できる形を右の四角の中から選んで○をつけます。
パズルは回してもよいですが、重ねてはいけ

--	--	--	--

--	--	--	--

--	--	--	--

--	--	--	--

--	--	--	--

※1. このプリントは、しながわ・目黒こどもスクールのウェブサイトでダウンロードができます。無断複写・引用はご遠慮ください。
※2. このプリントを活用したオンライン授業のスケジュールは、しながわ・目黒こどもスクールのウェブサイトでご確認ください。



おうちで、やろう。

Study at home. 小学校受験の家庭学習教材

図形：折り重ね鏡①

左の四角を太い線で矢印の方向へ折り重ねたときの模様を考えて真ん中の四角にかきます。さらに真ん中の模様を鏡に映した時の模様を一番右の四角にかきます。

The diagram shows four rows of a 4x3 grid. Each row starts with a 4x3 grid on the left, followed by a vertical line with a right-pointing arrow, then a 3x3 grid in the middle, then a vertical line with a right-pointing arrow, and finally a 3x3 grid on the right. A curved arrow above each first grid indicates a fold from the left side towards the center. A thick vertical line between the middle and right grids represents a mirror.

- Row 1:** Left grid has white circles at (1,1), (1,3), (1,4), (3,1), and (3,4). Middle grid has white circles at (1,1), (1,3), (2,2), and (3,2). Right grid has white circles at (1,1), (1,3), (2,2), and (3,1).
- Row 2:** Left grid has white circles at (1,1) and (1,4), and a black circle at (3,4). Middle grid has white circles at (1,2) and (1,3), a black circle at (2,3), and a black circle at (3,1). Right grid has white circles at (1,1), (1,2), (2,2), and a black circle at (2,1).
- Row 3:** Left grid has black circles at (1,1) and (3,1), a white circle at (2,2), a black circle at (2,4), and a white triangle at (3,4). Middle grid has a white circle at (1,2), a black circle at (1,3), a black circle at (2,2), a white triangle at (3,2), and a black circle at (3,3). Right grid has a black circle at (1,1), a white circle at (1,2), a black circle at (2,2), and a white triangle at (3,2).
- Row 4:** Left grid has a white triangle at (1,1), a white inverted triangle at (1,3), a white triangle at (2,4), a white circle at (3,2), and a black circle at (3,4). Middle grid has a white inverted triangle at (1,1), a white triangle at (1,3), a black circle at (3,1), and a black circle at (3,2). Right grid has a white triangle at (1,1), a white inverted triangle at (1,3), a white triangle at (2,2), and black circles at (3,2) and (3,3).

※1. このプリントは、しながわ・目黒こどもスクールのウェブサイトでダウンロードができます。無断複写・引用はご遠慮ください。

※2. このプリントを活用したオンライン授業のスケジュールは、しながわ・目黒こどもスクールのウェブサイトでご確認ください。



おうちで、やろう。

Study at home. 小学校受験の家庭学習教材

図形：折り重ね鏡②

左の四角を太い線で矢印の方向へ折り重ねたときの模様を考えて真ん中の四角にかきます。さらに真ん中の模様を鏡に映した時の模様を一番右の四角にかきます。

The diagram shows four rows of a 4x3 grid. Each row starts with a grid containing various shapes (circles, triangles, squares) and a vertical line with an arrow pointing right, indicating a fold. This is followed by a 3x3 grid representing the folded state. A second vertical line with an arrow pointing right indicates a mirror reflection. The final 3x3 grid shows the mirrored pattern.

※1. このプリントは、しながわ・目黒こどもスクールのウェブサイトでダウンロードができます。無断複写・引用はご遠慮ください。
※2. このプリントを活用したオンライン授業のスケジュールは、しながわ・目黒こどもスクールのウェブサイトでご確認ください。









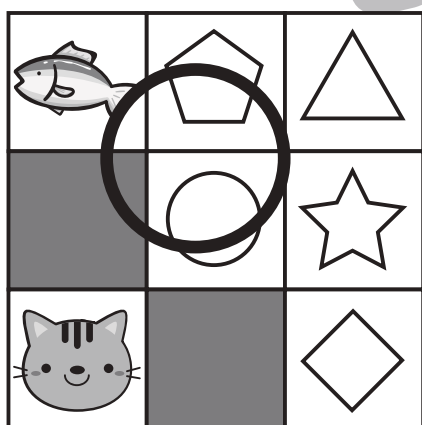
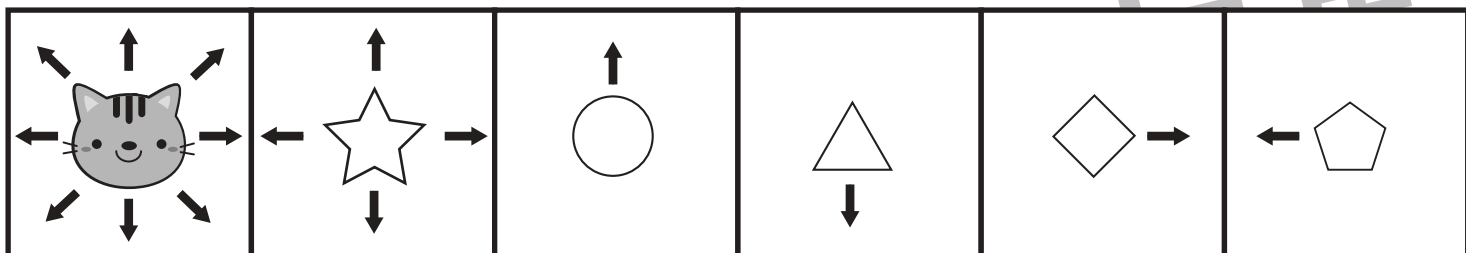


おうちで、やろう。

Study at home. 小学校受験の家庭学習教材

推理：条件推理⑳

上の四角が約束です。ネコは今いるところから上下左右と斜めのどれか1つの方向に移動することができます。星は上下左右のどれかの方向に1つずつ。丸は上に1つ、三角は下に1つ、ダイヤは右に1つ、五角形は左に1つ進めます。ただし、灰色のマス目にぶつかったら、そこから先に進むことはできません。今、ネコがいるところから約束通りに進んで行くと魚のマスに行くことができるものはどれですか。すべて見つけて○をつけます。



※1. このプリントは、しながわ・目黒こどもスクールのウェブサイトでダウンロードができます。無断複写・引用はご遠慮ください。

※2. このプリントを活用したオンライン授業のスケジュールは、しながわ・目黒こどもスクールのウェブサイトでご確認ください。

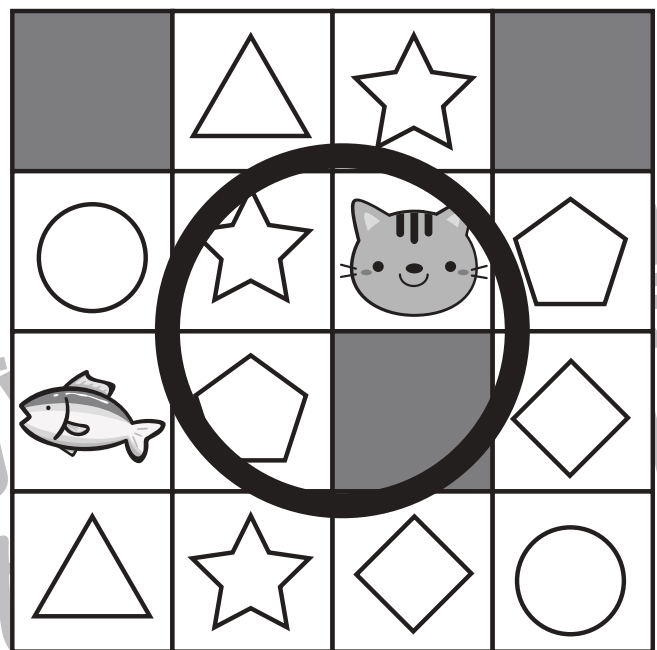



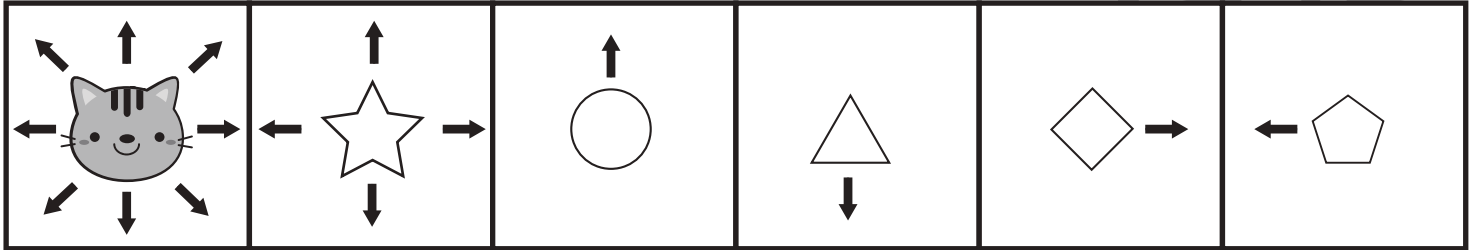


おうちで、やろう。

Study at home. 小学校受験の家庭学習教材

推理：条件推理⑳

上の四角が約束です。ネコは今いるところから上下左右と斜めのどれか1つの方向に移動することができます。星は上下左右のどれかの方向に1つずつ。丸は上に1つ、三角は下に1つ、ダイヤは右に1つ、五角形は左に1つ進めます。ただし、灰色のマス目にぶつかったら、そこから先に進むことはできません。今、ネコがいるところから約束通りに進んで行くと魚のマスに行くことができるものはどれですか。



※1. このプリントは、しながわ・目黒こどもスクールのウェブサイトでダウンロードができます。無断複写・引用はご遠慮ください。
※2. このプリントを活用したオンライン授業のスケジュールは、しながわ・目黒こどもスクールのウェブサイトでご確認ください。



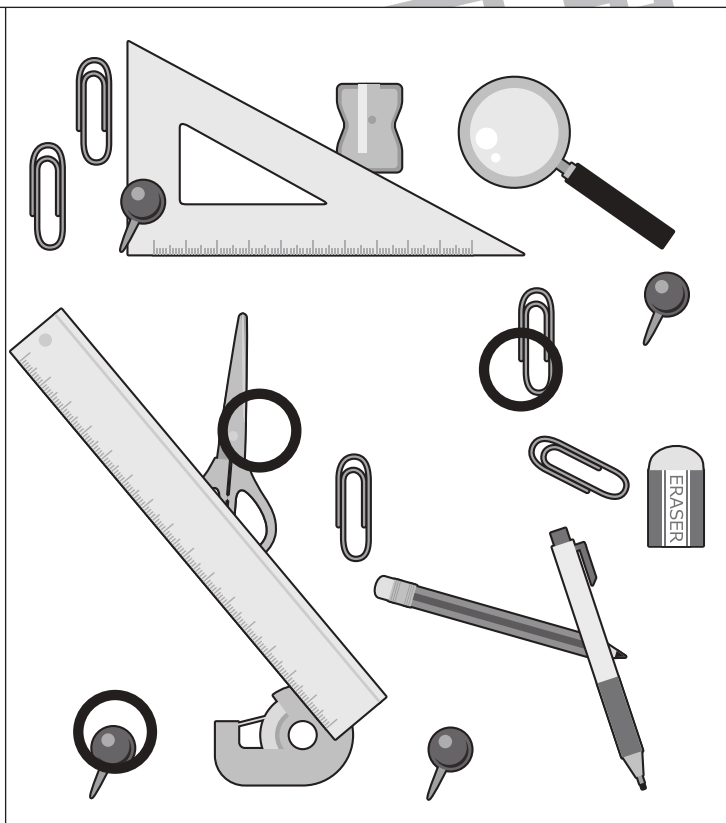
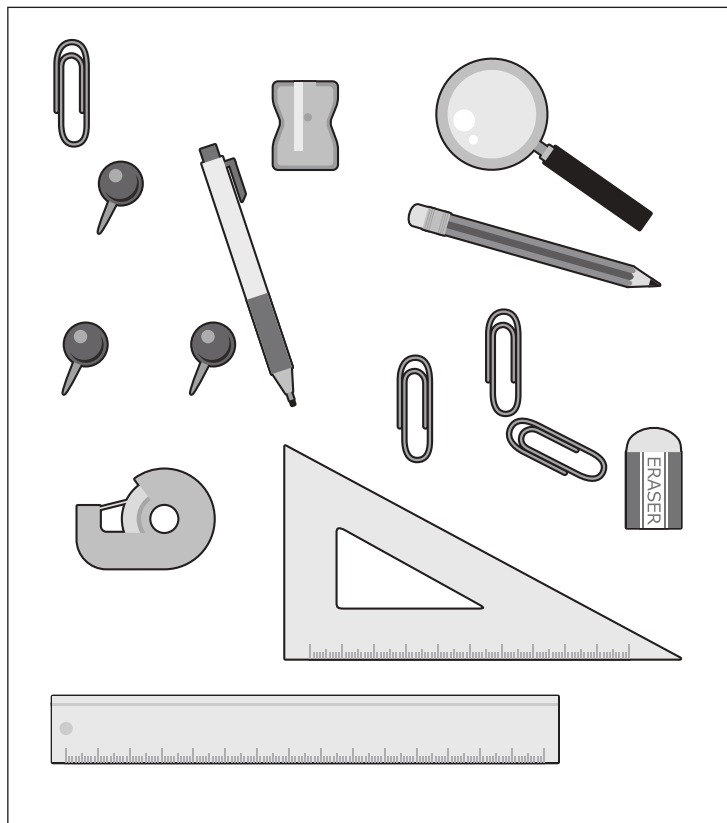
おうちで、やろう。

Study at home. 小学校受験の家庭学習教材



推理：注意力①

右と左の絵は何か違います。違うものを見つけて右の四角の絵に○をつけます。

① 答え：右の絵でハサミ、クリップ、画びょうに一つずつ○をします。



② 答え：左の絵でスイカ（小サイズ）、祭うちわ、貝殻、水風船に一つずつ○をします。



※1. このプリントは、しながわ・目黒こどもスクールのウェブサイトからダウンロードできます。無断複写・引用はご遠慮ください。

※2. このプリントを活用したオンライン授業のスケジュールは、しながわ・目黒こどもスクールのウェブサイトでご確認ください。






おうちで、やろう。

Study at home. 小学校受験の家庭学習教材


推理：注意力②

右と左の絵は何か違います。違うものを見つけて右の四角に○をつけます。

① 答え：右の絵でクマのおもちゃ、鉄琴のばち、野球ボール、車のおもちゃに一つずつ○をします。



② 答え：左の絵でどら焼き1つ、あんみつ1つ、お煎餅2つに○をします。



※1. このプリントは、しながわ・目黒こどもスクールのウェブサイトからダウンロードできます。無断複写・引用はご遠慮ください。

※2. このプリントを活用したオンライン授業のスケジュールは、しながわ・目黒こどもスクールのウェブサイトでご確認ください。



おうちで、やろう。

Study at home. 小学校受験の家庭学習教材

数量：的あてゲーム④


今から、食べ物が描かれた的的あてをします。的あてはあたった食べ物によって得点が違います。果物的は1点で、野菜的は2点です。この約束のとき、①～④の問題に答えましょう。

①「ミカン」と「ブドウ」の的にボールを当てたとき、何点になりますか。その数だけ〇をかきましょう。

②「ピーマン」と「ナス」の的にボールを当てたとき、何点になりますか。その数だけ〇をかきましょう。

③「トウモロコシ」と「リンゴ」と「モモ」の的にボールを当てたとき、何点になりますか。その数だけ〇をかきましょう。

④「バナナ」と「ニンジン」と「ナス」と「ブドウ」の的にボールを当てたとき、何点になりますか。その数だけ〇をかきましょう。



①

○ × 2

②

○ × 4

③

○ × 4

④

○ × 6

※1. このプリントは、しながわ・目黒こどもスクールのウェブサイトでダウンロードができます。無断複写・引用はご遠慮ください。

※2. このプリントを活用したオンライン授業のスケジュールは、しながわ・目黒こどもスクールのウェブサイトでご確認ください。



おうちで、やろう。

Study at home. 小学校受験の家庭学習教材

数量：的あてゲーム⑤


今から、動物が描かれた的の的あてをします。的あてはあたる動物によって得点が違います。卵で生まれる動物の的は3点で、赤ちゃんで生まれる動物の的は2点です。この約束のとき、①～④の問題に答えましょう。

①「ゾウ」と「キツネ」の的にボールを当てたとき、何点になりますか。その数だけ◎をかきましょう。

②「ペンギン」と「蛇」の的にボールを当てたとき、何点になりますか。その数だけ△をかきましょう。

③「ライオン」と「ワニ」と「カンガルー」の的にボールを当てたとき、何点になりますか。その数だけ□をかきましょう。

④「カバ」と「ニワトリ」と「ライオン」と「ペンギン」の的にボールを当てたとき、何点になりますか。その数だけ○をかきましょう。



①



②



③



④



※1. このプリントは、しながわ・目黒こどもスクールのウェブサイトでダウンロードができます。無断複写・引用はご遠慮ください。

※2. このプリントを活用したオンライン授業のスケジュールは、しながわ・目黒こどもスクールのウェブサイトでご確認ください。

