



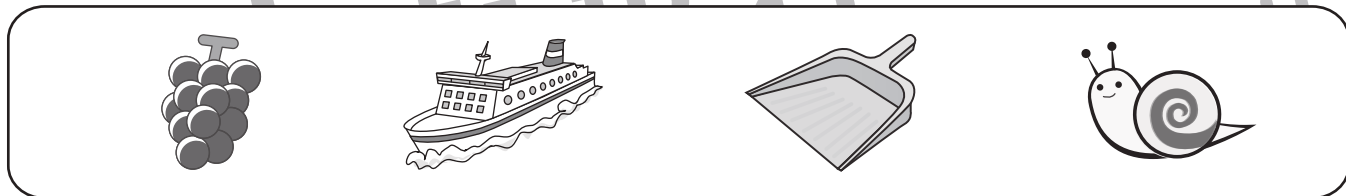
おうちで、やろう。

Study at home. 小学校受験の家庭学習教材

言語：音の理解⑳

四角の中に何枚かの絵が並んでいます。矢印の向きに1つずつ音の数が増えたり、減ったりしながら絵が並んでいます。この約束のとき、口の中に入る絵はどれですか。すぐ下の吹き出しの中から、正しいと思う絵をすべて選んで○をつけましょう。

①



②



③



④



※1. このプリントは、しながわ・目黒こどもスクールのウェブサイトからダウンロードできます。無断複写・引用はご遠慮ください。
 ※2. このプリントを活用したオンライン授業のスケジュールは、しながわ・目黒こどもスクールのウェブサイトでご確認ください。








おうちで、やろう。





Study at home. 小学校受験の家庭学習教材


言語：音の理解③⑩





視覚の中に何枚かの絵が並んでいます。矢印の向きに1つずつ音の数が増えたり、減ったりしながら絵が並んでいます。この約束のとき、口の中に入る絵はどれですか。すぐ下の吹き出しの中から、正しいと思う絵をすべて選んで○をつけましょう。

①  →  →  → 







②  →  →  → 



③  →  →  → 



④  →  →  → 



※1. このプリントは、しながわ・目黒こどもスクールのウェブサイトでダウンロードができます。無断複写・引用はご遠慮ください。

※2. このプリントを活用したオンライン授業のスケジュールは、しながわ・目黒こどもスクールのウェブサイトでご確認ください。



おうちで、やろう。

Study at home. 小学校受験の家庭学習教材

図形：移動③⑧

左のマス目の形を右の形に戻したときの見え方を考えます。左のマス目の○が右のマス目のどこになるのかを考えて○をかきます。

※1. このプリントは、しながわ・目黒こどもスクールのウェブサイトでダウンロードができます。無断複写・引用はご遠慮ください。

※2. このプリントを活用したオンライン授業のスケジュールは、しながわ・目黒こどもスクールのウェブサイトでご確認ください。



おうちで、やろう。

Study at home. 小学校受験の家庭学習教材

図形：移動③⑨

左のマス目の形を右の形に戻したときの見え方を考えます。左のマス目の○が右のマス目のどこになるのかを考えて○をかきます。

※1. このプリントは、しながわ・目黒こどもスクールのウェブサイトでダウンロードができます。無断複写・引用はご遠慮ください。

※2. このプリントを活用したオンライン授業のスケジュールは、しながわ・目黒こどもスクールのウェブサイトでご確認ください。


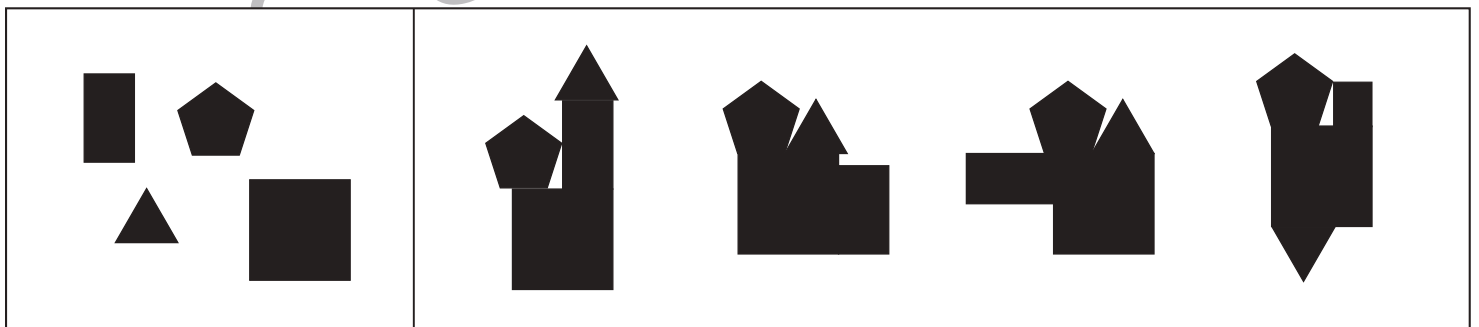




おうちで、やろう。

Study at home. 小学校受験の家庭学習教材

図形：構成⑳

左の四角の中の形からできないものを右の四角の中から選んで○をつけます。
それぞれの形は回してもよいですが、重ねてはいけません。



※1. このプリントは、しながわ・目黒こどもスクールのウェブサイトでダウンロードができます。無断複写・引用はご遠慮ください。
 ※2. このプリントを活用したオンライン授業のスケジュールは、しながわ・目黒こどもスクールのウェブサイトでご確認ください。


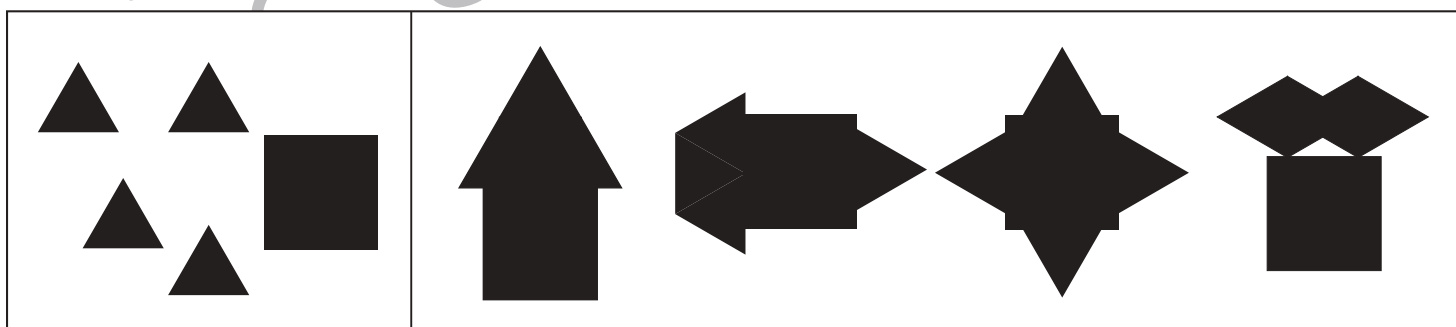


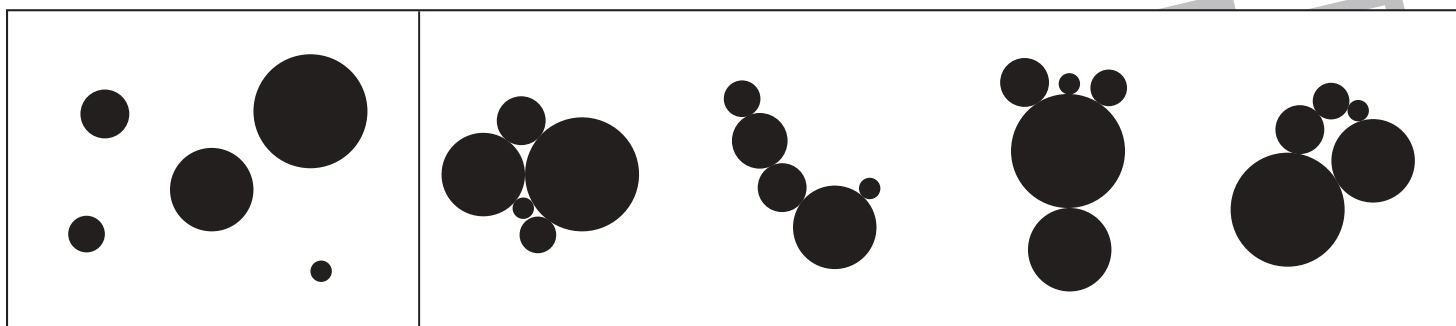


おうちで、やろう。

Study at home. 小学校受験の家庭学習教材

図形：構成⑳

左の四角の中の形からできないものを右の四角の中ら選んで○をつけます。
それぞれの形は回してもよいですが、重ねてはいけません。



※1. このプリントは、しながわ・目黒こどもスクールのウェブサイトでダウンロードができます。無断複写・引用はご遠慮ください。
 ※2. このプリントを活用したオンライン授業のスケジュールは、しながわ・目黒こどもスクールのウェブサイトでご確認ください。



おうちで、やろう。

Study at home. 小学校受験の家庭学習教材

図形：重ね⑳

左の2枚の板を重ねると灰色のマスと重なった○は●に変わり、白いマスと重なった○は○のままです。
この約束のとき、左の2枚の板を重ねたときの○の見え方を考えて一番右の四角にかきます。

※1. このプリントは、しながわ・目黒こどもスクールのウェブサイトでダウンロードができます。無断複写・引用はご遠慮ください。
※2. このプリントを活用したオンライン授業のスケジュールは、しながわ・目黒こどもスクールのウェブサイトでご確認ください。



おうちで、やろう。

Study at home. 小学校受験の家庭学習教材

図形：重ね⑳

左の2枚の板を重ねると灰色のマスと重なった○は●に変わり、白いマスと重なった○は○のままです。
この約束のとき、左の2枚の板を重ねたときの○の見え方を考えて一番右の四角にかきます。

※1. このプリントは、しながわ・目黒こどもスクールのウェブサイトでダウンロードができます。無断複写・引用はご遠慮ください。
 ※2. このプリントを活用したオンライン授業のスケジュールは、しながわ・目黒こどもスクールのウェブサイトでご確認ください。



おうちで、やろう。

Study at home. 小学校受験の家庭学習教材

数量：複合④

湖で白鳥とアヒルとヒヨコが泳いでいます。問題をよく聞いて答えましょう。

①白鳥の数だけ四角の中に青のクーピーで○をかきます。

②アヒルの数だけ四角の中に橙色のクーピーで△をかきます。

③白鳥は1度に3つの卵を温めることができます。


この絵の中の白鳥が温められる卵の数だけ四角の中に緑のクーピーで○をかきます。






④アヒルは2つの卵を温めることができます。その中から何匹か生まれてヒヨコになり、下の絵の中で泳いでいます。

この中のアヒルが温めている卵の数だけ四角の中に青のクーピーで○をかきます。

⑤1つの草むらにヒヨコは2匹隠れることができます。

この絵の中の草むらに隠られるヒヨコの数だけ四角の中に紫のクーピーで○をかきます。



①		
②		
③		
④		
⑤		

※1. このプリントは、しながわ・目黒こどもスクールのウェブサイトでダウンロードができます。無断複写・引用はご遠慮ください。

※2. このプリントを活用したオンライン授業のスケジュールは、しながわ・目黒こどもスクールのウェブサイトでご確認ください。




おうちで、やろう。


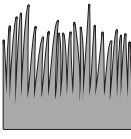

Study at home. 小学校受験の家庭学習教材

数量：複合⑤

このサバンナにはいろいろな動物がいます。問題をよく聞いて答えましょう。

- ①サバンナにいるトラの数だけ四角の中に青のクーピーで○をかきます。
- ②サバンナには見えている動物は何種類の動物がいますか。その数だけ四角の中に緑のクーピーで△をかきます。
- ③キリンは1本の木の葉っぱを4頭で仲良く食べます。この絵の中では何頭のキリンが木の葉っぱを食べることができますか。その数だけ四角の中にオレンジ色のクーピーで○をかきます。
- ④草むらの中には2匹の鳥が隠れています。隠れている鳥の数だけ四角の中に青のクーピーで○をかきます。
- ⑤たてがみがあるお父さんライオン1頭にはそれぞれお母さんライオン1頭と子どものライオンが3頭います。この絵の中で子どものライオンの数だけ四角に緑のクーピーで○をかきます。



① 	
② 	
③ 	
④ 	
⑤ 	

※1. このプリントは、しながわ・目黒こどもスクールのウェブサイトでダウンロードができます。無断複写・引用はご遠慮ください。

※2. このプリントを活用したオンライン授業のスケジュールは、しながわ・目黒こどもスクールのウェブサイトでご確認ください。