



おうちで、やろう。

Study at home. 小学校受験の家庭学習教材

図形：マッチ⑤

左の四角の中のシルエットは異なる長さのマッチを使って作った形です。
右の3つの中から、左の形を作ることができるマッチの組み合わせを見つけて○をつけます。

※1. このプリントは、しながわ・目黒こどもスクールのウェブサイトでダウンロードができます。無断複写・引用はご遠慮ください。

※2. このプリントを活用したオンライン授業のスケジュールは、しながわ・目黒こどもスクールのウェブサイトでご確認ください。



おうちで、やろう。

Study at home. 小学校受験の家庭学習教材

図形：折り重ね⑤⑩

太い線で矢印の方向へ折り重ねた時の真ん中の四角の見え方を考えます。答えはすぐ右の空いている四角にかきます。もし間違えてしまったら、一番右の四角にかきなおしましょう。

①

②

③

④

※1. このプリントは、しながわ・目黒こどもスクールのウェブサイトでダウンロードができます。無断複写・引用はご遠慮ください。

※2. このプリントを活用したオンライン授業のスケジュールは、しながわ・目黒こどもスクールのウェブサイトでご確認ください。



おうちで、やろう。

Study at home. 小学校受験の家庭学習教材

図形：折り重ね 51

左の四角から太い線で順番に矢印の方向へ折り重ねたとき一番右の四角に重なった見え方を考えます。答えはすぐ右の空いている四角にかきます。もし間違えてしまったら、一番右の四角にかきなおしましょう。

①

②

③

④

※1. このプリントは、しながわ・目黒こどもスクールのウェブサイトでダウンロードができます。無断複写・引用はご遠慮ください。
 ※2. このプリントを活用したオンライン授業のスケジュールは、しながわ・目黒こどもスクールのウェブサイトでご確認ください。



おうちで、やろう。

Study at home. 小学校受験の家庭学習教材

図形：折り重ね 52

左の四角から太い線で順番に矢印の方向へ折り重ねたとき一番右の四角に重なった見え方を考えます。答えはすぐ右の空いている四角にかきます。もし間違えてしまったら、一番右の四角にかきなおしましょう。

①

②

③

④

※1. このプリントは、しながわ・目黒こどもスクールのウェブサイトでダウンロードができます。無断複写・引用はご遠慮ください。
※2. このプリントを活用したオンライン授業のスケジュールは、しながわ・目黒こどもスクールのウェブサイトでご確認ください。









おうちで、やろう。

Study at home. 小学校受験の家庭学習教材

推理：歯車⑦

歯車を回して歯車につるさがついているおもりをもち上げます。このとき矢印のついている灰色の歯車を左右どちらに回せばよいですか。回す方向の矢印に○をつけます。



※1. このプリントは、しながわ・目黒こどもスクールのウェブサイトでダウンロードができます。無断複写・引用はご遠慮ください。
※2. このプリントを活用したオンライン授業のスケジュールは、しながわ・目黒こどもスクールのウェブサイトでご確認ください。









おうちで、やろう。

Study at home. 小学校受験の家庭学習教材

推理：歯車⑧

歯車を回して歯車につるさがっているおもりをもち上げます。このとき矢印のついている灰色の歯車を左右どちらに回せばよいですか。回す方向の矢印に○をつけます。



※1. このプリントは、しながわ・目黒こどもスクールのウェブサイトでダウンロードができます。無断複写・引用はご遠慮ください。
※2. このプリントを活用したオンライン授業のスケジュールは、しながわ・目黒こどもスクールのウェブサイトでご確認ください。








おうちで、やろう。

Study at home. 小学校受験の家庭学習教材

推理：歯車⑨

歯車を回して歯車につるさがついているおもりをもち上げます。このとき矢印のついている灰色の歯車を左右どちらに回せばよいですか。回す方向の矢印に○をつけます。



※1. このプリントは、しながわ・目黒こどもスクールのウェブサイトでダウンロードができます。無断複写・引用はご遠慮ください。

※2. このプリントを活用したオンライン授業のスケジュールは、しながわ・目黒こどもスクールのウェブサイトでご確認ください。



おうちで、やろう。

Study at home. 小学校受験の家庭学習教材

推理：条件推理②⑥

水の中にいろいろな形が浮いています。すべての形が沈んだ時の見え方で正しいものを右の中から見つけて○をつけます。

※1. このプリントは、しながわ・目黒こどもスクールのウェブサイトでダウンロードができます。無断複写・引用はご遠慮ください。

※2. このプリントを活用したオンライン授業のスケジュールは、しながわ・目黒こどもスクールのウェブサイトでご確認ください。



おうちで、やろう。

Study at home. 小学校受験の家庭学習教材

推理：条件推理⑳

水の中にいろいろな形が浮いています。黒い四角はその場所から沈みません。
浮いている白のマークが一番下まで沈むときの様子で正しいものを選んで○をつけます。

--	--	--	--

--	--	--	--

--	--	--	--

※1. このプリントは、しながわ・目黒こどもスクールのウェブサイトでダウンロードができます。無断複写・引用はご遠慮ください。
※2. このプリントを活用したオンライン授業のスケジュールは、しながわ・目黒こどもスクールのウェブサイトでご確認ください。



おうちで、やろう。

Study at home. 小学校受験の家庭学習教材

推理：条件推理⑳

水の中にいろいろな形が浮いています。黒い四角はその場所から沈みません。
浮いている白のマークが一番下まで沈むときの様子で正しいものを選んで○をつけます。

--	--	--	--

--	--	--	--

--	--	--	--

※1. このプリントは、しながわ・目黒こどもスクールのウェブサイトからダウンロードできます。無断複写・引用はご遠慮ください。
※2. このプリントを活用したオンライン授業のスケジュールは、しながわ・目黒こどもスクールのウェブサイトでご確認ください。