






# おうちで、やろう。

Study at home. 小学校受験の家庭学習教材

常識：仲間⑫

縦に並んだ絵と横に並んだ絵はそれぞれ同じ仲間です。真ん中にくる絵は何でしょう。その絵を右から選んで○をつけます。



※1. このプリントは、しながわ・目黒こどもスクールのウェブサイトでダウンロードができます。無断複写・引用はご遠慮ください。  
 ※2. このプリントを活用したオンライン授業のスケジュールは、しながわ・目黒こどもスクールのウェブサイトでご確認ください。

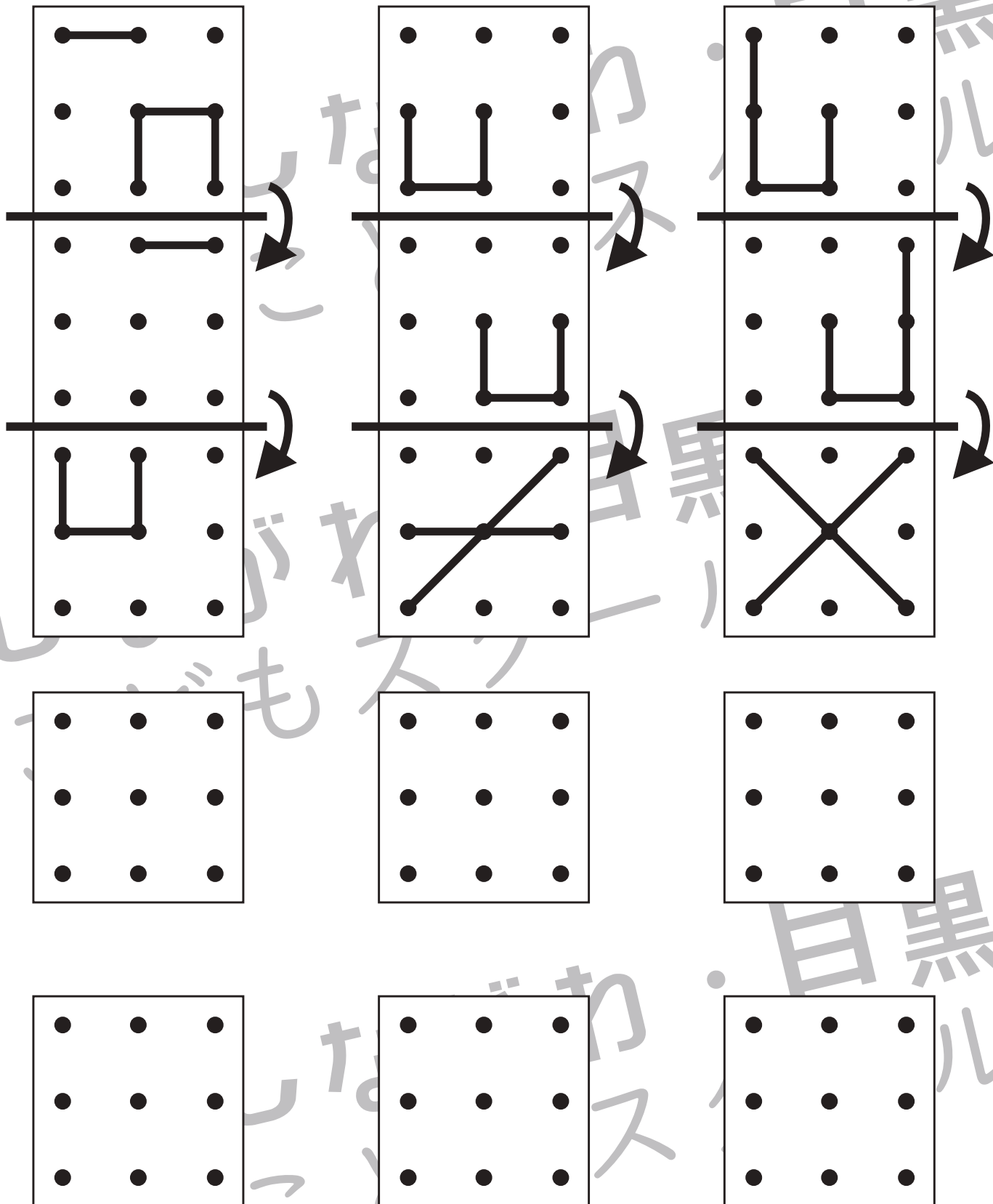


# おうちで、やろう。

Study at home. 小学校受験の家庭学習教材

## 図形：折り重ね 53

3枚の四角が太い線のところで矢印の方向へ上から順番に折り重ねていきます。この時、一番下の四角に折り重なった見え方を考えます。その見え方をすぐ下の四角にかきます。間違えてしまったときは一番下の四角にかきなおしましょう。



※1. このプリントは、しながわ・目黒こどもスクールのウェブサイトでダウンロードができます。無断複写・引用はご遠慮ください。

※2. このプリントを活用したオンライン授業のスケジュールは、しながわ・目黒こどもスクールのウェブサイトでご確認ください。




# おうちで、やろう。

Study at home. 小学校受験の家庭学習教材

## 図形：折り重ね 54

3枚の四角が太い線のところで矢印の方向へ上から順番に折り重ねていきます。この時、一番下の四角に折り重なった見え方を考えます。その見え方をすぐ下の四角にかきます。間違えてしまったときは一番下の四角にかきなおしましょう。



※1. このプリントは、しながわ・目黒こどもスクールのウェブサイトでダウンロードができます。無断複写・引用はご遠慮ください。

※2. このプリントを活用したオンライン授業のスケジュールは、しながわ・目黒こどもスクールのウェブサイトでご確認ください。




# おうちで、やろう。

Study at home. 小学校受験の家庭学習教材

## 図形：折り重ね 55

3枚の四角が太い線のところで矢印の方向へ上から順番に折り重ねていきます。この時、一番下の四角に折り重なった見え方を考えます。その見え方をすぐ下の四角にかきます。間違えてしまったときは一番下の四角にかきなおしましょう。



※1. このプリントは、しながわ・目黒こどもスクールのウェブサイトでダウンロードができます。無断複写・引用はご遠慮ください。  
 ※2. このプリントを活用したオンライン授業のスケジュールは、しながわ・目黒こどもスクールのウェブサイトでご確認ください。

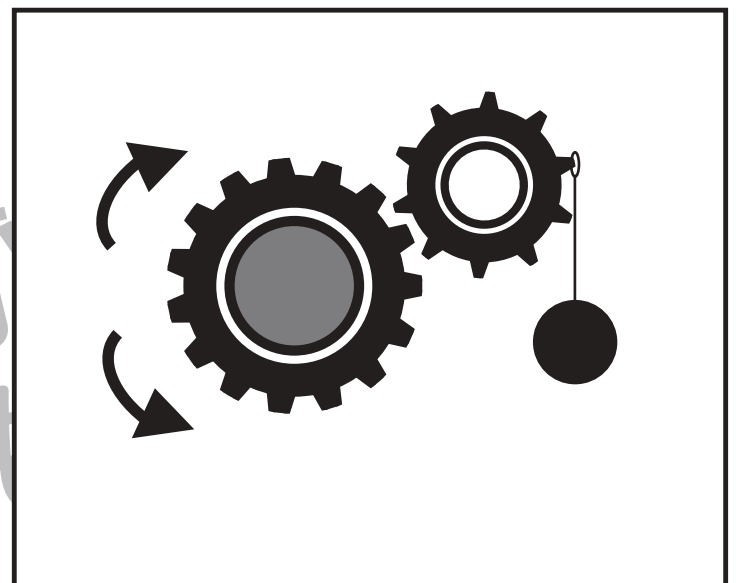







# おうちで、やろう。

Study at home. 小学校受験の家庭学習教材

## 推理：歯車⑩

歯車に重りをつるしました。このとき矢印のついている灰色の歯車を左右どちらに回りますか。回る方向の矢印に○をつけます。



※1. このプリントは、しながわ・目黒こどもスクールのウェブサイトでダウンロードができます。無断複写・引用はご遠慮ください。  
※2. このプリントを活用したオンライン授業のスケジュールは、しながわ・目黒こどもスクールのウェブサイトでご確認ください。




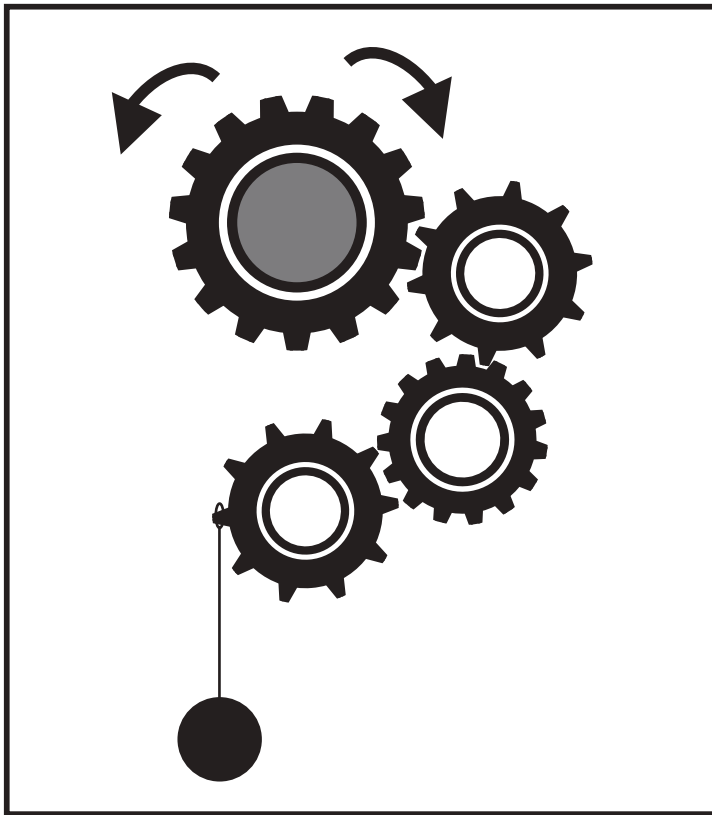


# おうちで、やろう。

Study at home. 小学校受験の家庭学習教材

## 推理：歯車⑪

歯車に重りをつるしました。このとき矢印のついている灰色の歯車を左右どちらに回りますか。回る方向の矢印に○をつけます。



※1. このプリントは、しながわ・目黒こどもスクールのウェブサイトでダウンロードができます。無断複写・引用はご遠慮ください。  
※2. このプリントを活用したオンライン授業のスケジュールは、しながわ・目黒こどもスクールのウェブサイトでご確認ください。






# おうちで、やろう。

Study at home. 小学校受験の家庭学習教材

## 推理：歯車⑫

歯車に重りをつるしました。このとき矢印のついている灰色の歯車を左右どちらに回りますか。回る方向の矢印に○をつけます。



※1. このプリントは、しながわ・目黒こどもスクールのウェブサイトダウンロードができます。無断複写・引用はご遠慮ください。

※2. このプリントを活用したオンライン授業のスケジュールは、しながわ・目黒こどもスクールのウェブサイトでご確認ください。




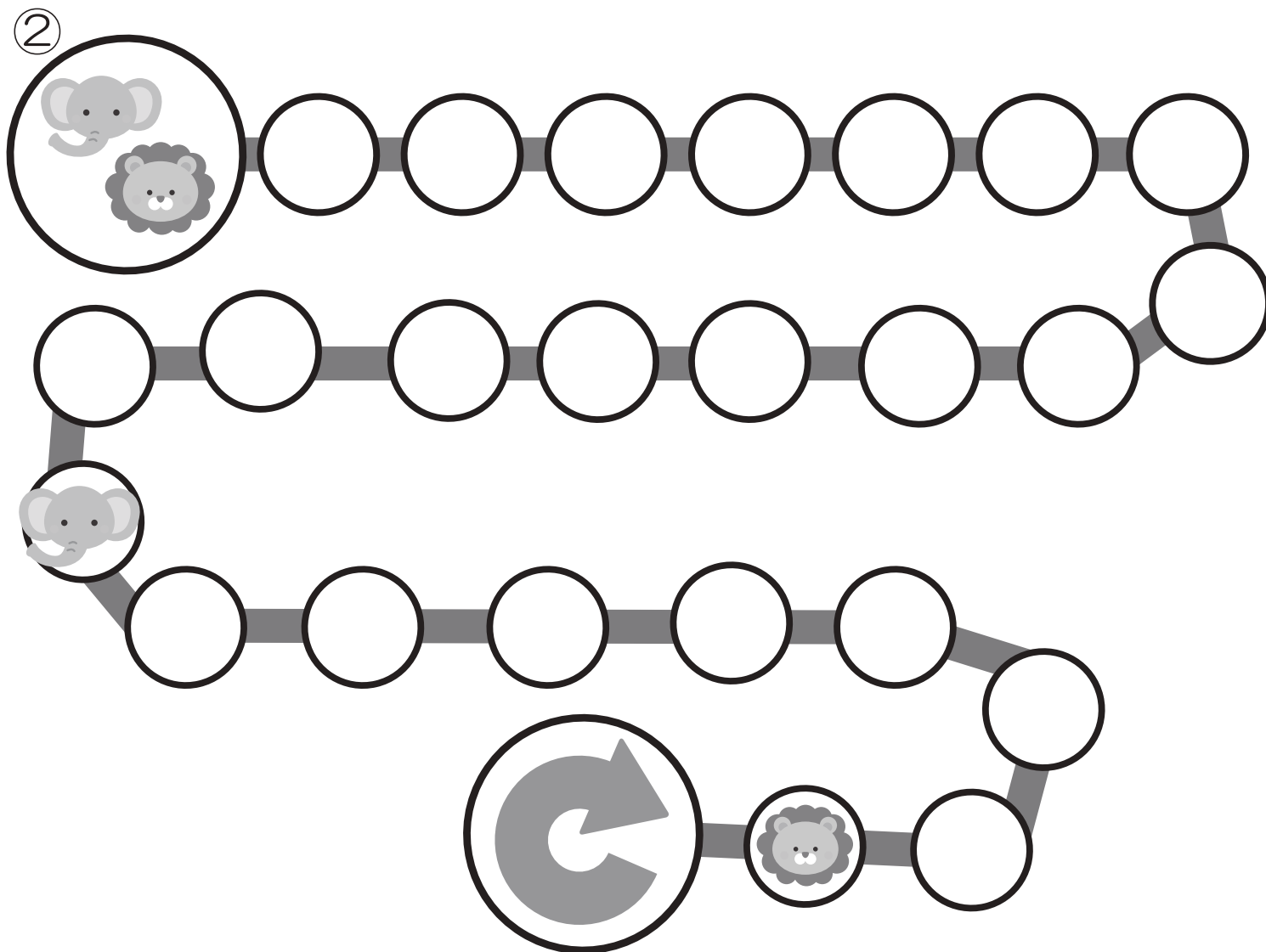
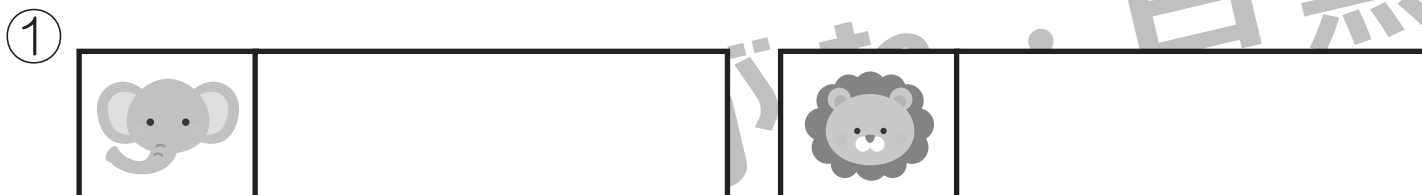
# おうちで、やろう。

Study at home. 小学校受験の家庭学習教材

推理：条件推理②

ゾウとライオンが競争をします。ゾウが1回に2マス進むとき、ライオンは3マス進むことができます。進んだ先には矢印のあるマスがあります、そこまで行ったら止まらずにそのまま進んできた道を戻ります。

- ①1回に進むことができるマスの数だけ、顔の横の四角の中にマルをかきましょう。
- ②ゾウとライオンが同じ回数だけ絵の場所まで進みました。何回進んだ場所ですか。その回数だけ一番下の四角に○をかきます。
- ③ゾウとライオンが同じ回数だけ進んだ時、同じマスに止まります。そのマスを塗ります。



※1.このプリントは、しながわ・目黒こどもスクールのウェブサイトからダウンロードできます。無断複写・引用はご遠慮ください。  
 ※2.このプリントを活用したオンライン授業のスケジュールは、しながわ・目黒こどもスクールのウェブサイトでご確認ください。





# おうちで、やろう。

Study at home. 小学校受験の家庭学習教材

推理：条件推理③⑩

ゾウとライオンが競争をします。ゾウが1回に3マス進むとき、ライオンは4マス進むことができます。進んだ先には矢印のあるマスがあります、そこまで行ったら立ち止まらずにそのまま進んできた道に戻ります。

①1回に進むことができるマス数だけ、顔の横の四角の中にマルをかきましょう。


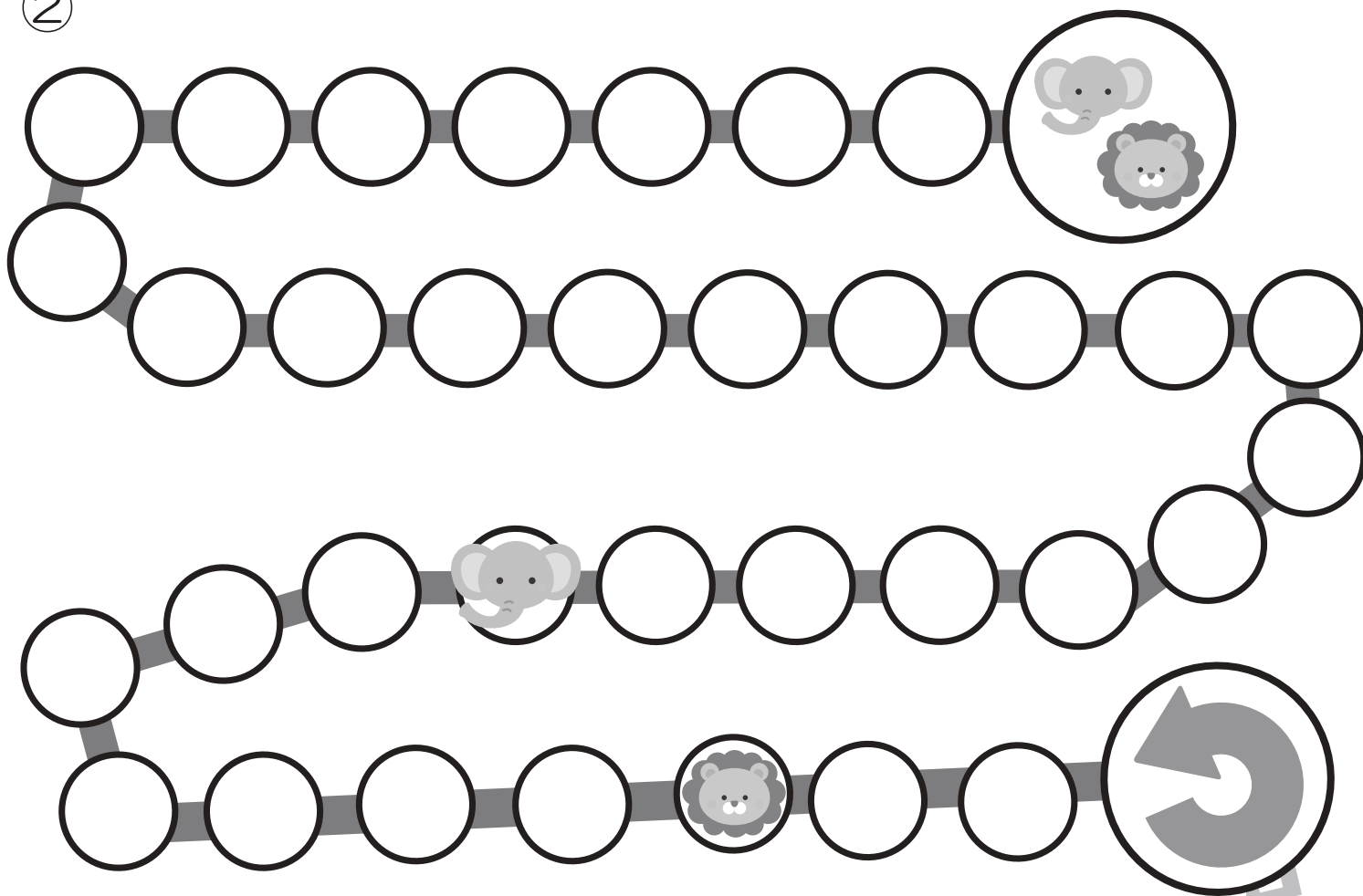
②ゾウとライオンが同じ回数だけ絵の場所まで進みました。何回進んだ場所ですか。その回数だけ一番下の四角に○をかきます。

③ゾウとライオンが同じ回数だけ進んだ時、同じマスに止まります。そのマスを書きます。

①



②



※1. このプリントは、しながわ・目黒こどもスクールのウェブサイトでダウンロードができます。無断複写・引用はご遠慮ください。

※2. このプリントを活用したオンライン授業のスケジュールは、しながわ・目黒こどもスクールのウェブサイトでご確認ください。