





おうちで、やろう。

Study at home. 小学校受験の家庭学習教材

図形：パズル③

上のパズルの灰色の場所に入るピースを考えて、下の四角の中から選んでそれぞれの記号をつけます。



※1. このプリントは、しながわ・目黒こどもスクールのウェブサイトでダウンロードができます。無断複写・引用はご遠慮ください。
※2. このプリントを活用したオンライン授業のスケジュールは、しながわ・目黒こどもスクールのウェブサイトでご確認ください。







おうちで、やろう。

Study at home. 小学校受験の家庭学習教材

図形：パズル④

上のパズルの灰色の場所に入るピースを考えて、下の四角の中から選んでそれぞれの記号をつけます。



※1. このプリントは、しながわ・目黒こどもスクールのウェブサイトからダウンロードできます。無断複写・引用はご遠慮ください。
※2. このプリントを活用したオンライン授業のスケジュールは、しながわ・目黒こどもスクールのウェブサイトでご確認ください。


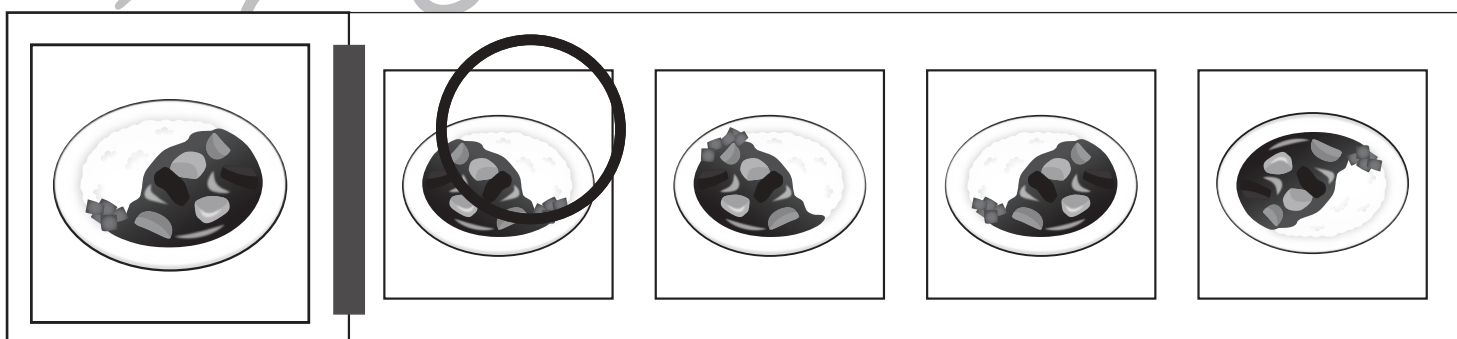
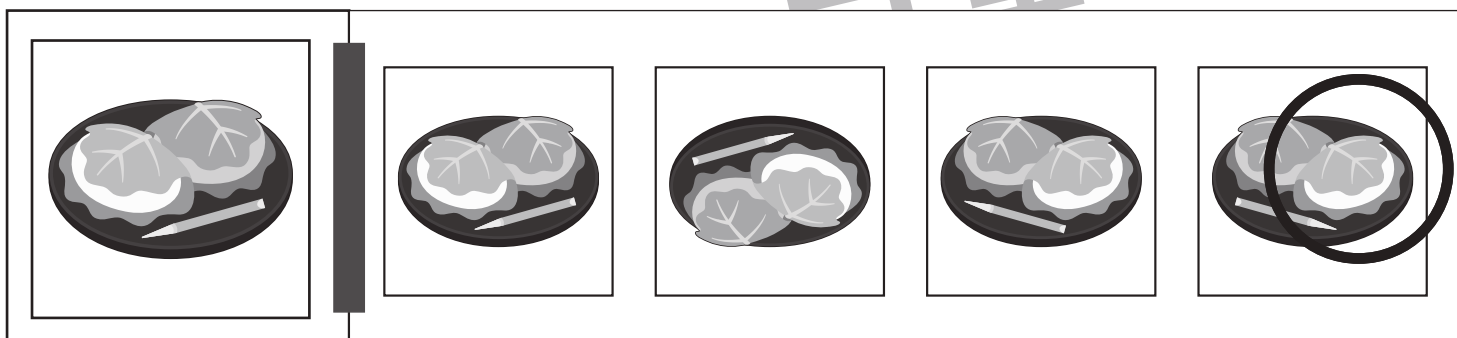




おうちで、やろう。

Study at home. 小学校受験の家庭学習教材

図形：鏡⑮

左の太い四角の中の形を鏡に映したときの見え方を考えます。正しいものを右の四角の中から選んで○をつけます。



※1. このプリントは、しながわ・目黒こどもスクールのウェブサイトでダウンロードができます。無断複写・引用はご遠慮ください。
 ※2. このプリントを活用したオンライン授業のスケジュールは、しながわ・目黒こどもスクールのウェブサイトでご確認ください。






おうちで、やろう。

Study at home. 小学校受験の家庭学習教材

図形：鏡⑬

左の太い四角の中の形を鏡に映したときの見え方を考えます。正しいものを右の四角の中から選んで○をつけます。



※1. このプリントは、しながわ・目黒こどもスクールのウェブサイトでダウンロードができます。無断複写・引用はご遠慮ください。
 ※2. このプリントを活用したオンライン授業のスケジュールは、しながわ・目黒こどもスクールのウェブサイトでご確認ください。




おうちで、やろう。

Study at home. 小学校受験の家庭学習教材

数量：計数⑫

上の四角の中に何種類かの動物の顔があります。

下の四角の左にいる動物の数をかぞえて、その数だけ右の四角の中に○をかきます。



	$\bigcirc \times 5$
	$\bigcirc \times 5$
	$\bigcirc \times 4$
	$\bigcirc \times 2$

※1. このプリントは、しながわ・目黒こどもスクールのウェブサイトでダウンロードができます。無断複写・引用はご遠慮ください。

※2. このプリントを活用したオンライン授業のスケジュールは、しながわ・目黒こどもスクールのウェブサイトでご確認ください。



おうちで、やろう。

Study at home. 小学校受験の家庭学習教材

数量：計数⑬

上の四角の中に何種類かの記号があります。

下の四角の左にある記号の数をかぞえて、その数だけ右の四角の中に○をかきます。

□	○	□	□	□	□	△	□	△	□	□
□	□	□	○	□	□	□	□	□	□	□
□	△	□	□	□	○	□	▽	□	○	▽
□	□	☆	□	□	☆	□	□	□	□	□
△	□	□	□	○	□	▽	□	○	□	□
□	□	○	□	□	□	□	□	□	□	△
□	□	□	▽	□	☆	□	□	□	△	□
▽	□	□	△	□	□	□	○	□	□	□

○	○ × 8
△	○ × 7
▽	○ × 5
☆	○ × 3

※1. このプリントは、しながわ・目黒こどもスクールのウェブサイトでダウンロードができます。無断複写・引用はご遠慮ください。

※2. このプリントを活用したオンライン授業のスケジュールは、しながわ・目黒こどもスクールのウェブサイトでご確認ください。