


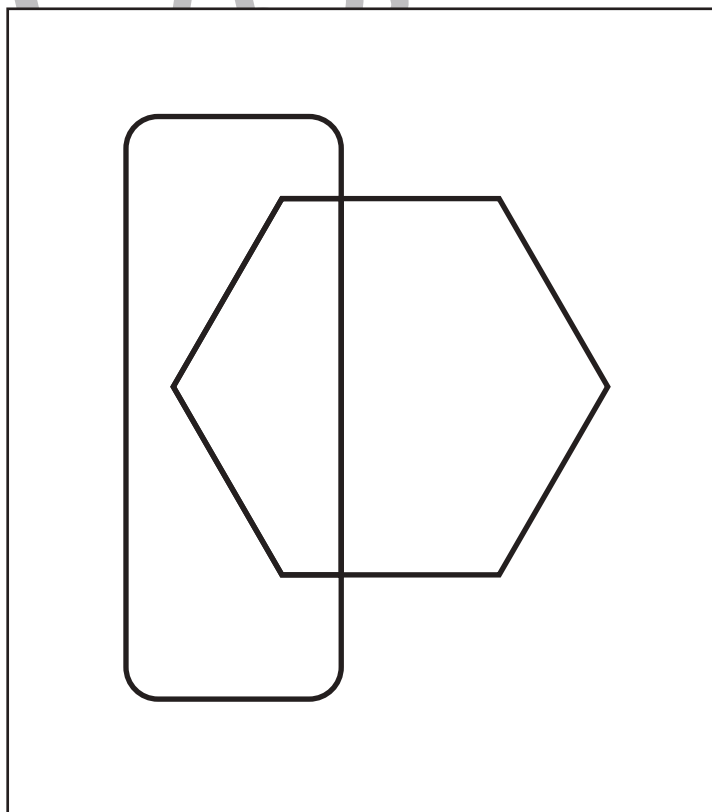
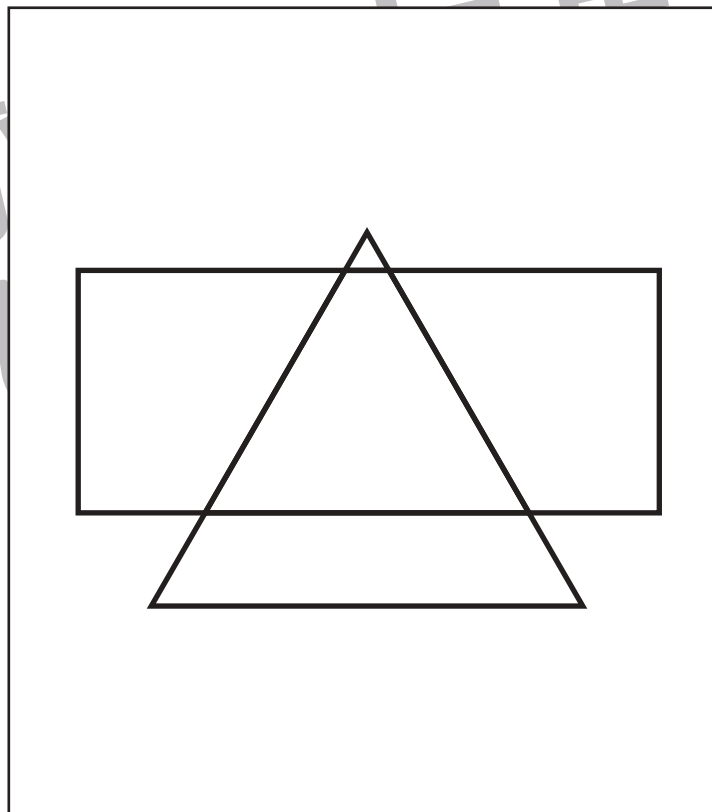
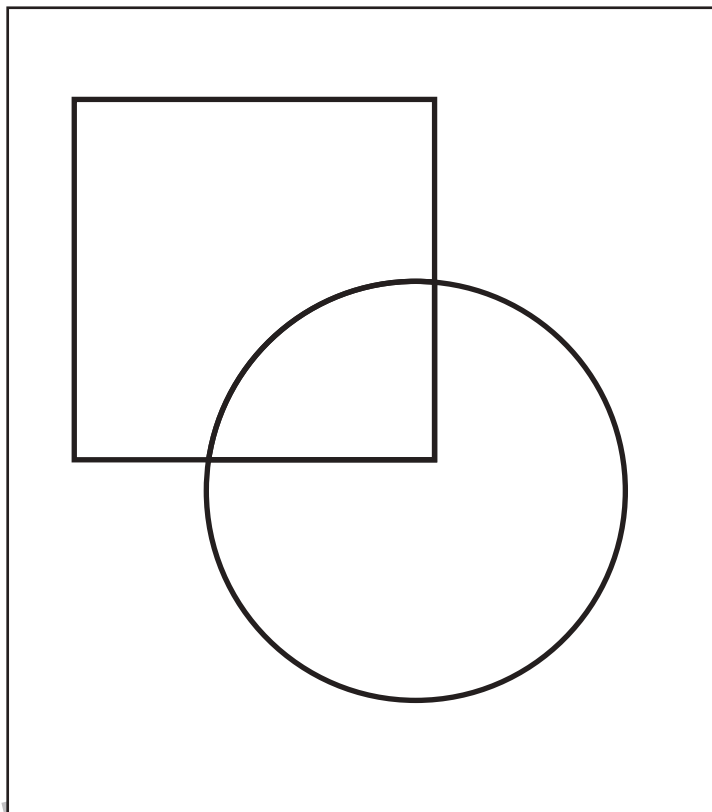


おうちで、やろう。

Study at home. 小学校受験の家庭学習教材

図形：重なり⑭

それぞれの四角の中には2つの形があります。この2つの形が重なっている場所を塗ります。




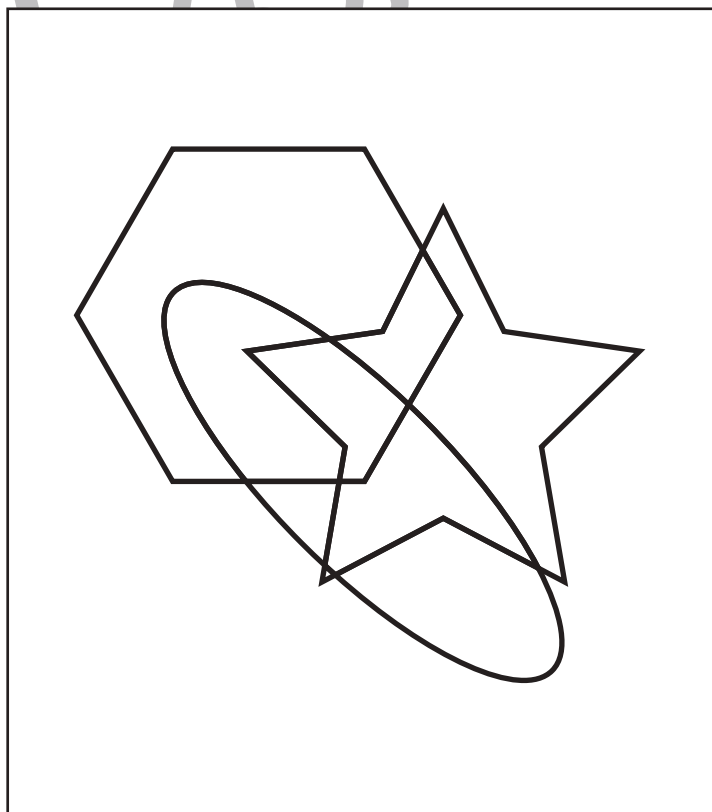
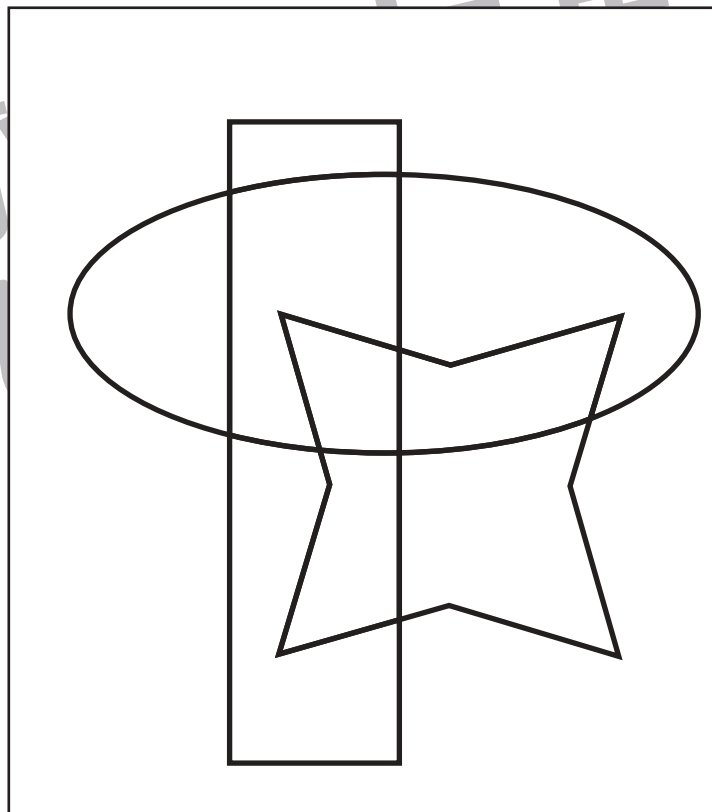
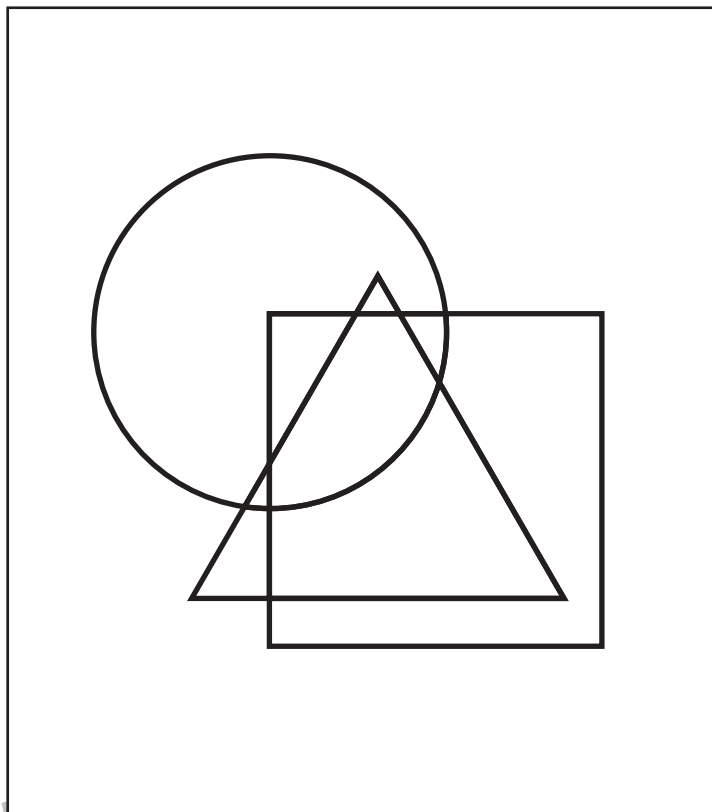


おうちで、やろう。

Study at home. 小学校受験の家庭学習教材

図形：重なり⑮

それぞれの四角の中には3つの形があります。この3つの形が重なっている場所を塗ります。



※1. このプリントは、しながわ・目黒こどもスクールのウェブサイトからダウンロードできます。無断複写・引用はご遠慮ください。
※2. このプリントを活用したオンライン授業のスケジュールは、しながわ・目黒こどもスクールのウェブサイトでご確認ください。

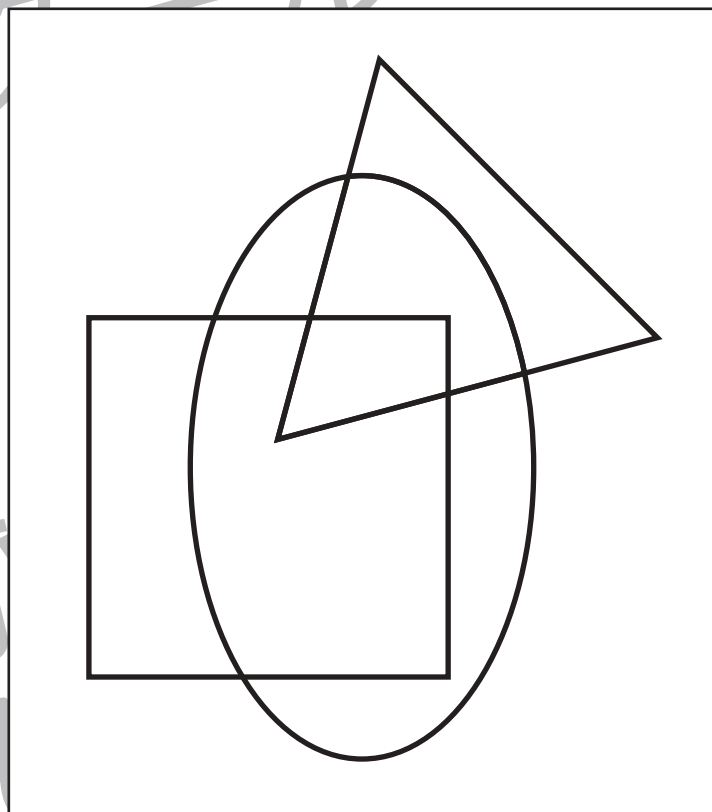
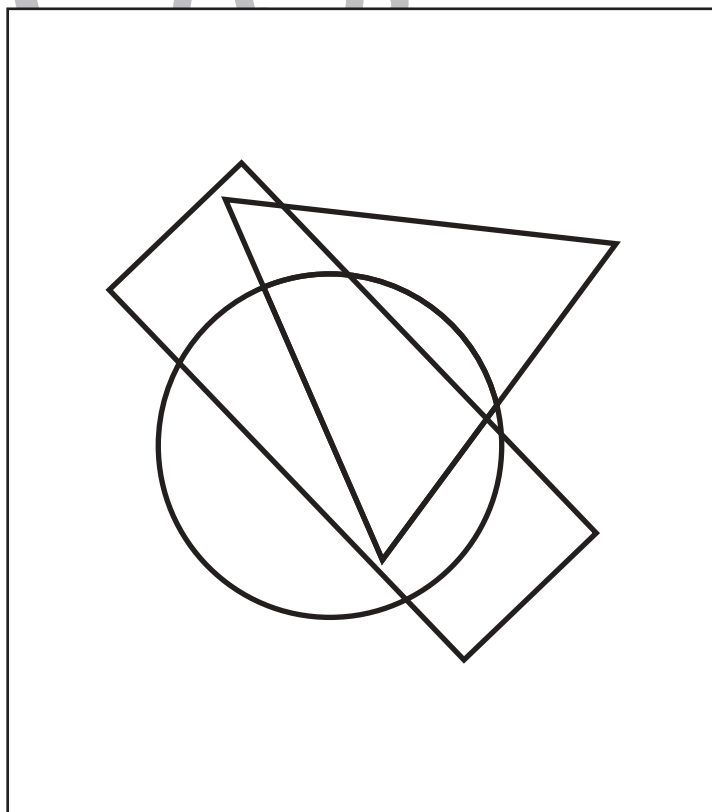
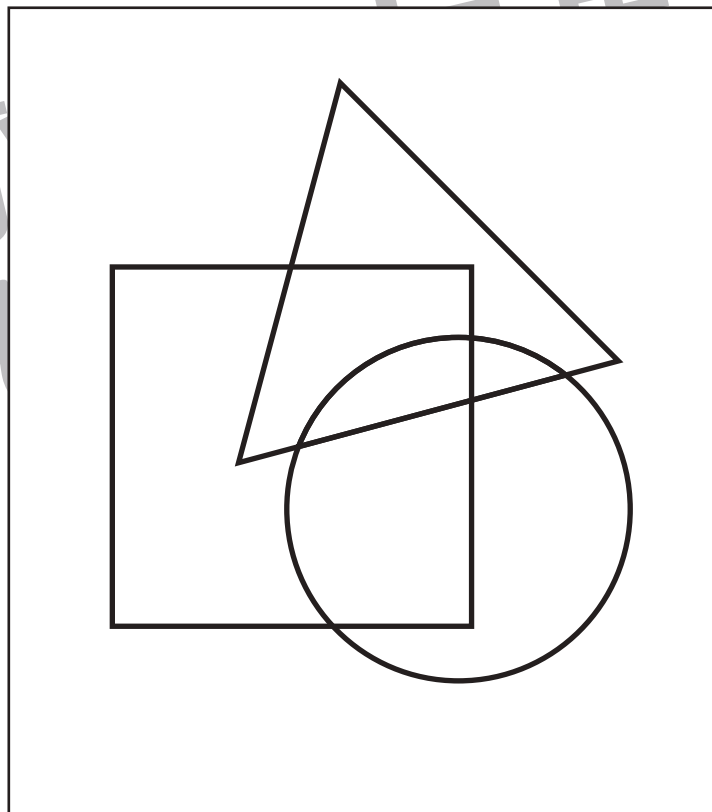
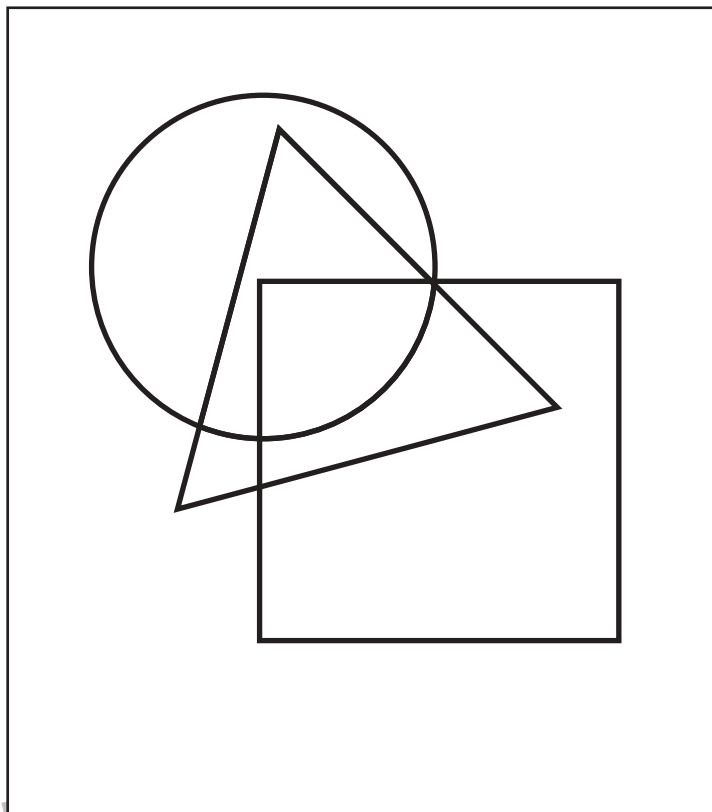


おうちで、やろう。

Study at home. 小学校受験の家庭学習教材

図形：重なり⑬

それぞれの四角の中には丸、三角、四角の3つの形が重なっています。
この中で丸と三角が重なっている場所を見つけて色を塗ります。



※1. このプリントは、しながわ・目黒こどもスクールのウェブサイトでダウンロードができます。無断複写・引用はご遠慮ください。
※2. このプリントを活用したオンライン授業のスケジュールは、しながわ・目黒こどもスクールのウェブサイトでご確認ください。



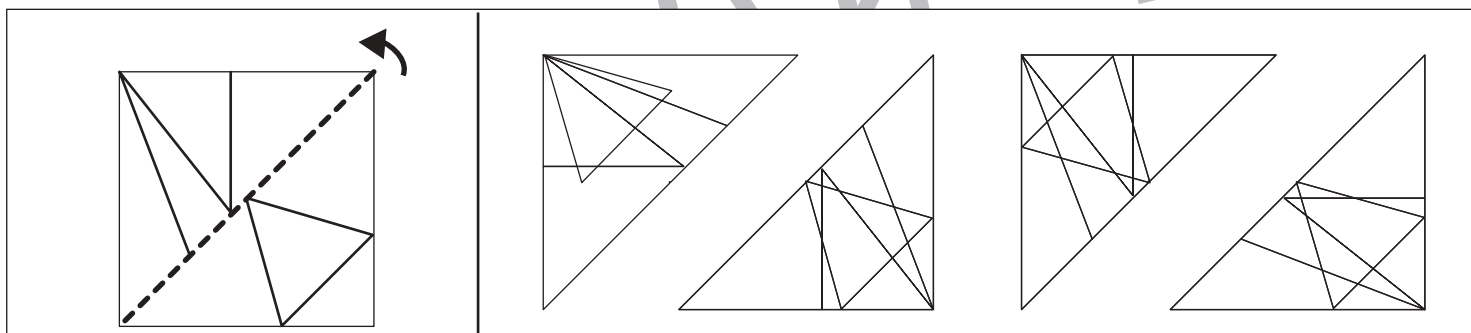
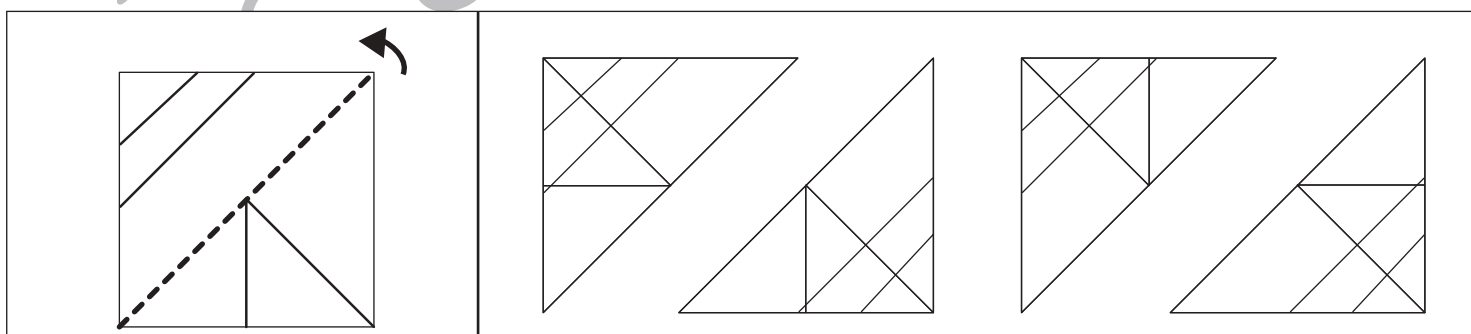

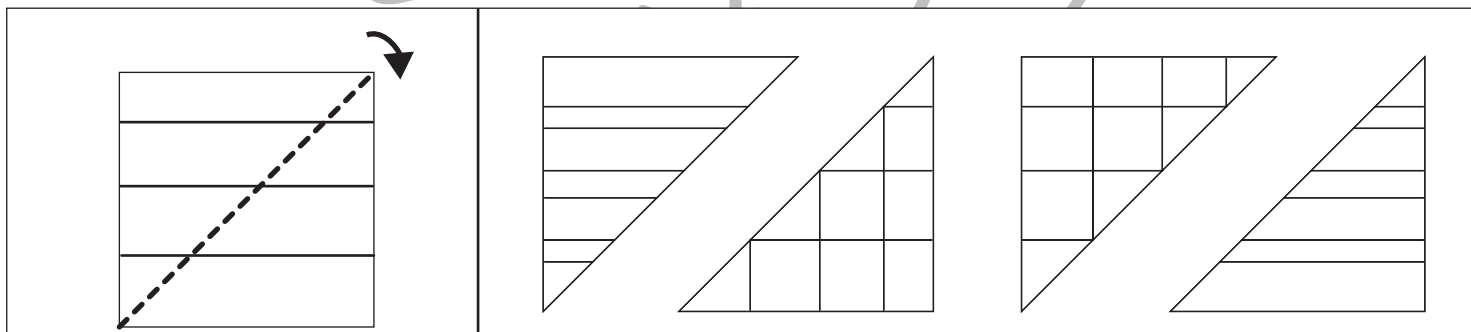
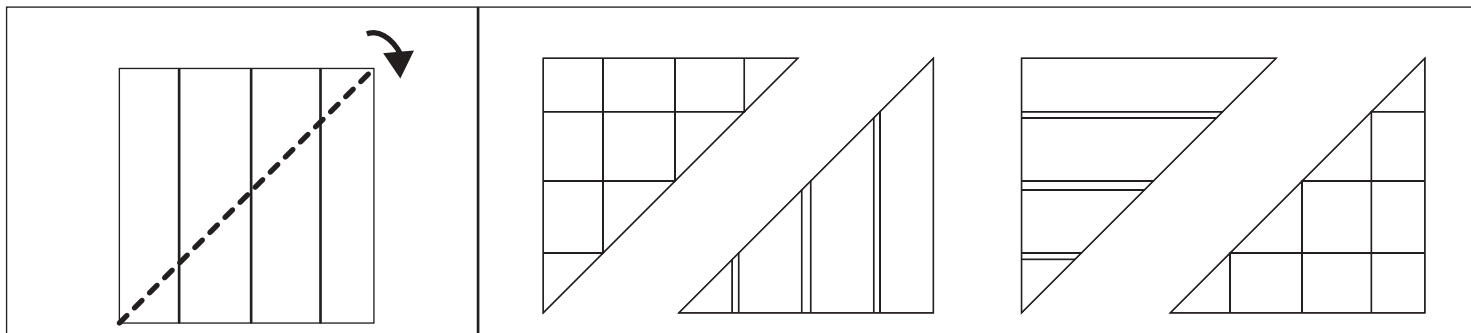


おうちで、よろう。

Study at home. 小学校受験の家庭学習教材

図形：折り重ね 56

左のお手本の点線で矢印の方向へ折り重ねたときの見え方を考えて、右の四角の中から選び○をつけます。



※1. このプリントは、しながわ・目黒こどもスクールのウェブサイトからダウンロードできます。無断複写・引用はご遠慮ください。
 ※2. このプリントを活用したオンライン授業のスケジュールは、しながわ・目黒こどもスクールのウェブサイトでご確認ください。



おうちで、やろう。

Study at home. 小学校受験の家庭学習教材

図形：折り重ね57

左のお手本の点線で矢印の方向へ折り重ねたときの見え方を考えて、右の四角の中から選び○をつけます。

※1. このプリントは、しながわ・目黒こどもスクールのウェブサイトからダウンロードできます。無断複写・引用はご遠慮ください。

※2. このプリントを活用したオンライン授業のスケジュールは、しながわ・目黒こどもスクールのウェブサイトでご確認ください。




















おうちで、やろう。



Study at home. 小学校受験の家庭学習教材













図形：置き換え⑰


上に並んでいる四角がお手本です。下の灰色の中の絵をお手本の下に数字に置き換えて下の四角の中にかきます。右上の自転車から左下のヘリコプターまで順番に進みます。この問題はスピードを意識して取り組みましょう。(1分～1分30秒)













				
1	2	3	4	5

※1. このプリントは、しながわ・目黒こどもスクールのウェブサイトからダウンロードできます。無断複写・引用はご遠慮ください。
 ※2. このプリントを活用したオンライン授業のスケジュールは、しながわ・目黒こどもスクールのウェブサイトでご確認ください。



おうちで、やろう。

Study at home. 小学校受験の家庭学習教材

数量：サイコロ⑪

それぞれの段の四角の中にあるサイコロの目の数を合わせます。横に並んでいる5つの四角の中で、サイコロの目を合わせた数が一番多くなるものを選んで○をつけます。

※1. このプリントは、しながわ・目黒こどもスクールのウェブサイトからダウンロードできます。無断複写・引用はご遠慮ください。

※2. このプリントを活用したオンライン授業のスケジュールは、しながわ・目黒こどもスクールのウェブサイトでご確認ください。



おうちで、やろう。

Study at home. 小学校受験の家庭学習教材

数量：サイコロ⑫

左の太い四角の中の3つのサイコロの目を合わせると10になります。このとき、？マークのサイコロの目はいくつですか。
右の中から選び○をつけます。

--	--	--	--	--

--	--	--	--	--

--	--	--	--	--

--	--	--	--	--

--	--	--	--	--

※1. このプリントは、しながわ・目黒こどもスクールのウェブサイトからダウンロードできます。無断複写・引用はご遠慮ください。
 ※2. このプリントを活用したオンライン授業のスケジュールは、しながわ・目黒こどもスクールのウェブサイトでご確認ください。



おうちで、やろう。

Study at home. 小学校受験の家庭学習教材

数量：サイコロ⑬

左の太い四角の中のサイコロの目を合わせると 15 になります。このとき、？マークのサイコロの目はいくつですか。
右の中から選び○をつけます。

--	--	--	--	--

--	--	--	--	--

--	--	--	--	--

--	--	--	--	--

--	--	--	--	--

※1. このプリントは、しながわ・目黒こどもスクールのウェブサイトでダウンロードができます。無断複写・引用はご遠慮ください。
※2. このプリントを活用したオンライン授業のスケジュールは、しながわ・目黒こどもスクールのウェブサイトでご確認ください。