




# おうちで、やろう。

Study at home. 小学校受験の家庭学習教材


言語：音の数⑭

下の四角の中の絵は音の数が一つずつ増えたり、減ったりして並んでいます。  
記号の書いてあるマスに入る言葉を考えて、下の四角の中から選んでそれぞれの記号をつけます。

	→		→		→	
	←		←		←	



	→		→		→	
	←		←		←	



※1. このプリントは、しながわ・目黒こどもスクールのウェブサイトでダウンロードができます。無断複写・引用はご遠慮ください。  
 ※2. このプリントを活用したオンライン授業のスケジュールは、しながわ・目黒こどもスクールのウェブサイトでご確認ください。



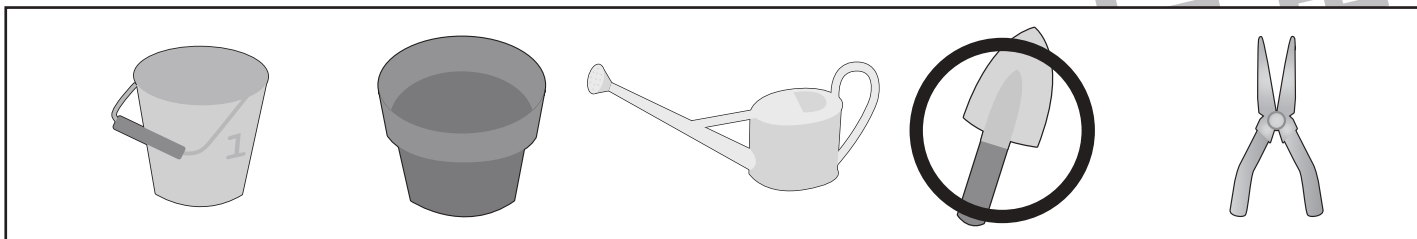
# おうちで、やろう。

Study at home. 小学校受験の家庭学習教材


常識：生活⑳

お話を聞いて、正しいと思うものを選んで○をつけましょう。


お花を植えるときに使う道具に○をつけましょう。



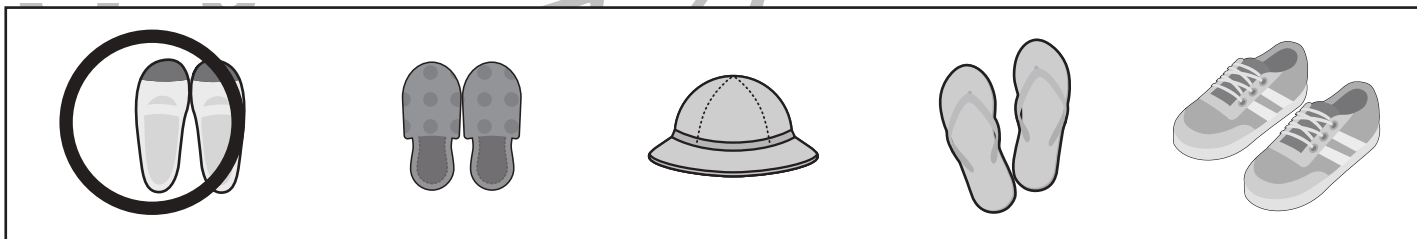
プールに入るときに身につけるものに○をつけましょう。



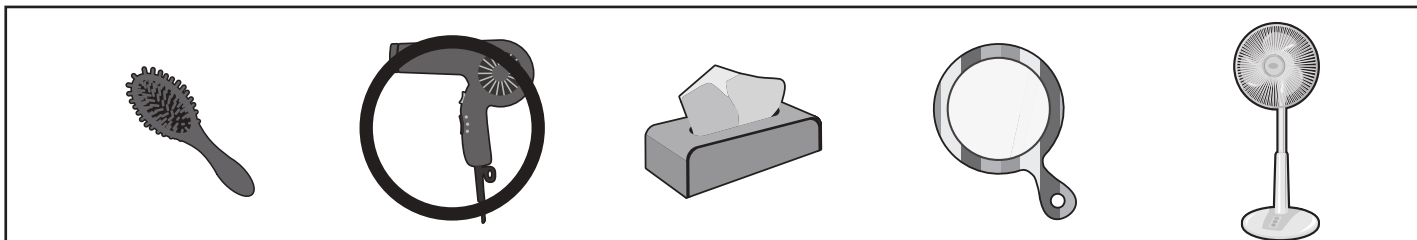
梅雨の季節のお花に○をつけましょう。



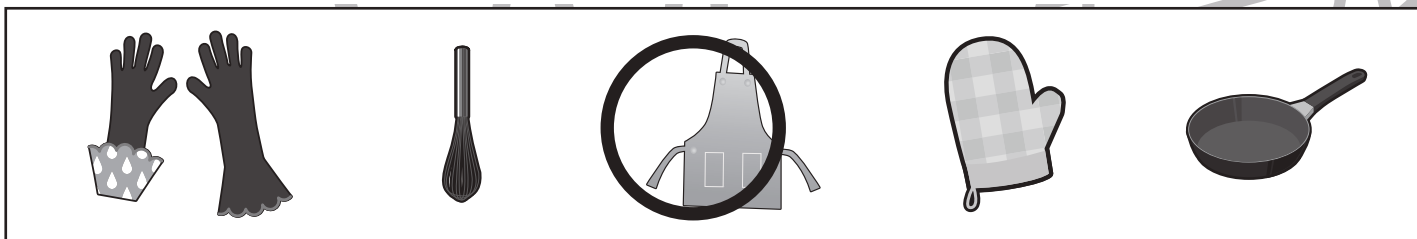
学校の中ではくものに○をつけましょう。



髪の毛をかわかすために使うものに○をつけましょう。



お料理するときに身につけるものに○をつけましょう。



※1. このプリントは、しながわ・目黒こどもスクールのウェブサイトからダウンロードができます。無断複写・引用はご遠慮ください。

※2. このプリントを活用したオンライン授業のスケジュールは、しながわ・目黒こどもスクールのウェブサイトでご確認ください。



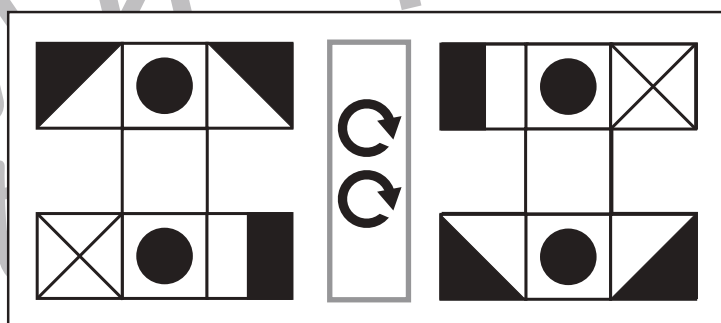
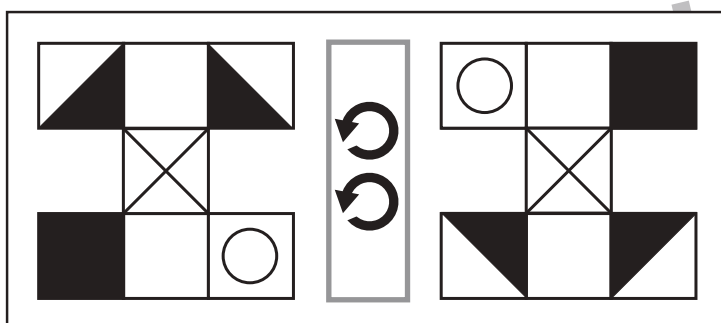
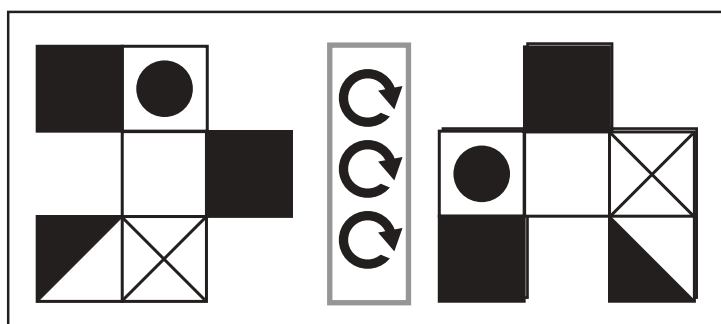
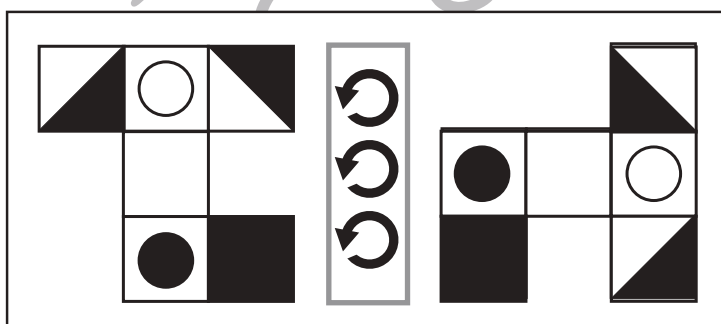
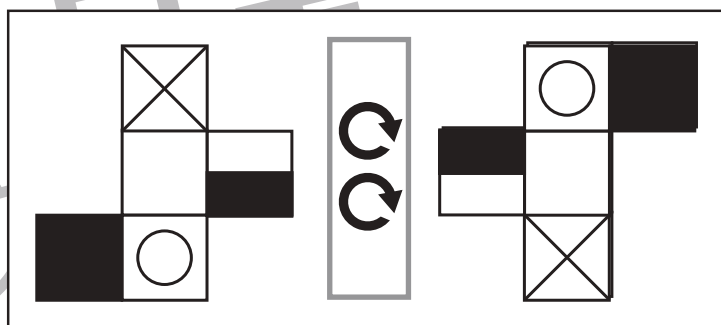
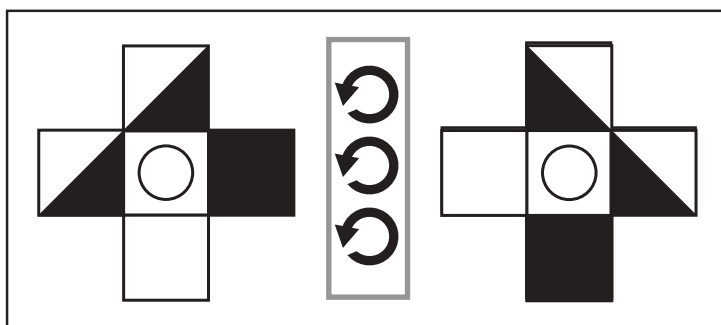
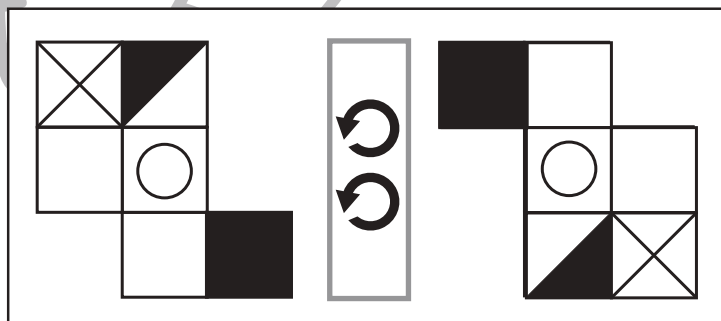
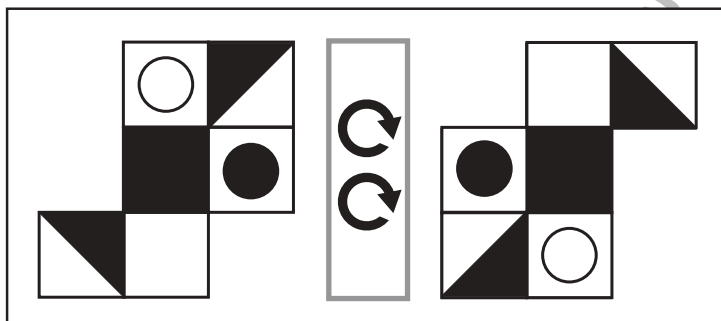
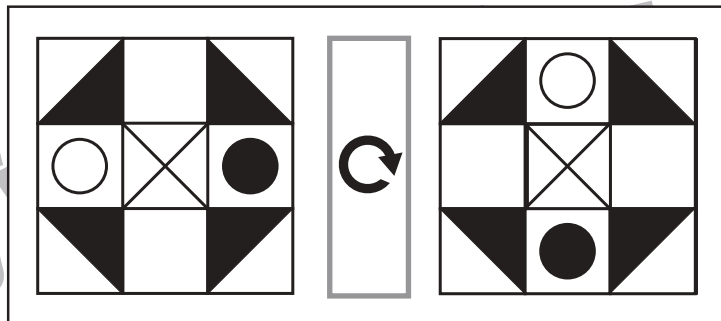
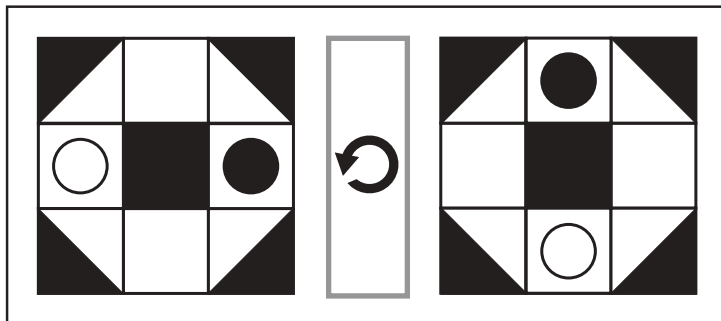


# おうちで、やろう。

Study at home. 小学校受験の家庭学習教材

## 図形：回転④

左の形が真ん中の四角の中にある矢印の方向に矢印の数だけ、倒れたときの形が右にあります。倒れたときの模様がどのように見えるのかを考えて、足りない模様を右の形にかきます。



※1. このプリントは、しながわ・目黒こどもスクールのウェブサイトでダウンロードができます。無断複写・引用はご遠慮ください。

※2. このプリントを活用したオンライン授業のスケジュールは、しながわ・目黒こどもスクールのウェブサイトでご確認ください。



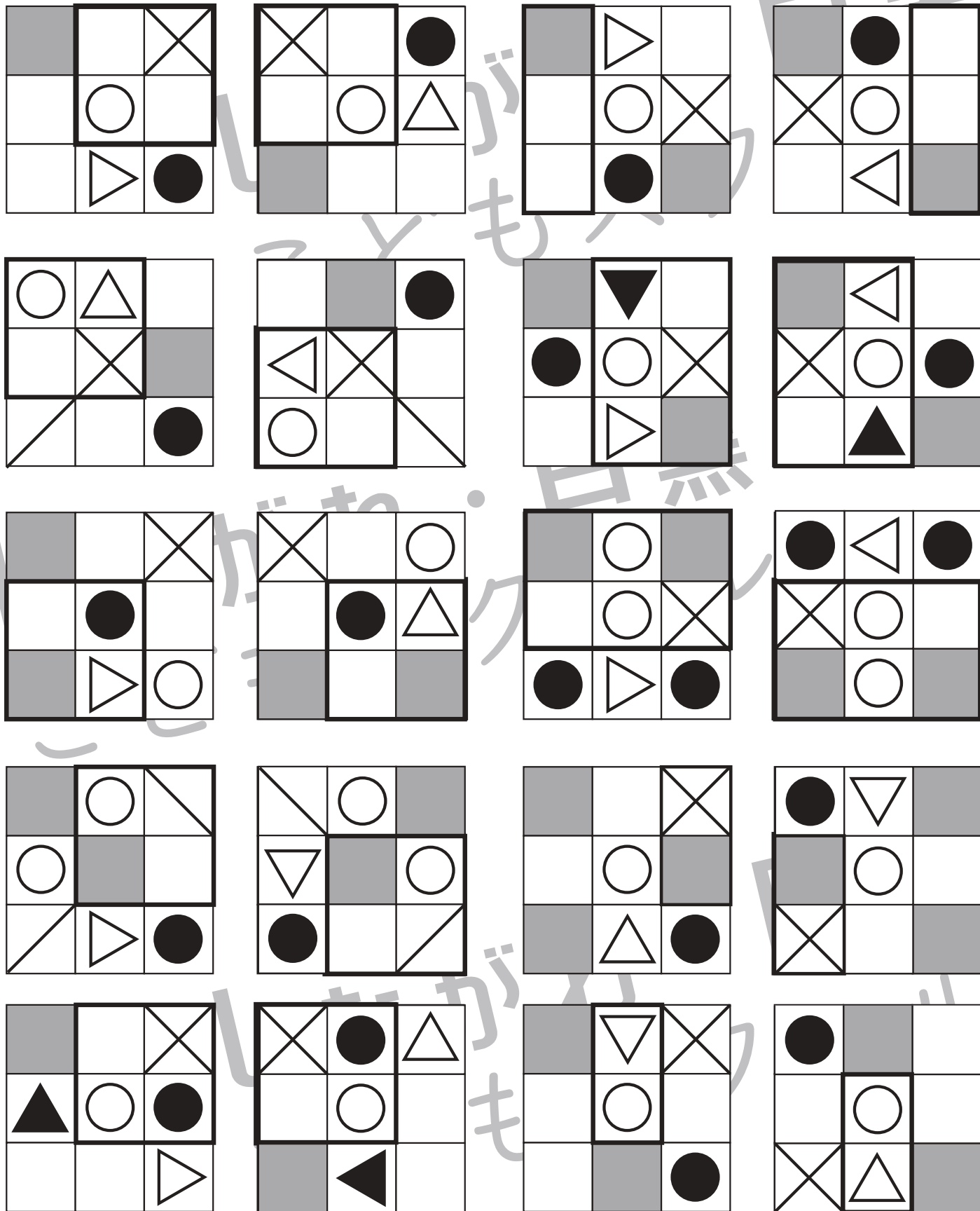


# おうちで、やろう。

Study at home. 小学校受験の家庭学習教材

図形：回転⑤

左の四角のマスには様々な模様が描かれていて、太い四角に囲まれた部分があります。この太い四角が右の四角の場所になるように倒したとき、模様の見え方はどうなりますか。右の四角にかきます。



※1. このプリントは、しながわ・目黒こどもスクールのウェブサイトでダウンロードができます。無断複写・引用はご遠慮ください。

※2. このプリントを活用したオンライン授業のスケジュールは、しながわ・目黒こどもスクールのウェブサイトでご確認ください。















# おうちで、やろう。

Study at home. 小学校受験の家庭学習教材

## 図形：回転 51

左の四角のマスには様々な模様を描かれていて、太い四角に囲まれた部分があります。この太い四角が右の四角の場所になるように倒したとき、模様の見え方はどうなりますか。右の四角にかきます。問題はそれぞれ2問ずつありますので、太い四角の場所を確認しましょう。



※1. このプリントは、しながわ・目黒こどもスクールのウェブサイトでダウンロードができます。無断複写・引用はご遠慮ください。  
※2. このプリントを活用したオンライン授業のスケジュールは、しながわ・目黒こどもスクールのウェブサイトでご確認ください。












# おうちで、やろう。

Study at home. 小学校受験の家庭学習教材

## 図形：置き換え⑱

上に並んでいる四角がお手本です。下の灰色の中の絵をお手本の下に数字に置き換えて下の四角の中にかきます。左上のパンダから右下のブタまで順番に進みます。この問題はスピードを意識して取り組みましょう。(1分～1分30秒)

	1		2		3		4		5
---	---	---	---	---	---	--	---	---	---

	1		3		2		4
	2		5				5
	3		4				1
	4		4		5		
	5		1		4		
	3		2		3		
	2		1		2		
	1		3		1		
	2		2		1		
	4		1		2		
	5		3		3		
	4		5		5		4

※1. このプリントは、しながわ・目黒こどもスクールのウェブサイトでダウンロードができます。無断複写・引用はご遠慮ください。  
 ※2. このプリントを活用したオンライン授業のスケジュールは、しながわ・目黒こどもスクールのウェブサイトでご確認ください。



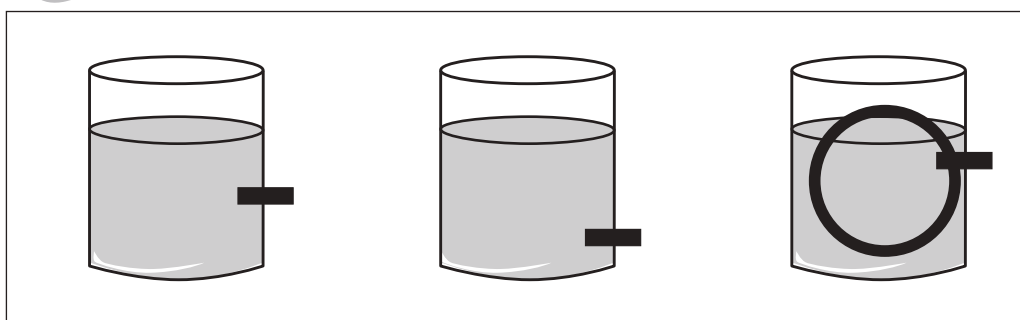









# おうちで、やろう。

Study at home. 小学校受験の家庭学習教材

推理：水量⑩

左の太い四角の中のコップには水が入っています。これはお手本の水量です。右の3つのコップにもお手本と同じ量だけ水が入っています。このとき黒い四角のところで穴をあけて水を抜きます。水を抜いたあと、コップに残った水の量が一番多いコップに○をつけます。



※1. このプリントは、しながわ・目黒こどもスクールのウェブサイトでダウンロードができます。無断複写・引用はご遠慮ください。

※2. このプリントを活用したオンライン授業のスケジュールは、しながわ・目黒こどもスクールのウェブサイトでご確認ください。




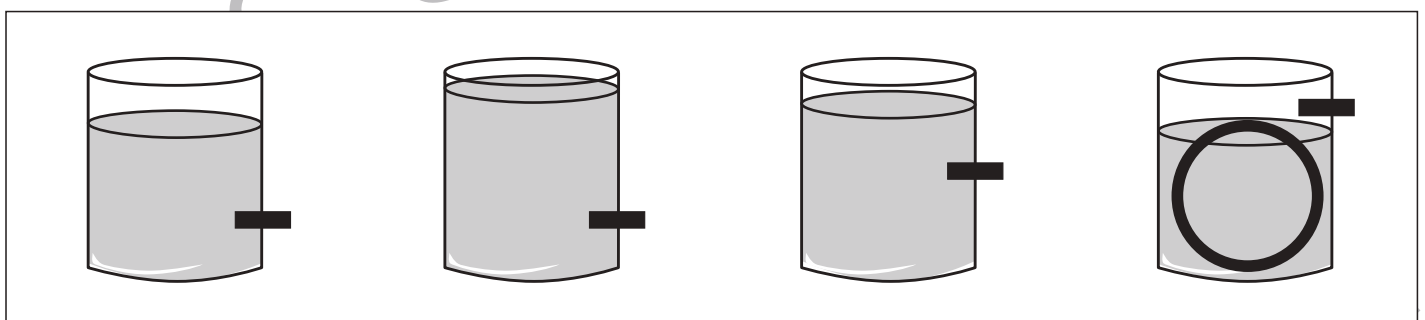
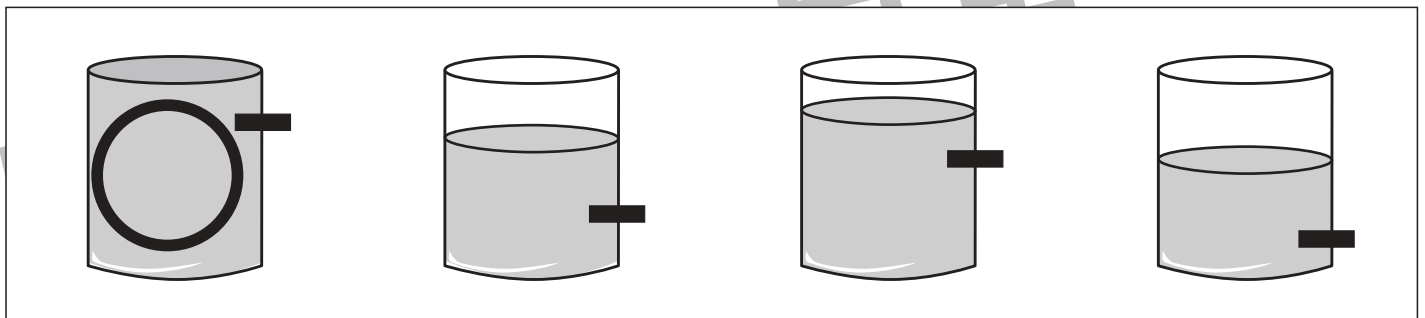

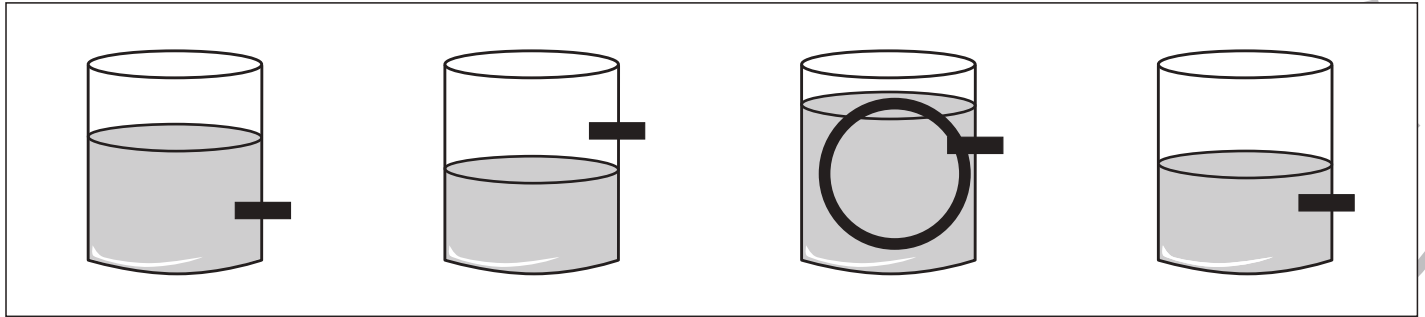


# おうちで、よろう。

Study at home. 小学校受験の家庭学習教材

## 推理：水量⑪

4つのコップの中にそれぞれ水が入っています。それぞれのコップの黒い四角のところを穴をあけて水を抜きます。水を抜いたあと、コップに残った水の量が一番多いコップに○をつけます。



※1. このプリントは、しながわ・目黒こどもスクールのウェブサイトでダウンロードができます。無断複写・引用はご遠慮ください。  
※2. このプリントを活用したオンライン授業のスケジュールは、しながわ・目黒こどもスクールのウェブサイトでご確認ください。



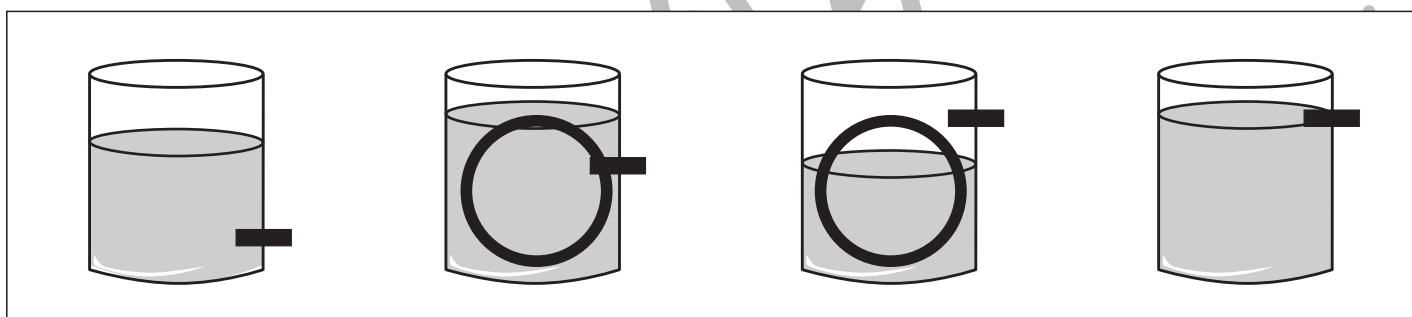

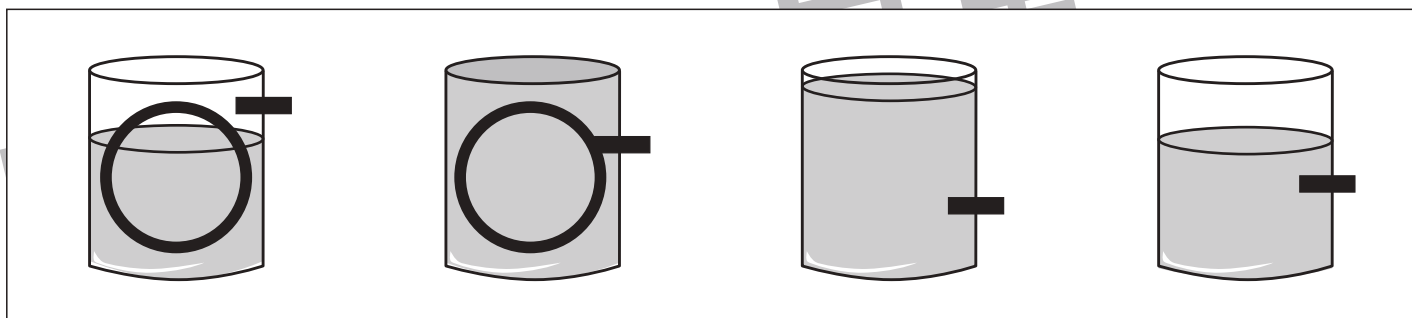

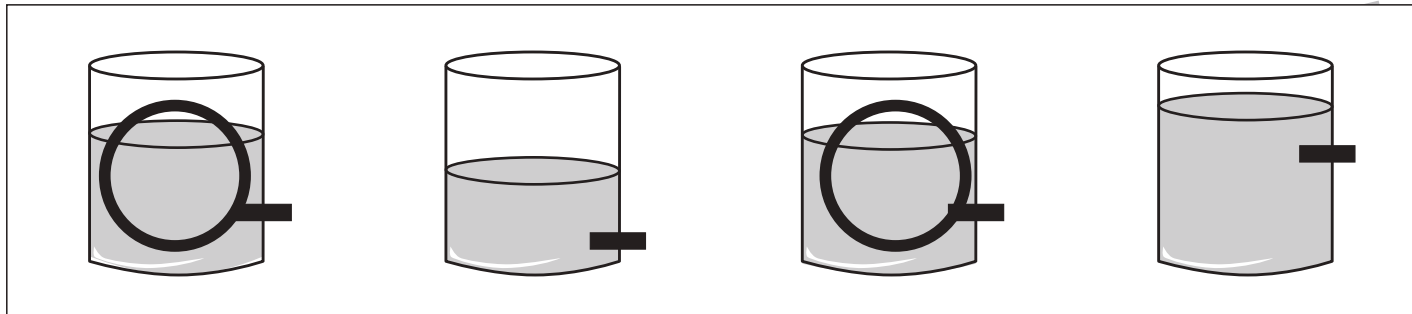


# おうちで、やろう。

Study at home. 小学校受験の家庭学習教材

## 推理：水量⑫

4つのコップの中にそれぞれ水が入っています。それぞれのコップの黒い四角のところを穴をあけて水を抜きます。水を抜いたあと、コップに残った水の量が同じもの2つに○をつけます。



※1. このプリントは、しながわ・目黒こどもスクールのウェブサイトでダウンロードができます。無断複写・引用はご遠慮ください。  
 ※2. このプリントを活用したオンライン授業のスケジュールは、しながわ・目黒こどもスクールのウェブサイトでご確認ください。