

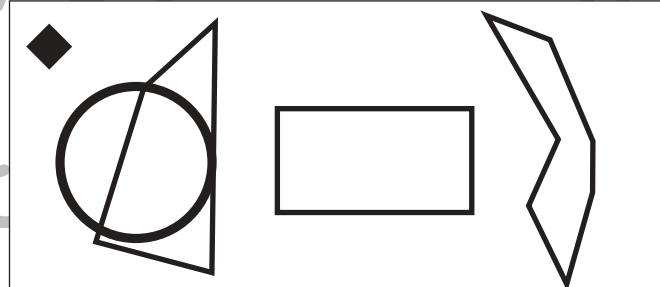
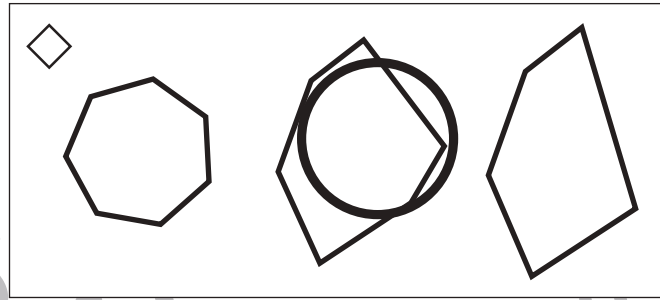

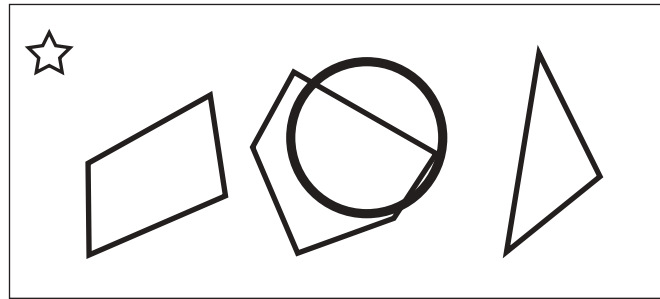


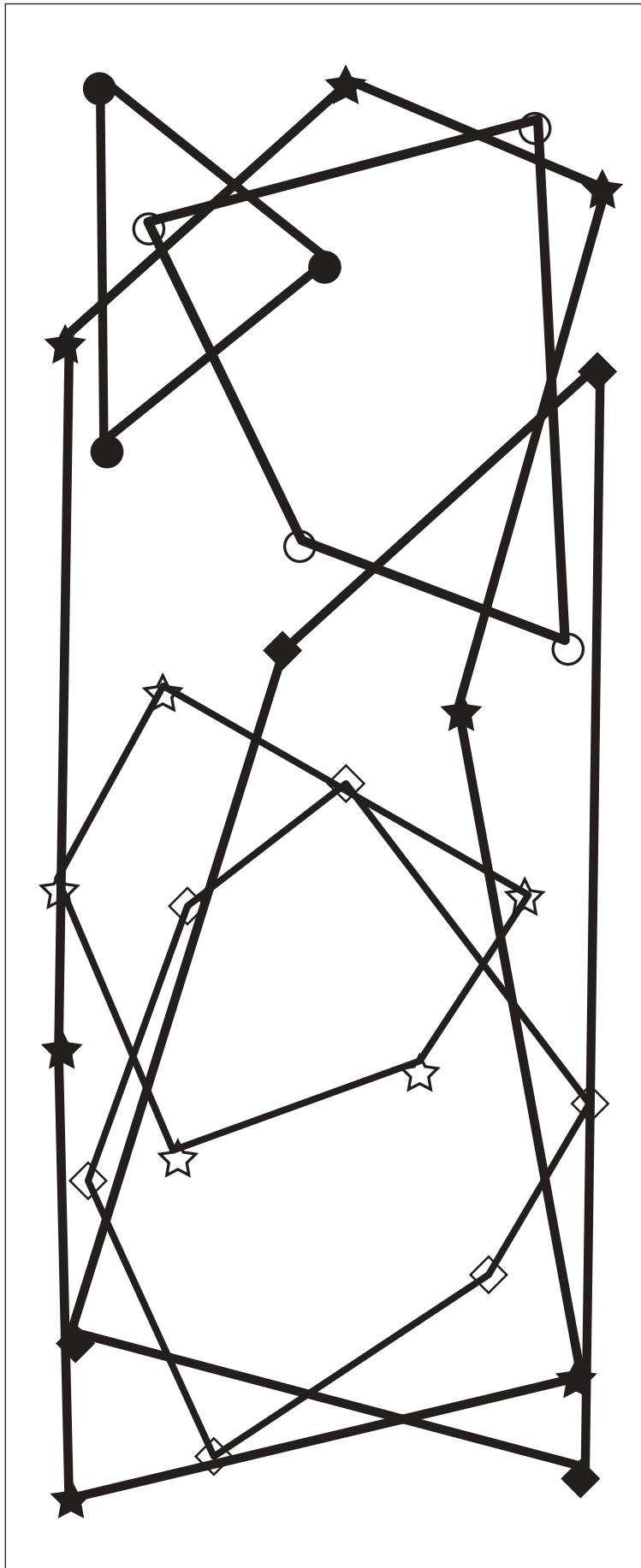


おうちで、やろう。

Study at home. 小学校受験の家庭学習教材

図形：図形発見①

左の四角の中の四角の中にある同じマークを線で結びます。結んでできた形を右のそれぞれのマークがついている四角の中から選んで○をつけます。



※1. このプリントは、しながわ・目黒こどもスクールのウェブサイトからダウンロードできます。無断複写・引用はご遠慮ください。
※2. このプリントを活用したオンライン授業のスケジュールは、しながわ・目黒こどもスクールのウェブサイトでご確認ください。

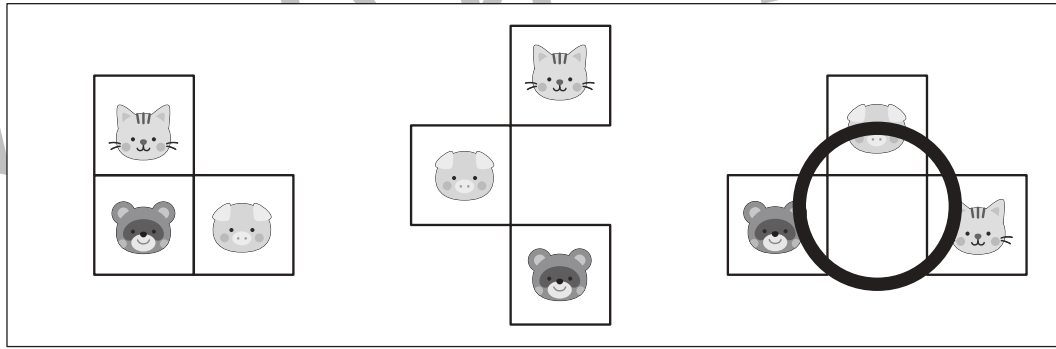
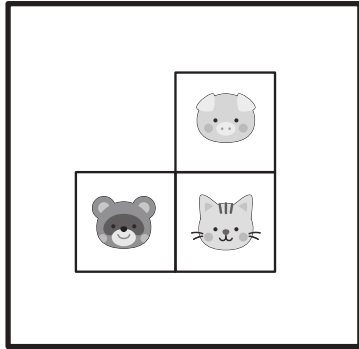


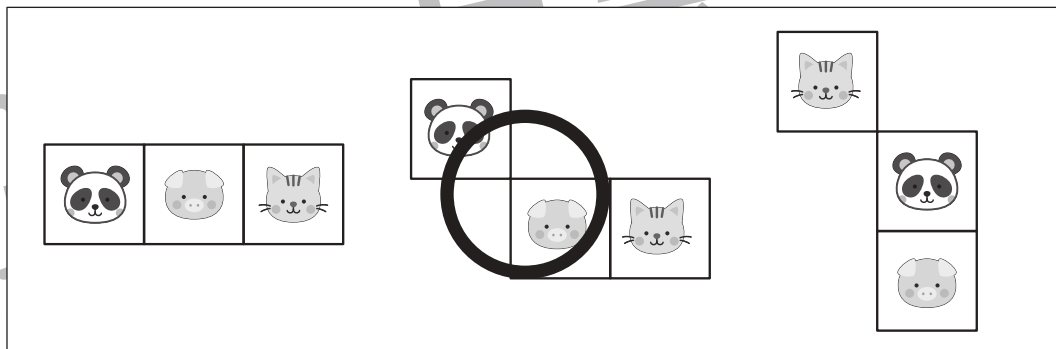

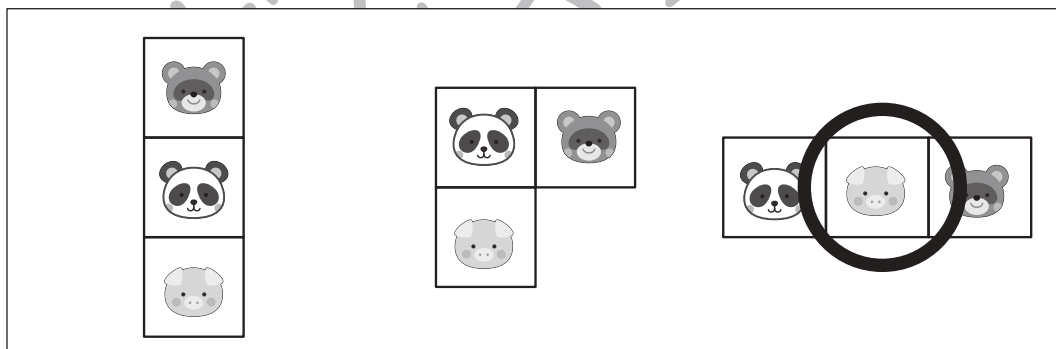
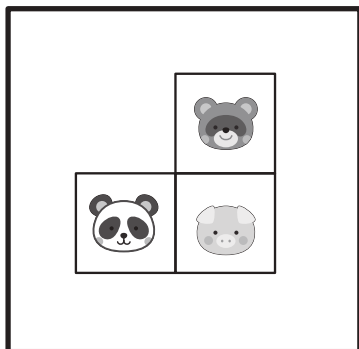
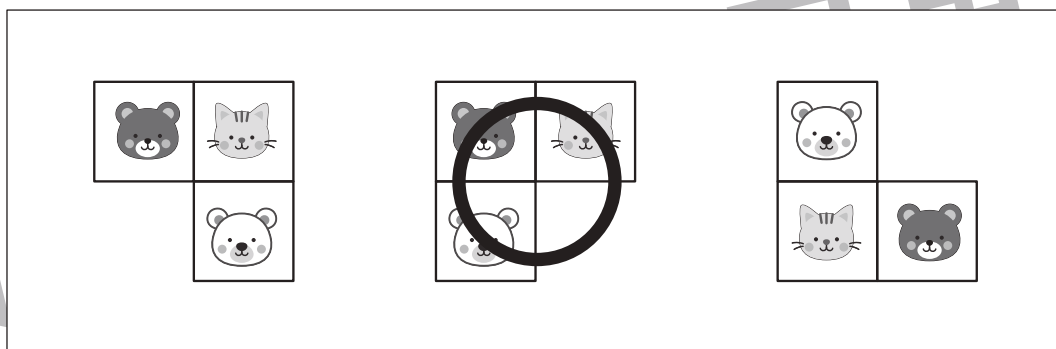



おうちで、やろう。

Study at home. 小学校受験の家庭学習教材

図形：推理②

左の太い四角の中の形は3つの四角いパズルで作ったお手本です。右の四角の中にはパズルを動かした形が並んでいます。この中でお手本のパズルを1つだけ動かしてできる形を見つけて○をつけます。



※1. このプリントは、しながわ・目黒こどもスクールのウェブサイトからダウンロードできます。無断複写・引用はご遠慮ください。
※2. このプリントを活用したオンライン授業のスケジュールは、しながわ・目黒こどもスクールのウェブサイトでご確認ください。





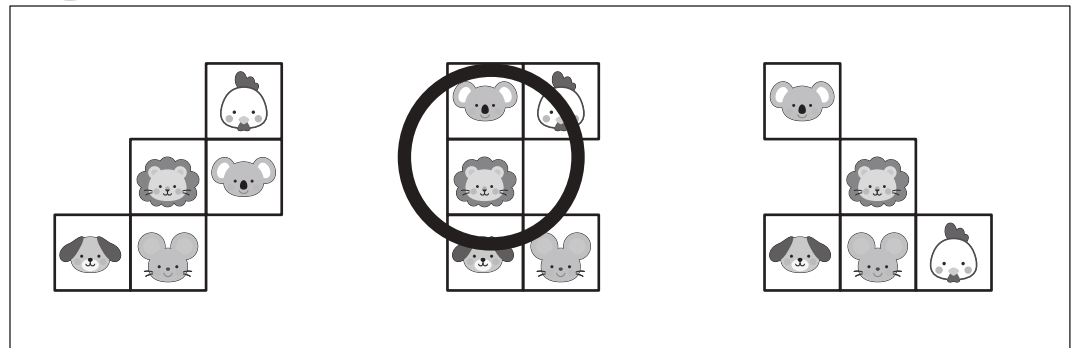









おうちで、やろう。

Study at home. 小学校受験の家庭学習教材

図形：推理③

左の太い四角の中の形はいくつかの四角いパズルで作ったお手本です。右の四角の中にはパズルを動かした形が並んでいます。この中でお手本のパズルを1つだけ動かしてできる形を見つけて○をつけます。



※1. このプリントは、しながわ・目黒こどもスクールのウェブサイトからダウンロードできます。無断複写・引用はご遠慮ください。
※2. このプリントを活用したオンライン授業のスケジュールは、しながわ・目黒こどもスクールのウェブサイトでご確認ください。





おうちで、やろう。

Study at home. 小学校受験の家庭学習教材

図形：推理④

左の太い四角の中の形は3つの四角いパズルで作ったお手本です。右の四角の中にはお手本のパズルを1つ動かした形が並んでいます。どのパズルを動かしたのか考えて動かしたパズル1つを四角で囲みます。

| | | | |
|--|--|--|--|
| | | | |
| | | | |
| | | | |
| | | | |
| | | | |

※1. このプリントは、しながわ・目黒こどもスクールのウェブサイトでダウンロードができます。無断複写・引用はご遠慮ください。

※2. このプリントを活用したオンライン授業のスケジュールは、しながわ・目黒こどもスクールのウェブサイトでご確認ください。

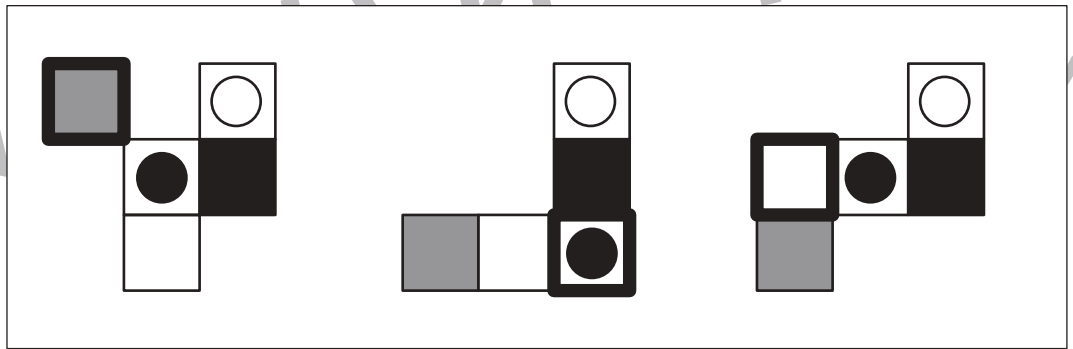
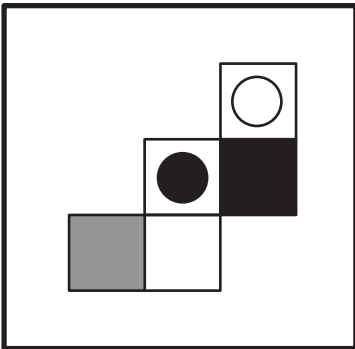
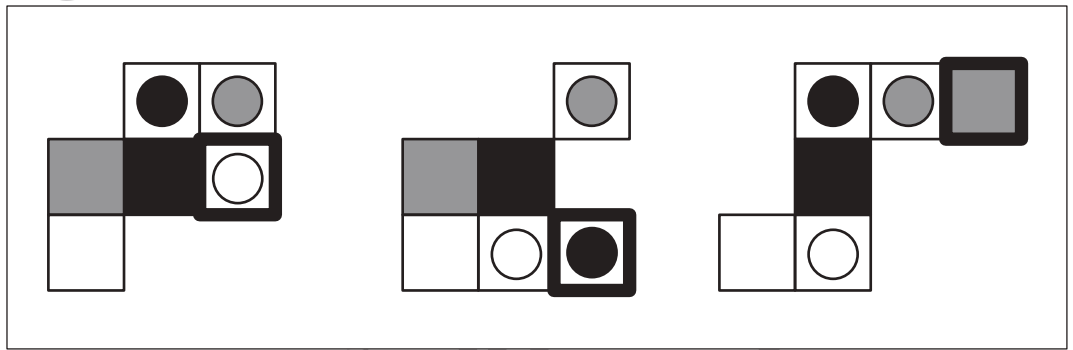
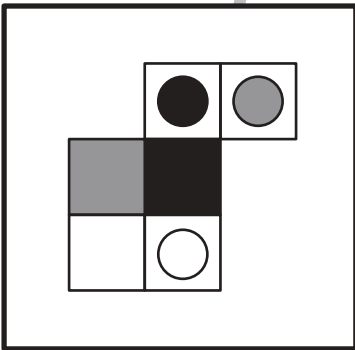
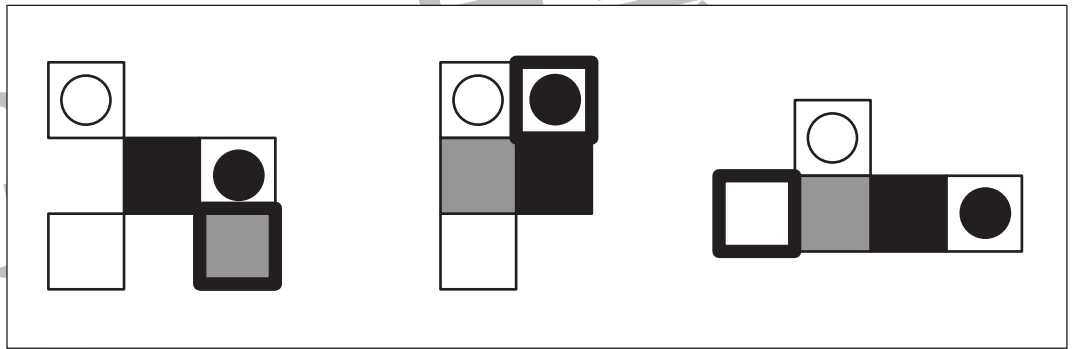
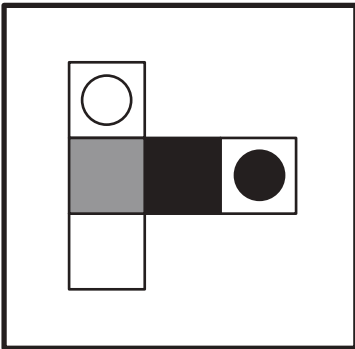
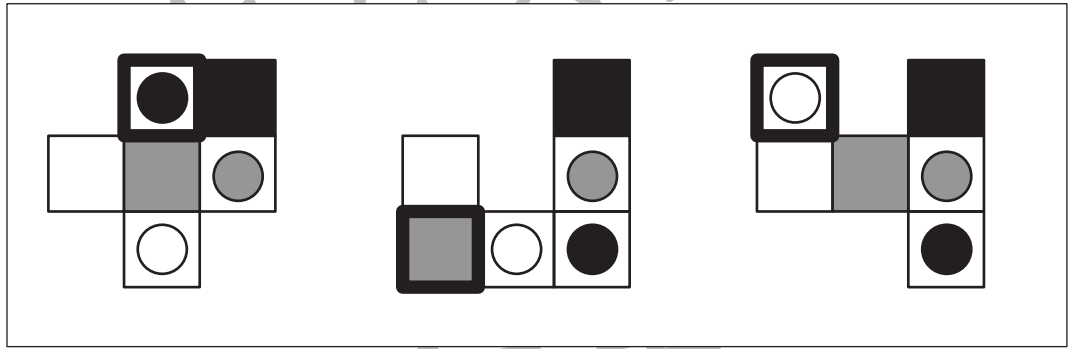
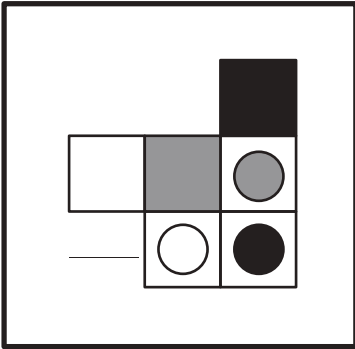
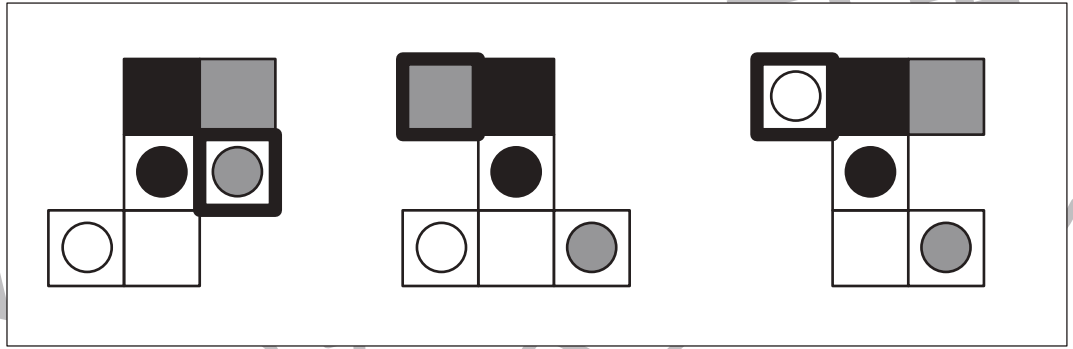
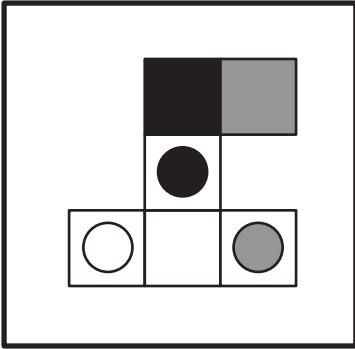


おうちで、やろう。

Study at home. 小学校受験の家庭学習教材

図形：推理⑤

左の太い四角の中の形はいくつかの四角いパズルで作ったお手本です。右の四角の中にはお手本のパズルを1つ動かした形が並んでいます。どのパズルを動かしたのか考えて動かしたパズル1つを四角で囲みます。



※1. このプリントは、しながわ・目黒こどもスクールのウェブサイトでダウンロードができます。無断複写・引用はご遠慮ください。
※2. このプリントを活用したオンライン授業のスケジュールは、しながわ・目黒こどもスクールのウェブサイトでご確認ください。



おうちで、やろう。

Study at home. 小学校受験の家庭学習教材

推理：じゃんけん①⑥

灰色の丸からじゃんけんで進んでいくゲームです。

①②：灰色の丸の場所から丸の中にある手に勝つ手を選んで進んでいき、最後に着いた○を塗ります。

③：灰色の丸の場所から丸の中の手にある手に負ける手を選んで進んでいき、最後に着いた○を塗ります。

①

②

③

※1. このプリントは、しながわ・目黒こどもスクールのウェブサイトでダウンロードができます。無断複写・引用はご遠慮ください。

※2. このプリントを活用したオンライン授業のスケジュールは、しながわ・目黒こどもスクールのウェブサイトでご確認ください。





おうちで、やろう。

Study at home. 小学校受験の家庭学習教材

推理：写真の位置①

女の子が自分の周りに輪に並んでいる動物たちの写真を撮っています。
撮影した写真は右の四角の中にありますが、みんながバラバラに写っています。ライオンが下の丸の中の場所にいるとき○、△、□
の場所にいる動物は誰ですか。下のマスの中から選んでそれぞれの記号をつけます。



| | | |
|--|--|--|
| | | |
| | | |
| | | |

※1. このプリントは、しながわ・目黒こどもスクールのウェブサイトでダウンロードができます。無断複写・引用はご遠慮ください。
※2. このプリントを活用したオンライン授業のスケジュールは、しながわ・目黒こどもスクールのウェブサイトでご確認ください。






おうちで、やろう。

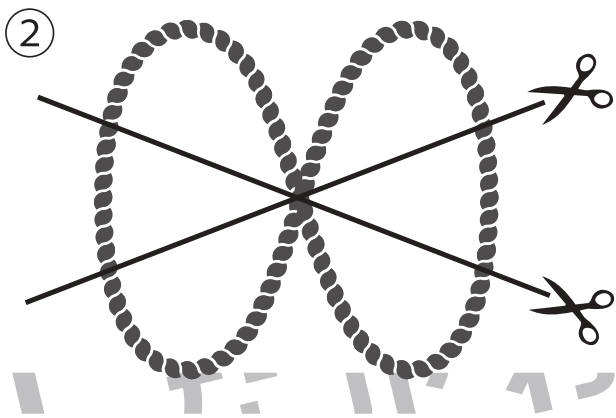
Study at home. 小学校受験の家庭学習教材

推理：紐の数③


1本のロープを線の場所で切った時、何本に分けることができますか。その数だけ四角の中に○をかきます。




$$\bigcirc \times 4$$



$$\bigcirc \times 6$$



$$\bigcirc \times 8$$



$$\bigcirc \times 11$$

※1. このプリントは、しながわ・目黒こどもスクールのウェブサイトでダウンロードができます。無断複写・引用はご遠慮ください。
 ※2. このプリントを活用したオンライン授業のスケジュールは、しながわ・目黒こどもスクールのウェブサイトでご確認ください。

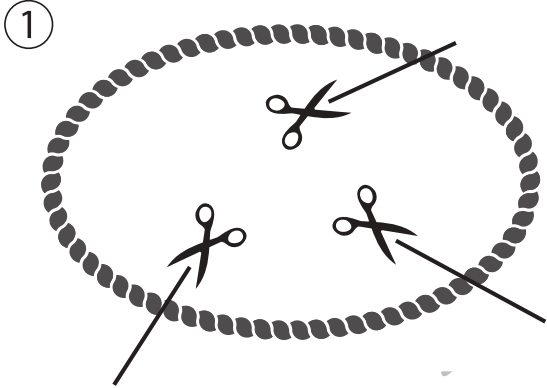


おうちで、やろう。

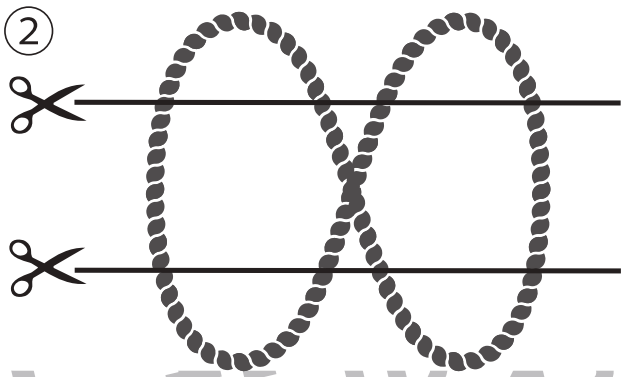
Study at home. 小学校受験の家庭学習教材

推理：紐の数④


1本のロープを線の場所で切った時、何本に分けることができますか。その数だけ四角の中に○をかきます。



$$\bigcirc \times 3$$



$$\bigcirc \times 8$$



$$\bigcirc \times 4$$



$$\bigcirc \times 9$$

※1. このプリントは、しながわ・目黒こどもスクールのウェブサイトでダウンロードができます。無断複写・引用はご遠慮ください。
 ※2. このプリントを活用したオンライン授業のスケジュールは、しながわ・目黒こどもスクールのウェブサイトでご確認ください。