



おうちで、やろう。

Study at home. 小学校受験の家庭学習教材

図形：同図形⑨

左の太い枠の形がお手本です。右の四角の中の4つの形のうち、お手本と同じ形を見つけて○をつけます。向きが変わっているものもありますので気をつけましょう。

| | | | | |
|--|--|--|--|--|
| | | | | |
| | | | | |
| | | | | |
| | | | | |
| | | | | |

※1. このプリントは、しながわ・目黒こどもスクールのウェブサイトでダウンロードができます。無断複写・引用はご遠慮ください。
※2. このプリントを活用したオンライン授業のスケジュールは、しながわ・目黒こどもスクールのウェブサイトでご確認ください。





おうちで、やろう。

Study at home. 小学校受験の家庭学習教材

図形：同図形⑩

左の太い枠の形がお手本です。右の四角の中の4つの形のうち、お手本と同じ形を見つけて○をつけます。向きが変わっているものもありますので気をつけましょう。

| | | | | |
|--|--|--|--|--|
| | | | | |
| | | | | |
| | | | | |
| | | | | |
| | | | | |

※1. このプリントは、しながわ・目黒こどもスクールのウェブサイトからダウンロードできます。無断複写・引用はご遠慮ください。

※2. このプリントを活用したオンライン授業のスケジュールは、しながわ・目黒こどもスクールのウェブサイトでご確認ください。









おうちで、やろう。

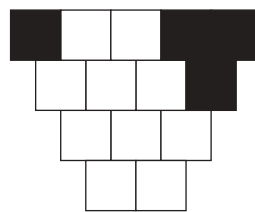
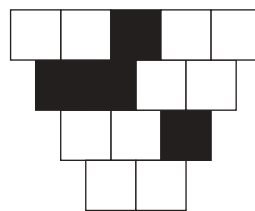
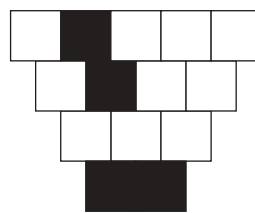
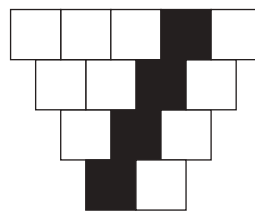
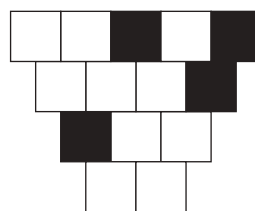
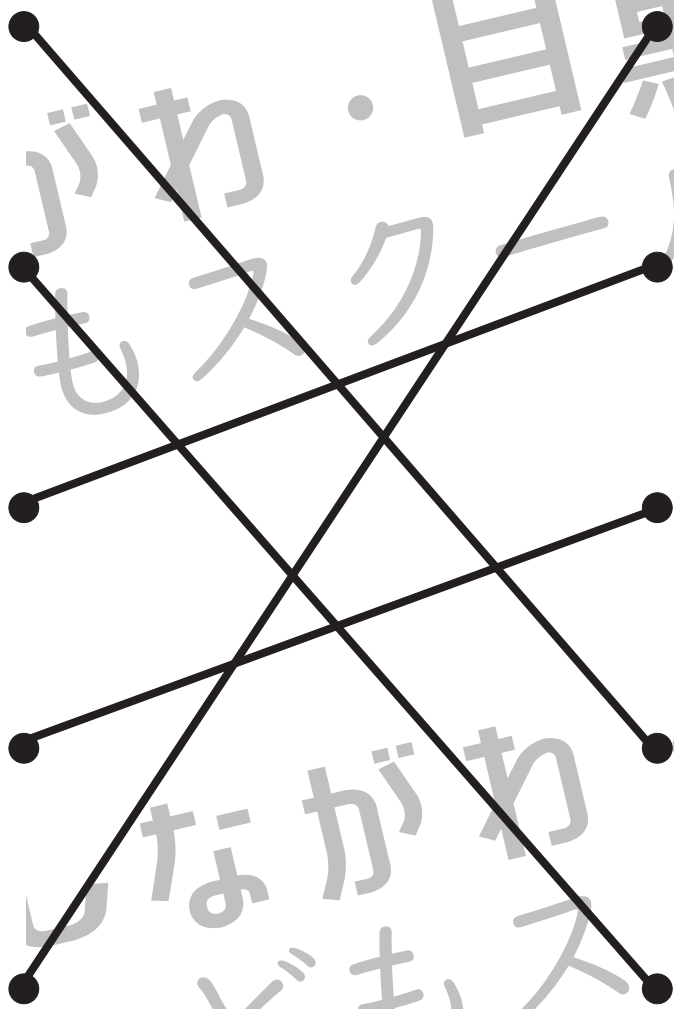
Study at home. 小学校受験の家庭学習教材

推理：条件推理③③

左上にあるのは電話です。この電話は記号がかいてるボタンを押すと黒くなります。この電話を使って動物たちが電話をかけます。電話番号は左上の四角の中のそれぞれの動物の隣にある () の中の記号です。それぞれの動物が電話をかけた後のボタンの様子で正しいものを選んで動物とボタンを線で結びます。



| | | | |
|---|--------|---|--------|
|  | (△◎#♪) |  | (□○♪△) |
|  | (○◎☆◇) |  | (◎☆○◎) |
|  | (☆□♪◇) | | |



※1. このプリントは、しながわ・目黒こどもスクールのウェブサイトでダウンロードができます。無断複写・引用はご遠慮ください。
※2. このプリントを活用したオンライン授業のスケジュールは、しながわ・目黒こどもスクールのウェブサイトでご確認ください。









おうちで、やろう。


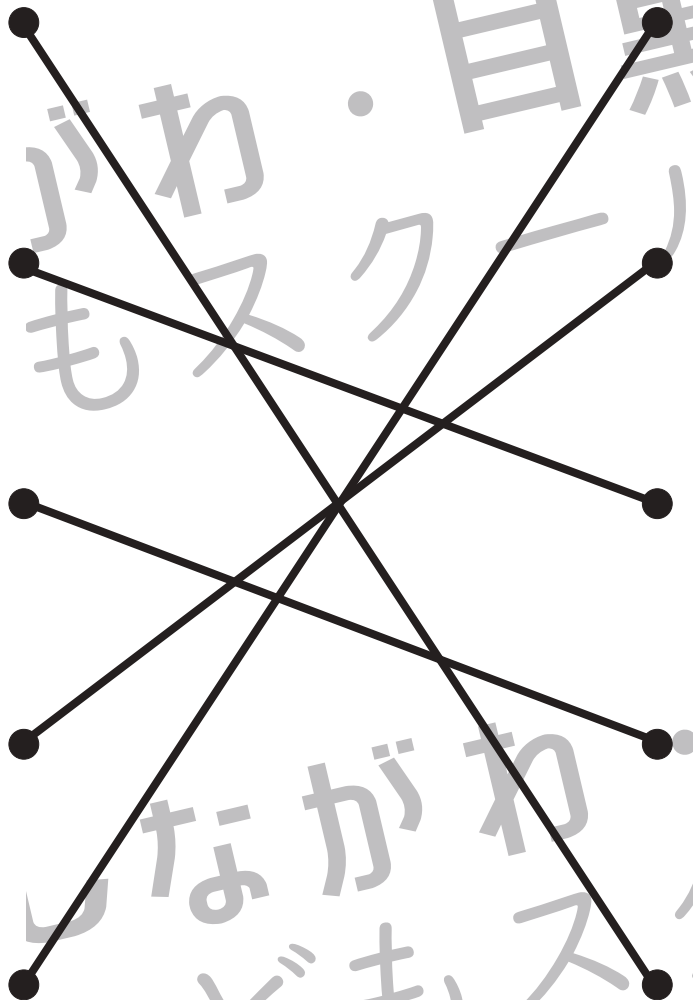
Study at home. 小学校受験の家庭学習教材

推理：条件推理③④

左上にあるのは電話です。この電話は記号がかいてるボタンを押すと黒くなります。この電話を使って動物たちが電話をかけます。電話番号は左上の四角の中のそれぞれの動物の隣にある () の中の記号です。それぞれの動物が電話をかけた後のボタンの様子で正しいものを選んで動物とボタンを線で結びます。



| | | | |
|---|---------|---|----------|
|  | (◎☆□◇♪) |  | (♪□◇◎#) |
|  | (○△◎◇◎) |  | (◇△☆◇◇□) |
|  | (□☆△#♪) | | |



※1. このプリントは、しながわ・目黒こどもスクールのウェブサイトでダウンロードができます。無断複写・引用はご遠慮ください。
※2. このプリントを活用したオンライン授業のスケジュールは、しながわ・目黒こどもスクールのウェブサイトでご確認ください。

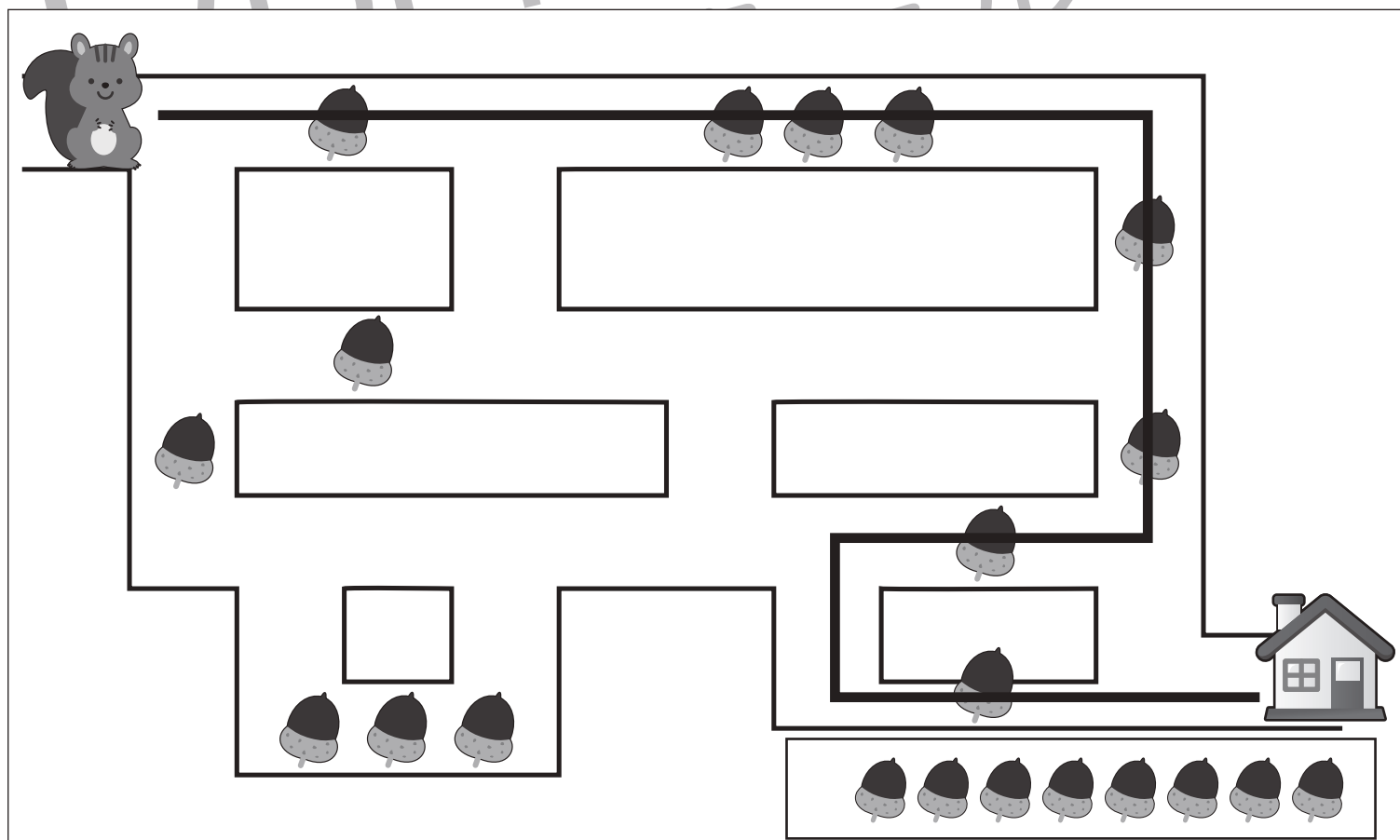
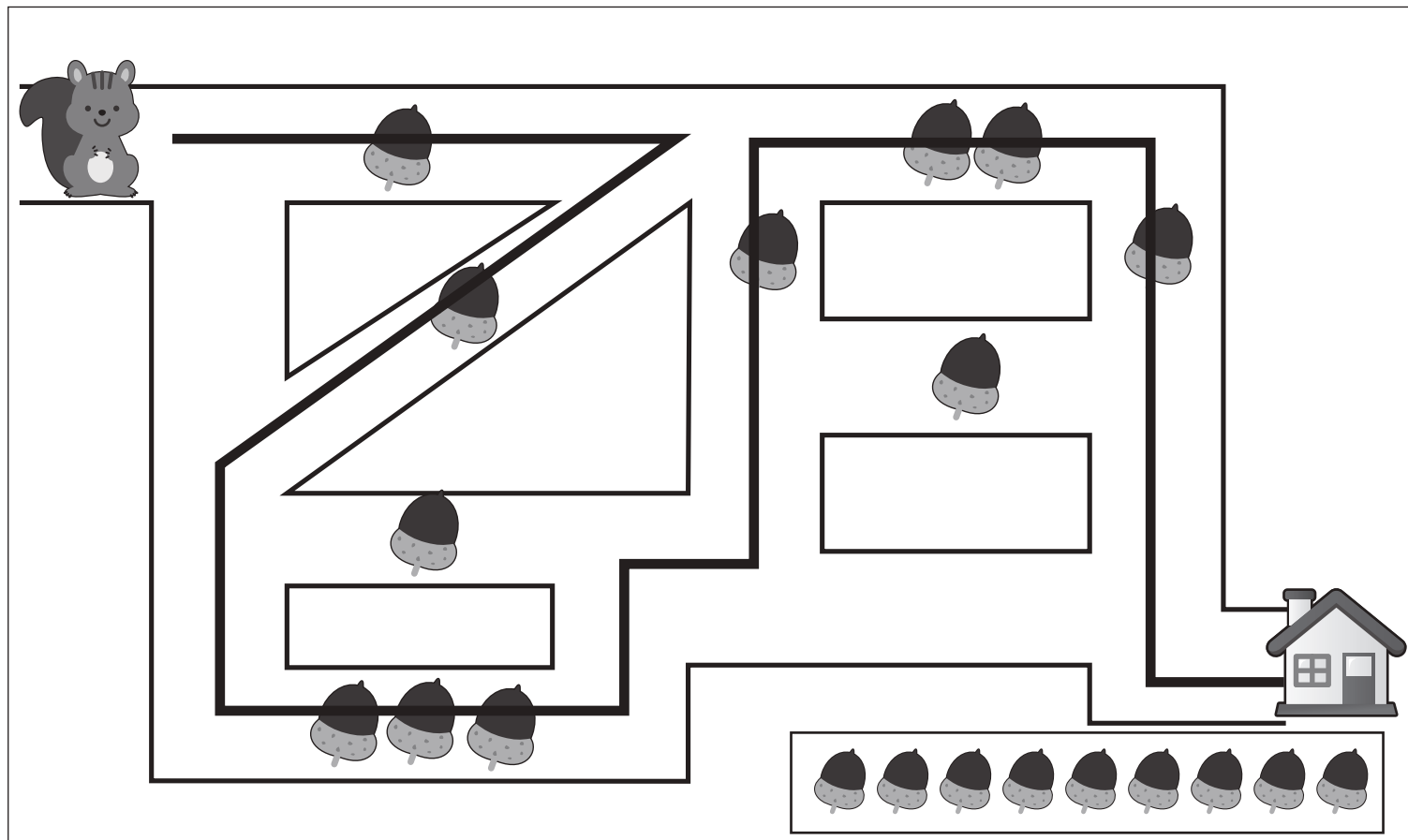


おうちで、やろう。

Study at home. 小学校受験の家庭学習教材

推理：条件迷路②

リスさんは道にあるドングリを拾いながらおうちに帰ります。家に帰った時には右下の四角の中のドングリの数だけ持っていました。
リスさんの通った道に線を引きます。 ※一度通った道は通れません。



※1. このプリントは、しながわ・目黒こどもスクールのウェブサイトでダウンロードができます。無断複写・引用はご遠慮ください。

※2. このプリントを活用したオンライン授業のスケジュールは、しながわ・目黒こどもスクールのウェブサイトでご確認ください。



おうちで、やろう。

Study at home. 小学校受験の家庭学習教材

推理：条件迷路③

クマさんは道にあるヤシの木からヤシの実を取りながらおうちに帰ります。大きなヤシの木からは2つ、小さなヤシの木からは1つずつ取りました。家に帰った時には右下の四角の中のヤシの実の数だけ持っていました。クマさんの通った道に線を引きます。
※一度通った道は通れません。

※1. このプリントは、しながわ・目黒こどもスクールのウェブサイトでダウンロードができます。無断複写・引用はご遠慮ください。
※2. このプリントを活用したオンライン授業のスケジュールは、しながわ・目黒こどもスクールのウェブサイトでご確認ください。



おうちで、やろう。

Study at home. 小学校受験の家庭学習教材


推理：地図の移動⑤

子どもたちが道を歩いていきます。お話の通りに子どもたちが進み、そこで見える動物に印をつけます。

①女の子は●までまっすぐ進み、右に曲がります。曲がって右に見える動物に口をつけます。

②男の子は1つ目の☆で右に曲がり、すぐの★を左に曲がります。●を左に曲がったところで右に見える動物に△をつけます。

③男の子は○までまっすぐ進み、左に曲がります。すぐの☆を右に曲がり、●を左に曲がります。1つ目の☆を通りすぎて右に見える動物に○をつけます。



※1. このプリントは、しながわ・目黒こどもスクールのウェブサイトでダウンロードができます。無断複写・引用はご遠慮ください。

※2. このプリントを活用したオンライン授業のスケジュールは、しながわ・目黒こどもスクールのウェブサイトでご確認ください。



おうちで、やろう。

Study at home. 小学校受験の家庭学習教材


推理：地図の移動⑥

子どもたちが道を歩いていきます。お話の通りに子どもたちが進み、そこで見える動物に印をつけます。

①帽子をかぶった女の子は2つ目の★までまっすぐ進み右に曲がります。☆を通りすぎて左に見える動物に○をつけます。

②手をあげている男の子ははじめの☆で右に曲がり、次の○を右に曲がりそのまま真っすぐ進みます。★を過ぎて左に見える動物に△をつけます。

③後ろを向いている男の子は●を右に曲がり、次の○を左に曲がりました。そのまま真っすぐ進み☆を右に曲がり、左に見える動物に□をつけます。



※1. このプリントは、しながわ・目黒こどもスクールのウェブサイトでダウンロードができます。無断複写・引用はご遠慮ください。

※2. このプリントを活用したオンライン授業のスケジュールは、しながわ・目黒こどもスクールのウェブサイトでご確認ください。