



おうちで、やろう。

Study at home. 小学校受験の家庭学習教材

図形：重ね③①

太い線で囲まれた大きなマスに、その左や右にある細長いマスを、それぞれ矢印の向きにずらしてピッタリ重ねます。このとき、太いマスの中で黒くなる場所を考えて、右側のマスの同じ場所に○を描きましょう。

おてほん 			

※1. このプリントは、しながわ・目黒こどもスクールのウェブサイトでダウンロードができます。無断複写・引用はご遠慮ください。
※2. このプリントを活用したオンライン授業のスケジュールは、しながわ・目黒こどもスクールのウェブサイトでご確認ください。



おうちで、やろう。

Study at home. 小学校受験の家庭学習教材

図形：重ね③②

太い線で囲まれた大きなマスに、その左や右にある細長いマスを、それぞれ矢印の向きにずらしてピッタリ重ねます。このとき、太いマスの中で黒くなる場所を考えて、右側のマスの同じ場所に○を描きましょう。

	→		←	
	→		←	
	→		←	

○			○		
	○	○			
		○	○	○	
			○	○	
		○		○	

	→		←	
	→		←	
	→		←	

	○				
	○	○	○	○	
					○
		○		○	
	○	○	○	○	

	→		←	
	→		←	
	→		←	

				○	○
					○
			○	○	
	○	○			
○	○				

	→		←	
	→		←	
	→		←	

		○	○		○
		○		○	
	○		○		○
	○			○	
	○	○			○

	→		←	
	→		←	
	→		←	

	○		○	○	
		○		○	○
		○	○		○
	○		○		
	○	○			○

	→		←	
	→		←	
	→		←	

		○			
○	○			○	
		○	○		○
○	○				○
		○			○

※1. このプリントは、しながわ・目黒こどもスクールのウェブサイトでダウンロードができます。無断複写・引用はご遠慮ください。
※2. このプリントを活用したオンライン授業のスケジュールは、しながわ・目黒こどもスクールのウェブサイトでご確認ください。



おうちで、やろう。

Study at home. 小学校受験の家庭学習教材

図形：重ね③

太い線で囲まれた大きなマスに、その左や右にある細長いマスを、それぞれ矢印の向きにずらしてピッタリ重ねます。このとき、太いマスの中で黒くなる場所を考えて、右側のマスの同じ場所に○を描きましょう。

	→		←	
	→		←	

		○	○		○	
			○	○	○	○
		○		○	○	○

	→		←	
	→		←	

○	○		○		○
	○	○			○
	○		○	○	
	○		○	○	○

	→		←	
	→		←	

○	○	○	○	○	
	○	○	○		
				○	
○	○			○	○
○	○				○

	→		←	
	→		←	

	○		○		
	○			○	○
○	○	○	○		
				○	○
○	○	○			○

	→		←	
	→		←	

○					○
	○	○	○		○
○					○
	○	○	○	○	

	→		←	
	→		←	

○	○	○	○		○
					○
○	○			○	
					○
	○	○	○	○	

※1. このプリントは、しながわ・目黒こどもスクールのウェブサイトでダウンロードができます。無断複写・引用はご遠慮ください。
※2. このプリントを活用したオンライン授業のスケジュールは、しながわ・目黒こどもスクールのウェブサイトでご確認ください。

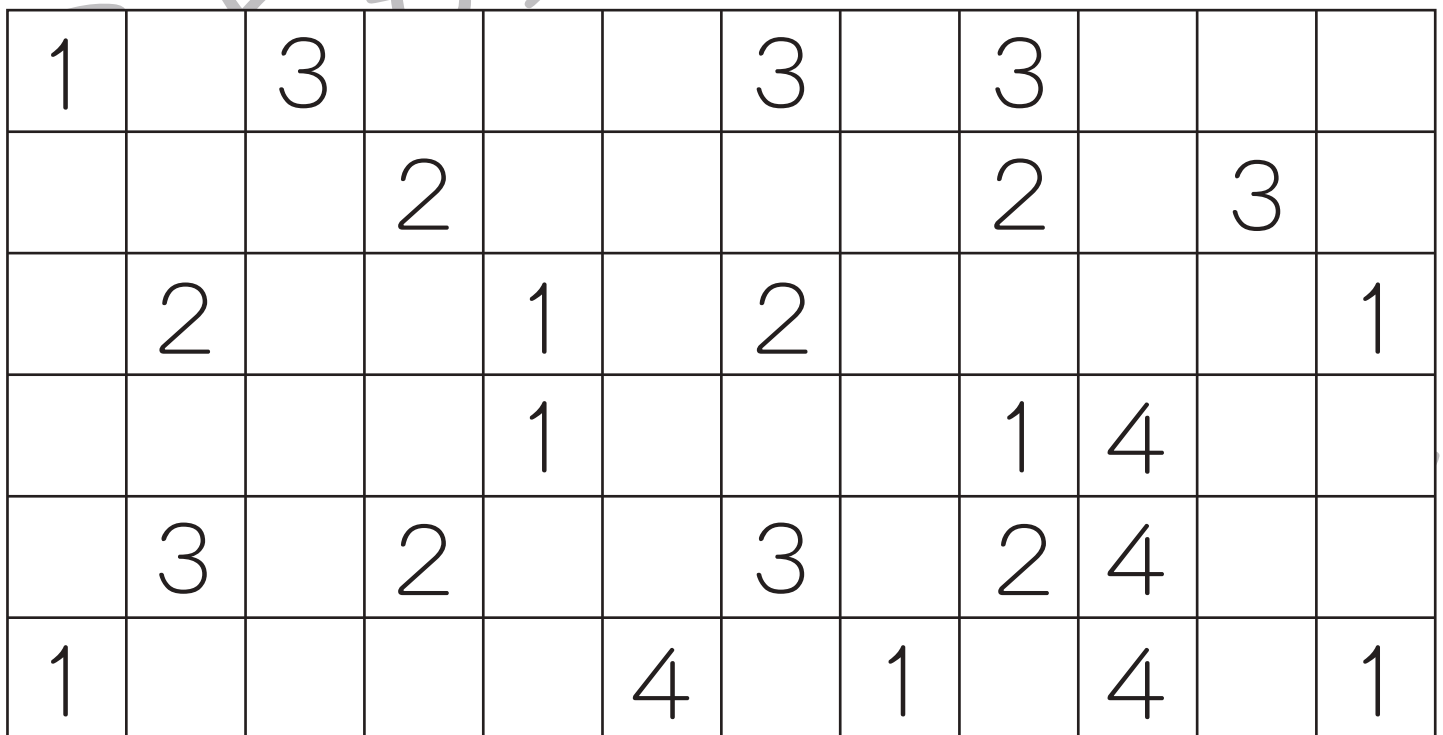
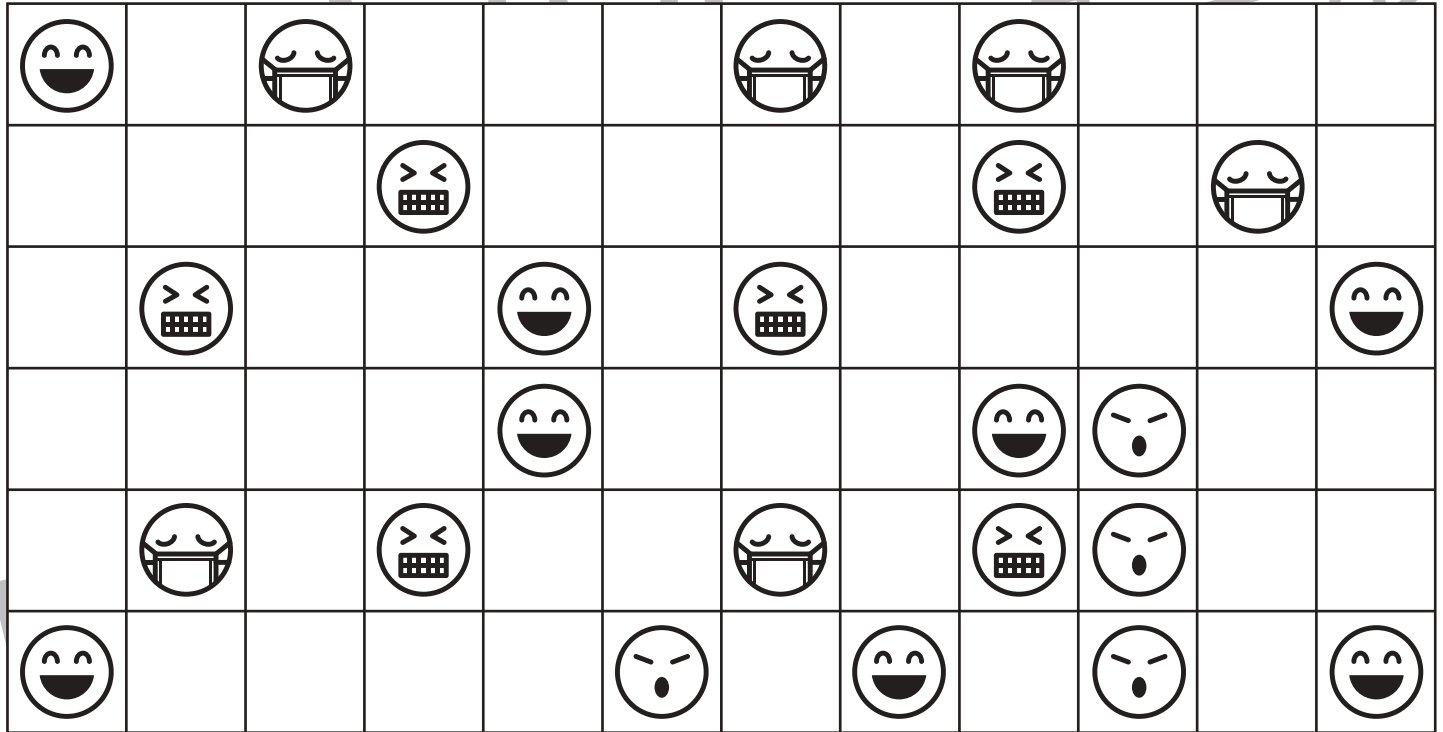
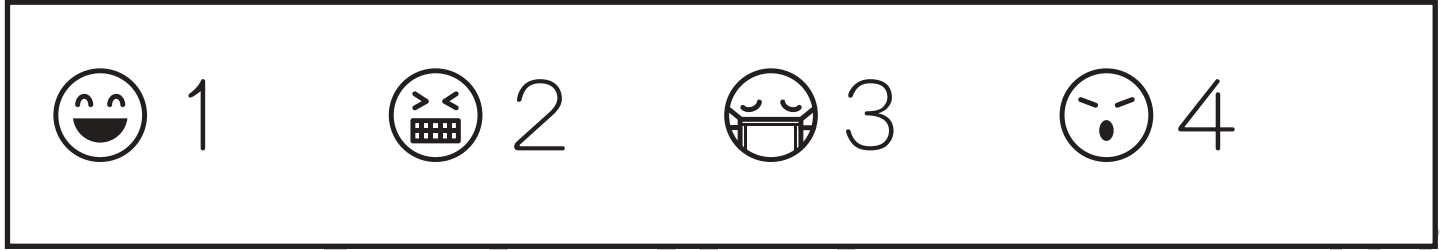


おうちで、やろう。

Study at home. 小学校受験の家庭学習教材

図形：置き換え⑬

上の太枠がお手本です。それぞれの絵を、すぐ横にある数字に変身させます。上のマスの絵の場所をよく見て、下のマスに答えを描きましょう。この問題は時間をはかってやりましょう。(目安2分～2分30秒)



※1. このプリントは、しながわ・目黒こどもスクールのウェブサイトでダウンロードができます。無断複写・引用はご遠慮ください。

※2. このプリントを活用したオンライン授業のスケジュールは、しながわ・目黒こどもスクールのウェブサイトでご確認ください。













































おうちで、やろう。

Study at home. 小学校受験の家庭学習教材

図形：置き換え⑳

上の太枠がお手本です。それぞれの絵を、すぐ横にある数字に変身させます。上のマスの絵の場所をよく見て、下のマスに答えを描きましょう。変身させる絵は一段に1つずつあります。この問題は時間をはかってやりましょう。(目安1分～1分30秒)

 1	 2	 3
 4	 5	 6

6		3		4				1	5	2	
	2	5			3	4		6	1		
			3	1		5	2	6			4
1			4			3	2	6			5
	4		3	5				2	6	1	
3		6			2	5		1		4	

※1. このプリントは、しながわ・目黒こどもスクールのウェブサイトからダウンロードできます。無断複写・引用はご遠慮ください。

※2. このプリントを活用したオンライン授業のスケジュールは、しながわ・目黒こどもスクールのウェブサイトでご確認ください。



おうちで、やろう。

Study at home. 小学校受験の家庭学習教材

推理：系列完成⑮

太枠の口の記号の並び方を、そのまま続けて描いていきます。この問題は時間をはかってやりましょう。(目安1分～1分30秒)

○	△	△	◎	○	△	◎	
							○
○	◎	△	△	○	◎	△	△
△	◎	○	△	◎	○	△	
△	△	○	◎	△	△	○	◎
◎							
○	△	◎	○	△	◎	◎	
							○

※1. このプリントは、しながわ・目黒こどもスクールのウェブサイトでダウンロードができます。無断複写・引用はご遠慮ください。
 ※2. このプリントを活用したオンライン授業のスケジュールは、しながわ・目黒こどもスクールのウェブサイトでご確認ください。

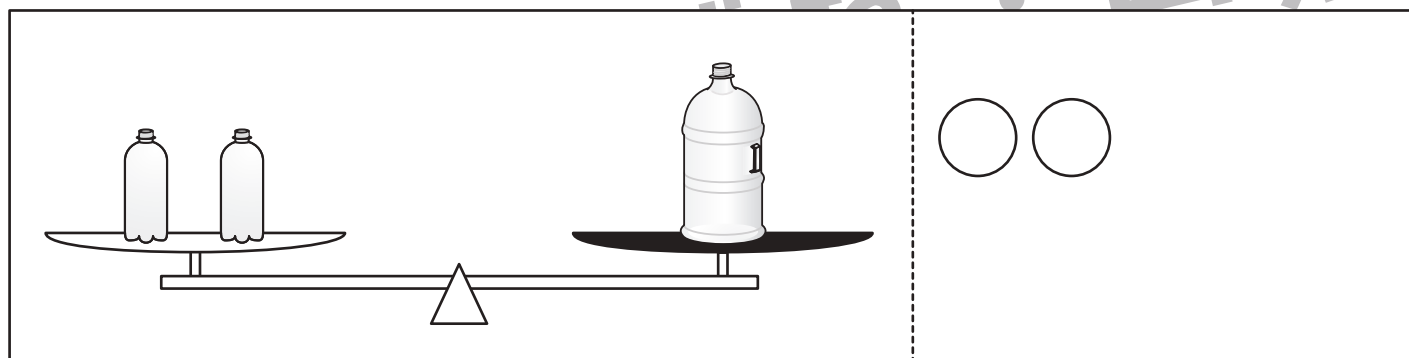

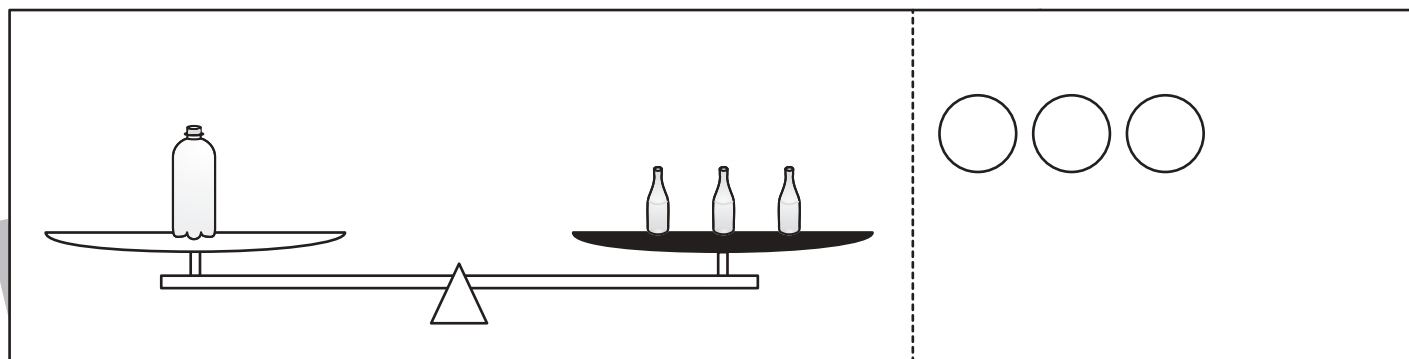





おうちで、やろう。

Study at home. 小学校受験の家庭学習教材

推理：重さ⑭

上の太枠の中を見てください。大きなボトルは小瓶 10 ばい分の重さ、少し大きめのボトルは小瓶 6 ばい分の重さです。シーソーが釣り合うようにするのには右側の黒い皿にあといくつ小瓶が必要かを考えます。その数だけ点線の右に○を描きましょう。



※1. このプリントは、しながわ・目黒こどもスクールのウェブサイトでダウンロードができます。無断複写・引用はご遠慮ください。

※2. このプリントを活用したオンライン授業のスケジュールは、しながわ・目黒こどもスクールのウェブサイトでご確認ください。



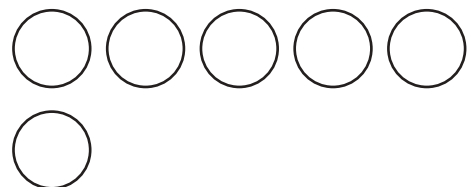

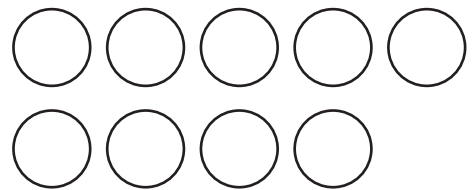
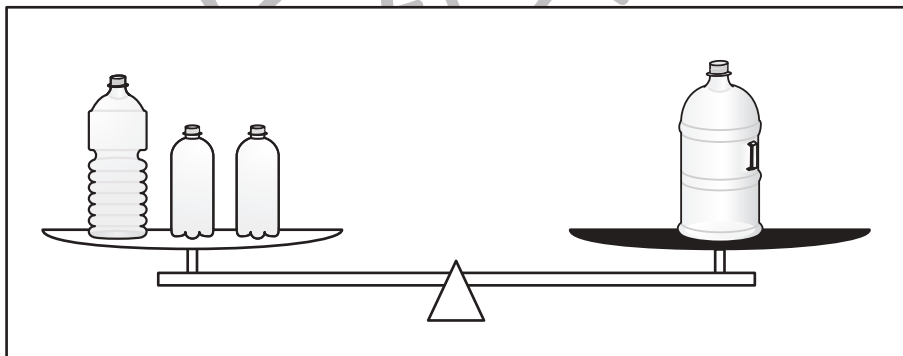
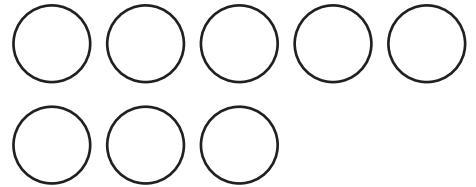
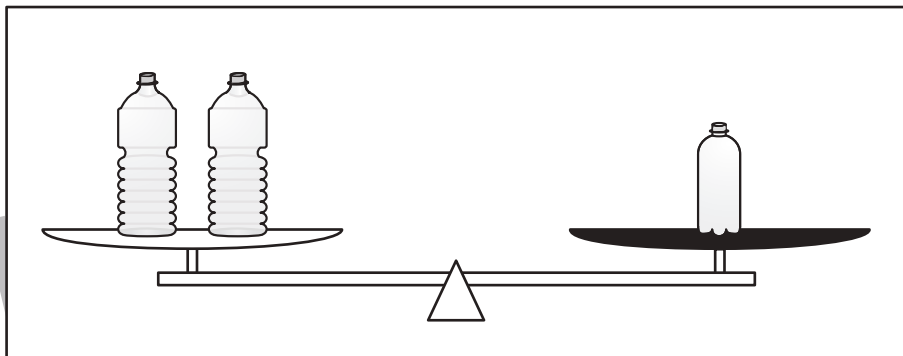

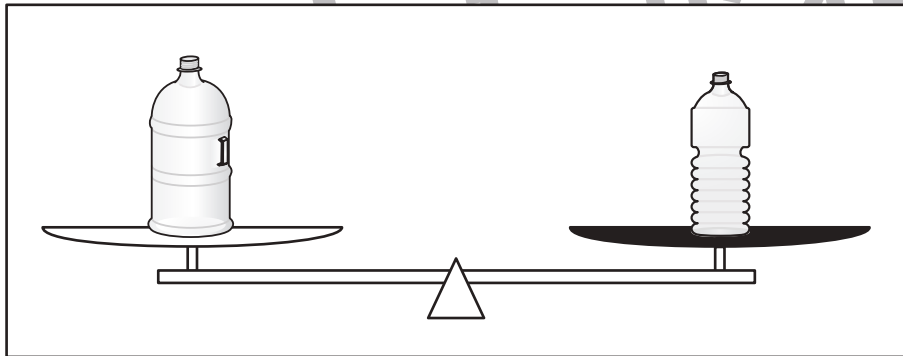





おうちで、やろう。

Study at home. 小学校受験の家庭学習教材

推理：重さ⑮

上の太枠の中を見てください。左のボトルは小瓶 10 ばい分の重さ、真ん中のボトルは小瓶 7 ばい分の重さ、右のボトルは小瓶 6 ばい分の重さです。シーソーが釣り合うようにするの右側の黒い皿にあといくつ小瓶が必要かを考えます。その数だけ点線の右に○を描きましょう。



※ 1. このプリントは、しながわ・目黒こどもスクールのウェブサイトでダウンロードができます。無断複写・引用はご遠慮ください。
※ 2. このプリントを活用したオンライン授業のスケジュールは、しながわ・目黒こどもスクールのウェブサイトでご確認ください。




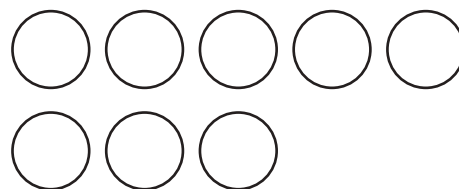



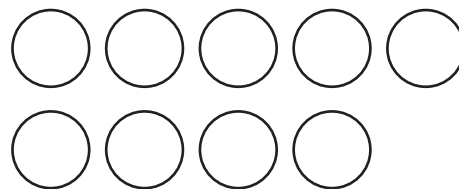
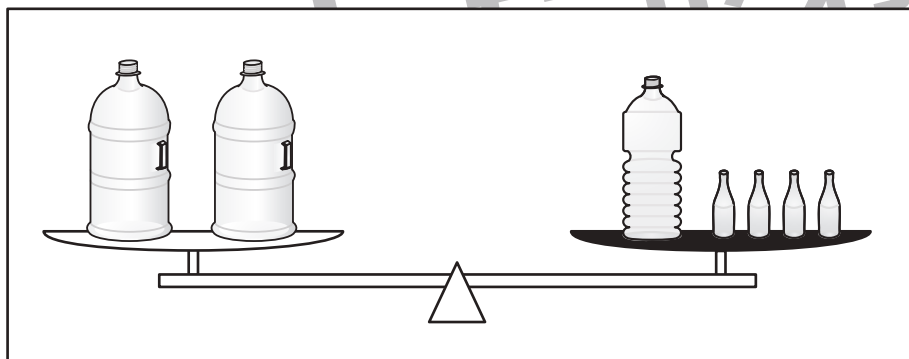





おうちで、やろう。

Study at home. 小学校受験の家庭学習教材

推理：重さ⑬

上の太枠の中を見てください。左のボトルは小瓶 10 ばい分の重さ、真ん中のボトルは小瓶 7 ばい分の重さ、右のボトルは小瓶 6 ばい分の重さです。シーソーが釣り合うようにするの右側の黒い皿にあといくつ小瓶が必要かを考えます。その数だけ点線の右に○を描きましょう。



※ 1. このプリントは、しながわ・目黒こどもスクールのウェブサイトでダウンロードができます。無断複写・引用はご遠慮ください。
※ 2. このプリントを活用したオンライン授業のスケジュールは、しながわ・目黒こどもスクールのウェブサイトでご確認ください。

