



おうちで、やろう。

Study at home. 小学校受験の家庭学習教材

図形：構成③⑩

左の太い四角の中がお手本です。右の四角の中で灰色の部分がお手本と同じ広さのものを一つつけて○をつけます。

--	--	--	--	--

--	--	--	--	--

--	--	--	--	--

--	--	--	--	--

--	--	--	--	--

※1. このプリントは、しながわ・目黒こどもスクールのウェブサイトでダウンロードができます。無断複写・引用はご遠慮ください。
 ※2. このプリントを活用したオンライン授業のスケジュールは、しながわ・目黒こどもスクールのウェブサイトでご確認ください。

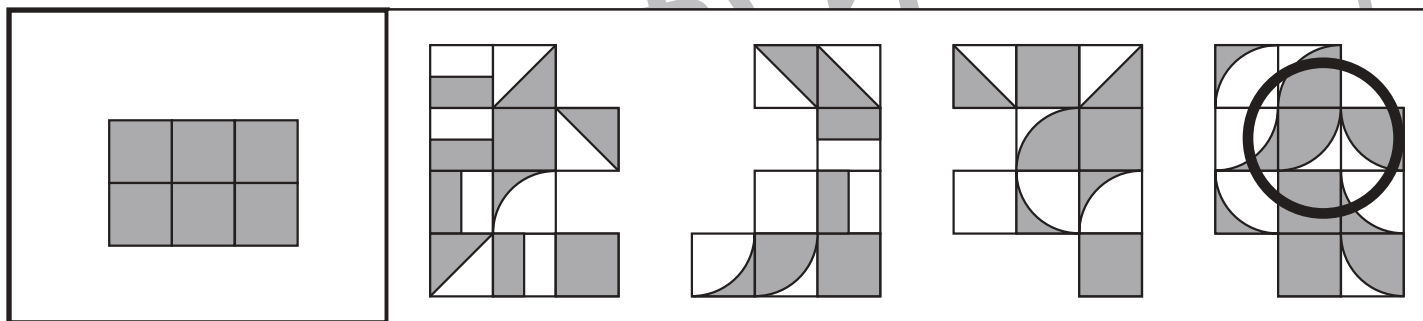

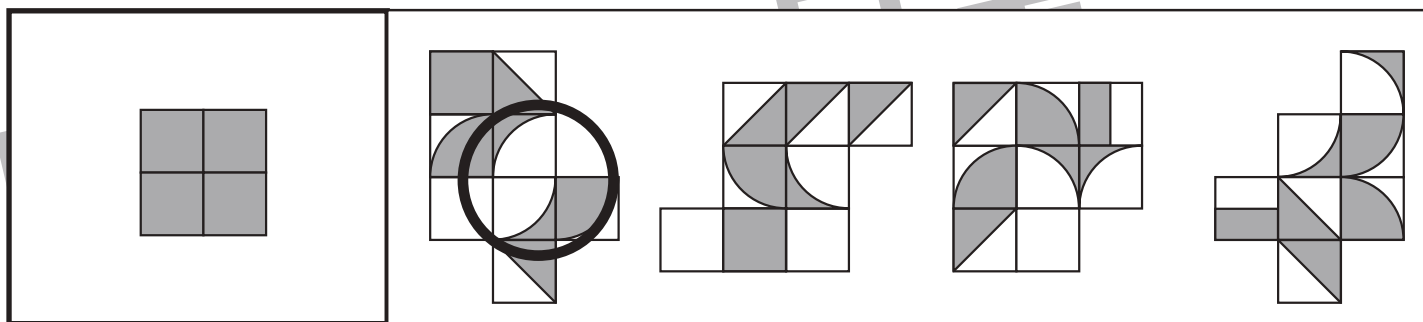
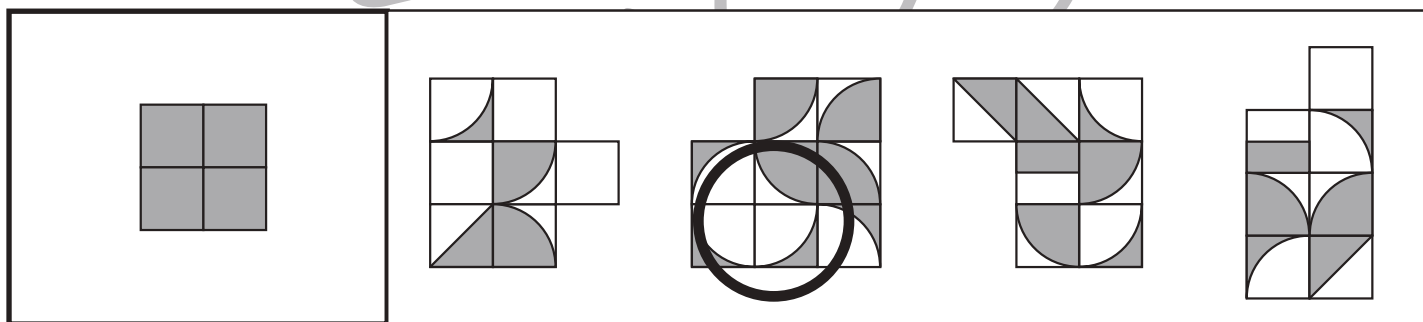
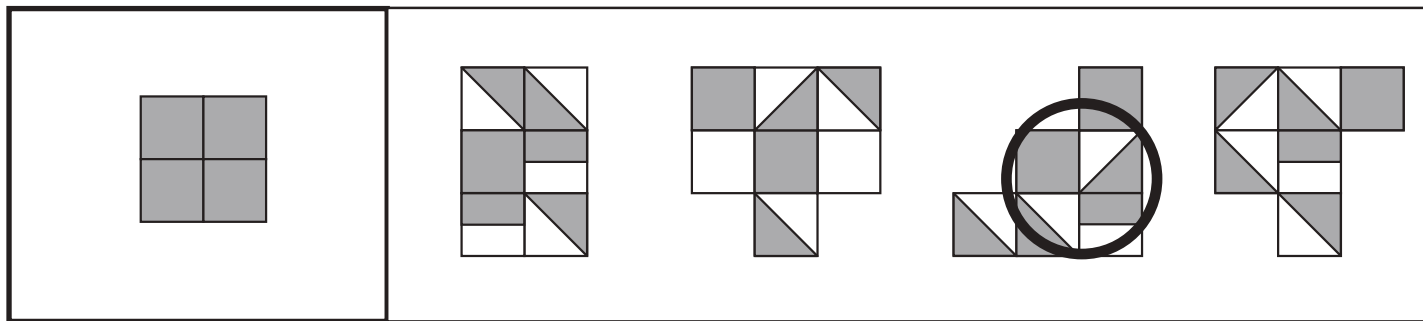


おうちで、やろう。

Study at home. 小学校受験の家庭学習教材

図形：構成③①

左の太い四角の中がお手本です。右の四角の中で灰色の部分がお手本と同じ広さのものを見つけて○をつけます。



※1. このプリントは、しながわ・目黒こどもスクールのウェブサイトでダウンロードができます。無断複写・引用はご遠慮ください。
 ※2. このプリントを活用したオンライン授業のスケジュールは、しながわ・目黒こどもスクールのウェブサイトでご確認ください。


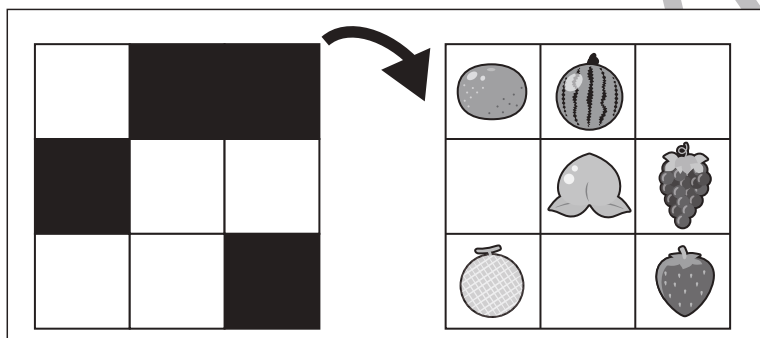

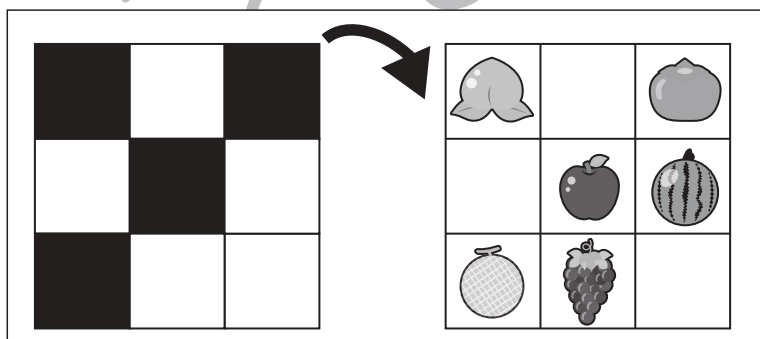

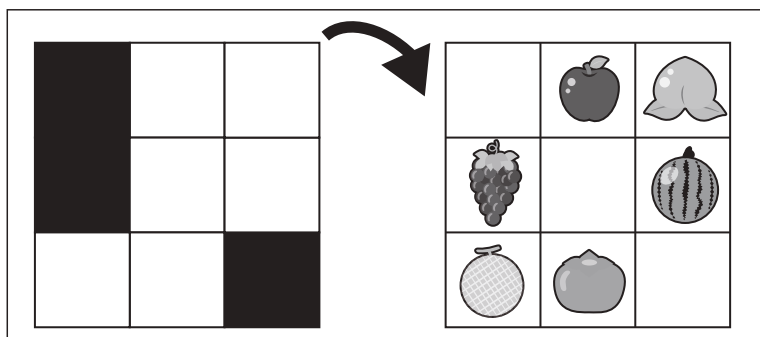
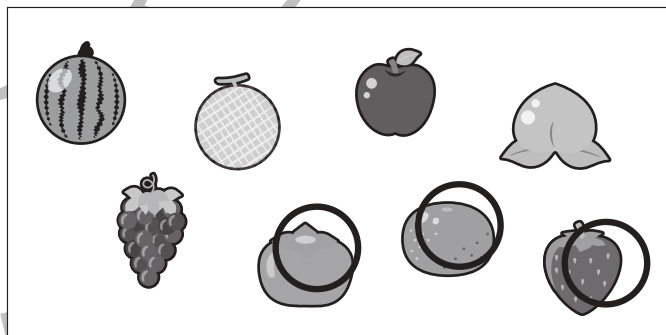
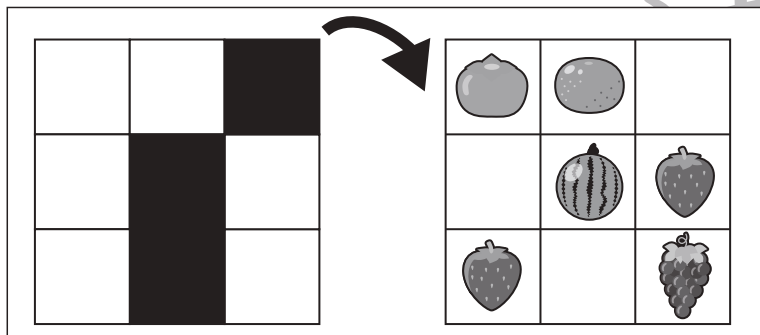

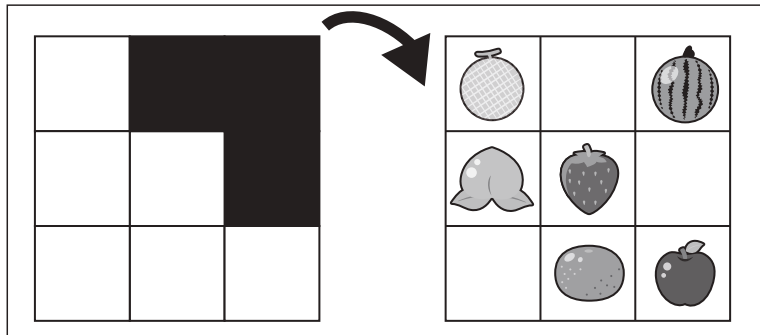


おうちで、やろう。

Study at home. 小学校受験の家庭学習教材

図形：重ね回転⑩

左の2枚の四角は透明な板です。一番左の四角の板を矢印の方向へ1回倒してとなりの板に重ねたときの見え方を考えます。重ねた時、黒いマスと重なると絵は見えなくなってしまいます。重ねたとき、隠れずに見えている絵を右の中から選んで○をつけます。



※1. このプリントは、しながわ・目黒こどもスクールのウェブサイトからダウンロードできます。無断複写・引用はご遠慮ください。

※2. このプリントを活用したオンライン授業のスケジュールは、しながわ・目黒こどもスクールのウェブサイトでご確認ください。


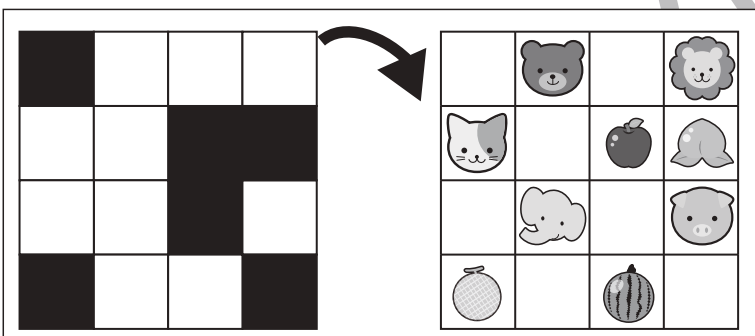



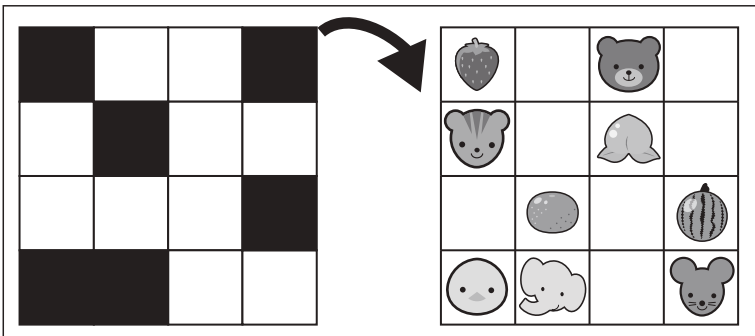

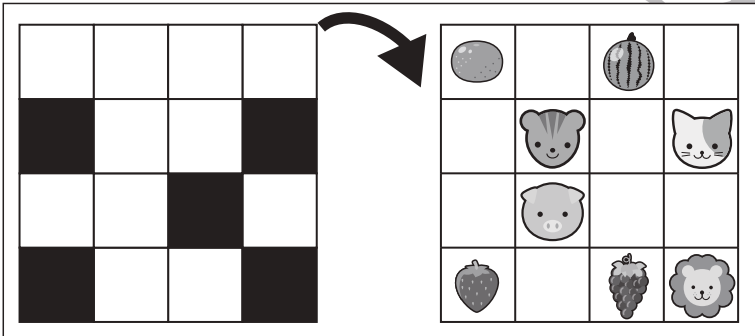

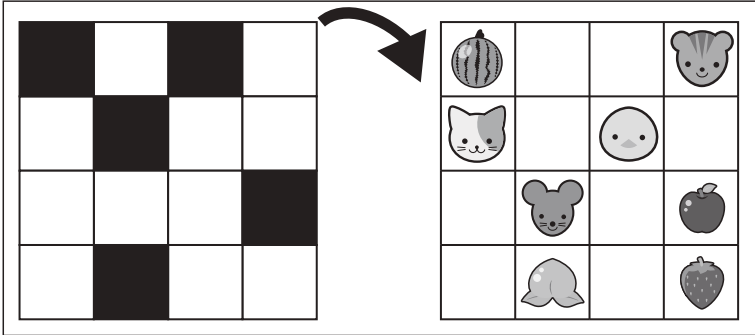


おうちで、やろう。

Study at home. 小学校受験の家庭学習教材

図形：重ね回転⑪

左の2枚の四角は透明な板です。一番左の四角の板を矢印の方向へ1回倒してとなりの板に重ねたときの見え方を考えます。重ねた時、黒いマスと重なると絵は見えなくなってしまいます。重ねたとき、隠れずに見えている絵を右の中から選んで○をつけます。



※1. このプリントは、しながわ・目黒こどもスクールのウェブサイトからダウンロードできます。無断複写・引用はご遠慮ください。
 ※2. このプリントを活用したオンライン授業のスケジュールは、しながわ・目黒こどもスクールのウェブサイトでご確認ください。


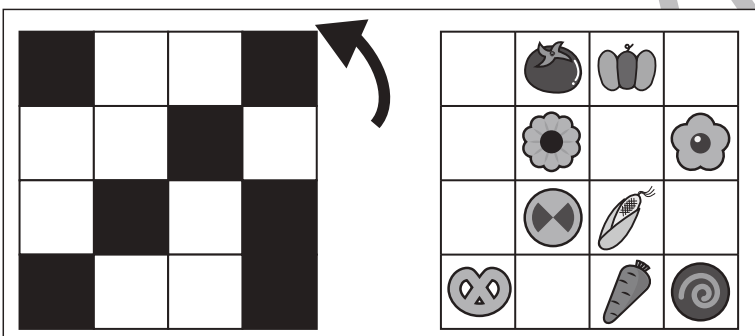

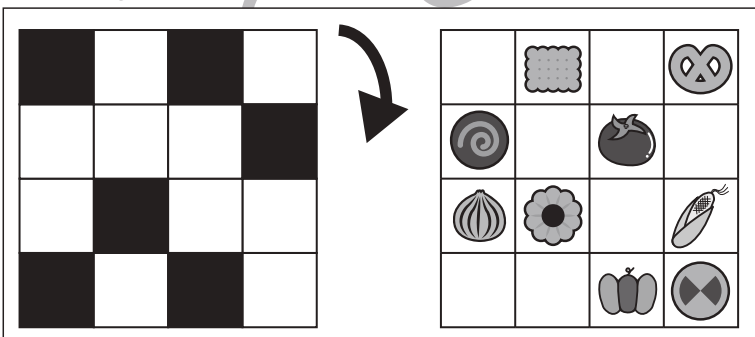
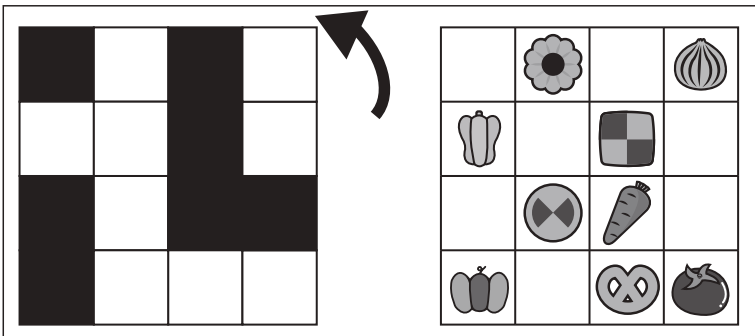

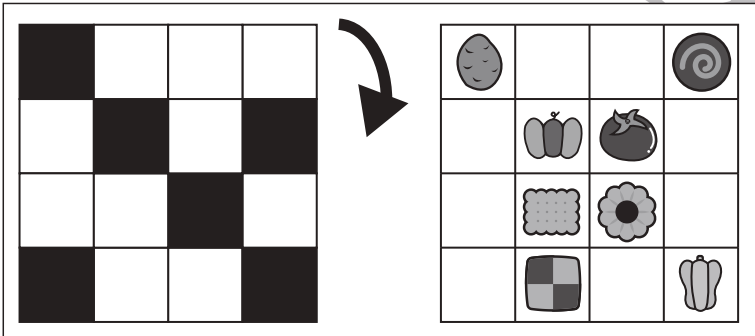

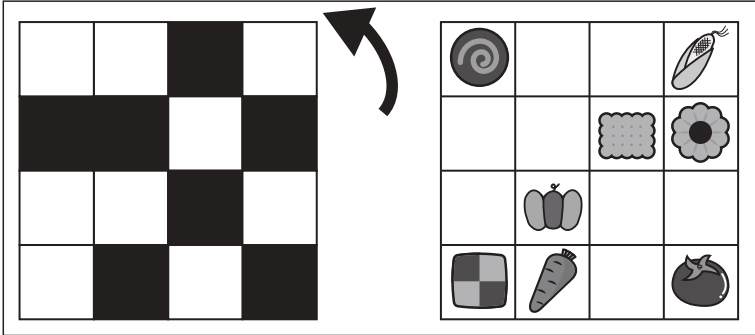


おうちで、やろう。

Study at home. 小学校受験の家庭学習教材

図形：重ね回転⑫

左の2枚の四角は透明な板です。一番左の四角の板を矢印の方向へ1回倒してとなりの板に重ねたときの見え方を考えます。重ねた時、黒いマスと重なると絵は見えなくなってしまいます。重ねたとき、隠れずに見えている絵を右の中から選んで○をつけます。



※1. このプリントは、しながわ・目黒こどもスクールのウェブサイトからダウンロードできます。無断複写・引用はご遠慮ください。

※2. このプリントを活用したオンライン授業のスケジュールは、しながわ・目黒こどもスクールのウェブサイトでご確認ください。



おうちで、やろう。

Study at home. 小学校受験の家庭学習教材

数量：指示理解①

- ①カキとバナナが同じ数の四角に○をつけます。 ②ブドウが3つ、イチゴが5つの四角に○をつけます。
 ③ブドウとイチゴが2つずつ、バナナが3つの四角に○をつけます。 ④バナナとモモが3つずつ、ブドウとイチゴが1つずつ、カキが2つある四角に○をつけます。

①

--	--	--	--

②

--	--	--	--

③

--	--	--	--

④

--	--	--	--

※1. このプリントは、しながわ・目黒こどもスクールのウェブサイトからダウンロードできます。無断複写・引用はご遠慮ください。

※2. このプリントを活用したオンライン授業のスケジュールは、しながわ・目黒こどもスクールのウェブサイトでご確認ください。



おうちで、やろう。

Study at home. 小学校受験の家庭学習教材

数量：指示理解②

- ①白い丸と黒い丸が同じ数の四角に○をつけます。 ②白い星が3つ、黒い星が5つの四角に○をつけます。
 ③白い丸が4つ、黒い丸と灰色の丸が3つずつある四角に○をつけます。 ④黒い星が5つ、白い星が3つ、灰色の星が2つある四角に○をつけます。

①

--	--	--	--

②

--	--	--	--

③

--	--	--	--

④

--	--	--	--

※1. このプリントは、しながわ・目黒こどもスクールのウェブサイトからダウンロードできます。無断複写・引用はご遠慮ください。
 ※2. このプリントを活用したオンライン授業のスケジュールは、しながわ・目黒こどもスクールのウェブサイトでご確認ください。



おうちで、やろう。

Study at home. 小学校受験の家庭学習教材

数量：指示理解③

- ① 白い丸と黒い丸の数の違いが1つの四角に○をつけます。 ② 白い星と黒い星の数の違いが2つの四角に○をつけます。
 ③ 3種類の丸の数が全部違う四角に○をつけます。 ④ 3種類の星のうち一番多い星と一番少ない星の数の違いが4つの四角に○をつけます。

①

--	--	--	--

②

--	--	--	--

③

--	--	--	--

④

--	--	--	--

※1. このプリントは、しながわ・目黒こどもスクールのウェブサイトダウンロードができます。無断複写・引用はご遠慮ください。
 ※2. このプリントを活用したオンライン授業のスケジュールは、しながわ・目黒こどもスクールのウェブサイトでご確認ください。