

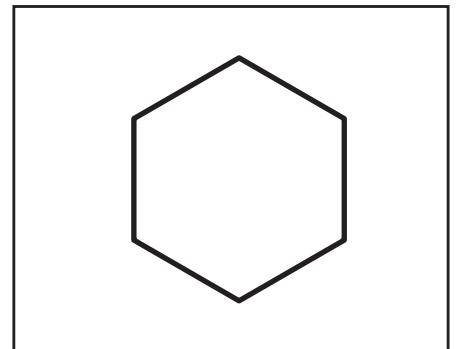
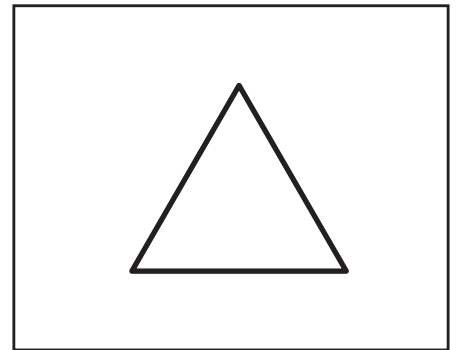

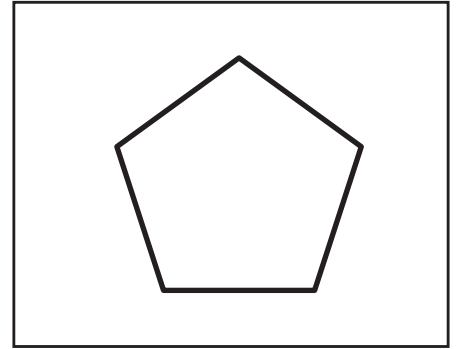
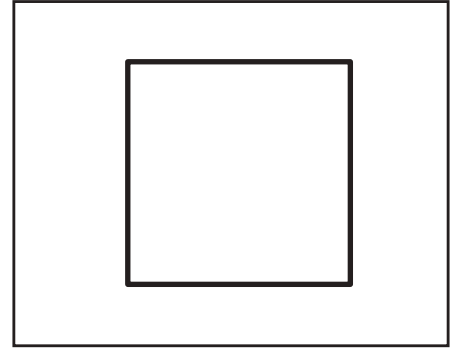
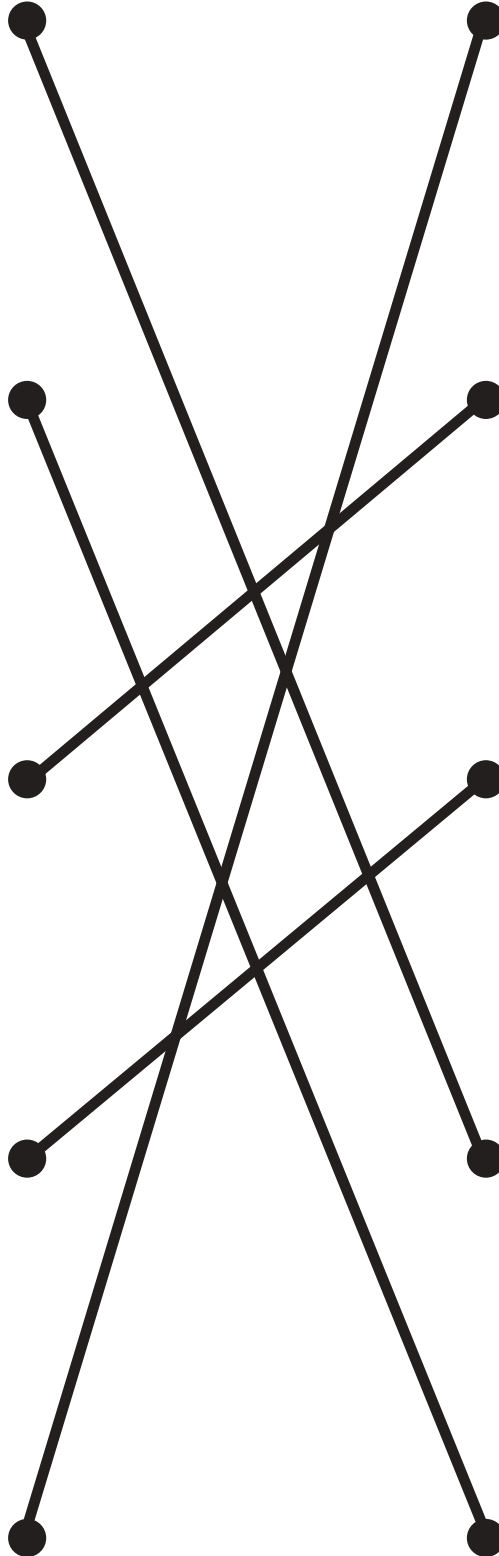




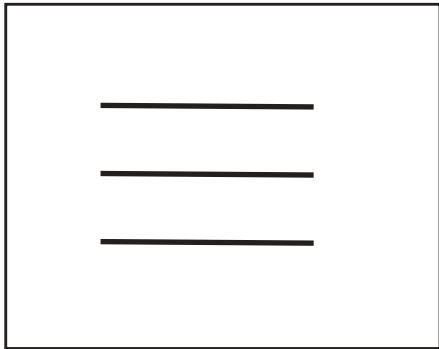


# おうちで、よろう。

Study at home. 小学校受験の家庭学習教材

## 図形：構成③②

左の線を使ってできる図形を右から選び線で結びます。



※1. このプリントは、しながわ・目黒こどもスクールのウェブサイトでダウンロードができます。無断複写・引用はご遠慮ください。

※2. このプリントを活用したオンライン授業のスケジュールは、しながわ・目黒こどもスクールのウェブサイトでご確認ください。

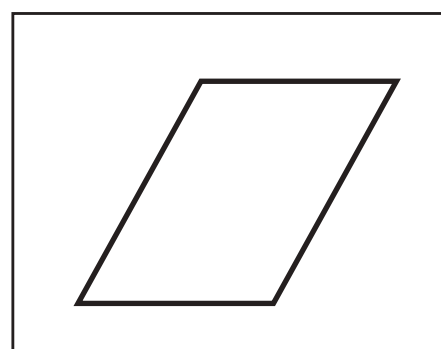
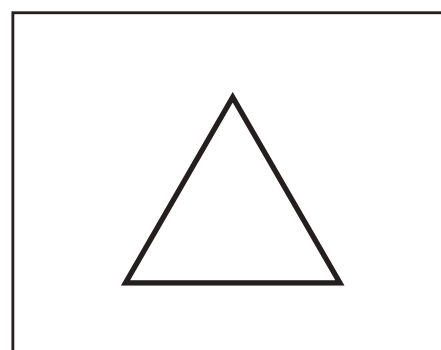
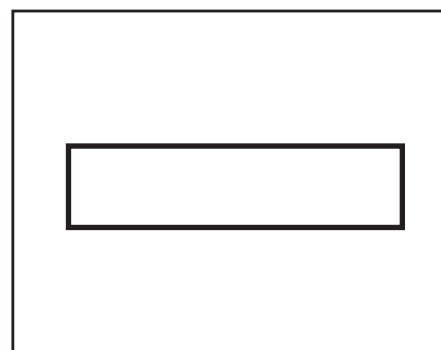
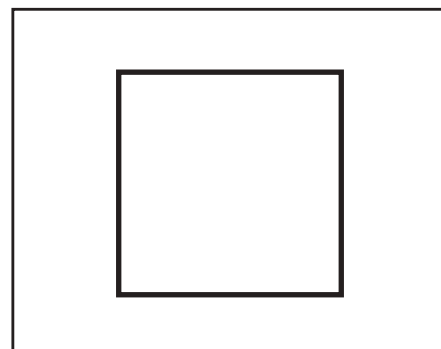

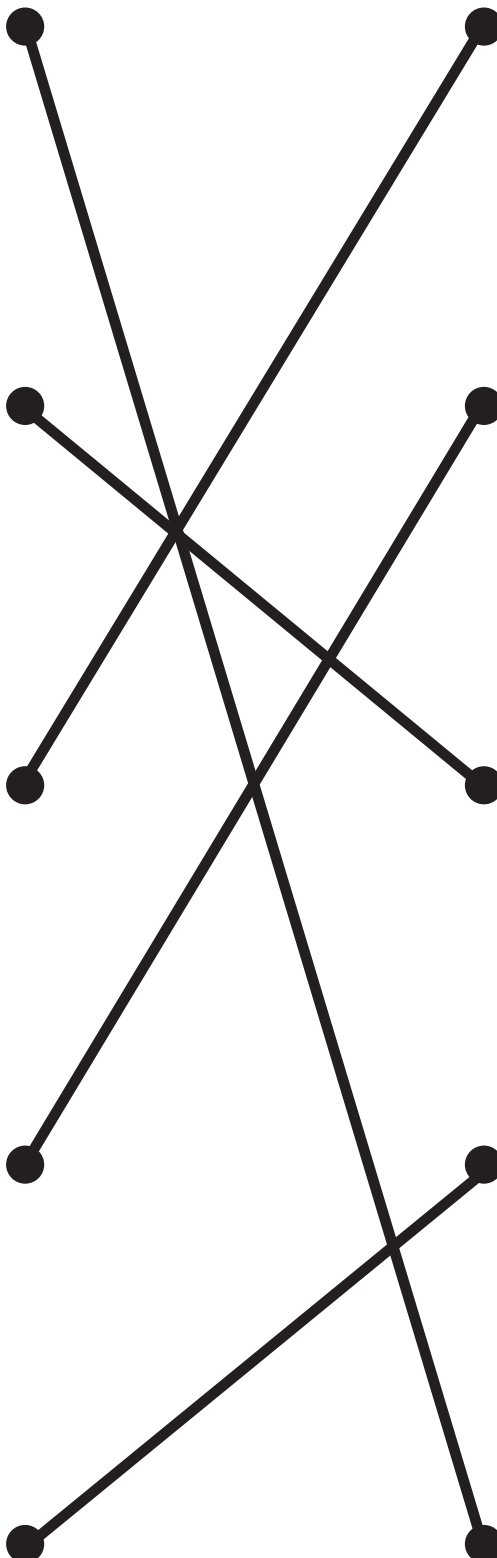
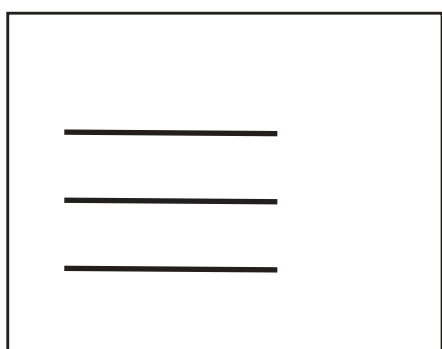

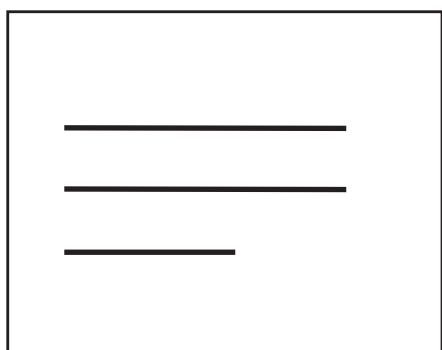
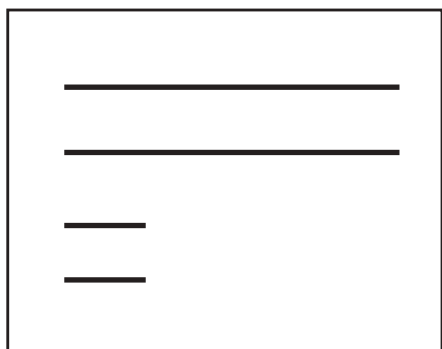



# おうちで、よろう。

Study at home. 小学校受験の家庭学習教材

## 図形：構成③

左の線を使ってできる図形を右から選び線で結びます。



※1. このプリントは、しながわ・目黒こどもスクールのウェブサイトでダウンロードができます。無断複写・引用はご遠慮ください。

※2. このプリントを活用したオンライン授業のスケジュールは、しながわ・目黒こどもスクールのウェブサイトでご確認ください。



# おうちで、やろう。

Study at home. 小学校受験の家庭学習教材

## 図形：折り線③

裏が灰色の折り紙を順番に折って開いた時の線のつき方を考えます。正しいものを右の3つの中から選び○をつけます。


※1. このプリントは、しながわ・目黒こどもスクールのウェブサイトからダウンロードできます。無断複写・引用はご遠慮ください。

※2. このプリントを活用したオンライン授業のスケジュールは、しながわ・目黒こどもスクールのウェブサイトでご確認ください。



# おうちで、やろう。

Study at home. 小学校受験の家庭学習教材

## 推理：系列完成⑬

それぞれの段に、いろいろな印がある決まりで並んでいます。空いているところに入る印を書きます。

○	□	○	△	○	□	○	△	●	□	○	△
→	↓	→	↗	→	↓	→	↗	→	↓	→	↗

○	○	□	△	○	○	□	△	○	●	□	△
↑	↑	→	↓	↑	↑	→	↓	↑	↑	→	↓

□	△	○	□	□	△	○	□	□	△	○	□
←	↑	↓	←	←	↑	↓	←	←	↑	↓	←

△	○	□	○	△	△	○	□	○	△	△	○
↓	↘	↑	↘	↓	↓	↘	↑	↘	↓	↓	↘

※1. このプリントは、しながわ・目黒こどもスクールのウェブサイトでダウンロードができます。無断複写・引用はご遠慮ください。  
 ※2. このプリントを活用したオンライン授業のスケジュールは、しながわ・目黒こどもスクールのウェブサイトでご確認ください。



# おうちで、やろう。

Study at home. 小学校受験の家庭学習教材

## 推理：系列完成⑰

それぞれの段に、いろいろな印がある決まりで並んでいます。空いているところに入る印を書きます。

↑	→	↓	↑	↑	→	↓	↑	↑	→	↓	↑
◎	△	○	◎	◎	△	○	◎	◎	△	○	◎

→	↓	↑	↑	→	↓	↑	↑	→	↓	↑	↑
□	△	◇	◇	□	△	◇	◇	□	△	◇	◇

←	↘	↗	↓	←	↘	↗	↓	←	↘	↗	↓
△	○	□	▽	△	○	□	▽	△	○	□	▽

↘	↘	↑	↓	→	↘	↘	↑	↓	→	↘	↘
△	△	◇	▷	◎	△	△	◇	▷	◎	△	△

※1. このプリントは、しながわ・目黒こどもスクールのウェブサイトでダウンロードができます。無断複写・引用はご遠慮ください。  
 ※2. このプリントを活用したオンライン授業のスケジュールは、しながわ・目黒こどもスクールのウェブサイトでご確認ください。




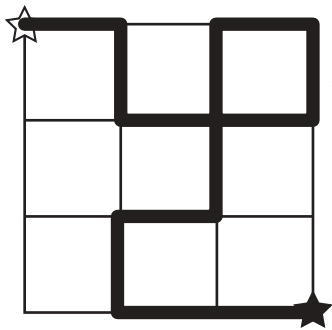





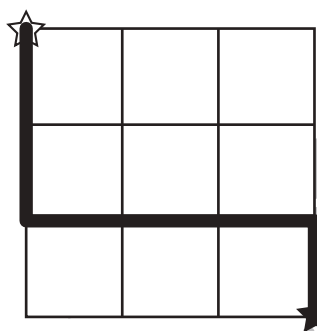

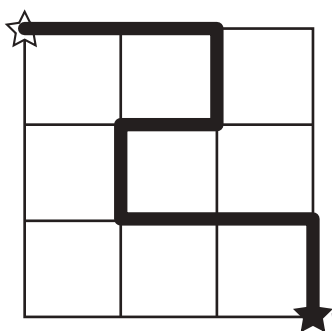



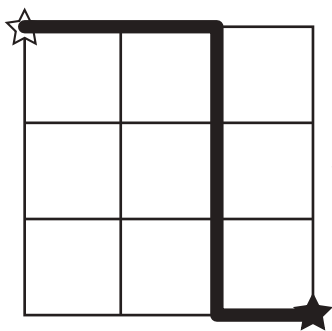


# おうちで、やろう。

Study at home. 小学校受験の家庭学習教材

## 推理：線の長さ①

左のマスに描かれている☆から★への線の長さがお手本です。☆から★までの線の長さがお手本と同じものを右の3つの中から選んで○をつけましょう。



※1. このプリントは、しながわ・目黒こどもスクールのウェブサイトでダウンロードができます。無断複写・引用はご遠慮ください。  
※2. このプリントを活用したオンライン授業のスケジュールは、しながわ・目黒こどもスクールのウェブサイトでご確認ください。





# おうちで、やろう。

Study at home. 小学校受験の家庭学習教材

## 推理：線の長さ②

左のマスに描かれている☆から★への線の長さがお手本です。☆から★までの線の長さがお手本よりも長いのを右の3つの中から選んで○をつけましょう。


※1. このプリントは、しながわ・目黒こどもスクールのウェブサイトからダウンロードできます。無断複写・引用はご遠慮ください。  
 ※2. このプリントを活用したオンライン授業のスケジュールは、しながわ・目黒こどもスクールのウェブサイトでご確認ください。



# おうちで、やろう。

Study at home. 小学校受験の家庭学習教材

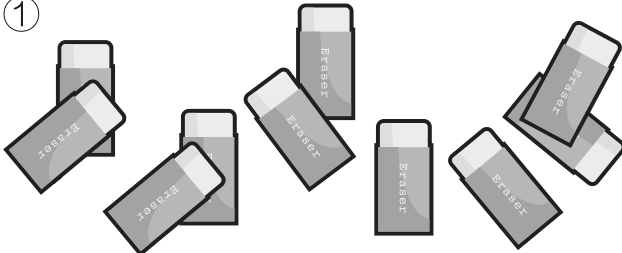
数量：計数⑮

左の四角の者の数を数えて、右の四角にその数分だけ、マークをかきます。

①消しゴムの数を数えて、その数だけ○をかきます。／②鉛筆の数を数えて、その数だけ○をかきます。


③定規の数を数えて、その数だけ□をかきます。／④鉛筆の数を数えて、その数だけ△をかきます。

①




$\bigcirc \times 10$

②




$\bigcirc \times 11$

③



$\square \times 7$

④



$\triangle \times 13$

※1. このプリントは、しながわ・目黒こどもスクールのウェブサイトでダウンロードができます。無断複写・引用はご遠慮ください。

※2. このプリントを活用したオンライン授業のスケジュールは、しながわ・目黒こどもスクールのウェブサイトでご確認ください。