



おうちで、やろう。

Study at home. 小学校受験の家庭学習教材

図形：構成③④

上の四角がお手本です。このお手本と灰色の部分と同じ広さのものを下の4つから選び○をつけます。

※1. このプリントは、しながわ・目黒こどもスクールのウェブサイトからダウンロードできます。無断複写・引用はご遠慮ください。
 ※2. このプリントを活用したオンライン授業のスケジュールは、しながわ・目黒こどもスクールのウェブサイトでご確認ください。



おうちで、やろう。

Study at home. 小学校受験の家庭学習教材

図形：構成③⑤

上の四角がお手本です。このお手本と灰色の部分と同じ広さのものを下の4つから選び○をつけます。

※1. このプリントは、しながわ・目黒こどもスクールのウェブサイトからダウンロードできます。無断複写・引用はご遠慮ください。

※2. このプリントを活用したオンライン授業のスケジュールは、しながわ・目黒こどもスクールのウェブサイトでご確認ください。



おうちで、やろう。

Study at home. 小学校受験の家庭学習教材

図形：重ね回転⑬

左の2枚の四角は透明な板です。一番左の太い四角の板を右へ1回倒してとなりの点線の四角に重ねたときの見え方を考えます。重なった後、○がないマスはどこですか。○がないマスの場所を考えて一番右の四角に○をかきます。

※1. このプリントは、しながわ・目黒こどもスクールのウェブサイトでダウンロードができます。無断複写・引用はご遠慮ください。
※2. このプリントを活用したオンライン授業のスケジュールは、しながわ・目黒こどもスクールのウェブサイトでご確認ください。



おうちで、やろう。

Study at home. 小学校受験の家庭学習教材

図形：重ね回転⑭

左の2枚の四角は透明な板です。一番左の太い四角の板を右へ1回倒してとなりの点線の四角に重ねたときの見え方を考えます。重なった後、○がないマスはどこですか。○がないマスの場所を考えて一番右の四角に○をかきます。

※1. このプリントは、しながわ・目黒こどもスクールのウェブサイトでダウンロードができます。無断複写・引用はご遠慮ください。

※2. このプリントを活用したオンライン授業のスケジュールは、しながわ・目黒こどもスクールのウェブサイトでご確認ください。

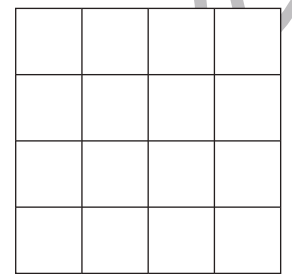

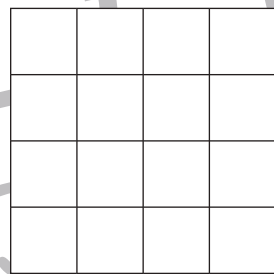
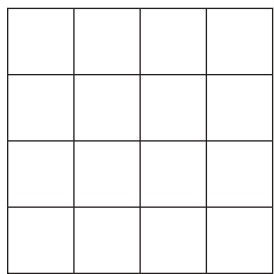
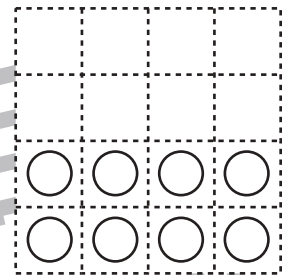

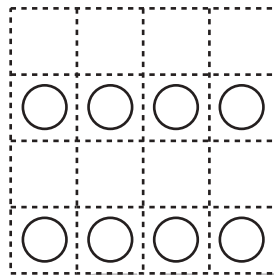
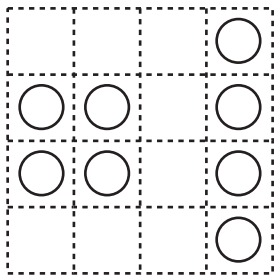
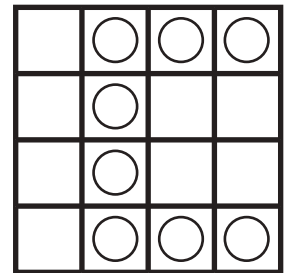
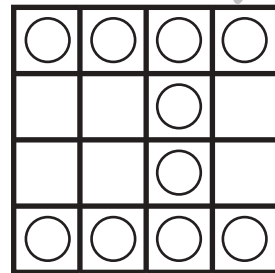
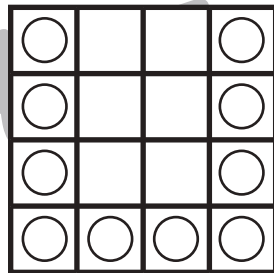

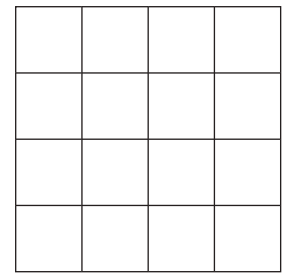
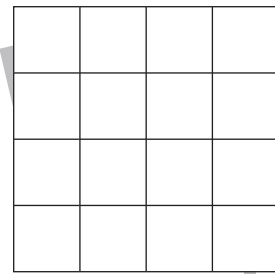
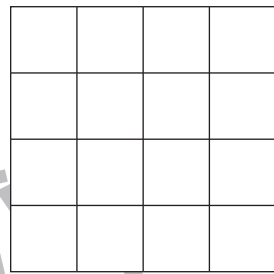
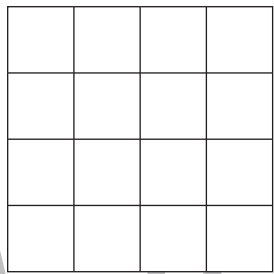
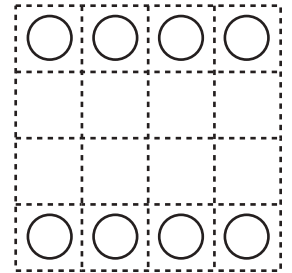
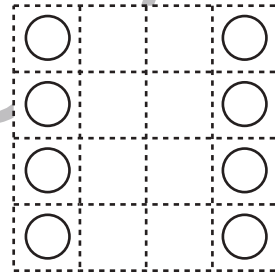
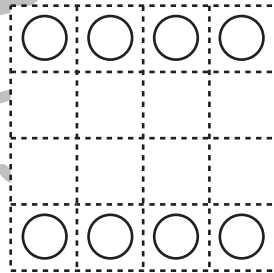
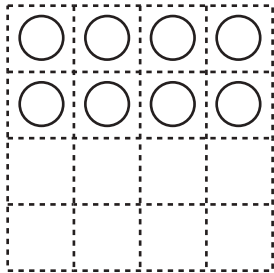
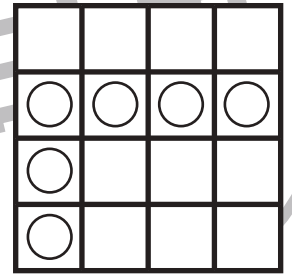





おうちで、やろう。

Study at home. 小学校受験の家庭学習教材

図形：重ね回転⑮

上の2枚の四角は透明な板です。一番上の太い四角の板を右へ1回倒して下の点線の四角に重ねたときの見え方を考えます。重なった後、○がないマスはどこですか。○がないマスの場所を考えて一番右の四角に○をかきます。



※1. このプリントは、しながわ・目黒こどもスクールのウェブサイトでダウンロードができます。無断複写・引用はご遠慮ください。
※2. このプリントを活用したオンライン授業のスケジュールは、しながわ・目黒こどもスクールのウェブサイトでご確認ください。



おうちで、やろう。

Study at home. 小学校受験の家庭学習教材

図形：折り紙①

左のように折った折り紙を太線の位置ではさみで切ります。切った後、折り紙を広げるとどのように切れるかを考えて右の四角に線をかきます。点線は折り線です。

	→			→	
	→			→	
	→			→	
	→			→	
	→			→	
	→			→	

※1. このプリントは、しながわ・目黒こどもスクールのウェブサイトからダウンロードができます。無断複写・引用はご遠慮ください。

※2. このプリントを活用したオンライン授業のスケジュールは、しながわ・目黒こどもスクールのウェブサイトでご確認ください。

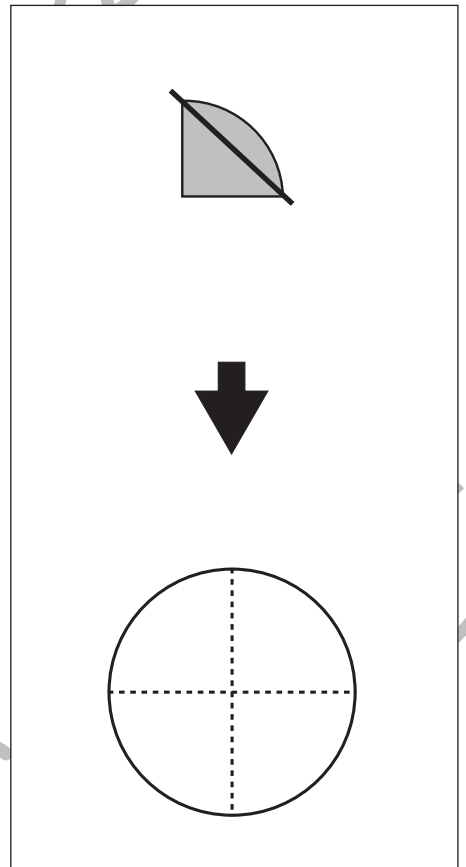
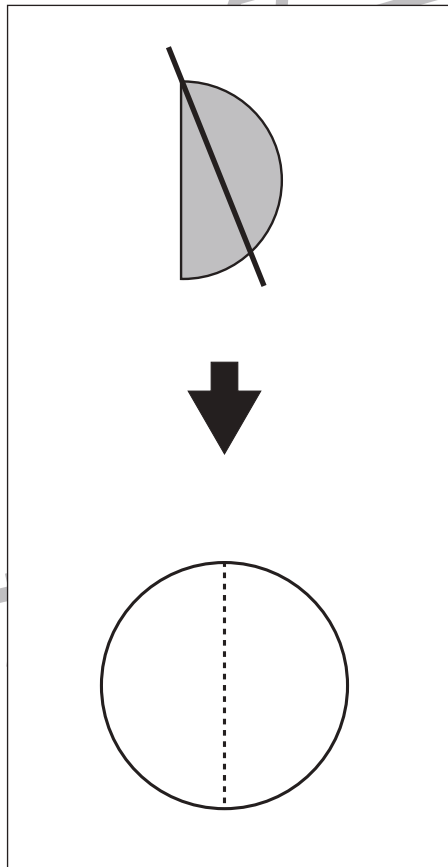
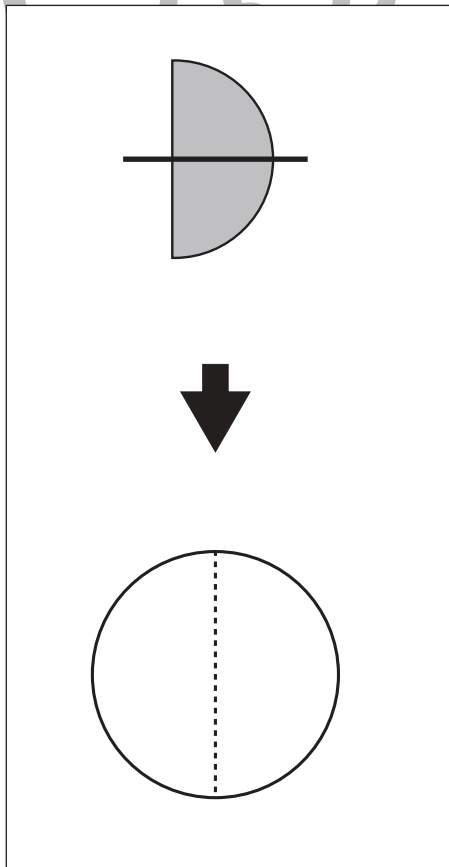
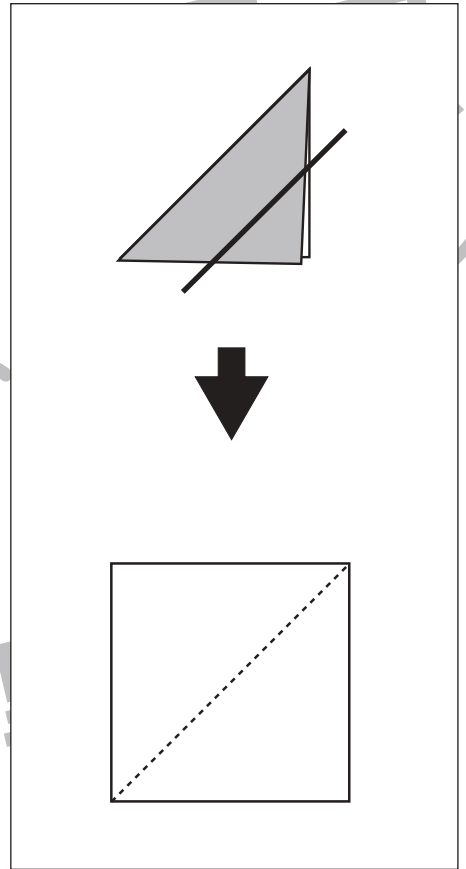
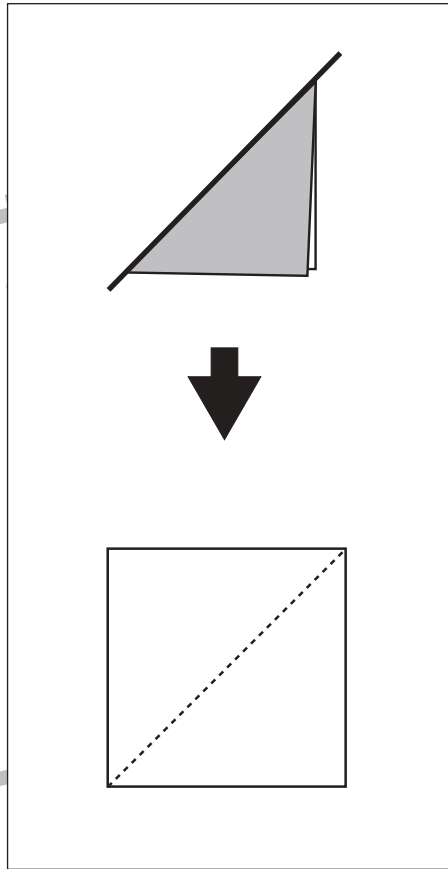
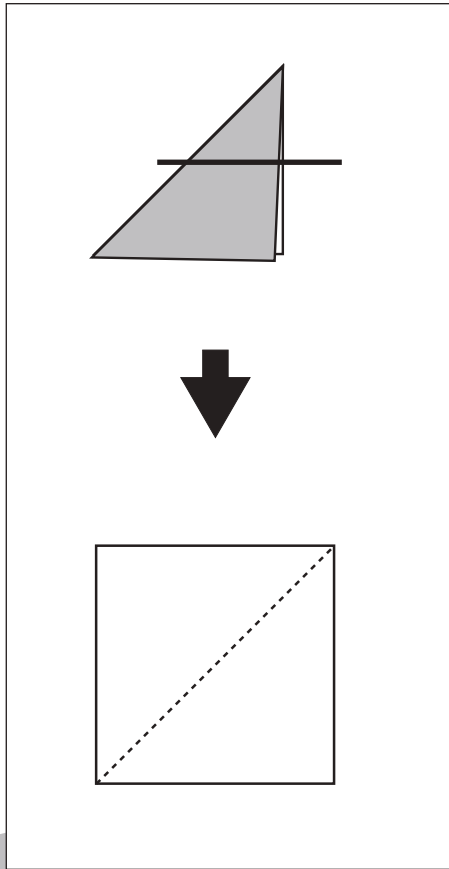


おうちで、やろう。

Study at home. 小学校受験の家庭学習教材

図形：折り紙②

左のように折った折り紙を太線の位置ではさみで切ります。切った後、折り紙を広げるとどのように切れるかを考えて右の四角に線をかきます。点線は折り線です。



※1. このプリントは、しながわ・目黒こどもスクールのウェブサイトでダウンロードができます。無断複写・引用はご遠慮ください。
 ※2. このプリントを活用したオンライン授業のスケジュールは、しながわ・目黒こどもスクールのウェブサイトでご確認ください。

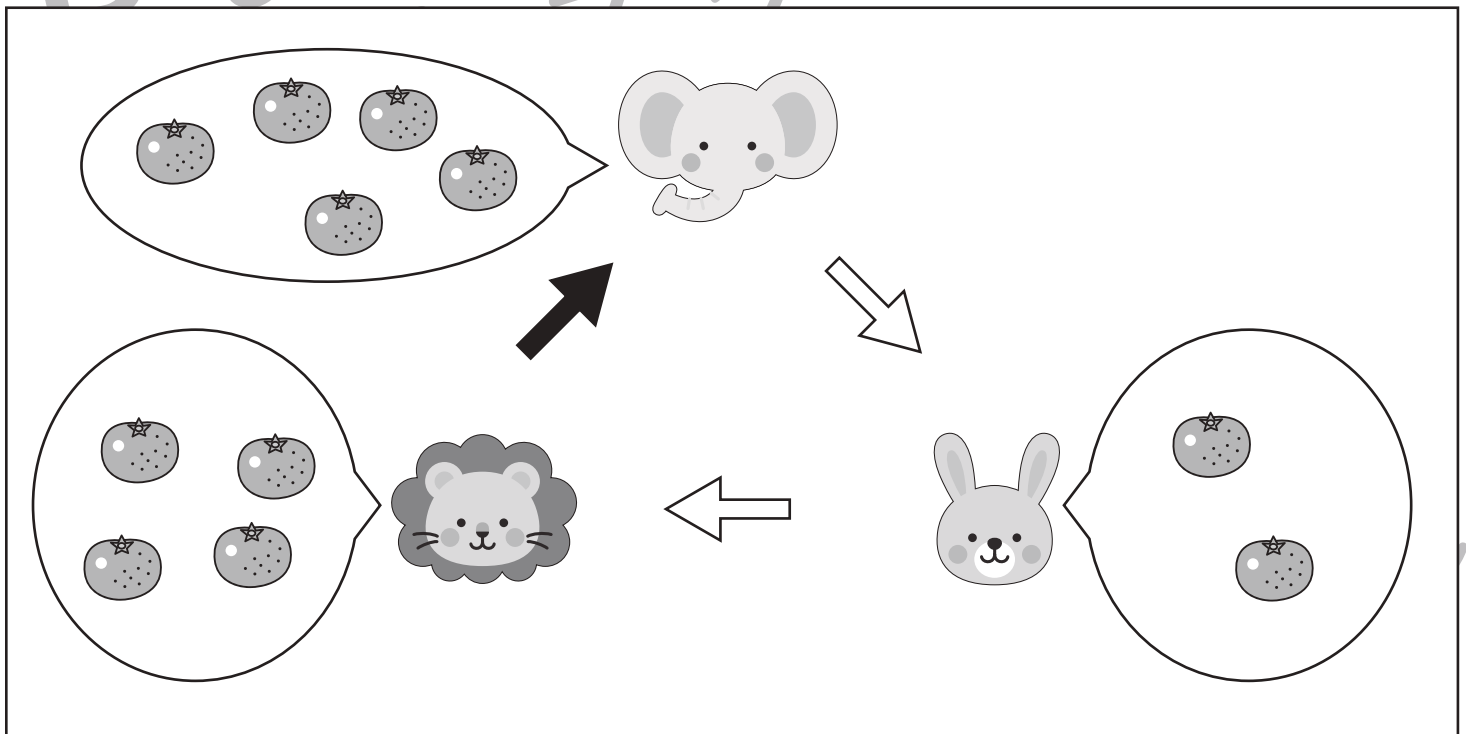
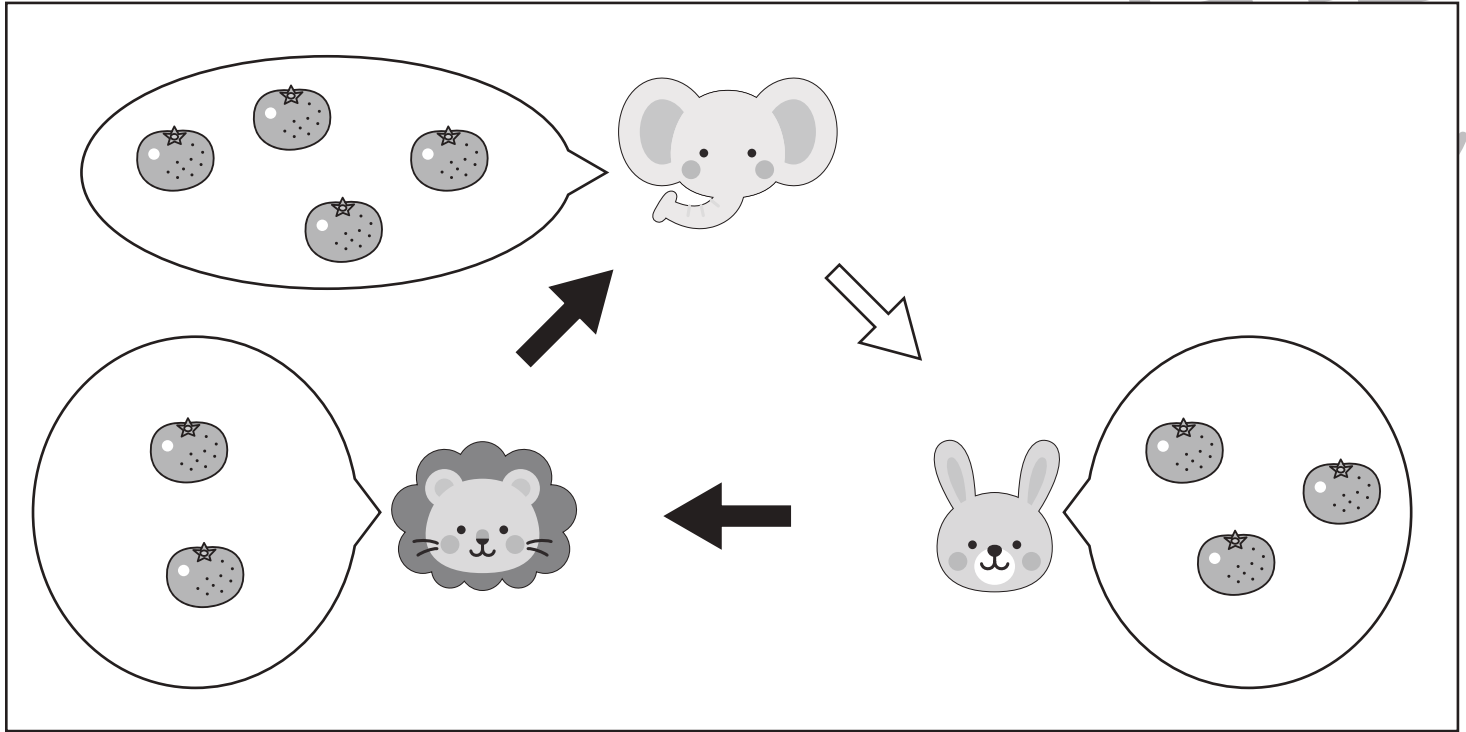


おうちで、やろう。

Study at home. 小学校受験の家庭学習教材

数量：加減②

ゾウ・ウサギ・ライオンがそれぞれ吹き出しの中の数だけ果物を持っています。それぞれが持っている果物を矢印の先の動物に渡します。黒い矢印は果物を1個渡します。白い矢印は果物を2個渡します。3匹が同時に2回果物を渡した時、持っている果物が一番多い動物に○をつけます。



※1. このプリントは、しながわ・目黒こどもスクールのウェブサイトでダウンロードができます。無断複写・引用はご遠慮ください。
 ※2. このプリントを活用したオンライン授業のスケジュールは、しながわ・目黒こどもスクールのウェブサイトでご確認ください。

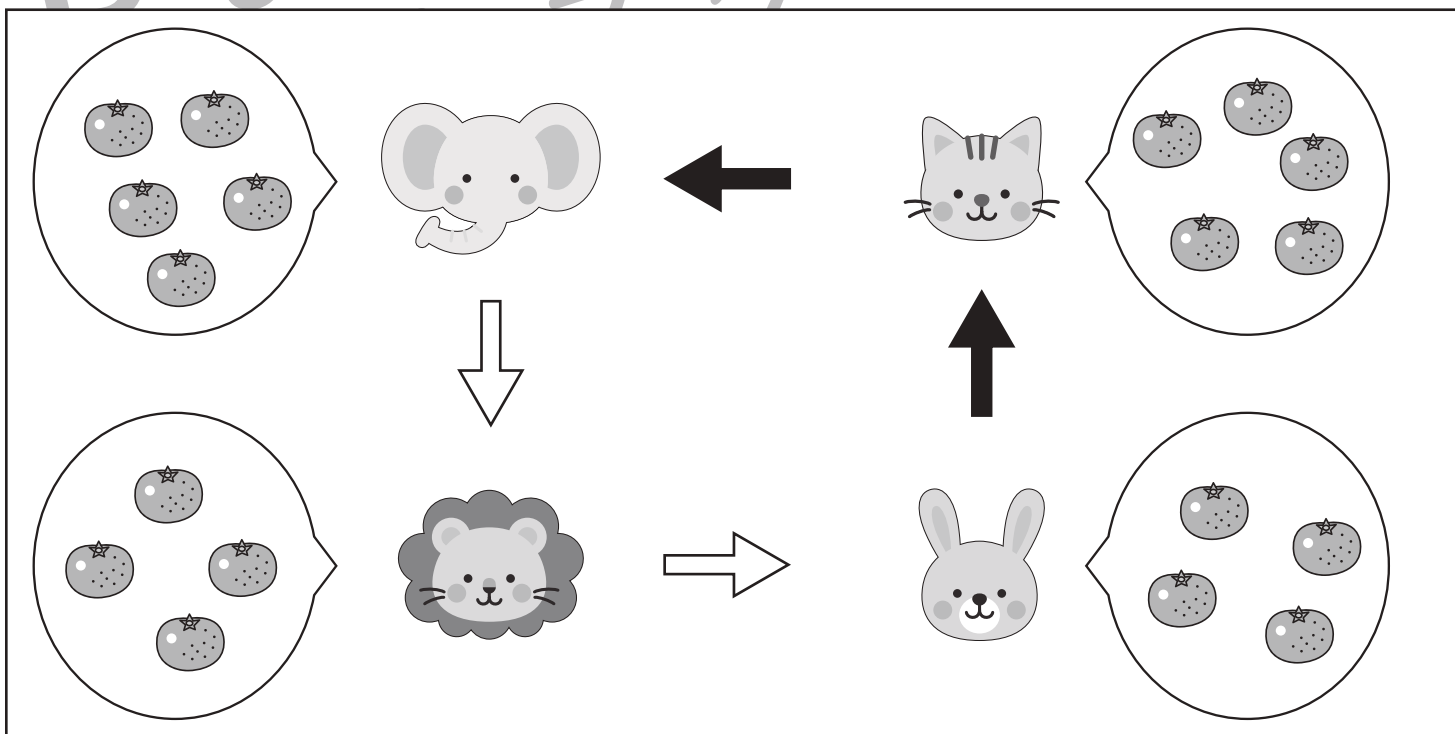
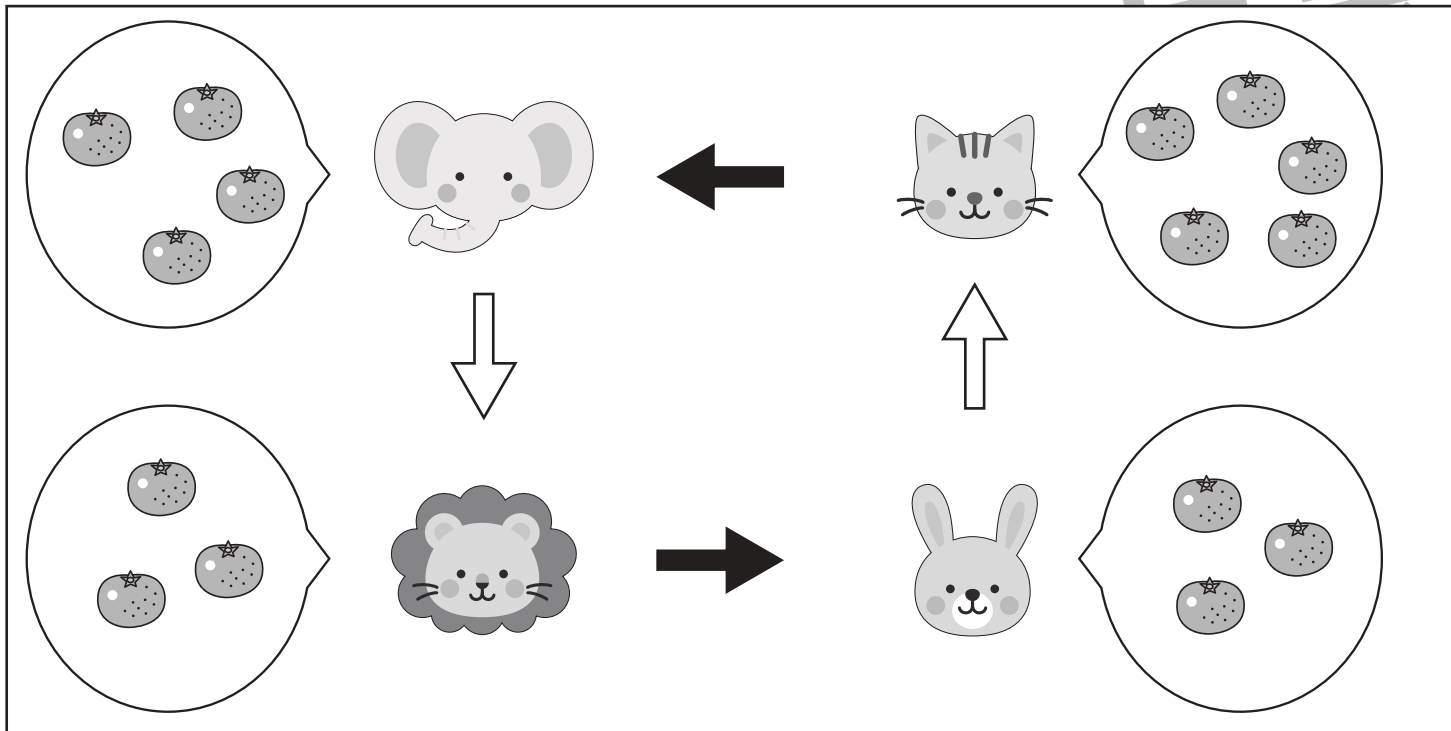


おうちで、やろう。

Study at home. 小学校受験の家庭学習教材

数量：加減⑳

ゾウ・ウサギ・ライオン・ネコがそれぞれ吹き出しの中の数だけ果物を持っています。それぞれが持っている果物を矢印の先の動物に渡します。黒い矢印は果物を2個渡します。白い矢印は果物を1個渡します。4匹が同時に2回果物を渡した時、持っている果物が一番少ない動物に○をつけます。



※1. このプリントは、しながわ・目黒こどもスクールのウェブサイトでダウンロードができます。無断複写・引用はご遠慮ください。
 ※2. このプリントを活用したオンライン授業のスケジュールは、しながわ・目黒こどもスクールのウェブサイトでご確認ください。