




おうちで、やろう。

Study at home. 小学校受験の家庭学習教材

運筆：濃淡③

左のお手本と同じ濃さになるように右の形を塗ります。この問題は鉛筆でやりましょう。
※この問題に解答はありません。



※1. このプリントは、しながわ・目黒こどもスクールのウェブサイトでダウンロードができます。無断複写・引用はご遠慮ください。
※2. このプリントを活用したオンライン授業のスケジュールは、しながわ・目黒こどもスクールのウェブサイトでご確認ください。


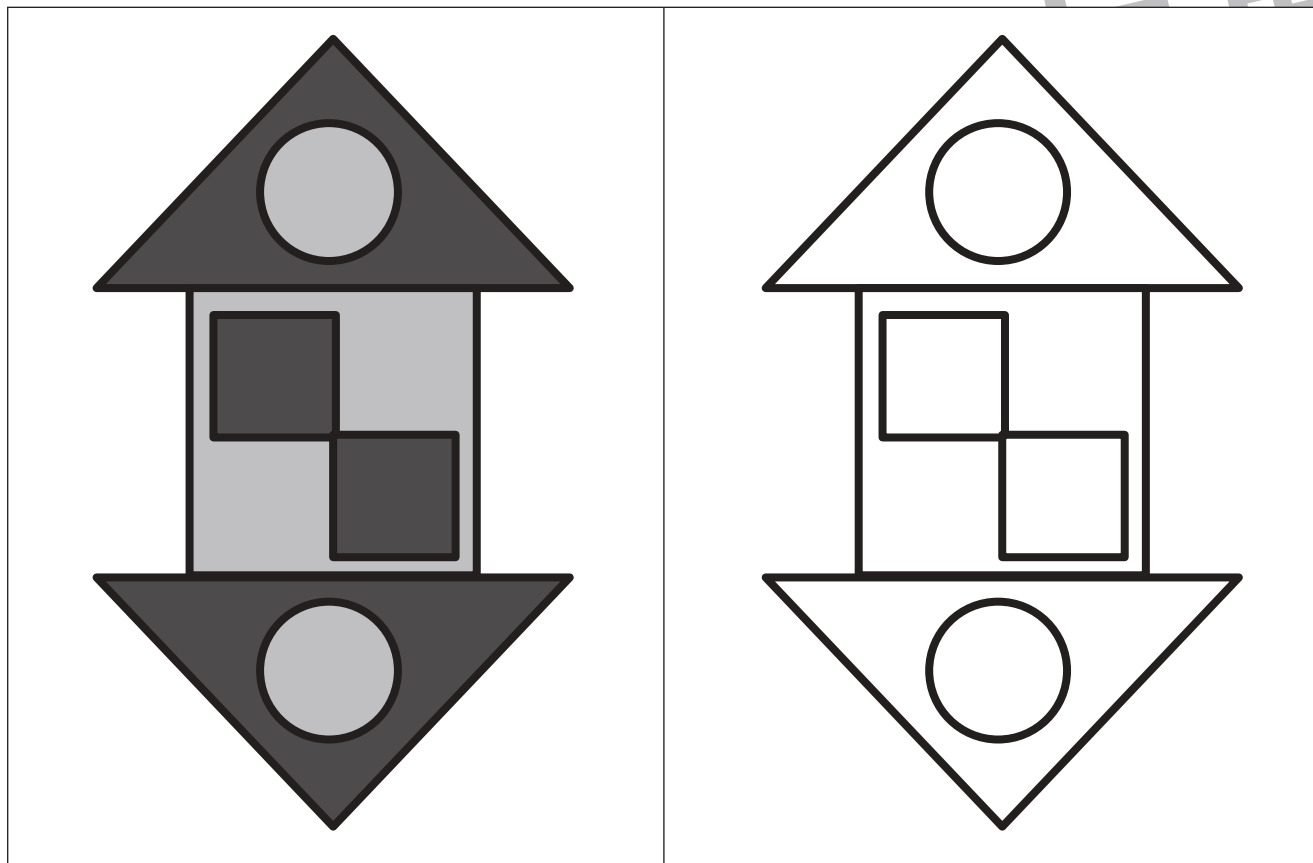


おうちで、やろう。

Study at home. 小学校受験の家庭学習教材

運筆：濃淡④

左のお手本と同じ濃さになるように右の形を塗ります。この問題は鉛筆でやりましょう。
※この問題に解答はありません。



※1. このプリントは、しながわ・目黒こどもスクールのウェブサイトからダウンロードできます。無断複写・引用はご遠慮ください。

※2. このプリントを活用したオンライン授業のスケジュールは、しながわ・目黒こどもスクールのウェブサイトでご確認ください。



おうちで、やろう。


Study at home. 小学校受験の家庭学習教材

指示の聞き取り⑬


それぞれの設問に答えましょう。

- ①左から4番目の子に○を、右から6番目の子に△をつけます。
- ②右から7番目の子に△を、右から9番目の子に○をつけます。
- ③左から9番目の子に△を、左から7番目の子に○をつけます。
- ④左から6番目の子に○を、そして○をつけた子から左に3番目の子に△をつけます。
- ⑤右から4番目の子に○を、そして○をつけた子から左に7番目の子に△をつけます。


①




②




③



④



⑤



※1. このプリントは、しながわ・目黒こどもスクールのウェブサイトでダウンロードができます。無断複写・引用はご遠慮ください。
 ※2. このプリントを活用したオンライン授業のスケジュールは、しながわ・目黒こどもスクールのウェブサイトでご確認ください。



おうちで、やろう。


Study at home. 小学校受験の家庭学習教材

指示の聞き取り⑭


それぞれの設問に答えましょう。

- ① 髪の毛を耳の上で2つに縛っている女子に○をつけます。
- ② 長ズボンを履いている男の子に△をつけます。
- ③ 両手を挙げている女の子に○をつけます。
- ④ 両手を開いている男の子に△をつけます。
- ⑤ 両手を後ろで組んでいる女の子に○をつけます。


1




2




3



4



5



※1. このプリントは、しながわ・目黒こどもスクールのウェブサイトでダウンロードができます。無断複写・引用はご遠慮ください。
 ※2. このプリントを活用したオンライン授業のスケジュールは、しながわ・目黒こどもスクールのウェブサイトでご確認ください。



おうちで、やろう。

Study at home. 小学校受験の家庭学習教材


指示の理解⑮

いろいろな国の国旗が並んでいます。①～⑤の問題に答えましょう。

①日本の国旗に○をつけます。 ②上から3段目で縦に3本線がある国旗に×をつけます。

③左から2列目で月と星がある国旗に◎をつけます。 ④下から4段目で星が1つある国旗に△をつけます。

⑤左端で星が4つある国旗に□をつけます。



※1. このプリントは、しながわ・目黒こどもスクールのウェブサイトでダウンロードができます。無断複写・引用はご遠慮ください。

※2. このプリントを活用したオンライン授業のスケジュールは、しながわ・目黒こどもスクールのウェブサイトでご確認ください。



おうちで、やろう。

Study at home. 小学校受験の家庭学習教材

常識：風向き②

それぞれの絵は風に吹かれている様子の絵です。どちらからどちらへ風が吹いていますか。
左から右へ風が吹いているときは白い矢印に、右から左へ風が吹いているときは黒い矢印に○をつけます。

	が も	
	ク	
	が も	

※1. このプリントは、しながわ・目黒こどもスクールのウェブサイトでダウンロードができます。無断複写・引用はご遠慮ください。

※2. このプリントを活用したオンライン授業のスケジュールは、しながわ・目黒こどもスクールのウェブサイトでご確認ください。






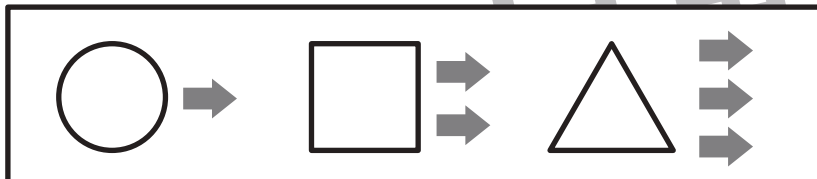
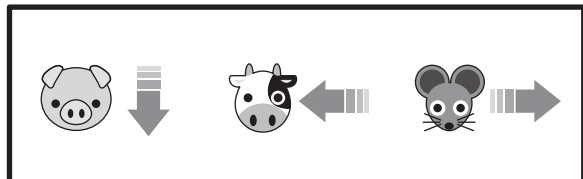


おうちで、やろう。

Study at home. 小学校受験の家庭学習教材

図形：移動④

上の太枠に約束があります。左の太枠は進む向きを表しています。ブタは下に、ウシは左に、ネズミは右に進む約束です。右の太枠は進むかすを表しています。○は1回、□は2回、△は3回進みます。問題の上の①～④の数字の横に、記号の中に動物が描かれたものがいくつかあります。このマークは左から見ていきます。進む向きと進むかすをよく考えて、★の場所からスタートしてどこに着くかを答えます。辿り着くマスに×印を付けましょう。



※1. このプリントは、しながわ・目黒こどもスクールのウェブサイトでダウンロードができます。無断複写・引用はご遠慮ください。

※2. このプリントを活用したオンライン授業のスケジュールは、しながわ・目黒こどもスクールのウェブサイトでご確認ください。





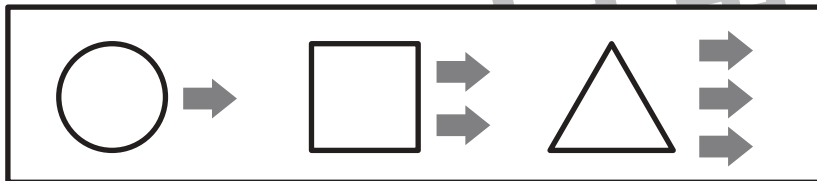



おうちで、やろう。

Study at home. 小学校受験の家庭学習教材

図形：移動④

上の太枠に約束があります。左の太枠は進む向きを表しています。フタは下に、ウシは左上に、ネズミは右下に進む約束です。右の太枠は進むかすを表しています。○は1回、□は2回、△は3回進みます。問題の上の①～④の数字の横に、記号の中に動物が描かれたものがいくつかあります。このマークは左から見ていきます。進む向きと進むかすをよく考えて、★の場所からスタートしてどこに着くかを答えます。辿り着くマスに×印を付けましょう。



※1. このプリントは、しながわ・目黒こどもスクールのウェブサイトでダウンロードができます。無断複写・引用はご遠慮ください。

※2. このプリントを活用したオンライン授業のスケジュールは、しながわ・目黒こどもスクールのウェブサイトでご確認ください。





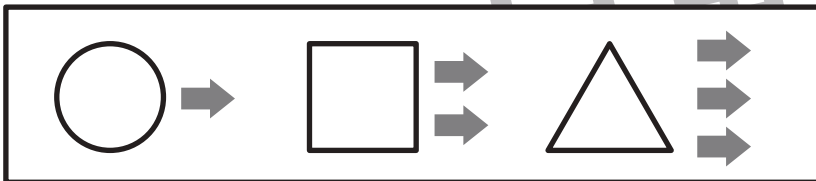



おうちで、やろう。

Study at home. 小学校受験の家庭学習教材

図形：移動④

上の太枠に約束があります。左の太枠は進む向きを表しています。ブタは下に、ウシは左に、ネズミは右上に進む約束です。右の太枠は進むかすを表しています。○は1回、□は2回、△は3回進みます。問題の上の①～④の数字の横に、記号の中に動物が描かれたものがいくつかあります。このマークは左から見ていきます。向きとかすをよく考えて、★の場所からスタートしてどこに着くかを答えます。逆り着くマスに×印を付けましょう。マークが逆さになったら、進む向きも逆さまになります。



※1. このプリントは、しながわ・目黒こどもスクールのウェブサイトでダウンロードができます。無断複写・引用はご遠慮ください。
※2. このプリントを活用したオンライン授業のスケジュールは、しながわ・目黒こどもスクールのウェブサイトでご確認ください。




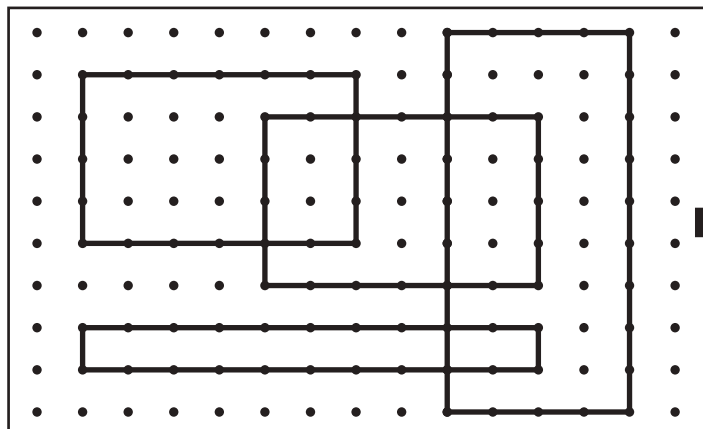

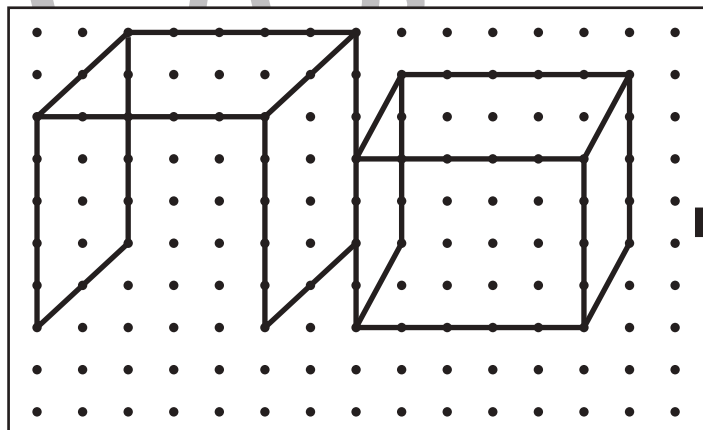

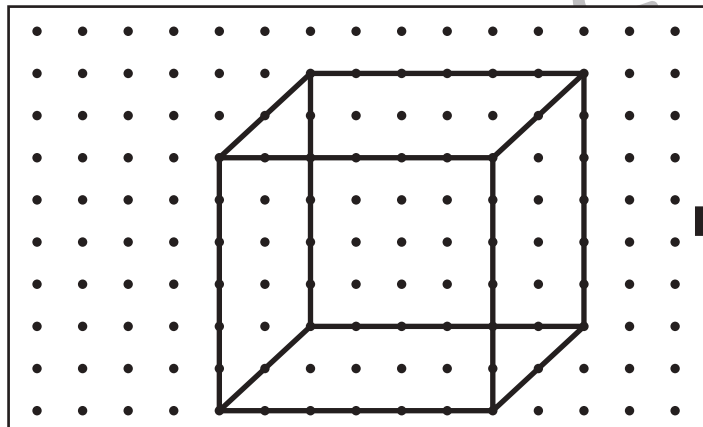

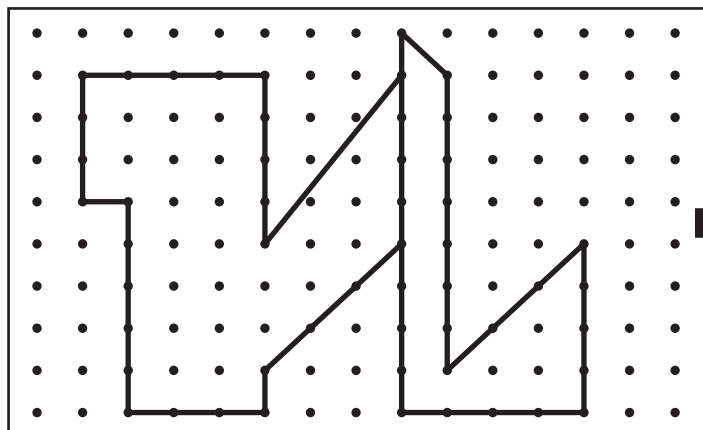


おうちで、よろう。

Study at home. 小学校受験の家庭学習教材

図形：点図形②①

左のお手本と同じになるように右の四角の点と点を結びます。
※このプリントに解答はありません。



※1. このプリントは、しながわ・目黒こどもスクールのウェブサイトからダウンロードできます。無断複写・引用はご遠慮ください。
※2. このプリントを活用したオンライン授業のスケジュールは、しながわ・目黒こどもスクールのウェブサイトでご確認ください。