



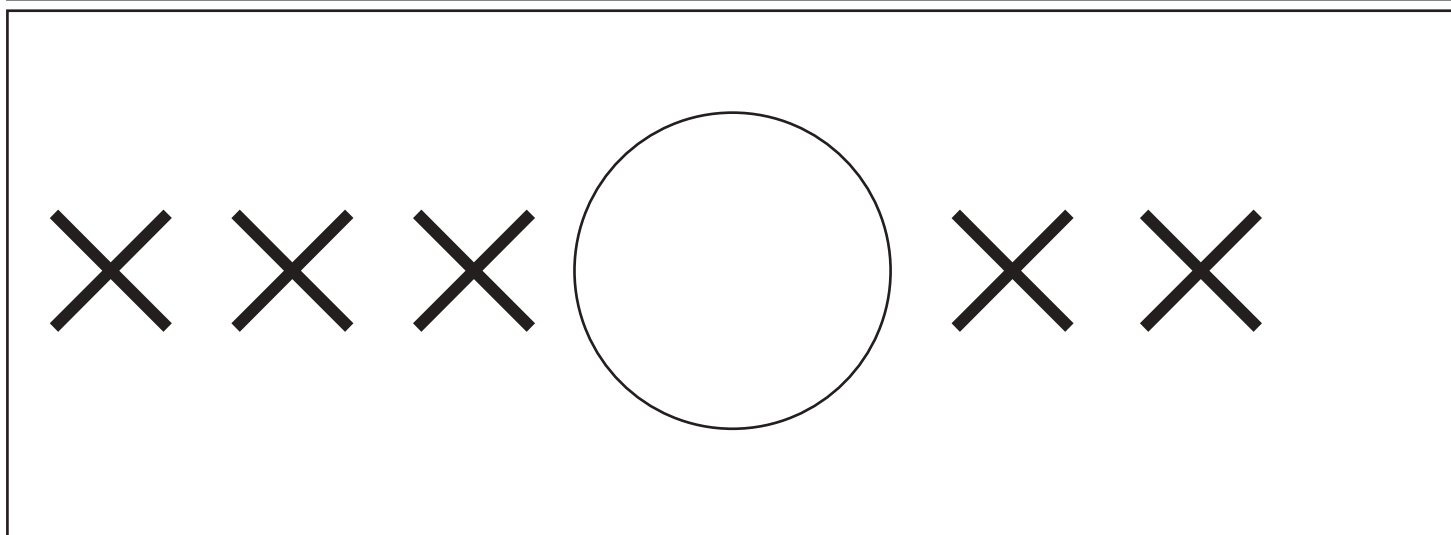


# おうちで、やろう。

Study at home. 小学校受験の家庭学習教材

## 指示の聞き取り⑩

それぞれの設問に答えましょう。指示は1度ですべて読み上げます。しっかり聞いて取り組みましょう。

- ①鉛筆で○を横に並べて3つ描きます。このとき、左からだんだん小さくなるように描きます。
- ②鉛筆で左から○△の順番にそれぞれの記号を3つずつ描きます。左端と右端の形は塗ります。
- ③鉛筆で四角の真ん中に○を描きます。丸の右には×を2つ、丸の左には×を3つ描きます。



※1. このプリントは、しながわ・目黒こどもスクールのウェブサイトでダウンロードができます。無断複写・引用はご遠慮ください。  
※2. このプリントを活用したオンライン授業のスケジュールは、しながわ・目黒こどもスクールのウェブサイトでご確認ください。



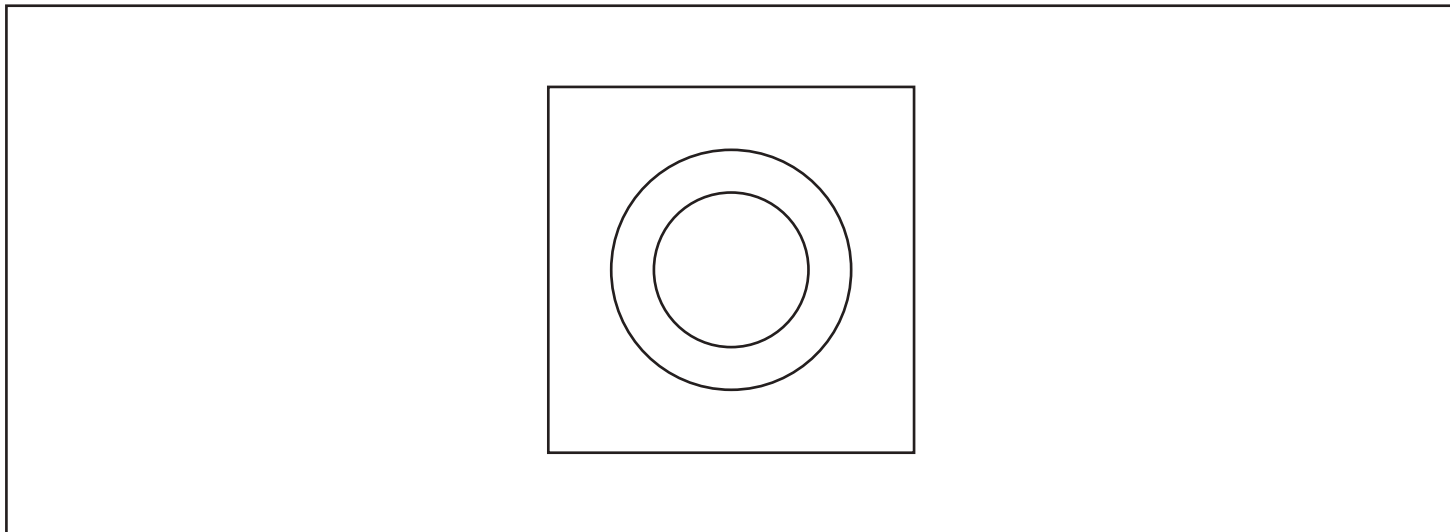
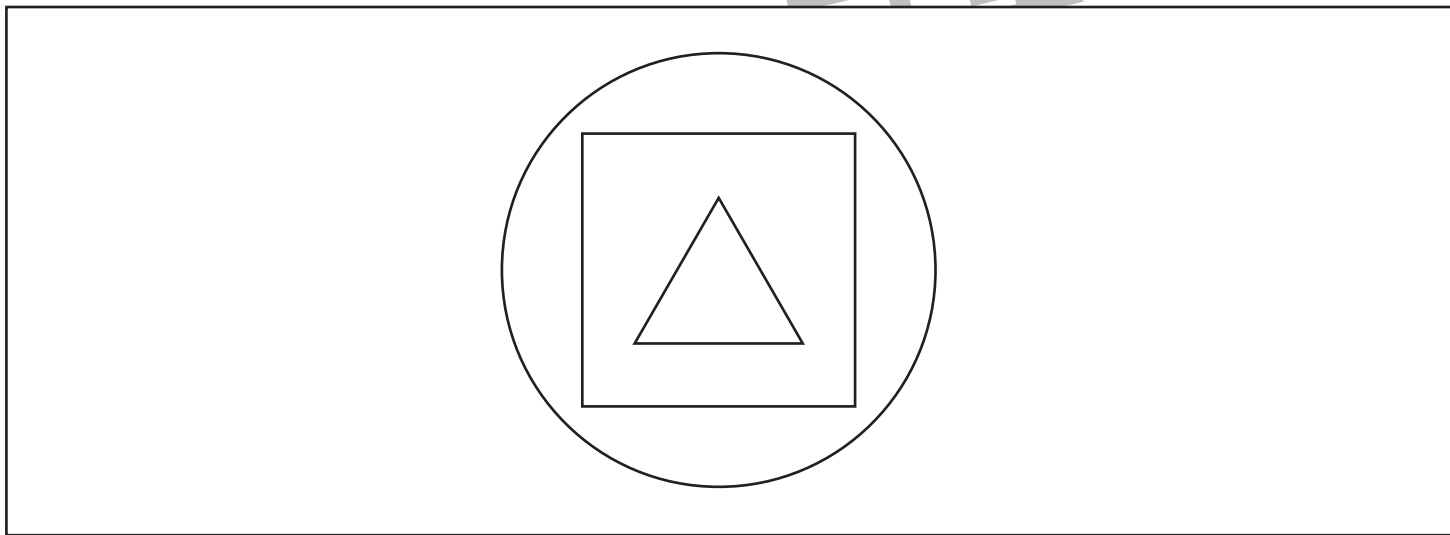
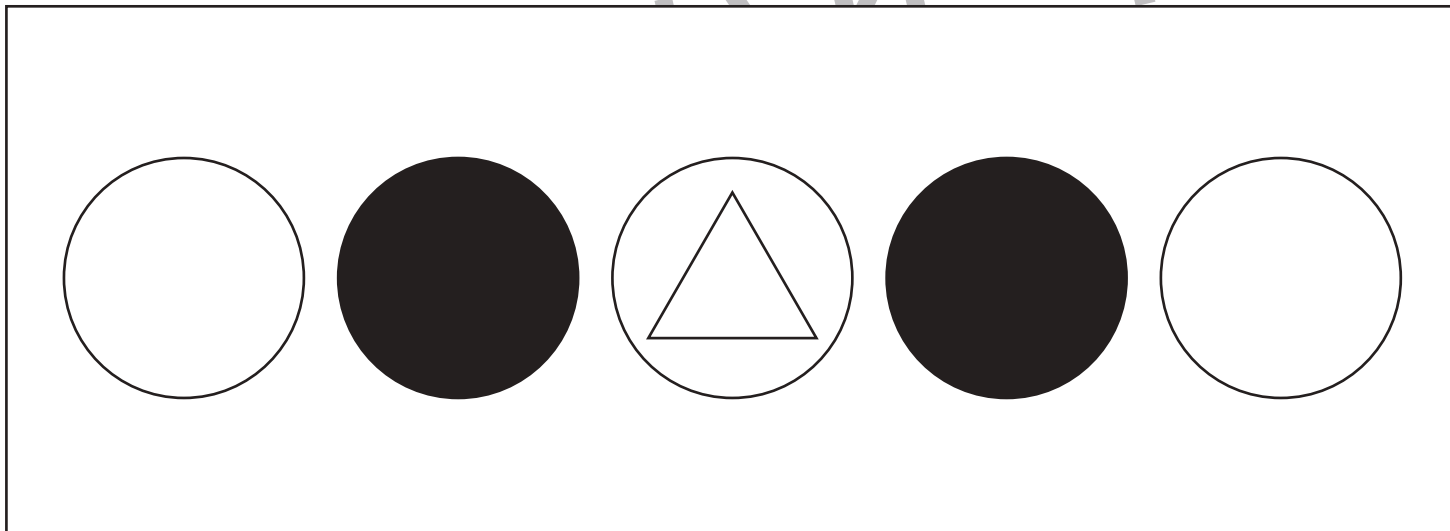
# おうちで、やろう。

Study at home. 小学校受験の家庭学習教材

## 指示の聞き取り⑰

それぞれの設問に答えましょう。指示は1度ですべて読み上げます。しっかり聞いて取り組みましょう。

- ①黒のクーピーで同じ大きさの○を横に5つ描きます。真ん中の○の中に△を、左から2番目と右から2番目の○の中を塗ります。
- ②黒のクーピーで真ん中に□を描きます。□の内側には△を、□の外側には○を描きます。
- ③黒のクーピーで真ん中に○を描きます。○の外側には緑のクーピーで□を、○の内側には青のクーピーで少し小さい○を描きます。



※1. このプリントは、しながわ・目黒こどもスクールのウェブサイトでダウンロードができます。無断複写・引用はご遠慮ください。  
※2. このプリントを活用したオンライン授業のスケジュールは、しながわ・目黒こどもスクールのウェブサイトでご確認ください。



# おうちで、やろう。

Study at home. 小学校受験の家庭学習教材

推理：条件推理③⑤

左の四角の中のマッチ棒の数に1本足してできる形を右からすべて選び○をつけます。

|  |  |  |  |  |
|--|--|--|--|--|
|  |  |  |  |  |
|--|--|--|--|--|

|  |  |  |  |  |
|--|--|--|--|--|
|  |  |  |  |  |
|--|--|--|--|--|

|  |  |  |  |  |
|--|--|--|--|--|
|  |  |  |  |  |
|--|--|--|--|--|

|  |  |  |  |  |
|--|--|--|--|--|
|  |  |  |  |  |
|--|--|--|--|--|

|  |  |  |  |  |
|--|--|--|--|--|
|  |  |  |  |  |
|--|--|--|--|--|

※1. このプリントは、しながわ・目黒こどもスクールのウェブサイトでダウンロードができます。無断複写・引用はご遠慮ください。

※2. このプリントを活用したオンライン授業のスケジュールは、しながわ・目黒こどもスクールのウェブサイトでご確認ください。



# おうちで、やろう。

Study at home. 小学校受験の家庭学習教材

推理：条件推理③⑥

左の四角の中のマッチ棒の数に2本足してできる形を右からすべて選び○をつけます

|  |  |  |  |  |
|--|--|--|--|--|
|  |  |  |  |  |
|--|--|--|--|--|

|  |  |  |  |  |
|--|--|--|--|--|
|  |  |  |  |  |
|--|--|--|--|--|

|  |  |  |  |  |
|--|--|--|--|--|
|  |  |  |  |  |
|--|--|--|--|--|

|  |  |  |  |  |
|--|--|--|--|--|
|  |  |  |  |  |
|--|--|--|--|--|

|  |  |  |  |  |
|--|--|--|--|--|
|  |  |  |  |  |
|--|--|--|--|--|

※1. このプリントは、しながわ・目黒こどもスクールのウェブサイトでダウンロードができます。無断複写・引用はご遠慮ください。

※2. このプリントを活用したオンライン授業のスケジュールは、しながわ・目黒こどもスクールのウェブサイトでご確認ください。



# おうちで、やろう。

Study at home. 小学校受験の家庭学習教材

## 推理：条件推理③⑦

左の四角の中のマッチ棒の数に1本少ない数でできる形を右からすべて選び○をつけます。

|  |  |  |  |  |
|--|--|--|--|--|
|  |  |  |  |  |
|--|--|--|--|--|

|  |  |  |  |  |
|--|--|--|--|--|
|  |  |  |  |  |
|--|--|--|--|--|

|  |  |  |  |  |
|--|--|--|--|--|
|  |  |  |  |  |
|--|--|--|--|--|

|  |  |  |  |  |
|--|--|--|--|--|
|  |  |  |  |  |
|--|--|--|--|--|

|  |  |  |  |  |
|--|--|--|--|--|
|  |  |  |  |  |
|--|--|--|--|--|

※1. このプリントは、しながわ・目黒こどもスクールのウェブサイトでダウンロードができます。無断複写・引用はご遠慮ください。

※2. このプリントを活用したオンライン授業のスケジュールは、しながわ・目黒こどもスクールのウェブサイトでご確認ください。




# おうちで、やろう。


Study at home. 小学校受験の家庭学習教材

数量：多少④


四つの四角の中には動物の絵が描いてあります。この中で2番目に多い動物の数だけ下のマス目に○を書きます。




|   |   |   |   |   |   |  |  |  |  |
|---|---|---|---|---|---|--|--|--|--|
| ○ | ○ | ○ | ○ | ○ | ○ |  |  |  |  |
|---|---|---|---|---|---|--|--|--|--|



|   |   |   |   |   |  |  |  |  |  |
|---|---|---|---|---|--|--|--|--|--|
| ○ | ○ | ○ | ○ | ○ |  |  |  |  |  |
|---|---|---|---|---|--|--|--|--|--|



|   |   |   |   |   |   |   |   |  |  |
|---|---|---|---|---|---|---|---|--|--|
| ○ | ○ | ○ | ○ | ○ | ○ | ○ | ○ |  |  |
|---|---|---|---|---|---|---|---|--|--|



|   |   |   |   |   |   |   |  |  |  |
|---|---|---|---|---|---|---|--|--|--|
| ○ | ○ | ○ | ○ | ○ | ○ | ○ |  |  |  |
|---|---|---|---|---|---|---|--|--|--|

※1. このプリントは、しながわ・目黒こどもスクールのウェブサイトからダウンロードできます。無断複写・引用はご遠慮ください。  
 ※2. このプリントを活用したオンライン授業のスケジュールは、しながわ・目黒こどもスクールのウェブサイトでご確認ください。




# おうちで、やろう。


Study at home. 小学校受験の家庭学習教材

数量：多少⑤


四つの四角の中には動物の絵が描いてあります。この中で3番目に多い動物の数だけ下のマス目に○を書きます。




|   |   |   |   |   |   |  |  |  |  |
|---|---|---|---|---|---|--|--|--|--|
| ○ | ○ | ○ | ○ | ○ | ○ |  |  |  |  |
|---|---|---|---|---|---|--|--|--|--|



|   |   |   |   |   |   |  |  |  |  |
|---|---|---|---|---|---|--|--|--|--|
| ○ | ○ | ○ | ○ | ○ | ○ |  |  |  |  |
|---|---|---|---|---|---|--|--|--|--|



|   |   |   |   |   |   |   |   |  |  |
|---|---|---|---|---|---|---|---|--|--|
| ○ | ○ | ○ | ○ | ○ | ○ | ○ | ○ |  |  |
|---|---|---|---|---|---|---|---|--|--|



|   |   |   |   |   |   |   |   |  |  |
|---|---|---|---|---|---|---|---|--|--|
| ○ | ○ | ○ | ○ | ○ | ○ | ○ | ○ |  |  |
|---|---|---|---|---|---|---|---|--|--|

※1. このプリントは、しながわ・目黒こどもスクールのウェブサイトでダウンロードができます。無断複写・引用はご遠慮ください。

※2. このプリントを活用したオンライン授業のスケジュールは、しながわ・目黒こどもスクールのウェブサイトでご確認ください。



# おうちで、やろう。

Study at home. 小学校受験の家庭学習教材

数量：多少⑥

四つの四角の中には動物の絵が描いてあります。一番多い動物と一番少ない動物の数の違いだけ○をかきます。

|   |   |   |  |
|---|---|---|--|
|   |   |   |  |
| ○ | ○ | ○ |  |

|   |   |   |   |
|---|---|---|---|
|   |   |   |   |
| ○ | ○ | ○ | ○ |

|   |   |   |   |
|---|---|---|---|
|   |   |   |   |
| ○ | ○ | ○ | ○ |

|   |   |   |   |
|---|---|---|---|
|   |   |   |   |
| ○ | ○ | ○ | ○ |

※1. このプリントは、しながわ・目黒こどもスクールのウェブサイトでダウンロードができます。無断複写・引用はご遠慮ください。  
 ※2. このプリントを活用したオンライン授業のスケジュールは、しながわ・目黒こどもスクールのウェブサイトでご確認ください。