



おうちで、やろう。

Study at home. 小学校受験の家庭学習教材

指示の聞き取り⑱


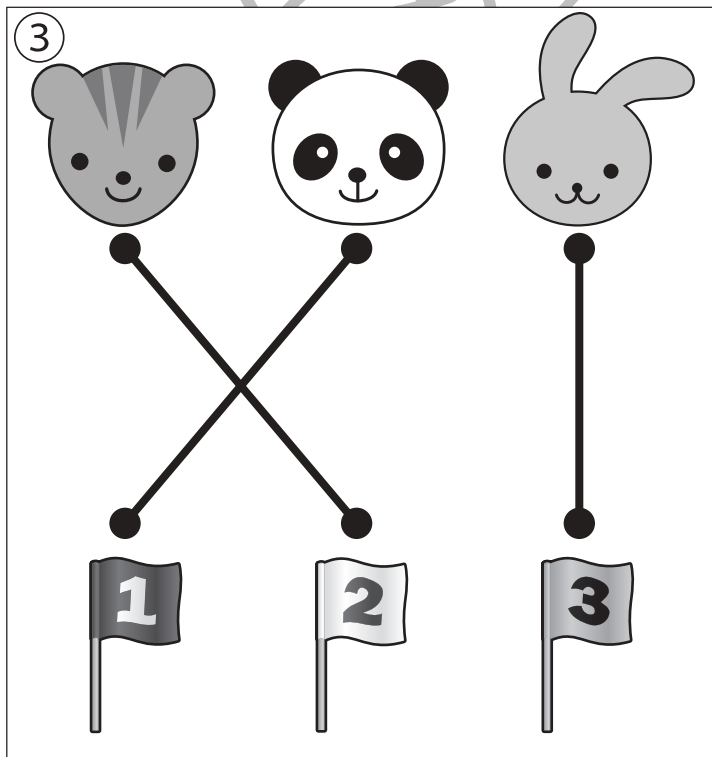


お話を聞いた後で動物たちがかけっこで何位だったか考えて線を引きましょう。

①ウサギさんはスタートの笛が鳴ると一番先に飛び出していきました。その後にリスさんがウサギさんの後を追っています。パンダさんはのんびり歩いて二匹の後を追っています。3匹はそのままの順番でゴールにつきました。

②スタートの笛が鳴ると、パンダさんが全力疾走し、今の順位はパンダさん、リスさん、ウサギさんの順番で走っています。ところがパンダさんはゴール直前で転んでしまい最後にゴールしました。ほかの二匹はそのままの順番でゴールしました。

③スタートの笛が鳴った後、パンダさんの前にはウサギさんが、後ろにはリスさんが走っています。パンダさんがゴールの手前でウサギさんを追い抜きました。パンダさんにつづいてリスさんもウサギさんを追い抜きゴールしました。

④リスさんはスタートの笛が鳴ると一番先に飛び出していきました。そのあとにはパンダさんとウサギさんが走っています。リスさんは途中でどんぐりが落ちていてのを見つけて、立ち止まってしまいました。止まったリスさんにびっくりしてパンダさんも止まってしまいました。リスさんをよけて走りました。二匹の横をウサギさんは通り抜けて1番先にゴールしました。



※1. このプリントは、しながわ・目黒こどもスクールのウェブサイトでダウンロードができます。無断複写・引用はご遠慮ください。

※2. このプリントを活用したオンライン授業のスケジュールは、しながわ・目黒こどもスクールのウェブサイトでご確認ください。



おうちで、やろう。

Study at home. 小学校受験の家庭学習教材

図形：構成③⑥

上の太い四角の中がお手本の形です。下の四角の中にはお手本をバラバラにしたものがあります。下の四角の中の形を使ってお手本の形に戻したとき、使わないものを1つ選んで×をつけます。

※1. このプリントは、しながわ・目黒こどもスクールのウェブサイトでダウンロードができます。無断複写・引用はご遠慮ください。

※2. このプリントを活用したオンライン授業のスケジュールは、しながわ・目黒こどもスクールのウェブサイトでご確認ください。



おうちで、やろう。

Study at home. 小学校受験の家庭学習教材

数量：違う数④

男の子がいまいるマスの場所から右に向かって進んでいきます。上の四角の中にある2種類のおやつを数比べて、違う数だけ進むことができます。同じ数のときは進むことができません。一番右の四角までおなじ約束でマスを進んだとき、どこに着くかを考えてその場所に○をつけましょう。

①

○

②

○

③

○

④

○

※1. このプリントは、しながわ・目黒こどもスクールのウェブサイトからダウンロードできます。無断複写・引用はご遠慮ください。

※2. このプリントを活用したオンライン授業のスケジュールは、しながわ・目黒こどもスクールのウェブサイトでご確認ください。



おうちで、やろう。

Study at home. 小学校受験の家庭学習教材

数量：違う数⑤

男の子がいまいるマスの場所から右に向かって進んでいきます。上の四角の中にある2種類のおやつを比べて、違う数だけ進むことができます。点線の枠の四角は違いの数を調べて、その数だけ来た道に戻ります。同じ数のときは進むことができません。一番右の四角までおなじ約束でマスを進んだとき、どこに着くかを考えてその場所に○をつけましょう。

①

15 squares path: [] [] [] [○] [] [] [] [] [] [] [] [] [] [] []

②

15 squares path: [] [] [] [] [] [○] [] [] [] [] [] [] [] [] []

③

15 squares path: [○] [] [] [] [] [] [] [] [] [] [] [] [] [] []

④

15 squares path: [] [] [] [] [○] [] [] [] [] [] [] [] [] [] []

※1. このプリントは、しながわ・目黒こどもスクールのウェブサイトからダウンロードできます。無断複写・引用はご遠慮ください。
※2. このプリントを活用したオンライン授業のスケジュールは、しながわ・目黒こどもスクールのウェブサイトでご確認ください。





おうちで、やろう。

Study at home. 小学校受験の家庭学習教材

数量：計数⑬

真ん中の大きな四角の中にはいろいろな形があります。それぞれの形の数を数えて、外側にある四角の中にその数だけ〇をかきます。

		5	
3			7
4			6
		8	

※1. このプリントは、しながわ・目黒こどもスクールのウェブサイトでダウンロードができます。無断複写・引用はご遠慮ください。

※2. このプリントを活用したオンライン授業のスケジュールは、しながわ・目黒こどもスクールのウェブサイトでご確認ください。










おうちで、やろう。

Study at home. 小学校受験の家庭学習教材

数量：計数⑰

真ん中の大きな四角の中にはいろいろな形があります。それぞれの形の数を数えて、外側にある四角の中にその数だけ〇をかきます。

		10	
4			9
			
8			8
	6		

※1. このプリントは、しながわ・目黒こどもスクールのウェブサイトでダウンロードができます。無断複写・引用はご遠慮ください。

※2. このプリントを活用したオンライン授業のスケジュールは、しながわ・目黒こどもスクールのウェブサイトでご確認ください。


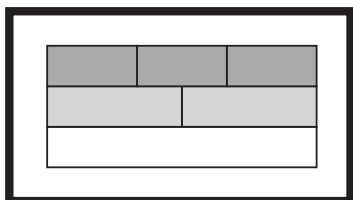


おうちで、やろう。

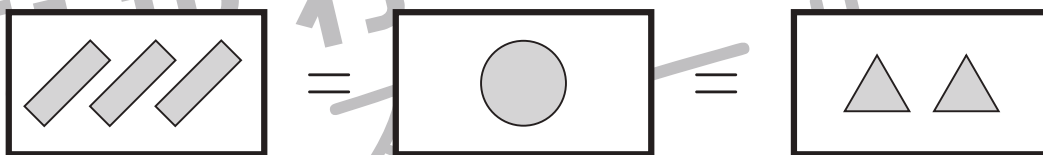
Study at home. 小学校受験の家庭学習教材

数量：置き換え⑫

太い四角が2つあります。左の四角と同じ長さになるものには○、右の四角の中と同じ長さになるものには△を下の四角の中から選んでかきましょう。



上の3つの太い四角が約束です。それぞれの四角の中が1人分、例えば長四角3つは丸1つ、または三角2つに変えることができます。下の9つの四角の中の形はそれぞれ何人分あるのかを考えます。同じ人数分のもものが2つありますので、その2つを見つけて○をつけます。



※1. このプリントは、しながわ・目黒こどもスクールのウェブサイトでダウンロードができます。無断複写・引用はご遠慮ください。

※2. このプリントを活用したオンライン授業のスケジュールは、しながわ・目黒こどもスクールのウェブサイトでご確認ください。



おうちで、やろう。

Study at home. 小学校受験の家庭学習教材

数量：等分④

左の四角の子どもたちが持っている果物を全部合わせてそれぞれの果物をみんなで仲良く同じ数になるように分けます。正しいものを右の四角の中から選んで○をつけます。

※1. このプリントは、しながわ・目黒こどもスクールのウェブサイトでダウンロードができます。無断複写・引用はご遠慮ください。

※2. このプリントを活用したオンライン授業のスケジュールは、しながわ・目黒こどもスクールのウェブサイトでご確認ください。



おうちで、やろう。

Study at home. 小学校受験の家庭学習教材

数量：等分⑤

左の四角の子どもたちが持っている果物を全部合わせてそれぞれの果物をみんなで仲良く同じ数になるように分けます。正しいものを右の四角の中から選んで○をつけます。

--	--	--	--	--

--	--	--	--	--

--	--	--	--	--

--	--	--	--	--

--	--	--	--	--

※1. このプリントは、しながわ・目黒こどもスクールのウェブサイトでダウンロードができます。無断複写・引用はご遠慮ください。
 ※2. このプリントを活用したオンライン授業のスケジュールは、しながわ・目黒こどもスクールのウェブサイトでご確認ください。