




おうちで、やろう。

Study at home. 小学校受験の家庭学習教材

常識：なぞなぞ⑤

①～⑤の問題を聞いて、下の四角の中から正しいものを選びます。

- ①私は悪い人を捕まえたり、困っている人を助ける仕事をする人を乗せる乗り物です。私に○をつけてください。
- ②私は空を飛ぶ乗り物ですが、火を使って空気を温めて飛びます。私に△をつけてください。
- ③私は一度にたくさんの人を乗せて道を走る乗り物です。私に□をつけてください。
- ④私は人が自分でこいで動く乗り物です。タイヤは2つしかありません。私に◎をつけてください。
- ⑤私は空を飛ぶ乗り物です。上についているプロペラを回して動きます。私に×をつけてください。



※1. このプリントは、しながわ・目黒こどもスクールのウェブサイトでダウンロードができます。無断複写・引用はご遠慮ください。
 ※2. このプリントを活用したオンライン授業のスケジュールは、しながわ・目黒こどもスクールのウェブサイトでご確認ください。



おうちで、やろう。

Study at home. 小学校受験の家庭学習教材

推理：四方観察⑭

四角の中の積み木は白い積み木と黒い積み木で作った形です。それぞれの積み木を真上から見たとき、白い積み木と黒い積み木はどちらが多く見えますか。多く見えるほうの積み木を下の四角の中から選んで○をつけます。

Top panel: A 3D structure of blocks. The base is a 2x2 square. The back-right corner has a 1x1x2 block stacked on top.

Bottom panel: Two cubes are shown. The white cube is on the left, and the black cube is on the right and circled with a thick black line.

Top panel: A 3D structure of blocks. The base is a 2x2 square. The back-left corner has a 1x1x2 block stacked on top.

Bottom panel: Two cubes are shown. The white cube is on the left and circled with a thick black line, and the black cube is on the right.

Top panel: A 3D structure of blocks. The base is a 2x2 square. The front-left corner has a 1x1x2 block stacked on top.

Bottom panel: Two cubes are shown. The white cube is on the left, and the black cube is on the right and circled with a thick black line.

Top panel: A 3D structure of blocks. The base is a 2x2 square. The front-right corner has a 1x1x2 block stacked on top.

Bottom panel: Two cubes are shown. The white cube is on the left and circled with a thick black line, and the black cube is on the right.

Top panel: A 3D structure of blocks. The base is a 2x2 square. The back-right corner has a 1x1x2 block stacked on top.

Bottom panel: Two cubes are shown. The white cube is on the left and circled with a thick black line, and the black cube is on the right.

Top panel: A 3D structure of blocks. The base is a 2x2 square. The front-left corner has a 1x1x2 block stacked on top.

Bottom panel: Two cubes are shown. The white cube is on the left, and the black cube is on the right and circled with a thick black line.

※1. このプリントは、しながわ・目黒こどもスクールのウェブサイトでダウンロードができます。無断複写・引用はご遠慮ください。
 ※2. このプリントを活用したオンライン授業のスケジュールは、しながわ・目黒こどもスクールのウェブサイトでご確認ください。

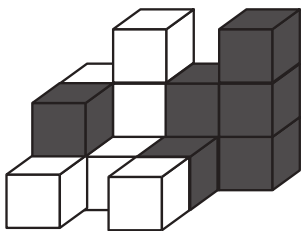
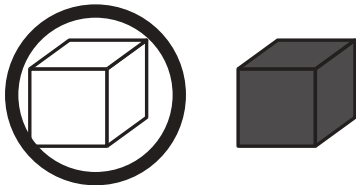
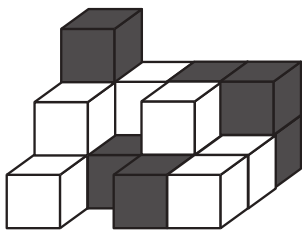
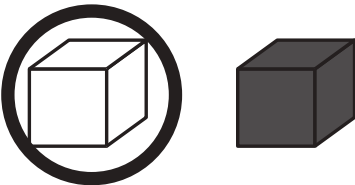
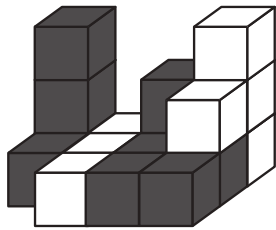
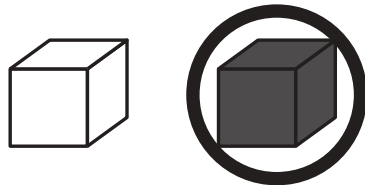
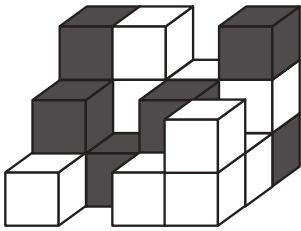
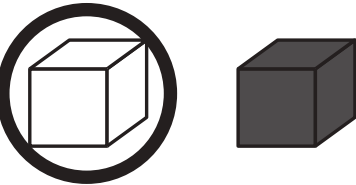
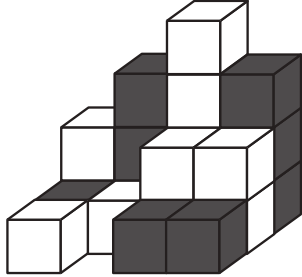
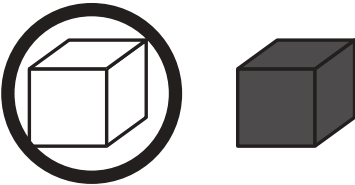
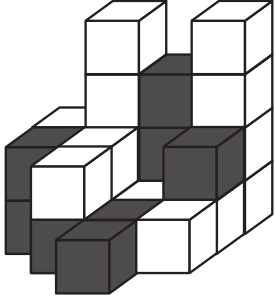
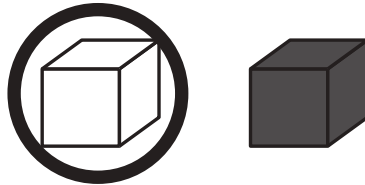


おうちで、やろう。

Study at home. 小学校受験の家庭学習教材

推理：四方観察⑮

四角の中の積み木は白い積み木と黒い積み木で作った形です。それぞれの積み木を真上から見たとき、白い積み木と黒い積み木はどちらが多く見えますか。多く見えるほうの積み木を下の四角の中から選んで○をつけます。

※1. このプリントは、しながわ・目黒こどもスクールのウェブサイトでダウンロードができます。無断複写・引用はご遠慮ください。
 ※2. このプリントを活用したオンライン授業のスケジュールは、しながわ・目黒こどもスクールのウェブサイトでご確認ください。




おうちで、やろう。


Study at home. 小学校受験の家庭学習教材

推理：四方観察⑬


四角の中の積み木は白い積み木と黒い積み木で作った形です。女の子が見ている白い積み木と黒い積み木の数の違いはいくつですか。その数だけ下の四角に○をかきます。




○×1




○×2




○×2



○×2



○×3



○×5

※1. このプリントは、しながわ・目黒こどもスクールのウェブサイトでダウンロードができます。無断複写・引用はご遠慮ください。
※2. このプリントを活用したオンライン授業のスケジュールは、しながわ・目黒こどもスクールのウェブサイトでご確認ください。




おうちで、やろう。


Study at home. 小学校受験の家庭学習教材

推理：四方観察⑰


四角の中の積み木は白い積み木と黒い積み木で作った形です。女の子が見ている白い積み木と黒い積み木の数の違いはいくつですか。その数だけ下の四角に○をかきます。




○×2




○×1




○×2



○×2



○×2



○×1

※1. このプリントは、しながわ・目黒こどもスクールのウェブサイトでダウンロードができます。無断複写・引用はご遠慮ください。
※2. このプリントを活用したオンライン授業のスケジュールは、しながわ・目黒こどもスクールのウェブサイトでご確認ください。



おうちで、やろう。

Study at home. 小学校受験の家庭学習教材

数量：合わせた数⑨

お話をよく聞いて問題に答えます。

① 2つの四角の中のリンゴの数を合わせると一番多くなる組み合わせを見つけて2つの四角に○をつけましょう。

--	--	--	--

② 2つの四角の中のミカンの数を合わせると一番多くなる組み合わせを見つけて2つの四角に○をつけましょう。

--	--	--	--

③ 2つの四角の中のメロンの数を合わせると一番多くなる組み合わせを見つけて2つの四角に○をつけましょう。

--	--	--	--

④ 2つの四角の中のイチゴの数を合わせると一番多くなる組み合わせを見つけて2つの四角に○をつけましょう。

--	--	--	--

※1. このプリントは、しながわ・目黒こどもスクールのウェブサイトからダウンロードできます。無断複写・引用はご遠慮ください。

※2. このプリントを活用したオンライン授業のスケジュールは、しながわ・目黒こどもスクールのウェブサイトでご確認ください。




おうちで、やろう。

Study at home. 小学校受験の家庭学習教材

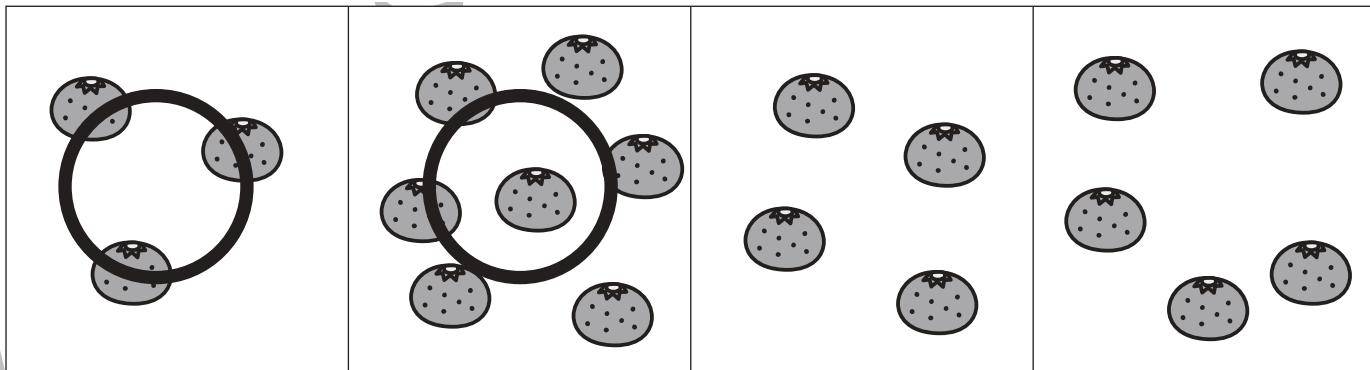
数量：合わせた数⑩

お話をよく聞いて問題に答えます。

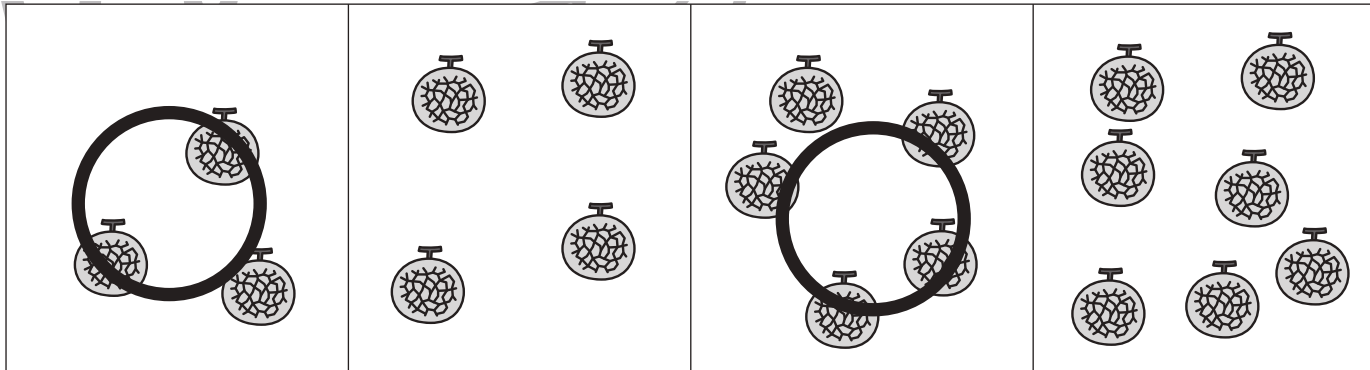
① 2つの四角の中のリンゴの数を合わせると2番目に多くなる組み合わせを見つけて2つの四角に○をつけましょう。



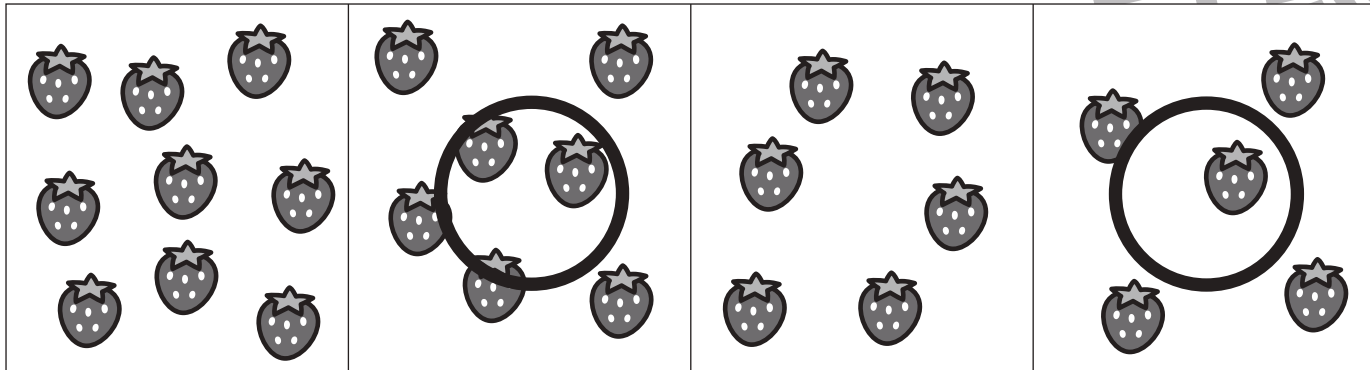
② 2つの四角の中のミカンの数を合わせると3番目に多くなる組み合わせを見つけて2つの四角に○をつけましょう。



③ 2つの四角の中のメロンの数を合わせると2番目に少なくなる組み合わせを見つけて2つの四角に○をつけましょう。



④ 2つの四角の中のイチゴの数を合わせると2番目に少なくなる組み合わせを見つけて2つの四角に○をつけましょう。



※1. このプリントは、しながわ・目黒こどもスクールのウェブサイトダウンロードができます。無断複写・引用はご遠慮ください。

※2. このプリントを活用したオンライン授業のスケジュールは、しながわ・目黒こどもスクールのウェブサイトでご確認ください。