



おうちで、やろう。

Study at home. 小学校受験の家庭学習教材

常識：なぞなぞ⑤

①～⑤の問題を聞いて、下の四角の中から正しいものを選びます。




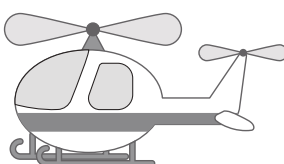

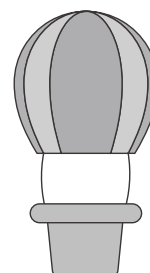



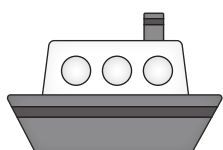


①私は悪い人を捕まえたり、困っている人を助ける仕事をする人を乗せる乗り物です。私に○をつけてください。

②私は空を飛ぶ乗り物ですが、火を使って空気を温めて飛びます。私に△をつけてください。

③私は一度にたくさんの人を乗せて道を走る乗り物です。私に□をつけてください。

④私は人が自分でこいで動く乗り物です。タイヤは2つしかありません。私に◎をつけてください。

⑤私は空を飛ぶ乗り物です。上についているプロペラを回して動きます。私に×をつけてください。



※1. このプリントは、しながわ・目黒こどもスクールのウェブサイトでダウンロードができます。無断複写・引用はご遠慮ください。

※2. このプリントを活用したオンライン授業のスケジュールは、しながわ・目黒こどもスクールのウェブサイトでご確認ください。



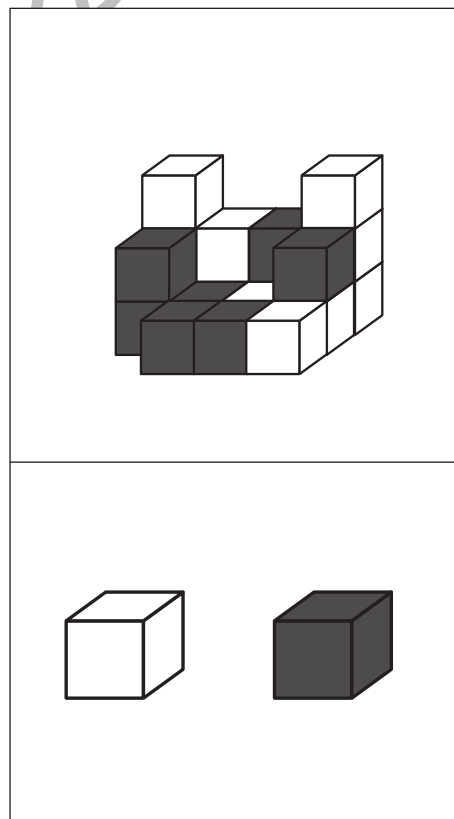
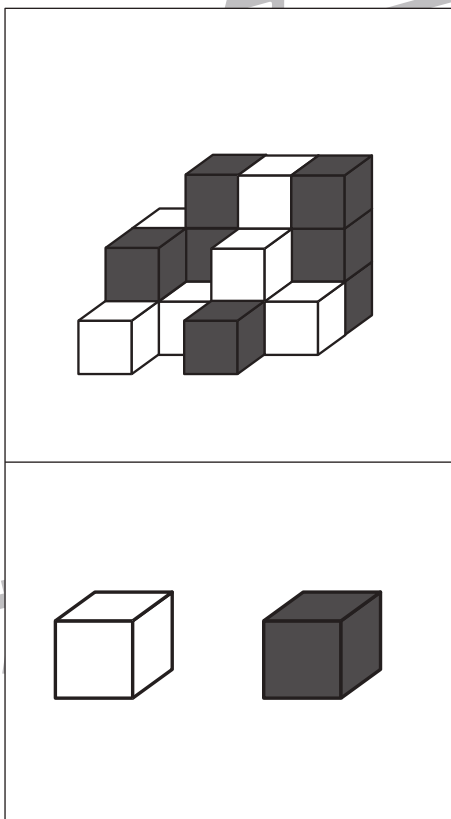
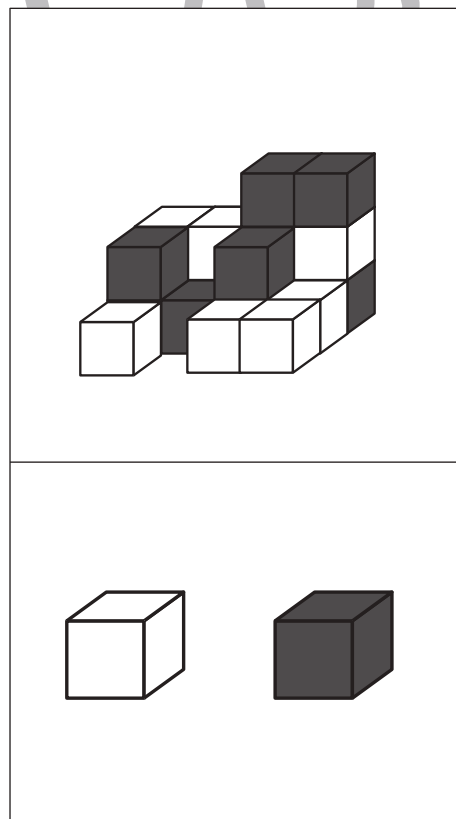
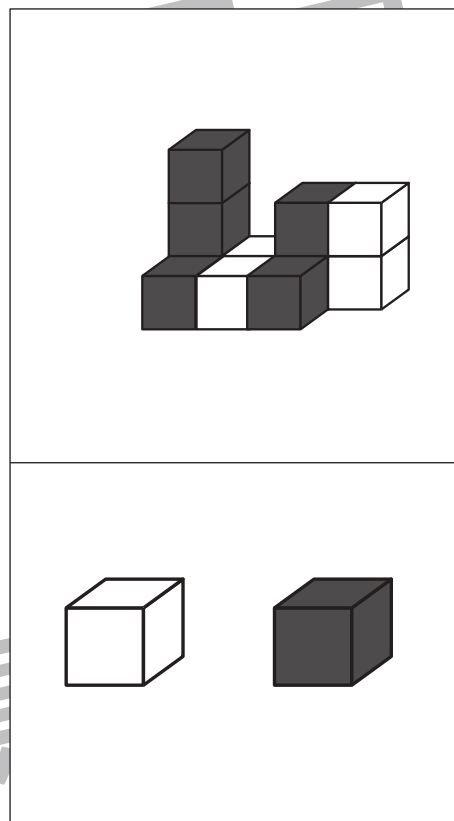
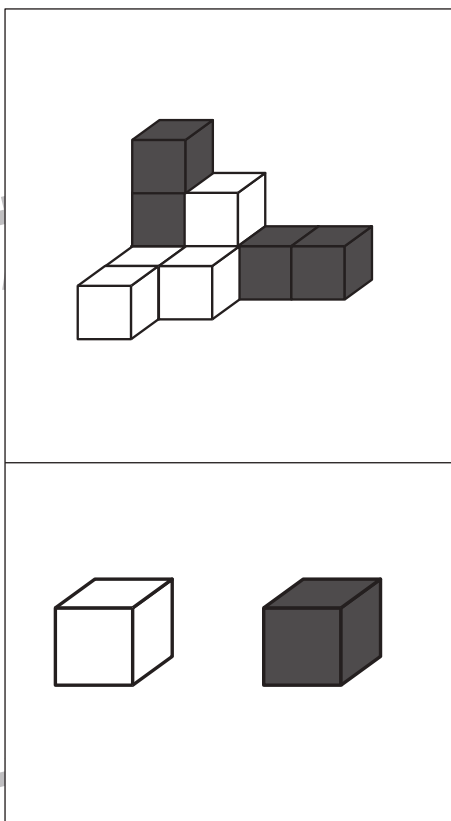
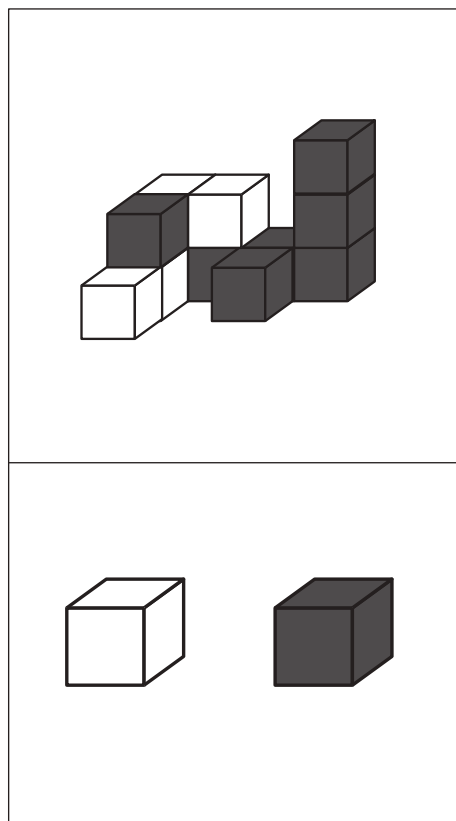


おうちで、やろう。

Study at home. 小学校受験の家庭学習教材

推理：四方観察⑭

四角の中の積み木は白い積み木と黒い積み木で作った形です。それぞれの積み木を真上から見たとき、白い積み木と黒い積み木はどちらが多く見えますか。多く見えるほうの積み木を下の四角の中から選んで○をつけます。



※1. このプリントは、しながわ・目黒こどもスクールのウェブサイトでダウンロードができます。無断複写・引用はご遠慮ください。

※2. このプリントを活用したオンライン授業のスケジュールは、しながわ・目黒こどもスクールのウェブサイトでご確認ください。

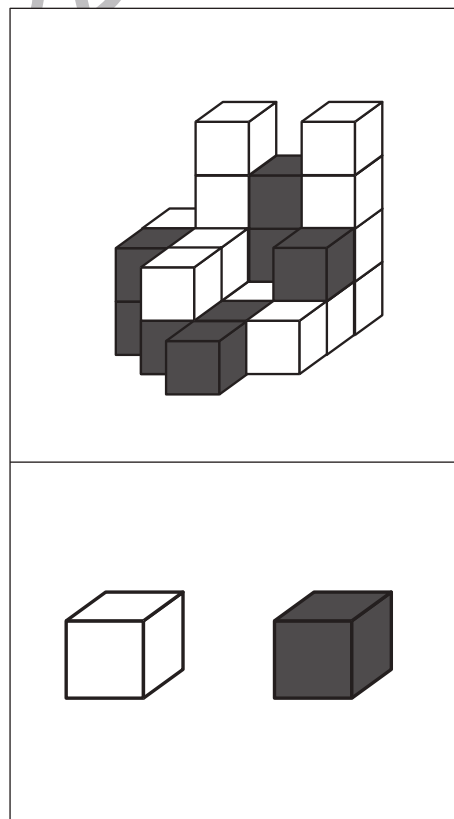
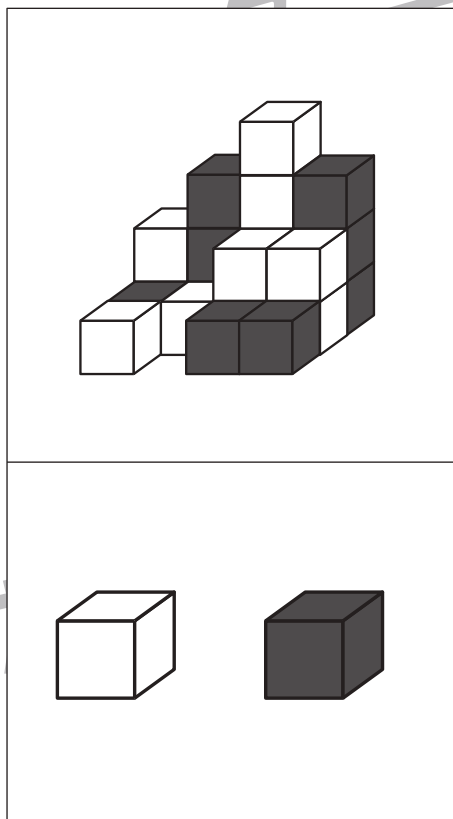
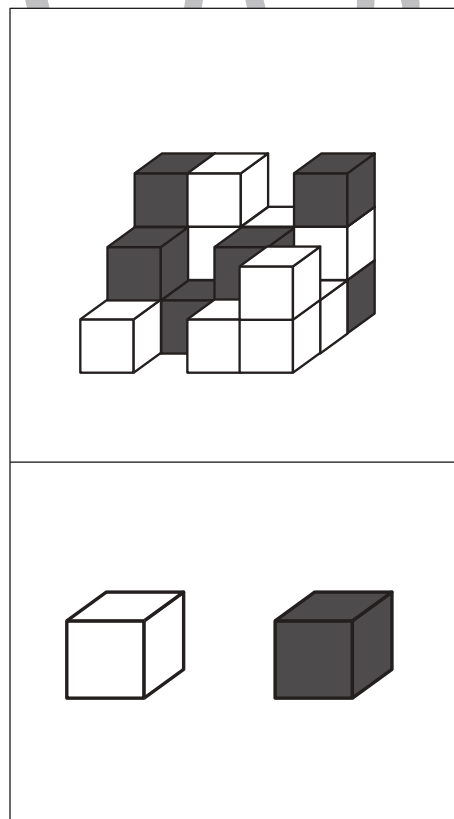
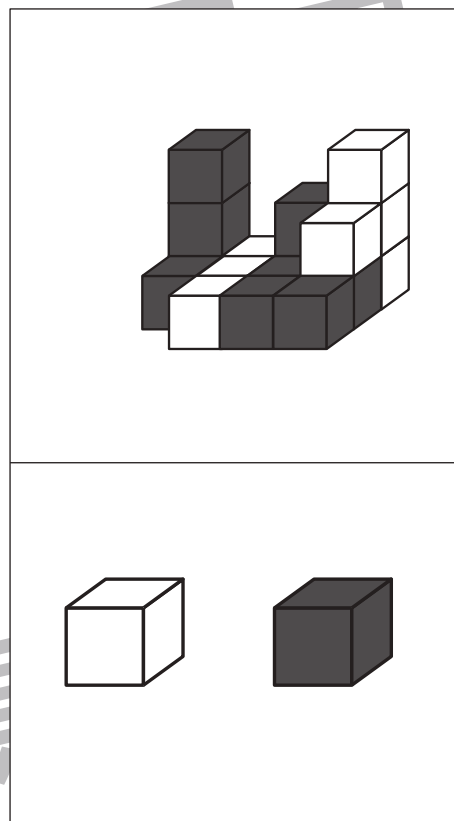
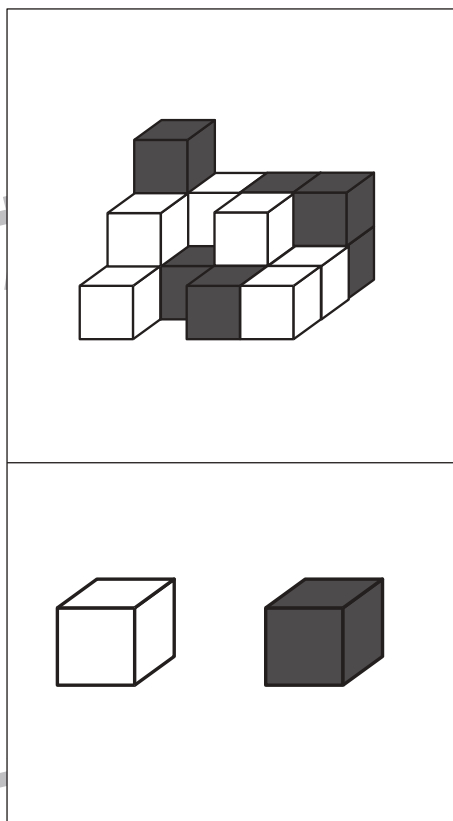
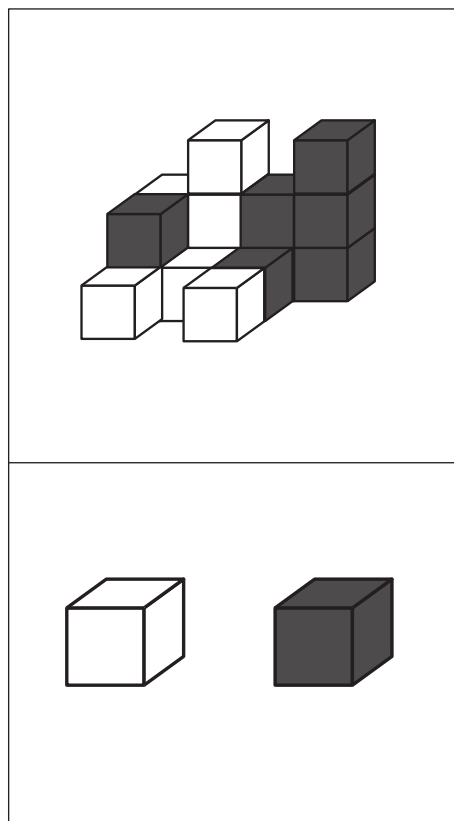


おうちで、やろう。

Study at home. 小学校受験の家庭学習教材

推理：四方観察⑮

四角の中の積み木は白い積み木と黒い積み木で作った形です。それぞれの積み木を真上から見たとき、白い積み木と黒い積み木はどちらが多く見えますか。多く見えるほうの積み木を下の四角の中から選んで○をつけます。



※ 1. このプリントは、しながわ・目黒こどもスクールのウェブサイトでダウンロードができます。無断複写・引用はご遠慮ください。

※ 2. このプリントを活用したオンライン授業のスケジュールは、しながわ・目黒こどもスクールのウェブサイトでご確認ください。









おうちで、やろう。

Study at home. 小学校受験の家庭学習教材

推理：四方観察⑬

四角の中の積み木は白い積み木と黒い積み木で作った形です。女の子が見ている白い積み木と黒い積み木の数の違いはいくつですか。
その数だけ下の四角に○をかきます。











おうちで、やろう。

Study at home. 小学校受験の家庭学習教材

推理：四方観察①⑦

四角の中の積み木は白い積み木と黒い積み木で作った形です。女の子が見ている白い積み木と黒い積み木の数の違いはいくつですか。その数だけ下の四角に○をかきます。






おうちで、やろう。

Study at home. 小学校受験の家庭学習教材

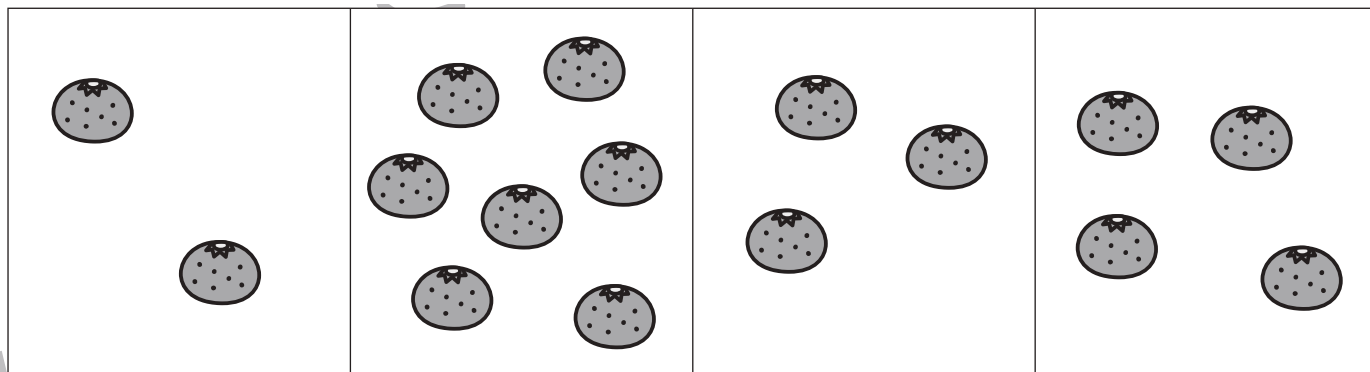
数量：合わせた数⑨

お話をよく聞いて問題に答えます。

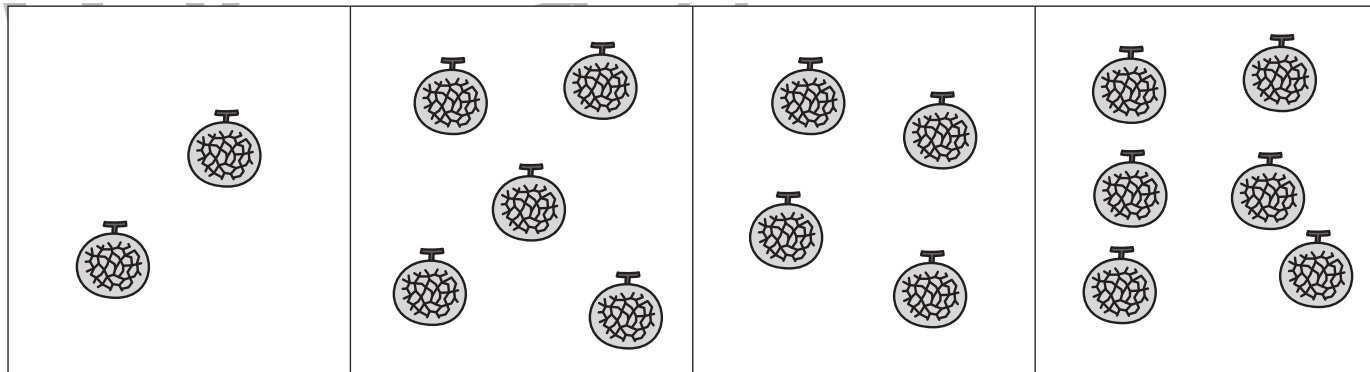
① 2つの四角の中のリンゴの数を合わせると一番多くなる組み合わせを見つけて2つの四角に○をつけましょう。




② 2つの四角の中のミカンの数を合わせると一番多くなる組み合わせを見つけて2つの四角に○をつけましょう。



③ 2つの四角の中のメロンの数を合わせると一番多くなる組み合わせを見つけて2つの四角に○をつけましょう。



④ 2つの四角の中のイチゴの数を合わせると一番多くなる組み合わせを見つけて2つの四角に○をつけましょう。



※ 1. このプリントは、しながわ・目黒こどもスクールのウェブサイトでダウンロードができます。無断複写・引用はご遠慮ください。

※ 2. このプリントを活用したオンライン授業のスケジュールは、しながわ・目黒こどもスクールのウェブサイトでご確認ください。




おうちで、やろう。

Study at home. 小学校受験の家庭学習教材

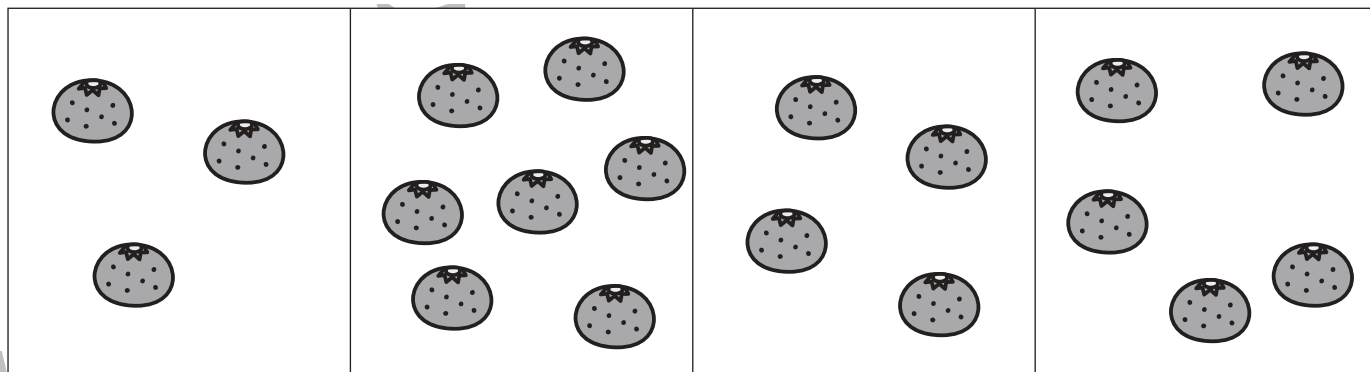
数量：合わせた数⑩

お話をよく聞いて問題に答えます。

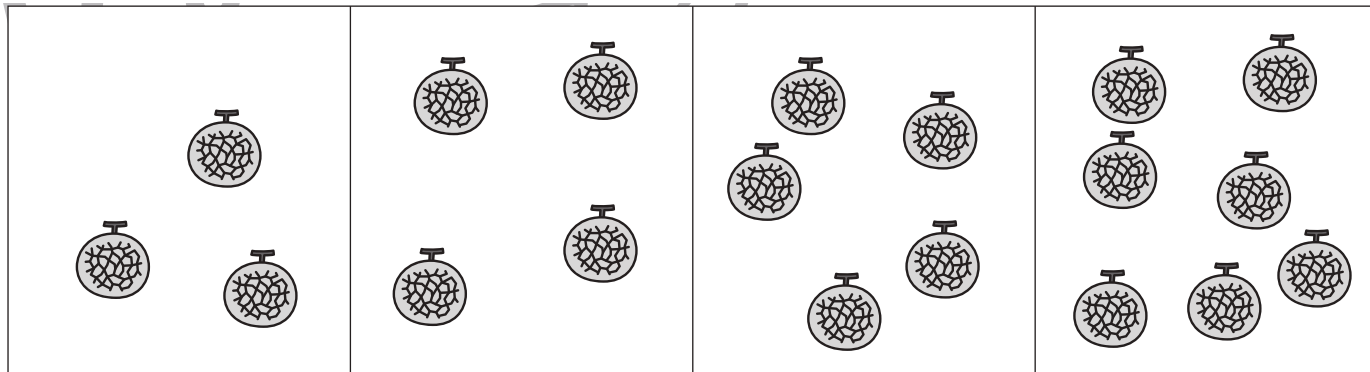
① 2つの四角の中のリンゴの数を合わせると 2 番目に多くなる組み合わせを見つけて 2つの四角に○をつけましょう。




② 2つの四角の中のミカンの数を合わせると 3 番目に多くなる組み合わせを見つけて 2つの四角に○をつけましょう。



③ 2つの四角の中のメロンの数を合わせると 2 番目に少なくなる組み合わせを見つけて 2つの四角に○をつけましょう。



④ 2つの四角の中のイチゴの数を合わせると 2 番目に少なくなる組み合わせを見つけて 2つの四角に○をつけましょう。



※ 1. このプリントは、しながわ・目黒こどもスクールのウェブサイトダウンロードができます。無断複写・引用はご遠慮ください。

※ 2. このプリントを活用したオンライン授業のスケジュールは、しながわ・目黒こどもスクールのウェブサイトでご確認ください。





おうちで、やろう。

Study at home. 小学校受験の家庭学習教材

巧緻性：ちぎり①

①点線をはさみで切ります。

②それぞれの動物の太い線の上をちぎりましょう。



※1. このプリントは、しながわ・目黒こどもスクールのウェブサイトでダウンロードができます。無断複写・引用はご遠慮ください。

※2. このプリントを活用したオンライン授業のスケジュールは、しながわ・目黒こどもスクールのウェブサイトでご確認ください。






おうちで、やろう。

Study at home. 小学校受験の家庭学習教材

巧緻性：ちぎり②

①点線をはさみで切ります。

②それぞれの動物の太い線の上をちぎりましょう。



※1. このプリントは、しながわ・目黒こどもスクールのウェブサイトでダウンロードができます。無断複写・引用はご遠慮ください。

※2. このプリントを活用したオンライン授業のスケジュールは、しながわ・目黒こどもスクールのウェブサイトでご確認ください。






おうちで、やろう。

Study at home. 小学校受験の家庭学習教材

巧緻性：ちぎり③

①点線をはさみで切ります。

②それぞれの動物の太い線の上をちぎりましょう。



※1. このプリントは、しながわ・目黒こどもスクールのウェブサイトでダウンロードができます。無断複写・引用はご遠慮ください。

※2. このプリントを活用したオンライン授業のスケジュールは、しながわ・目黒こどもスクールのウェブサイトでご確認ください。

